

شاگردن جي سکيا جا نتيجا (SLOs) Students Learning Outcomes

باب پهريون: الله تعاليٰ جون نعمتون

هن باب جي پڄاڻيءَ تي شاگرد اهو سکي ۽ ڄاڻي ويندا ته:

- الله تعاليٰ اسان کي بيشمار نعمتن سان نوازيو آهي. (جهڙوڪ: گهر، ڪٽنب، کاڌو خوراڪ وغيره).
- هر هڪ کي الله تعاليٰ طرفان عطا ڪيل نعمتن جو شڪر ادا ڪرڻ گهرجي.
- مسلمان پنهنجي روزمره جي زندگيءَ ۾ ڪهڙا ننڍا عربي فقرا (معنيٰ سان) ادا ڪن ٿا.
- (انشاء الله - ماشاء الله - الحمد لله - سبحان الله - يرحمك الله)

باب ٻيو: روزا

هن باب جي پڄاڻيءَ تي شاگرد اهو سکي ۽ ڄاڻي ويندا ته:

- مختلف مذهبن ۽ عقيدن وارن ماڻهن لاءِ روزي جي ڪهڙي اهميت آهي؟
- مختلف مذهبن جا پوئلڳ، سال جي ڌار ڌار وقتن تي روزا رکندا آهن.
- مسلمان، رمضان شريف جي مهيني ۾ روزا رکندا آهن.
- مسلمان، رمضان جي مهيني ۾ ٻيون ڪهڙيون عبادتون ۽ نيڪ ڪم ڪندا آهن.


باب ٽيون: مذهبي ڏڻ يا وڏا ڏينهن

هن باب جي پڄاڻيءَ تي شاگرد اهو سکي ۽ ڄاڻي ويندا ته:

- اهو ٻڌائي سگهن ته مسلمان عيدالفطر ۽ عيدالاضحيٰ ڪهڙيءَ ريت ملهائيندا آهن.
- پنهنجي ڳوٺ يا شهر ۾ ملهائون ويندڙ ثقافتي ۽ مذهبي تقريبن، تهوارن، ڏڻن ۽ خاص ڏينهن کي چڱيءَ طرح ٻڌائي سگهن.

الله تعاليٰ جون نعمتون

اسان کي الله تعاليٰ پيدا ڪيو آهي. هو اسان سان ڏاڍو پيار ڪري ٿو. هن، اسان کي گهڻن ئي طريقن سان نوازيو آهي. ساهه کڻڻ لاءِ هوا، پيئڻ لاءِ پاڻي ۽ کائڻ لاءِ مختلف کاڌا ۽ غذائون، سڀ ڏئي سائينءَ طرفان مليل نعمتون آهن. اهي شيون ۽ سامان جيڪو اسان پنهنجي گهرن کي اڏڻ ۾ ڪم آڻيون ٿا، اسان جو ڪتب، جنهن سان گڏ اسان رهون ٿا، اسان کي رب پاڪ طرفان عطا ٿيل نعمتون آهن.



الله تعاليٰ جون نعمتون ۽ عنايتون

سرگرمي:

1. الله تعاليٰ جي انيڪ نعمتن مان ڪن کي ”الف“ خاني ۾ ڄاڻايو ويو آهي. ”ب“ خاني ۾ لکي ٻڌايو ته اسان انهن کي ڪيئن ٿا استعمال ڪيون؟

| ”الف“ خانو الله تعاليٰ جون نعمتون | ”ب“ خانو انهن جو استعمال |
|-----------------------------------|--------------------------|
| (i) هوا | |
| (ii) جانور | |
| (iii) سج | |
| (iv) ٻوٽا | |
| (v) پاڻي | |

استاد لاءِ هدايت: شاگردن کي چئو ته پس منظر ۾ ڏنل شين ڏانهن ڌيان ڏين. انهن جي مشاهدي کي وڌايو، ته جيئن هو گولا ڦولا ڪري ٻين تائين پهچائين.

اسان کي الله تعاليٰ جي نعمتن لاءِ سندس ٿورا مڃڻ گهرجن.

2. ڏنل خاني مان لفظ چونڊي خال ڀريو.

| | |
|------------|------------|
| انشاء الله | ماشاء الله |
| يرحمك الله | الحمد لله |
| | سبحان الله |

- (i) جڏهن مسلمان ڪنهن ڪم جو ارادو ڪندا آهن ته اهي _____ چوندا آهن.
- (ii) جڏهن اهي ڪا سٺي ڳالهه ڏسندا يا ٻڌندا آهن ته _____ چوندا آهن.
- (iii) الله تعاليٰ جو شڪر ادا ڪرڻ لاءِ مسلمان _____ چوندا آهن.
- (iv) جڏهن ڪنهن کي چڱو ڀيڻو آهي ته مسلمان _____ چوندا آهن.
- (v) الله تعاليٰ جي ساراهه ڪرڻ وقت مسلمان _____ چوندا آهن.

استاد لاءِ هدايت: ٻارن کي ٻڌايو ته مسلمان: جڏهن مستقبل جي ارادن ۽ واقعن بابت ڳالهه ڪندا آهن تڏهن انشاء الله چوندا آهن، جنهن جي معنيٰ آهي ”الله گهريو ته“. جڏهن ڪا سٺي خبر يا ڪاميابيءَ جي ڳالهه ڪن ته ”ماشاء الله“ چون معنيٰ ”رب تعاليٰ ائين چاهيو“ جڏهن الله تعاليٰ جي ساراهه ۽ وڏائي بيان ٿئي ته ”سبحان الله“ چون جڏهن ڪو چڱو ڀيڻو ”يرحمك الله“ چوي يعني الله تعاليٰ توهان تي رحم ڪرڻ فرمائي. جڏهن رب پاڪ جا احسان ۽ ٿورا بيان ڪن ته ”الحمد لله“ چون.

روزا

دنيا جي اڪثر مذهبن ۾ روزن جي خاص اهميت آهي. هنن مذهبن جا پوئلڳ، سال جي مختلف ڏينهن ۽ وقتن تي باقاعدي سان روزا رکندا آهن. روزا اسان کي ڪيتريون ئي چڱيون ڳالهيون سيکارين ٿا. اسان صبر، تحمل ۽



غريب عورت کي کاڌي پيئي جو سامان ڏنو پيو وڃي

برداشت جو سبق پرايون ٿا ۽

اهو پڻ محسوس ڪيون ٿا ته جن

ماڻهن وٽ ڪاڻڻ پيئڻ لاءِ

گهٽ يا ڪجهه به ناهي، انهن

جا خيال ۽ جذبا ڪهڙا هوندا؟

روزن رکڻ جو مقصد اهو آهي

ته الله تعاليٰ خاطر، ڪاڻڻ پيئڻ

کي مقرر عرصي ۽ وقت لاءِ ڇڏي

ڏيڻ، بندگي ۽ عبادت ڪرڻ،

نيڪ ۽ چڱا ڪم ڪرڻ، غريبن

۽ ضرورتمندن جي مدد ڪرڻ،

ڪنهن کي نه رنجائڻ وغيره.

ڇا توهان کي ڄاڻ آهي؟

- مسلمان رمضان شريف جي مهيني ۾ روزا رکندا آهن.
- عيسائي لينٽ (Lent) جا روزا رکندا آهن.
- يهودي يوم ڪپر ۽ تشاباتي روزا رکندا آهن.
- هندو، مذهبي ڏڻ مهاشوارتري ۽ ڏياريءَ کان سواءِ هر مهيني ۾ مقرر تاريخن تي روزا يا ورت رکندا آهن.

سرگرمي:

هيٺين سوالن جا جواب ڏيو:

1. روزي جي معنيٰ ۽ مفهوم ڪهڙو آهي؟
2. روزن رکڻ سان حاصل ٿيندڙ ٽي چڱيون ڳالهيون:

- (i) _____
- (ii) _____
- (iii) _____



هڪ مسلمان ڪٽنب جا پاتي افطار مهل



مسلمان تراويح نماز پڙهي رهيا آهن

مسلمان رمضان جي مهيني ۾ روزا رکندا آهن. اُهي اسر کان سج لٿي تائين روزي ۾ هوندا آهن. اسر جو ”سحري“ ڪاٿي روزي جي شروعات ڪن ٿا ۽ سج لٿي جي اذان (بانگ) ٻڌڻ بعد روزو افطار ڪن ٿا.

هن مهيني ۾ مسلمان قرآن پاڪ جي تلاوت روزانو باقاعديءَ سان ڪندا آهن.

رمضان جي مهيني ۾ سومهڙيءَ جي فرض نماز کان پوءِ خاص نماز تراويح ادا ڪئي ويندي آهي جنهن ۾ ترتيب سان قرآن پاڪ جي تلاوت ڪئي وڃي ٿي.

سرگرمي:

هيٺين سوالن جا جواب ڏيو

1. مسلمان، عيسائي ۽ هندو ڪڏهن روزا رکندا آهن:
 - (i) مسلمان _____ جي مهيني ۾ روزا رکندا آهن.
 - (ii) عيسائي _____ جا روزا رکندا آهن.
 - (iii) هندو _____ مذهبي ڏڻ کان سواءِ روزا يا ورت رکندا آهن.
2. روزي رکڻ وقت جيڪا ماني ڪائين، تنهن کي مسلمان _____ چوندا آهن.
3. روزي کولڻ وقت جيڪا ماني ڪائين، تنهن کي مسلمان _____ چوندا آهن.
4. رمضان شريف جي مهيني ۾ پڙهي ويندڙ خاص نماز کي ڪهڙي نالي سان سڏيو وڃي ٿو.

مذهبي ڏٺ يا وڌا ڏينهن

مذهبي ڏٺن کي هر سال مذهبي تهوار ۽ وڏي ڏينهن طور عزت ۽ احترام سان ملهائيو وڃي ٿو.



مسلمان عيدالاضحيٰ ملهائي رهيا آهن

مسلمان عيدالفطر (روزن جي عيد) ۽ عيدالاضحيٰ (قربانيءَ جي عيد) ملهائيندا آهن.

عيسائي ڪرسمس ۽ ايسٽر (Easter) ملهائيندا آهن.



عيسائي ڪٽنب ڪرسمس ملهائي رهيو آهي

يهودي حنوكا (Hanukkah) ۽ پاس اوور (Pass Over) جا ڏينهن ملهائيندا آهن.



يهودي حنوكا ملهائي رهيا آهن.

هندو ڏياري ۽ هولي ملهائيندا آهن.



هندو خاندان ڏياري ملهائي رهيو آهي

عيد الفطر

رمضان شريف جي مهيني ۾ روزن جي پڄاڻيءَ تي، شوال جي پهرين تاريخ تي عيدالفطر ملهائي ويندي آهي. اهو خوشيءَ ۽ برڪت وارو ڏينهن آهي. ان ڏينهن، مسلمان پنهنجي گهرن کي خاص طور سان سينگاريندا آهن ۽ پائڻ لاءِ نوان ڪپڙا ۽ بوت خريد ڪندا آهن.



عيد نماز

غريبن کي فطرو ڏنو ويندو آهي، ته جيئن اهي پڻ عيد جون خوشيون ماڻي سگهن.

عيد جي ڏينهن، مسلمان نوان ڪپڙا پائي عيد نماز پڙهڻ لاءِ عيد گاهه يا مسجد ڏانهن ويندا آهن.



عيد جون مبارڪون ڏيون پيون وڃن

عيد نماز پڙهڻ کان پوءِ هو پاڪر پائي هڪ ٻئي کي عيد جون مبارڪون ڏيندا آهن.



ٻارڙا عيد جي خرچي وٺي رهيا آهن

عزيزن، متن مائتن ۽ دوستن کي روبرو يافون تي عيد مبارڪون ڏيڻ سان گڏ ٻارن کي عيد جي خرچي پڻ ڏني ويندي آهي.

ان ڏينهن عزيزن ۽ دوستن سان گڏ ذاتقيدار ۽ لذيقاڏا، کيرٽي/کيرڪارڪون ۽ سيون کائيندا آهن.



عيد جي ڏينهن، ڪتنب جا پاتي مزيدار کاڌا کائي رهيا آهن

عيد جون خوشيون گهڻو ڪري تن ڏينهن تائين جاري رهن ٿيون.

1. پنجن جملن ۾ ٻڌايو ته توهان پنهنجو مذهبي ڌڻ يا ڏينهن ڪيئن ملهائيندا آهيو:



عيد نماز ادا ڪئي پئي وڃي

عيدالاضحيٰ يا قربانيءَ واري عيد

عيدالاضحيٰ قربانيءَ جو ڏينهن آهي. حضرت ابراهيم عليه السلام هن ڏينهن تي الله تعاليٰ جي رضامندي حاصل ڪرڻ لاءِ عظيم قرباني پيش ڪئي. ان ڏهاڙي جي ياد ۾، مسلمان مختلف جانورن جي قرباني ڏيندا آهن.



جانورن جي ٻڙي

عيدالاضحيٰ ذوالحج مهيني جي ڏهين تاريخ تي ملهائي ويندي آهي.

هن ڏينهن تي عيد نماز پڙهڻ لاءِ مسلمان عيدگاه يا مسجد ڏانهن ويندا آهن.



ورهائڻ لاءِ قرباني جي گوشت جا وانا (پاڱا) ڪيا پيا وڃن

ان کان پوءِ هو جانورن جهڙوڪ: پکري، ڍڳين، رڍن يا اٺن جي قرباني ڪندا آهن.

قربانيءَ جو گوشت غريبن، مٿن مائٽن ۽ دوستن ۾ ورهائيو ويندو آهي.

يونٽ 1 جي پڄاڻي: مشق

1. الله تعاليٰ، اوهان کي جن نعمتن سان نوازيو آهي، انهن جي تصوير ٺاهيو ۽ ان ۾ رنگ ڀريو.

2. هيٺ ڏنل خانن ۾، الله تعاليٰ طرفان عطا ٿيل نعمتون لکو. اوهان جي سهولت لاءِ هڪ خاني کي ڀريو ويو آهي.

| | | |
|--|--|------|
| | | کاڌو |
| | | |
| | | |

الله تعاليٰ طرفان ڏنل بيشمار نعمتن مان ڪن کي مٿي ڄاڻايو ويو آهي، جنهن لاءِ اسان کي ڌڻي سڳوري جو شڪرگذار ٿيڻ گهرجي.

3. هيٺيان خال ڀريو:

- (i) ايسٽر (Easter) کي _____ مذهب جا پوئلڳ ملهائيندا آهن.
- (ii) روزن جي مهيني جي پڄاڻيءَ تي مسلمان _____ ملهائيندا آهن.
- (iii) عيدالاضحيٰ، اسلامي مهيني جي _____ ملهائجي ٿي.
- (iv) هندو ڌرم وارا هولي ۽ _____ جو ڏڻ ملهائيندا آهن.
- (v) عيدالاضحيٰ کي _____ واري عيد پڻ چوندا آهن.
- (vi) يهودي _____ ۽ _____ ملهائيندا آهن.
- (vii) مسلمان، بڪرين، ڍڳين، رڍن ۽ اٺن جي قرباني _____ جي عيدي تي ڪندا آهن.
- (viii) عيدالفطر جي ڏينهن تي، مهمانن کي ڪارائڻ لاءِ خاص طور سان مٺيون _____ پيش ڪيون وينديون آهن.
- (ix) حضرت عيسيٰ عليه السلام جي ولادت جو ڏينهن ملهائڻ واري ڏڻ کي _____ چوندا آهن.
- (x) ڌياري جو ڏينهن _____ ملهائيندا آهن.

4. مختلف مذهبن جي مذهبي ڏٺن جون تصويرون ”الف“ خاني ۾ ڏيکاريل آهن، ”ب“ خاني ۾ ان ڏٺن جو نالو لکو ”ج“ خاني ۾ ان مذهب جو نالو لکو جنهن جا مڃيندڙ اهو ڏينهن ملهائيندا آهن.

| ”ج“ خانو مذهبي گروهه جيڪو اهو ڏينهن ملهائيندو آهي | ”ب“ خانو ڏٺن جا نالا | ”الف“ خانو ڏٺن جون تصويرون |
|---|-------------------------|--|
| | |  |
| | |  |
| | |  |
| | |  |

5. (الف) توهان جي ڳوٺ يا شهر ۾ جيڪي ۽ ثقافتي ڏينهن ملهايا وڃن ٿا، تن کي لکو.

(i) _____ (ii) _____ (iii) _____

(ب) مٿي ڄاڻايل ثقافتي ڏينهن جي باري ۾ ڪنهن باخبر ۽ ڄاڻو ماڻهوءَ کان ان ڏينهن بابت معلومات حاصل ڪيو. ڪانئس هيٺيان سوال پڇو ۽ ڇڏيل جاءِ تي جواب لکو.

(i) ان جو نالو ڪهڙو آهي؟ جيڪو ڏينهن ملهائيو وڃي ٿو _____

(ii) اهو ڏينهن ڪڏهن ملهائيو وڃي ٿو؟ _____

(iii) ان ڏينهن کي ڇوڻو ملهائيو وڃي؟ _____

(iv) ان خاص ڏينهن تي توهان ڇا ڪندا آهيو؟ _____

استاد لاءِ هدايت: شاگردن کي ٻڌائي ته ثقافتي ڏينهن ۾ شاهه عبداللطيف ڀٽائي رحمۃ اللہ علیہ، حضرت لال شهباز قلندر رحمۃ اللہ علیہ ۽ سچل سرمست رحمۃ اللہ علیہ جا عرس، هارس ۽ ڪئٽل شو (گهوڙن ۽ ٻين جانورن جو ميلو)، انبن جي نمائش، سنڌي ثقافتي ڏينهن (توپي اجرڪ ڏينهن) نؤروز ۽ راڪي پنڌڻ جا ڏينهن اچي ٿا وڃن.

شاگردن جي سکيا جا نتيجا (SLOs) Students Learning Outcomes

باب پهريون: اسان جو ملڪ پاڪستان

هن باب جي پڄاڻيءَ تي شاگرد سڪي ۽ ڄاڻي ويندا ته:

- پاڪستان جو نقشو ڪهڙو آهي؟
- پاڪستان جي چئن صوبن جا نالا ڪهڙا آهن؟

باب ٻيو: اسان جو قومي جهنڊو

هن باب جي پڄاڻيءَ تي شاگرد سڪي ۽ ڄاڻي ويندا ته:

- قومي جهنڊي جي اهميت ڇا آهي؟
- قومي جهنڊي جي تصوير ٺاهي سگهجي.
- ان ڳالهه کي سڃاڻي سگهن ته جهنڊي جا رنگ ۽ نشانيون ڇا ٿيون ظاهر ڪن؟
- ان ڳالهه کي سمجهي سگهن ته سڀني ملڪن کي پنهنجا جهنڊا هوندا آهن.

باب ٽيون: قائد اعظم

هن باب جي پڄاڻيءَ تي شاگرد سڪي ۽ ڄاڻي ويندا ته:

- قائد اعظم جي زندگيءَ جا اهم واقعا ڪهڙا هئا؟
- (جهڙوڪ: ڄمڻ جو ڏينهن، پاڪستان جو باني ٿيڻ ۽ هجڻ، هن جون ڪجهه اهم خدمتون ۽ سندس وفات جي تاريخ).

باب چوٿون: حڪومت

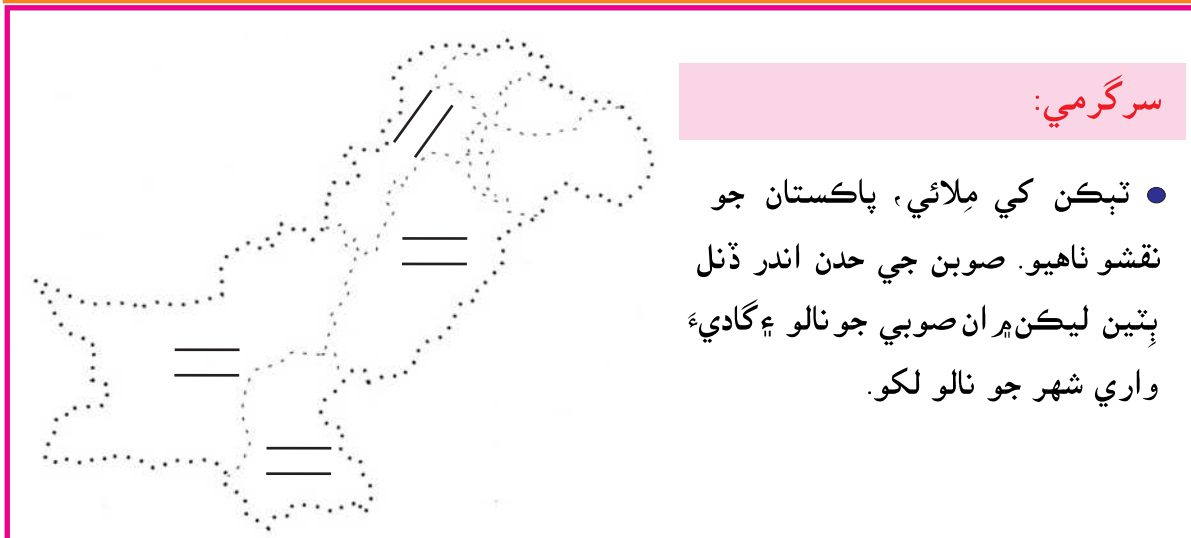
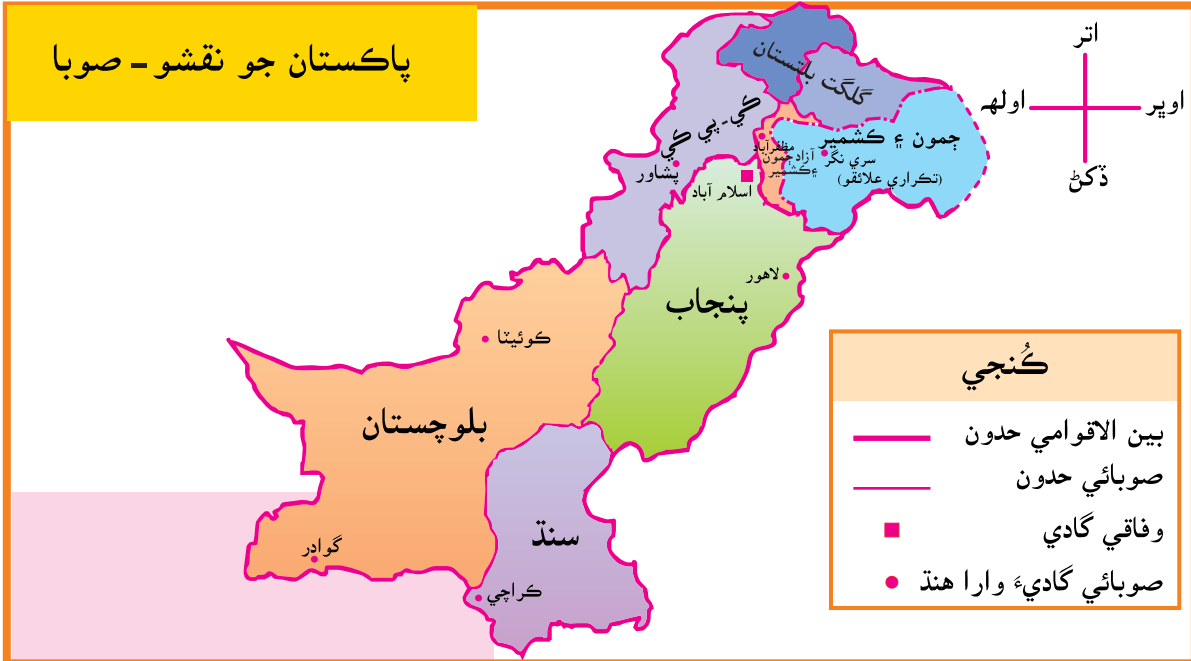
هن باب جي پڄاڻيءَ تي شاگرد سڪي ۽ ڄاڻي ويندا ته:

- جهڙيءَ ريت گهر ۾ والدين ڪٽنب جا سربراهه سمجهيا وڃن ٿا، اسڪول جو انتظام هيڊ ماستر هلائي ٿو، اهڙيءَ ريت ڳوٺ يا شهر جون جوابداريون به ڪي ماڻهو پنهنجي مٿان کڻن ٿا.
- حڪومت ڳوٺ ۽ شهر جي ماڻهن کي ڪي سهولتون ۽ خدمتون (مثال طور: پاڻي، روڊ رستا، بجلي، تعليم ۽ اسپتالون) موجود ڪري ڏئي ٿي.
- هنن جا ٽي مکيه حق آهن:
 - (i) تعليم پرائڻ جو حق.
 - (ii) راند روند کيڏڻ جو حق.
 - (iii) بيمار ٿيڻ جي حالت ۾ علاج جو حق.

اسان جو ملڪ پاڪستان

اسان جي ملڪ جو نالو پاڪستان آهي. پاڪستان 14 آگسٽ 1947ع تي وجود ۾ آيو. پاڪستان جي گاديءَ جو هنڌ اسلام آباد آهي.

پاڪستان ۾ چار صوبا آهن: 1. سنڌ 2. پنجاب 3. خيبرپختونخواه (ڪي پي ڪي) 4. بلوچستان. هيٺ ڏنل پاڪستان جي نقشي کي ڏسو. ان ۾ توهان کي پاڪستان جا صوبا نظر ايندا.



استاد لاءِ هدايت: پاڪستان جي صوبن جي گاديءَ وارن شهرن بابت شاگردن کي ٻڌايو. اتي جيڪي ٻوليون ڳالهائون وڃن ٿيون، تن بابت ڪين معلومات ڏيو. شاگردن کي ٻڌايو ته گلگت-بلتستان به پاڪستان جو حصو آهي.

اسان جو قومي جهنڊو



پاڪستان جو جهنڊو

پاڪستان جو جهنڊو ڏسو. جهنڊي ۾ ٻه رنگ آهن. هڪ اڇو ۽ ٻيو سائو. اهي رنگ ڇا ٿا ظاهر ڪن؟ سائو رنگ، ڪاميابي ۽ مسلم اڪثريت ڏيکاري ٿو. اڇو رنگ، امن ۽ اقليت (ٿورائيءَ) بابت ڄاڻ ڏئي ٿو.

پاڪستان جي جهنڊي ۾ هلال (پهرئينءَ جو چنڊ) ۽ تارو، علامت ۽ اهڃاڻ طور ڏنا ويا آهن. اهي علامتون يا نشانينون ڇا ٿيون ظاهر ڪن؟ هلال ترقيءَ جو اهڃاڻ آهي، ته تارو روشني ۽ علم جي علامت آهي.

ڇا توهان کي خبر آهي؟

ته پاڪستان جي جهنڊي جي ڊزائين اميرالدين قديس وائي ناهي هئي.


سرگرمي:

1. پاڪستان جو جهنڊو ٺاهيو ۽ ان کي رنگ ڪيو.

پاڪستان جيان، دنيا جي ٻين ملڪن کي به پنهنجا پنهنجا قومي جهنڊا آهن. هيٺ پاڪستان جي پاڙيسري ملڪن جا جهنڊا ڏنا ويا آهن.

2. هيٺيون خاڪو مڪمل ڪريو.

| اهڃاڻ يا علامتون | جهنڊي جو رنگ | پاڙيسري ملڪ جو نالو |
|------------------|--------------|---------------------|
| | | |
| | | |
| | | |
| | | |



چين جو جهنڊو



انڊيا جو جهنڊو



ايران جو جهنڊو



افغانستان جو جهنڊو

استاد لاءِ هدايت: شاگردن کي ٻڌايو ته مٿي ڄاڻايل جهنڊن ۾ رنگ ۽ علامتون ڇا ٿيون ظاهر ڪن.

قائد اعظم

قائد اعظم محمد علي جناح پاڪستان جو باني آهي. هو 25 ڊسمبر 1876ع تي ڪراچي شهر ۾ ڄائو. هن ابتدائي تعليم ڪراچيءَ جي اسڪول ۾ حاصل ڪئي. ان کانپوءِ هوقانون جي اعليٰ تعليم وٺڻ لاءِ انگلينڊ هليو ويو. واپس اچي هن وڪالت شروع ڪئي.



قائد اعظم مسلم ليگ جي اجلاس
کي خطاب ڪري رهيو آهي




قائد اعظم بحیثیت وکیل



قائد اعظم مطالعو ڪندي

وطن ورڻ تي هن انگريزن جي راڄ کان آزادي حاصل ڪرڻ جي هلچل ۾ حصو ورتو.



ڪراچيءَ ۾ قائد اعظم جو مقبرو



قائد اعظم گورنر جنرل پاڪستان
جو حلف کڻي رهيو آهي



قائد اعظم انگريز سرڪار سان
ڳالهيون ڪندي

قائد اعظم پاڪستان کي حاصل ڪرڻ لاءِ ٻين هر خيال ماڻهن سان گڏجي زبردست جدوجهد ڪئي. پاڪستان 14 آگسٽ 1947ع تي قائم ٿيو. هو پاڪستان جو پهريون گورنر جنرل بڻيو. هن 11 سيپٽمبر 1948ع تي وفات ڪئي. هن جو مقبرو ڪراچيءَ ۾ آهي.

سرگرمي:

جملا مڪمل ڪري، قائد اعظم جي حياتيءَ جو حقيقتن تي ٻڌل فائيل تيار ڪيو.

نالو: _____ جنم جي تاريخ: _____

اسڪول جو نالو: _____ ڏندو: _____

ڪاميابيون ۽ حاصلات: _____ وفات جي تاريخ: _____ دفن ٿيڻ جو هنڌ: _____

حڪومت يا سرڪار

توهان جي ڪٽنب ۾، اوهان جي گهر جون سڀئي ذميواريون ڪير پوريون ڪندو آهي؟
پڪ ٿي پڪ اهي ماءُ، پيءُ يا گهر جو وڏو پوريون ڪندا هوندا. هڪ ڪٽنب
۽ خاندان جيان ماڻهن جا چونڊيل نمائندا پڻ ملڪ جي سڀني ضرورتن ۽ مسئلن
کي منهن ڏين ٿا.

اهڙيءَ ريت ماڻهن جو اهو گروپ يا ٽولو، حڪومت يا سرڪار جوڙي ٿو.
حڪومت ملڪ ۽ عوام جي پلائيءَ لاءِ ڪيترائي ڪم ڪري ٿي ۽ ماڻهن
جي بنيادي ضرورتن جهڙوڪ: صحت، تعليم وغيره جو خاص خيال رکي ٿي.



روڊ جي اڏاوت جو هلندڙ ڪم



ريلوي اسٽيشن



بجليءَ جا ٽنڀا



سرڪاري اسڪول

حڪومت جي پهرين ذميواري ملڪ ۾ امن امان قائم ڪرڻ آهي ته جيئن عوام
جي زندگي ۽ مال ملڪيت محفوظ رهن. حڪومت ان ڳالهه جي ممڪن ڪوشش به
ڪري ٿي ته ماڻهن کي پيئڻ لاءِ صاف پاڻي، گيس ۽ بجلي مهيا ڪري ڏئي.
حڪومت روڊ، ريلوي اسٽيشنون ۽ هوائي اڏا پڻ ٺهرائي ٿي.

سرگرمي:

1. هيٺين سوالن جا جواب لکو:

(i) حڪومت ڇا ڪي ٿو چئجي؟ _____

(ii) حڪومت جون ٽي اهم ذميواريون ٻڌايو.

(i) _____ (ii) _____ (iii) _____

(iii) توهان جي ملڪ طرفان توهان تي ڪهڙيون جوابداريون عائد ٿين ٿيون؟

(i) _____ (ii) _____ (iii) _____

استاد لاءِ هدايت: سوال نمبر iii جا مناسب جواب هي به ٿي سگهن ٿا: اسڪول وڃڻ، تعليم پرائڻ، محنت
ڪرڻ، پنهنجي ملڪ کي صاف سٿرو رکڻ، ٽريفڪ جي قاعدن تي عمل ڪرڻ وغيره.

يونٽ 2 جي پڄاڻي: مشق

سرگرمي:

1. هيٺيان خال ڀريو: (پاڪستان جي جهنڊي کي ڏيان ۾ رکو)

(i) سائو رنگ _____ ۽ _____ ظاهر ڪري ٿو.

(ii) اڇو رنگ _____ ۽ _____ ڏيکاري ٿو.

(iii) هلال جي علامت _____ کي ظاهر ڪري ٿي.

(iv) تاري جي علامت _____ ۽ _____ کي ظاهر ڪري ٿي.

2. هيٺين سوالن جا جواب لکو:

(i) اسان جي ملڪ جو نالو ڇا آهي؟

(ii) پاڪستان جي گاديءَ واري شهر جو نالو ڪهڙو آهي؟

(iii) پاڪستان جي قومي ٻولي ڪهڙي آهي؟

(iv) توهان ڪهڙي صوبي ۾ رهو ٿا؟

(v) توهان جي صوبي جي گاديءَ واري شهر جو نالو ڇا آهي؟

(vi) توهان ڪهڙيون ٻوليون ڳالهائي سگهو ٿا؟

(vii) پاڪستان جو باني ڪير آهي؟

3. پاڪستان جي صوبن جا نالا ”الف“ خاني ۾ ڏنا ويا آهن. انهن صوبن جي گاديءَ وارن شهرن

جا نالا ”ب“ خاني ۽ ڳالهائون ويندڙ ٻوليون ”ج“ خاني ۾ لکو. هيٺيون خاڪو مڪمل ڪريو

| ”ج“ خانو ٻوليون | ”ب“ خانو گاديءَ وارو شهر | ”الف“ خانو صوبي جو نالو |
|--------------------|-----------------------------|----------------------------|
| | | سنڌ |
| | | پنجاب |
| | | خيبر پختون خواه |
| | | بلوچستان |


4. جهنڊن کي چڱيءَ طرح ڏسو. انهن جي رنگن ۽ علامتن کي سڃاڻو ۽ هيٺيان خال ڀريو:
جنهن ملڪ جو جهنڊو آهي ان جي نالي کي ڳوليو.



ملڪ جو نالو: _____

جهنڊي جو رنگ: _____

جهنڊي تي خاص علامت: _____



ملڪ جو نالو: _____

جهنڊي جو رنگ: _____


جهنڊي تي خاص علامت: _____



ملڪ جو نالو: _____

جهنڊي جو رنگ: _____

جهنڊي تي خاص علامت: _____



ملڪ جو نالو: _____

جهنڊي جو رنگ: _____

جهنڊي تي خاص علامت: _____

جواب آهن: سعودي عرب، جپان، سريلنڪا ۽ يوڪي (يونائيٽيڊ ڪنگڊمز)

شاگردن جي سکيا جا نتيجا (SLOs) Students Learning Outcomes

باب پهريون: ڳوٺاڻي زندگي

- هن باب جي پڄاڻيءَ تي شاگرد اهو سکي ۽ ڄاڻي ويندا ته:
- پاڪستان جي گهڻي آبادي ڳوٺن ۾ رهي ٿي.
 - ڳوٺن جون بنيادي خصوصيتون (جهڙوڪ: سهوليتون، گوڙ ۽ شور ۾ ماڻهن جي ڪرت يا ڌنڌو وغيره)
 - ڳوٺاڻن جي روزمره جي زندگيءَ جي هڪ جهلڪ (مرد ۽ عورت)

باب ٻيو: وقت گذرڻ سان ڳوٺ ۾ ڪهڙيون تبديليون آيون آهن

- هن باب جي پڄاڻيءَ تي شاگرد اهو سکي ۽ ڄاڻي ويندا ته:
- تحقيق ڪري ٻڌايو ته وقت گذرڻ سان ڳوٺ/شهر ۾ ڪهڙيون تبديليون آيون آهن. (وڌڻ کان، ڪتابن ۽ ٻين ذريعن سان معلومات گڏ ڪيو). پنهنجي نتيجن کي زباني طور ٻڌايو.
 - ڳوٺ/شهر جي اهم واقعن جي تصويري وقت-پٽي ٺاهيو.
 - ڳوٺ/شهر جي مکيه تاريخي شخصيتن جو تعارف ڪرايو. (سياسي، سماجي ۽ ثقافتي ماڻهو).
 - ڳوٺ/شهر جي مشهور ماڻهن جي اعليٰ ڪردار ۽ ذاتي خوبين بابت ڄاڻ ڏيو.

باب ٽيون: شهري زندگي

- هن باب جي پڄاڻيءَ تي شاگرد اهو سکي ۽ ڄاڻي ويندا ته:
- ڳوٺ/شهر جي اهم واقعن جي تصويري وقت-پٽي ٺاهيو.
 - ڳوٺ/شهر جي مکيه ماڻهن جو تعارف ڪرايو.
 - شهر/ڳوٺ جي سياسي، سماجي ۽ ثقافتي شخصيتن بابت معلومات ڏيو.
 - شهر/ڳوٺ جي مشهور ماڻهن جي اعليٰ ڪردار ۽ ذاتي خوبين بابت ڄاڻ ڏيو.

باب چوٿون: ماڻهن جا ڌنڌا

- هن باب جي پڄاڻيءَ تي شاگرد اهو سکي ۽ ڄاڻي ويندا ته:
- شهر/ڳوٺ جا عام ڌنڌا ٻڌايو. جهڙوڪ موچي، ڳاڻڻ وڄائڻ وارا، درزي، ڪاسائي وغيره کان علاوه خاص پيشوار قابليت رکندڙ ماڻهن جو به ذڪر ڪيو.

باب پنجون: هڪ ٻئي جو خيال رکڻ

- هن باب جي پڄاڻيءَ تي شاگرد اهو سکي ۽ ڄاڻي ويندا ته:
- اهڙين شين بابت ٻڌايو جيڪي شاگرد هڪ ٻئي سان شيئر ڪن ٿا مثال طور رانديڪا وغيره.
 - ڏنل تصويرن ۽ آکاڻين مان معلوم ڪريو ته ماڻهو هڪ ٻئي جي مدد ڪهڙيءَ ريت ڪن ٿا. (گهر، ڪلاس، ڳوٺ/شهر ۾)
 - ڪو اهڙو واقعو ٻڌايو جڏهن هنن ڪاڌو، رانديڪا ۽ ڪتاب وغيره ڪنهن سان شيئر ڪيا هجن.

ڳوٺاڻي زندگي

پاڪستان جي ماڻهن جي گهڻائي ڳوٺن ۾ رهي ٿي. ڪنهن ڳوٺ ۾ گهڻا ته ڪنهن ڳوٺ ۾ ٿورڙا گهر هوندا آهن. زمين تي گهڻي ڀاڱي پوک ڪئي ٿي وڃي. اڪثر ڳوٺن جا ماڻهو ننڍن گهرن ۾ رهن ٿا، جن جون پٽيون ڪچي مٽيءَ جي سرن ۽ گاري، چٽيون ڪڪن ۽ ڪانن سان ٺهيل هونديون آهن. هاڻي، ڪي ماڻهو پڪين سرن سان اڏيل گهرن ۾ رهن ٿا.



سرن سان اڏيل گهر



مٽي مان ٺهيل ڪچا گهر ڪاوين چٽين وارا

ڳوٺ ۾ رهندڙ ماڻهن جي اڪثريت هارپو ڪري ٿي. اهي فصل پوکيندا آهن. اهي فصل اُپائين ۽ مال پالين. ڳوٺاڻا ڪي غذائي فصل به پوکين ٿا. اهي جانورن کي پني جي ڪم ۾ به استعمال ڪندا آهن.



مال پاليو وڃي ٿو



فصل اُپايا وڃن ٿا

اهي فصل جي پيداوار ۽ پاليل جانورن کي مارڪيٽ ۾ وڪرو ڪري پنهنجو گذر سفر ڪن ٿا. ڪي هاري ڍڳن ذريعي هر ڏين ٿا، ته ڪي ٽريڪٽر ذريعي زمين کيڙين ٿا ۽ فصل پوکڻ لاءِ زمين کي تيار ڪن ٿا.



هاري تريڪٽر هلائي زمين کيڙي رهيو آهي



هاري ڏانڊن ذريعي ٻنيءَ کي هرڏئي رهيو آهي

هاري فصل پوکين ٿا ۽ انهن جي چڱي سار سنڀال لهن ٿا.



هاري سارين جو رونبو ڪري رهيا آهن



هاري ٻيٽيون بچ پوکي رهيون آهن



هاري پنهنجي فصل جي سنڀال ڪري رهيو آهي



ٻنيءَ کي پاڻي پهچايو پيو وڃي

جڏهن فصل پڇي تيار ٿيندو آهي ته عورتون ۽ مرد گڏجي لاٻارو ڪندا آهن. ڪي هاري لاٻاري لاءِ پراڻا روايتي اوزار استعمال ڪن ته ڪي مشينون استعمال ڪن.



هاري فصل لٽي رهيا آهن



ٿريشر ذريعي اڻ، ڌار ڪيو پيو وڃي.

اهي ڍڳين، مينهن ۽ پڪرين کي ڏهي، کير واپرائين ٿا ۽ مارڪيٽ ۾ به وڪرو ڪن ٿا.



مردھاري مينهن ڏهي رهيو آهي



ٽرڪ ذريعي کير موڪليو پيو وڃي

گڏهن، اُنن، ڏانڊن ۽ ٽرڪن جي مدد سان زمين جي زرعي پيدائش مارڪيٽ تائين پهچائي وڃي ٿي.



ڏانڊ گاڏي ۽ ٽرڪ ذريعي زرعي پيداوار مارڪيٽ ڏانهن وڃي رهي آهي.

سرگرمي:

ڳوٺ جي هڪ عورت ۽ هڪ مرد جي روزاني زندگيءَ بابت احوال گڏ ڪيو. پوءِ هيٺين جملن کي مڪمل ڪيو.

- (الف) هڪ ڳوٺاڻي عورت جي روزاني زندگيءَ جو عڪس
- (i) مان _____ وڳي صبح جو اُٿندي آهيان.
 - (ii) مان نيرن تي _____ کائيندي آهيان.
 - (iii) صبح جو مان _____.
 - (iv) مان منجهند جي ماني _____ وڳي کائيندي آهيان.
 - (v) شام جو مان _____.
 - (vi) منجهند جي مانيءَ کان پوءِ مان _____.
 - (vii) مان رات جو _____ وڳي سمهندي آهيان.

- (ب) هڪ ڳوٺاڻي مرد جي روزاني زندگيءَ جي جهلڪ.
- (i) مان _____ وڳي صبح جو نند مان اٿندو آهيان.
 - (ii) مان نيرن تي _____ کائيندو آهيان.
 - (iii) صبح جو مان _____.

(iv) مان منجهند جي ماني _____ وڳي کائيندو آهيان.

(v) منجهند جي مانيءَ کان پوءِ مان _____.

(vi) شام جو مان _____.

(vii) مان رات جو _____ وڳي سمهندو آهيان.

هارين کي ڳوٺ ۾ پنهنجي مشينن ۽ اوزارن جي مرمت لاءِ مسترين جي ضرورت آهي. استادن جي گهرج آهي، جيڪي انهن جي ٻارن کي تعليم ڏين. ڊاڪٽرن جي ضرورت آهي ته جڏهن هو بيمار ٿين ته سندن علاج ٿي سگهي. دڪانن جي گهرج آهي جتان هو پنهنجي روزمره جي استعمال جون شيون خريد ڪري سگهن. ڳوٺن ۾ پريشان ندين شهرن ۾ ورڪشاپ، اسڪول، صحت مرڪز ۽ ننڍيون مارڪيٽون آهن، جتي هو پنهنجين ضرورتن کي پورو ڪري سگهن ٿا.



واڍو هارين جي گهرج جو سامان ناهي رهيو آهي



هڪ مڪينڪ ٻنيءَ تي استعمال ٿيندڙ مشين درست ڪري رهيو آهي



استاد ٻار کي پڙهي ٿي پڙهائي رهيو آهي



صحت مرڪز جو عملو بيمار ٻار کي تپاسي رهيو آهي.

سرگرمي:

ڳوٺاڻا ننڍي شهر ڇو ٿا وڃن.

ڳوٺاڻا ننڍي شهر ڏانهن ان ڪري وڃن ٿا ته جيئن:

- (i) _____
- (ii) _____
- (iii) _____
- (iv) _____
- (v) _____

وقت گذرڻ سان ڳوٺ ۾ ڪهڙيون تبديليون آيون آهن

علي ۽ ثنا جي ڏاڏي کين پنهنجي ننڍپڻ جي ڪهاڻي ٻڌائي رهي هئي.



ڏاڏي ٻارڙن کي ڪهاڻي ٻڌائي رهي آهي

آئون ٿورڙن خوشنصيب ٻارن مان هڪ هيس، ڇاڪاڻ ته مان تعليم پرائڻ اسڪول ويندي هيس. اسان جو اسڪول ڳوٺ ڀرسان ننڍي شهر ۾ هو. مان روزانو وڏو پنڌ طيءَ ڪري اسڪول پهچندي هيس. منهنجو اسڪول هڪ ڪمري واري ڪڪائين جهوپڙي ۾ هو. آسپاس جي ڪيترن ڳوٺن جا ٻار هن اسڪول ۾ تعليم حاصل ڪرڻ ايندا هئا.



پراڻو اسڪول

هاڻي اسان جي ڳوٺ ۾ ٻن ڪمرن وارو نئون اسڪول تعمير ٿيو آهي. ڳوٺ جا اڪثر ٻار اسڪول پڙهڻ ويندا آهن.

جڏهن هو پرائمري اسڪول ۾ تعليم پوري ڪندا ته پوءِ ننڍي شهر ۾ قائم سيڪنڊري اسڪول ۾ پڙهڻ بس ۾ چڙهي ويندا.



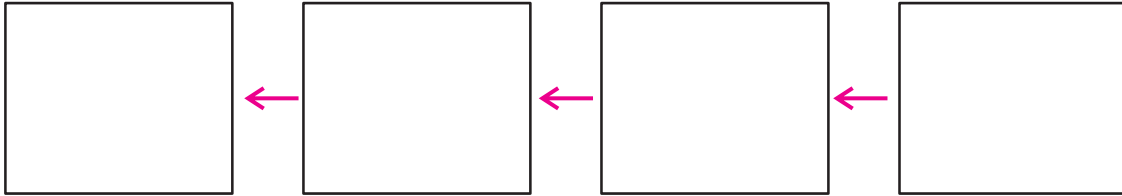
نئون اسڪول

سرگرميون:

1. وقت گذرڻ سان ڳوٺاڻي اسڪول ۾ ڪهڙي تبديلي آئي آهي.

| هاڻي | ماضيءَ ۾ | |
|------|----------|----------------------------|
| | | ڪيترا ٻار اسڪول ويندا هئا؟ |
| | | ٻار اسڪول ڪيئن ويندا هئا؟ |
| | | اسڪول ۾ ڪيترا ڪمرا هئا؟ |
| | | اسڪول ڪٿي هئو؟ |

2. پنهنجي والدين کان معلوم ڪيو ته اوهان جي ڳوٺ ۾ آمد و رفت جي ذريعن ۾ ڪهڙي تبديلي آئي آهي. تصوير ڪڍي تبديليءَ کي واضح ڪريو.



3. باب پهريون پڙهو ۽ هيٺين خانن کي مڪمل ڪيو، ته جيئن خبر پوي ته ڳوٺاڻي زندگي ڪيئن پئي تبديل ٿي.

| هاڻي | ماضيءَ ۾ | |
|------|----------|-------------------------------------|
| | | زمين کي هر ڏيڻ |
| | | فصل پوکڻ |
| | | فصل کي پاڻي ڏيڻ |
| | | فصل لڻڻ |
| | | زرعي پيداوار کي مارڪيٽ تائين پهچائڻ |

استاد لاءِ هدايت: جيڪڏهن شاگرد تصوير نٿا ٺاهي سگهن، ته پوءِ کاتي ڏنل جڳهه تي چٽڙائين.

شھري زندگي

شھر، ڳوٺن کان مختلف آھن. شھر ڏاڍا مصروف ڪاروباري ھنڌ آھن، جتي ماڻھن جي اڪثريت رھي ٿي.



ڪراچي شھر



سڪارپور شھر

شھرن ۾ ماڻھن جي رھائش لاءِ ڪيترن ئي قسمن جا گھر آھن.



بنگلو



اپارٽمينٽ (فلٽ)

تعليم لاءِ شھرن ۾ ڪيترائي وڏا اسڪول، ڪاليج ۽ يونيورسٽيون آھن.



سڪر ۾ يونيورسٽي



ايس ايم ڪاليج ڪراچي



سعيد پناهه علي شاهه ماڊل اسڪول

شهرن ۾ ڪيتريون ئي اسپتالون ۽ ڪلينيڪون آهن، جتي ماڻهن جو بهتر علاج ٿئي ٿو.



شڪارپور جي اسپتال



حيدرآباد جي ڪلينڪ

اتي وندر لاءِ گهڻا پارڪ ۽ راندين جا ڪيترا ئي ميدان آهن.



هڪ پارڪ



ڪاليج ۾ راندين جو ميدان

شهرن ۾ وڏيون مارڪيٽون ۽ تجارتي مرڪز آهن، جتان ماڻهو پنهنجي ضرورت جون شيون خريد ڪن ٿا.



ڪراچيءَ جو خريداري مرڪز



حيدرآباد جي مارڪيٽ

شهرن ۾ وڏيون آفيسون ۽ ڪيترائي ڪارخانا آهن، جتي ماڻهو ڪم ڪن ٿا.



حبيب بئنڪ پلازه



گارمينٽ فيڪٽري

شهرن ۾ ڪيترائي ننڍا وڏا رستا آهن جن تي ڪارن، بسن، رڪشائن ۽ موٽر سائيڪلن جي پيهه لڳي پئي هوندي آهي. شهر ۾ هڪ هنڌان ٻئي هنڌ وڃڻ لاءِ ماڻهو اچ وڃ جي انهن ذريعن کي استعمال ڪندا آهن.



حيدرآباد شهر جي هڪ روڊ جو ڏيک



ڪراچي شهر جي هڪ روڊ جو ڏيک

ماڻهن جي پلائيءَ لاءِ حڪومت شهرن ۾ اسڪول، اسپتالون، پارڪ، راندين جا ميدان، روڊ ۽ سرڪاري ٽرانسپورٽ هلائي رهي آهي. حڪومت سڀني شهرين لاءِ اسڪول ۽ اسپتالون قائم ڪري نه ٿي سگهي. ان کان سواءِ ڪيترين ئي خانگي تنظيمن طرفان تعليمي ادارا ۽ طبي سهولتون مهيا ڪيون وڃن ٿيون، ته جيئن ماڻهو انهن مان لاپ پرائي سگهن.

سرگرميون:

1. ”الف“ خاني ۾ ڄاڻايو ته شهرن ۾ ماڻهن کي ڪهڙيون سهولتون مهيا ٿيل آهن. ”ب“ خاني ۾ ٻڌايو ته اهي سهولتون ڇو ڏنيون ويون آهن.

| ”الف“ خانو | ”ب“ خانو |
|---------------------|--------------------------------|
| شهرن ۾ حاصل سهولتون | اهي سهولتون ڇو ڏنيون ويون آهن؟ |
| | |
| | |
| | |
| | |
| | |

2. هيٺ ڄاڻايل خاڪي ۾ ڳوٺن ۽ شهرن وچ ۾ فرق کي ظاهر ڪريو.

| شهرن ۾ | ڳوٺن ۾ | |
|--------|--------|---------------------|
| | | ماڻهن جو تعداد |
| | | گهرن جو انگ |
| | | ماڻهو جيڪي ڪم ڪن ٿا |
| | | اچ وڃ جا ذريعا |
| | | وايو منڊل |

ماڻهن جا ڏندا

گذر سفر لاءِ پئسو ڪمائڻ لاءِ شهرن ۽ ڳوٺن ۾ ماڻهو مختلف قسمن جي ڏندن ۽ ڪمن ۾ مصروف رهن ٿا. اهي جيڪو ڪم ڪن ٿا اهو سندن ڏندو يا ڪرت ليکي ٿي وڃي. پنهنجي گهرجن جي پورائي لاءِ پئسو ڪمائڻ سان گڏ هنن جي ڪرت ۽ ڪم ڪار پين ماڻهن جي مدد ڪري ٿو. اهڙيءَ ريت اسان جو ملڪ هڪ ٻئي جي ڪم اچڻ واري عمل جي ڪري، رهڻ لاءِ هڪ بهتر جاءِ بنجي وڃي ٿو. ڳوٺن ۾ ماڻهن جي اڪثريت جو ڏندو ٻني ٻارو ڪرڻ آهي. هاري فصل اُپائين ٿا. اهي مال به پالين ٿا. اسان کي ڪائڻ لاءِ اناج، ميوا ۽ ڀاڄيون زمين مان ملن ٿيون. ساڳئي وقت ڪارخانن ۽ فيڪٽرين لاءِ ڪچو مال به هاري پيدا ڪري ٿو.



هاري ڪوڏر سان ٻني ٻاهي رهيو آهي



هڪ ڳوٺاڻي عورت مال پئي چاري

ڳوٺن توڙي شهرن ۾ ڪي مرد توڙي عورتون ٽيچر يا صحت سنڀال ورڪر طور ڪم ڪن ٿيون. ڪافي ماڻهن دڪان کوليا آهن ۽ ضرورت جون ڪيتريون شيون وڪرو ڪن ٿا.



ٽيچر



دڪاندار

شهرن ۾ ماڻهو پين ڪيترن ئي ڏندن ۾ مشغول رهن ٿا.

عام ڊاڪٽر ۽ مختلف بيمارين جا ماهر ڊاڪٽر شهرن ۾ علاج ڪن ٿا.



ڏندن جو ماهر



هڪ ڊاڪٽر

انصاف ڏيڻ لاءِ جج ۽ وڪيل عدالتن ۾ ڪم ڪن ٿا.



هڪ جج



هڪ وڪيل

ماڻهن جي جان ۽ مال جي حفاظت لاءِ پوليس مقرر ڪيل آهي.



ٽريفڪ پوليس



پوليس وارو

وڏن ڪارخانن ۾ مزدور ۽ مئنيجر ڪم ڪن ٿا.



ڪارخاني جو مئنيجر صلاح مشورو ڪري رهيو آهي



فيڪٽري ۾ ڪم ڪندڙ عورتون

ماڻهن جي خدمت لاءِ بهاريدار، پلمبر ۽ مڪينڪس موجود آهن.



صفائي ڪندڙ مائي



پلمبر



مڪينڪ

هر ماڻهو پنهنجي ڌنڌي ۾ ڪارائتو ڪم ڪري رهيو آهي. تنهن ڪري هر ڌنڌو اهم آهي. جيڪڏهن ڪنهن به ڌنڌي وارا ماڻهو پنهنجو ڪم ڪرڻ ڇڏي ڏين، ته ان سان بي شمار مسئلا ۽ تڪليفون پيدا ٿي پون. تنهن ڪري اسان کي هر ڌنڌي جي ماڻهوءَ جي عزت ڪرڻ گهرجي. هونءَ به پورهئي ۾ عظمت آهي.

سرگرميون:

1. ٻن جملن ۾ لکي ٻڌايو، ته هيٺيان ماڻهو ڪهڙو ڪم ڪن ٿا ۽ هنن جو ڪم ڇو اهم آهي؟
 آساني لاءِ هڪ مثال حل ڪيو ويو آهي.
 بس ڊرائيور بس هلائي ٿو.
 بس ڊرائيور مسافرن کي گهر کان اسڪول، ڪم واري جاءِ تي يا دڪانداري لاءِ مارڪيٽ پهچائي ٿو.

_____ هاري

_____ ٽيچر

_____ رازو

_____ پوليس وارو/واري

_____ درزي

_____ ڊاڪٽر

_____ بهاريدار

_____ فيڪٽري ورڪر

_____ دڪاندار

2. سڃاڻو هيٺيان ڪير آهن. خاني ۾ ڏنل لفظن جي مدد سان خال ڀريو.

ڪاسائي- موچي- درزي- ڪير وارو- دڪاندار- گلوڪار- پاڇيءَ وارو



مان وڳو پئي سبان
مان _____ آهيان



مان جوتو پيو سلاڻي ڪيان
مان _____ آهيان



مان پاڇيون ٿو وڪڻان
مان _____ آهيان



مان يڪتارو ۽ چيڙي پئي وڄيان
مان _____ آهيان



مان گوشت پيو وڍيان
مان _____ آهيان



مان ڪير ٿو وڪڻان
مان _____ آهيان

هڪ ٻئي جو خيال رکڻ

اسان سڀ پسند ڪندا آهيون ته ڪير اسان سان پيار ڪري ۽ اسان جو خيال رکي. اسان جا ماءُ پيءُ اسان کي ماني ڪارائين، ڪپڙا پارائين ۽ رهڻ لاءِ جاءِ مهيا ڪن ٿا. ان کان سواءِ هو اسان جو هر طرح سان خيال رکن ٿا ته جيئن اسان کي ڪابه تڪليف نه رسي. اسان جا استاد اسان کي لکڻ پڙهڻ سيکارين ۽ حسابن ۾ هوشيار ڪرڻ لاءِ ڏاڍي محنت ڪن ٿا.



ڏاڏي پنهنجي پوٽي کي ڪارائي رهي آهي



ٽيچر شاگرد جي پڙهائيءَ ۾ مدد ڪري رهي آهي

اسان پنهنجي والدين جي گهر ۾ مدد ڪريون ٿا. ڪپڙن ڌوئڻ، ٻنيءَ تي مال چارڻ ۽ سنڀال ڪرڻ کان سواءِ هر ڪم ۾ سندن هٿ وٺايون ٿا، ته جيئن هنن تي ڪم جو بار هلڪو ٿئي.

اسان پنهنجي ڪلاسين جي لکڻ پڙهڻ ۾ مدد ڪندا آهيون. اسان پنهنجا رانديڪا پين سان شيئر ڪندا آهيون ۽ پنهنجي دوستن سان گڏجي راند ڪندا آهيون.



ٻار مال کي چارو ڏئي رهيا آهن



دوست پاڻ ۾ شاپ-شاپ راند کيڏي رهيا آهن

پنهنجي گهر وارن ۽ دوستن کانسواءِ اسان کي پنهنجي ڪميونٽي ۾ ٻين جو خيال به رکڻ گهرجي.



بیمار ٻار جي مزاج پرسي ڪئي پئي وڃي



هڪ ٻار پير مرد کي رستو پار ڪرائي رهيو آهي

سرگرمي:

(الف) جن ٻارن وٽ اوهان کان گهٽ آهي، انهن جي ڪهڙن طريقن سان توهان مدد ڪري سگهو ٿا؟

_____ (i)

_____ (ii)

_____ (iii)

_____ (iv)

(ب) توهان ڇا محسوس ڪندا، جڏهن توهان کي ڪا ضرورت هجي ۽ ڪو ٻيو توهان جي مدد ڪري؟

استاد لاءِ هدايت: هن سرگرمي لاءِ ٻارن کي ننڍن گروپن ۾ ورهايو. هنن کان پڇو ته اهي ڪنهن جو انٽرويو ڪندا ۽ ڪانس ڪهڙا سوال پڇندا. هنن کي چئو ته پنهنجي نتيجن کي پوسٽرن، زباني تقريرن يا اسڪول جي ٽوئر ڪرڻ ذريعي ٻين سان شيئر ڪن.

يونٽ 3 جي پڄاڻي: مشق

1. هيٺين تصويرن کي ڏسي ٻڌايو ته هڪٻئي جي مدد ڪهڙن طريقن سان ٿي رهي آهي. هر هڪ مدد کي تصوير هيٺان ڏنل ليڪ تي لکو.



2. هيٺ ڏيکاريل تصويرن کي ڏسي ٻڌايو ته هاري ڪهڙو ڪم ڪري رهيا آهن.



3. هيٺين سوالن جا جواب ڏيو:

(الف) پنهنجي گهر ۾ ٻين جي ڪم ۾ مدد ڪرڻ جون ٽي ڳالهيون لکو.

(i) _____ (ii) _____ (iii) _____

(ب) پنهنجي ڪلاس ۾ ٻين جي مدد ڪرڻ جون ٽي ڳالهيون لکو.

(i) _____ (ii) _____ (iii) _____

4. هن يونٽ جا ٻه باب پهريون ۽ ٽيون پڙهو ۽ ٻڌايو ته ڳوٺاڻي ۽ شهري زندگيءَ جون ڪهڙيون ڳالهيون ساڳيون ۽ ڪهڙيون مختلف آهن. هيٺين خاڪي کي مڪمل ڪريو.

| مختلف ڳالهيون | ساڳيون ڳالهيون |
|---------------|----------------|
| | |
| | |
| | |

5. خاڪو مڪمل ڪيو

| ڳوٺن ۾ هڪجهڙا ڏندا | شهرن ۾ هڪجهڙا ڏندا | شهرن توڙي ڳوٺن ۾ هڪجهڙا ڏندا |
|--------------------|--------------------|------------------------------|
| | | |
| | | |
| | | |

6. پنهنجي والدين يا ڏاڏن/نانن کان پنهنجي ڳوٺ/شهر جي ماضيءَ جي اهم شخصيت بابت معلومات وٺو ۽ هيٺيان خال ڀريو.

(i) شخصيت جو نالو: _____ (ii) ڄم جو هنڌ ۽ تاريخ: _____

(iii) اها شخصيت ڇا جي ڪري مشهور آهي: _____

(iv) هن جون اعليٰ خوبيون هي هيون _____ ۽ _____ (v) هن جي وفات جي تاريخ: _____

7. پنهنجي ڳوٺ/شهر جي تاريخ جي باري ۾ پنهنجي والدين کان سوال ڪريو. حاصل ڪيل معلومات کي مختصر طور بيان ڪريو. جڏهن هو وڏا ٿي رهيا هئا تڏهن هنن جي ڳوٺ/شهر جي صورتحال ڪهڙي هئي؟

8. توهان ڪهڙي وقت ۾ رهڻ پسند ڪندؤ؟

_____ ڇو

شاگردن جي سکيا جا نتيجا (SLOs) Students Learning Outcomes

باب پهريون: عزت ۽ وقار جي لحاظ سان اسان سڀ برابر پيدا ٿيا آهيون

هن باب جي پڄاڻيءَ تي شاگرد اهو سکي ۽ ڄاڻي ويندا ته:

- ماڻهو ڪهڙين ڳالهين ۾ هڪجهڙا ۽ ڪهڙين ڳالهين ۾ هڪٻئي کان مختلف آهن.
- سڀ ماڻهو عزت جي لائق آهن، ڇاڪاڻ ته پيدائش ۽ انساني وقار جي لحاظ سان اهي سڀ برابر آهن.
- اهي طور طريقا ٻڌايو، جن سان ٻين لاءِ عزت جو اظهار ٿي سگهي.
- پنهنجي واري تي هر ڪم کي ٿيڻ ڏيو. تڪڙ ۽ اڳرائي نه ڪريو. هن اصول جي اهميت کي واضح ڪيو.
- اهڙن موقعن کي ٻڌايو جتي پنهنجي واري لاءِ بيٺڻ اهميت وارو آهي.

باب ٻيو: اسان جا حق ۽ اسان جون ذميواريون سمجهڻ

هن باب جي پڄاڻيءَ تي شاگرد اهو سکي ۽ ڄاڻي ويندا ته:

- ٻارن جا ٽي حق (جهڙوڪ تعليم جو حق، راند ۽ وندر جو حق، صحت جو حق) انهن کي مليل آهن.
- هر حق لاءِ مقرر ذميواريون (روزانه اسڪول وڃڻ، هوم ورڪ ڪرڻ، راندين جي سامان جي حفاظت ڪرڻ ۽ ان کي سنڀالي رکڻ، پارڪ مان گُل نه پٽڻ/چنڻ، ميوا يا پايڇيون کائڻ کان اڳ انهن کي گرم پاڻيءَ سان ڌوئڻ وغيره).

باب ٽيون: ٻين کي معاف ڪرڻ

هن باب جي پڄاڻيءَ تي شاگرد اهو سکي ۽ ڄاڻي ويندا ته:

- اهو محسوس ڪيو ته جيڪڏهن اوهان ڳالهائو يا ڪوبه ڪم ڪريو ٿا اهو ٻئي کي رنج پهچائيندو. ساڳيءَ طرح ٻيا به جي ائين ڪندا ته توهان کي ڏک رسندو (ڪوڙ ڳالهائڻ، ٻئي کي اڳتي ڌڪڻ، ناشانائتا لفظ ڳالهائڻ).
- ٻين کي پهچايل رنج کي ڏور ڪرڻ لاءِ ڇا ڪرڻ گهرجي؟ (معافي وٺجي، سوري چئجي، ان ڏس ۾ ڪا خاص ڳالهه ڪجي ته جيئن ٻئي جو غم مٽجي وڃي).
- اهو به ياد رکڻ گهرجي ته جيڪڏهن ٻيو پنهنجي ”چئي يا ڪئي“ تي پڇتاءُ ظاهر ڪري ۽ معافي وٺي ته ان کي معاف ڪري ڇڏجي.

عزت ۽ وقار جي لحاظ سان اسان سڀ برابر پيدا ٿيا آهيون

دنيا ۾ بيشمار ٻار آهن. سڄيءَ دنيا جا ٻار شان مان ۽ عزت جي لحاظ سان هڪجهڙا ڄمن ٿا. هيٺ ڏنل تصوير ڏي ڏسو. ان ۾ دنيا جي مختلف حصن جا ڪي ٻار نظر اچن ٿا. اهي ڪن ڳالهين ۾ هڪجهڙا ته ڪن ۾ مختلف آهن. ڇا توهان سوچي سگهو ٿا ته انهن جون ڪهڙيون ڳالهيون ساڳيون ۽ ڪهڙيون مختلف آهن؟



اهي ٻار هجڻ جي حيثيت سان هڪجهڙا آهن. سڀني کي پنهنجي پسند ۽ دلچسپي جي مشغولي ۽ عادت آهي. اهي ڪپڙا پائڻ ۽ جيڪي چاهين ٿا اهو ڪرڻ ۾ مختلف آهن.

اسان کي ٻين جي عزت ڪرڻ گهرجي. اسان کي نه رڳو انهن جي عزت ڪرڻ کپي جيڪي اسان جهڙا آهن، پر انهن جي به عزت ڪرڻ گهرجي، جيڪي اسان کان مختلف آهن. هنن جي چمڙيءَ جو رنگ، ٻولي، عقيدو يا هنن جو ٻئي شهر/ڳوٺ ۽ ملڪ سان واسطو هجڻ جي ڪري، اهو ڪنهن به طرح نٿو جڳائي ته اسان هنن کي گهٽ نظر سان ڏسون.

1. اوهان جي پاڙي جا ٻار ڪهڙين ٻن ڳالهين ۾ اوهان جهڙا آهن.

(i)

(ii)

2. اوهان جي پاڙي جا ٻار ڪهڙين ٻن ڳالهين ۾ اوهان کان مختلف آهن.

(i)

(ii)

3. آکاڻي پڙهو ۽ سوالن جا جواب ڏيو:

سجاد کي پنهنجي اسڪول ۽ پنهنجي دوستن سان پيار هو پر هو هميشه ٻين جي عزت نه ڪندو هو. هن کي جڏهن به هٿ ڏوٽا هوندا هئا ته هو نلڪي تان ٻين کي ڌڪا ڏئي پري ڪري پهريان پاڻ هٿ ڏوٽيندو هو. هن جا دوست کيس سمجهائيندا هئا ته ”سجاد! ٻيلي ائين نه ڪندو ڪر!“

ڪلاس ۾ پڻ پنهنجي واري کانسواءِ اڳواٽ رڙ ڪري جواب ڏئي ڇڏيندو هو ته کيس استاد چونڊو هو: ”سجاد! ائين نه ڪر!“

ڪاٺ پيئڻ جي وقفي ۾ به هو پنهنجون شيون ته کائي ويندو هو پر ٻين ڪلاسين جي پليٽ به صاف ڪري ويندو هو. هن کي ٻين جو لحاظ نه هو.

اڄ استاد کيس چيو ”سجاد! اسان کي گڏجي ويهي، پاڻ ۾ ڳالهائڻ جي ضرورت آهي.“
”يلا ٻڌاءِ ته تنهنجي واري مهل ڪو ٻيو چوڪرو جواب ڏئي ۽ تنهنجي پليٽ مان ڪو ٻيو شيءِ کائي وڃي ته تون ڇا محسوس ڪندين؟“

استاد لاءِ هدايت: شاگردن کي سمجهايو ته هڪجهڙائيءَ جي لحاظ سان سڀني ٻارن کي به اکيون، هڪ نڪ، هڪ وات آهي. سڀني کي جذبا ۽ احساس آهن. اکين، وارن ۽ چمڙيءَ جي رنگ، قد، عمر، صلاحيتن، ملڪن، پسند ناپسند جي لحاظ سان اهي مختلف ٿي سگهن ٿا ليڪن ان هوندي به اسان کي هر ڪنهن جي عزت ڪرڻي آهي. شاگردن کي سمجهايو ته ٻين جي عزت ڪرڻ ۽ انهن سان سهڻو سلوڪ رکڻ جي معنيٰ اها آهي ته اوهان پاڻ سان به اهڙي ورتاءُ کي پسند ڪريو ٿا. اسان کي سڀني جي عزت ڪرڻ گهرجي، ڇاڪاڻ ته اسان سڀ پيدائشي طور ۽ انساني وقار جي لحاظ سان برابر آهيون.

سجاد، ڪجهه دير لاءِ سوچيو ۽ پوءِ جواب ڏنو ”مان ان کي بلڪل پسند نه ڪندس.“
هن جي استاد کيس چيو ”پيا ٻار به ان کي پسند نٿا ڪن جڏهن تون ائين ڪرين ٿو.
پوءِ هاڻي تنهنجو ڪهڙو ارادو آهي.“
سجاد چيو ”سائين! هاڻي مان ڪوشش ڪندس ته ٻين سان عزت ڀريو ورتاءُ ڪريان ۽
هنن جي پليٽ مان ڪاٺڻ جو شيون نه کڻان.“
ٻئي ڏينهن ڪلاس ۾ تڪڙو جواب ڏيڻ کان پهريان سجاد پنهنجو هٿ مٿي ڪنيو ۽
پنهنجي واري جو انتظار ڪرڻ لڳو. جڏهن سبق پورو ٿيو ته استاد کيس چيو ”سجاد، اڄ مون
کي اهو ڏسي خوشي ٿي آهي ته تو وچ ۾ جواب نه ڏنو ۽ پنهنجي واري لاءِ انتظار ڪيو. تو
پنهنجي ڪلاس جي ساٿين جي عزت ڪئي آهي. تمام سٺو!“

1. سجاد ڇا ڪندو هو جنهن تي هن جا دوست ناراض ٿيندا هئا؟

2. عزت وارو طريقو ڪهڙو هو؟

3. ”عزت“ جي معنيٰ ڇا آهي؟

4. اهو وقت ياد ڪيو جڏهن توهان يا ڪنهن ٻئي، جنهن کي توهان سڃاڻو ٿا، بي عزتيءَ وارو
طريقو، اختيار ڪيو هجي. هاڻي، هيٺين سوالن جا جواب ڏيو:

ڪنهن جو طريقو عزت ڀريو نه هئو؟

هن ائين ڇو ڪيو؟

توهان يا اهو ٻيو شخص ٻئي دفعي ڪيئن عزت ڀريو ورتاءُ ڪري سگهي ٿو؟

استاد لاءِ هدايت: ڪلاس جي ٻارن کي آکاڻي ٻڌايو ۽ کين چئو ته سوالن جا زباني جواب ڏين. ان کان پوءِ
کين چئو ته خالي ڏنل جڳهه ۾ درست جواب لکو.

اسان جا حق ۽ اسان جون ذميواريون

سرگرمي:

(الف) تصوير ڪڍي يا پنج ڳالهين لکي ٻڌايو ته هر ڪو ٻار ڪيئن خوشي محسوس ڪري سگهي ٿو.

(ب) هاڻي انهن کي هيٺين ٻن خانن ۾ ڄاڻايو ”هن جي ضرورت آهي“ ۽ ”هو چاهي ٿو“:

| هو چاهي ٿو | هن جي ضرورت آهي |
|---|---|
| (ضروري ته ناهن پر هو چاهي ٿو ته هن وٽ هجن جهڙوڪ بروسٽ چڪن، ڪار وغيره) | (صحتمند ۽ خوش زندگي گذارڻ لاءِ جهڙوڪ کاڌو، ڪپڙا، گهر وغيره) |
| | |
| | |
| | |
| | |

(ج) جيڪڏهن اوهان جون ضرورتون پوريون نه ٿينديون ته ان جو نتيجو ڪهڙو نڪرندو؟

ٻارن جا حق ان ڳالهه جي خاطري ڪرائين ٿا ته صحتمند ۽ خوش زندگي گذارڻ لاءِ ٻارن جون بنيادي گهرجون پوريون ٿيڻ گهرجن، ته جيئن اهي ذميواري شهري بڻجي سگهن. ٻارن جا ڪي حق هي آهن:

- زندگي جو حق (زندهه رهڻ جو حق).
- نالي ۽ قوميت جو حق (ته هن جو به ڪو ملڪ آهي).
- ڪٽنب ۾ رهڻ جو حق جتي هن جي سار سنڀال لڏي وڃي ٿي.
- ايڏا ۽ غلط ورتاءُ کان بچاءُ جو حق (جسماني توڙي روحاني).
- صحت جو حق.
- کاڌي، ڪپڙي لٽي ۽ محفوظ هئڻ، رهڻ جو حق.
- بهتر تعليم جو حق.
- راند روند ۽ آرام جو حق.

اوهان جي وڏن، والدين، استادن ۽ حڪومت تي اهو فرض عائد ٿئي ٿو ته ان ڳالهه جي پڪي خاطري ڪن ته توهان کي توهان جي حقن جي ڄاڻ آهي ۽ توهان کي توهان جا حق واقعي ملن ٿا.

سرگرمي:

سوالن جا جواب ڏيو:

(i) ٻارن جا حق ڇا آهن؟

(ii) ٻارن جا ڪي به پنج حق ٻڌايو.

(iii) ٻارن جا حق ڇو ضروري ۽ اهميت وارا آهن؟

(iv) مٿي ڏنل حقن کي ڏسي ٻڌايو ته توهان کي ڪهڙا حق حاصل آهن؟

(v) ٻارن کي حق ڪير ڏئي ٿو ۽ ڪير انهن حقن جو بچاءُ ڪري ٿو؟

توهان جي حقن سان گڏ، توهان جون ڪي ذميواريون پڻ آهن. پنهنجي حقن ۽ ذميوارين جي ڄاڻ معنيٰ ته توهان ان ڳالهه جي خاطري ڪئي آهي ته اوهان کي پنهنجا حق ملن ٿا ۽ اوهان پنهنجون ذميواريون پوريون ڪريو ٿا. توهان تازو پڙهي آيا آهيو ته توهان کي سٺي تعليم حاصل ڪرڻ جو حق آهي. هاڻي اهو اوهان جو فرض ۽ ذميواري آهي ته روزانه اسڪول وڃو، ڪلاس ۾ استاد جيڪوبه ڪم استاد ڏئي تنهن کي پورو ڪريو. هوم ورڪ باقاعدي سان ڪيو ۽ امتحان ۽ ٽيسٽ لاءِ سخت محنت ڪري پڙهو.

سرگرمي:

ڪالم ”الف“ ۾ ڄاڻايل هر هڪ حق لاءِ ڪالم ”ب“ ۾ ٽي ذميواريون لکو

| ”الف“ خانو حق | ”ب“ خانو ذميواريون |
|--|-----------------------|
| ڪٽنب ۾ رهڻ جو حق جتي اوهان جي سار سنڀال لڏي وڃي ٿي | |
| رانڊ ڪيڏڻ جو حق | |
| صحت جو حق | |
| ڪاڏي ۽ ڪپڙي لٽي جو حق | |

بين کي معاف ڪرڻ



چوڪري لنچ باڪس کسي رهي آهي



چوڪري ان عمل تي سوري چئي رهي آهي



هن جي مدد ڪري رهي آهي ۽ کيس ايڏائڻ تي افسوس ڪري رهي آهي

ڪڏهن ڪڏهن اسان ڪجهه اهڙو ڳالهائي ويندا آهيون يا اهڙو ڪجهه ڪري وجهندا آهيون، جنهن ڪري بين جي جذبات کي ڏڪ رسندو آهي. ڪڏهن وري بين جا ڳالهائيل لفظ ۽ عمل اسان کي ايڏاءُ پهچائيندا آهن.

ڪوڙ ڳالهائڻ، ڏڪا ڏيڻ، گاريون ڏيڻ، خراب ڳالهائڻ سان ماڻهو ٻئي کي رنج پهچائي سگهي ٿو. جيڪڏهن اسان ڪنهن کي ڏڪ پهچايون يا سندس احساس کي ايڏايون ته اسان ”سوري“ sorry معنيٰ ”مون کي افسوس آهي“ ”مون کي معاف ڪجو“ چوڻ گهرجي.

اسان ڪو اهڙو خاص رويو اختيار ڪريون جيڪو ظاهر ڪري ته اسان اهو چاهيون ٿا ته هو اسان کي معاف ڪري ڇڏي.

”سوري“ چوڻ سان يا ڪو خاص عمل ڪرڻ جو مطلب اهو ٿيو ته اسان هن جي غم کي ميسارڻ چاهيون ٿا.

جڏهن پيا اسان کي ايڏائين ته اسان کي انهن کي معاف ڪري ڇڏڻ گهرجي.

استاد لاءِ هدايت: شاگردن کان هڪ سوال پڇو. کين سوچڻ لاءِ وقت ڏيو ۽ چئو ته زباني جواب ڏين. شاگردن کي وضاحت ڪري ٻڌايو ته معاف ڪرڻ جو مطلب اهو آهي ته اهي ٻيهر ڪنهن کي ايڏاءُ نه پهچائيندا.

1. ان وقت کي ياد ڪريو، جڏهن توهان ڪنهن کي يا ٻئي ڪنهن توهان کي ايڏايو ۽ رنجايو هجي:

ان ڳالهه کي چئن جملن ۾ بيان ڪريو.

(i) توهان جي دوست ڇا ڪيو؟

(ii) توهان ڇا ڪيو؟

(iii) ان ڳالهه تي توهان ڇا محسوس ڪيو؟

(iv) جيڪڏهن ائين وري ٿئي ته توهان ڇا ٿا ڪري سگهو؟

2. آکاڻي پڙهو ۽ سوالن جا جواب ڏيو:

ساره ۽ انعم بهترين ساهيڙيون هيون. هڪ ڏينهن صبح جو ساره ڏٺو ته انعم بيءَ چوڪريءَ سان راند کيڏي رهي هئي، جنهن تي هوءَ ناراض ٿي وئي. ڪجهه وقت کان پوءِ انعم ساره کي چيو ”اڄ ته راند کيڏون!“ ساره جواب ڏنو ”مان توسان راند کان کيڏنديس. وڃ، وڃي پنهنجي نئين ساهيڙيءَ سان راند ڪر. تون هاڻي منهنجي عزيز ساهيڙي ناهين!“



”تون ٻارڙي آهين!“ اهو چئي انعم هلي وئي.



ساره به هلي وئي. هوءَ انعم تي ڏاڍي ڪاوڙيل هئي، پر هوءَ اداس پڻ هئي. هوءَ سوچڻ لڳي ته هن انعم سان ڪيڏي پيار سان رانديون کيڏيون جهڙوڪ. هائوس-

هائوس، اڪپوٽ، ڪرڪيٽ وغيره.



جڏهن ان عمر گهر پهتي ته ساره اتي سندس انتظار ڪري رهي هئي. ساره چيو: ”مون
ڪي افسوس آهي ته مون توسان سخت رويو اختيار ڪيو. حقيقت ۾ مون ڪي
ڏاڍو ساڙ ٿيو، جڏهن تون پيءُ چوڪريءَ سان راند کيڏي رهي هئين.“
ان عمر وراڻيو ”مون ڪي ڏک آهي ته مون ڪي ”پارڙي“ سڏيو. تون منهنجي بهترين
دوست آهين. مان ڪڏهن به تنهنجي دل نه رنجائينديس.“
ٻنهي ساهيڙين هڪٻئي کي پاڪر پاتو.



(i) ساره جڏهن ان عمر ڪي پيءُ چوڪريءَ سان کيڏندي ڏٺو ته هن ڇا محسوس ڪيو؟

(ii) ساره جڏهن گهر وڃي رهي هئي، تڏهن هن ڇا پئي سوچيو؟

(iii) ٻنهي چوڪرين پاڻ ۾ ڪيئن ٺاه ڪيو؟

(iv) ڇا توهان سمجهو ٿا ته ساره درست طريقو اختيار ڪيو؟

استاد لاءِ هدايت: ڪلاس ڪي آکاڻي پڙهي ٻڌايو ۽ انهن کان هيٺين سوالن جا زباني جواب وٺو.

يونٽ 4 جي پڄاڻي: مشق

1. جهڙو پارڪ توهان چاهيو ٿا، ان جي تصوير ٺاهيو ته جيئن اوهان کي اتي راند کيڏڻ جو حق حاصل ٿئي.

2. پنهنجي ڳوٺ، شهر، ڪلاس ۽ گهر ۾ ٻين جي مدد ڪرڻ ۽ هٿ وٺائڻ لاءِ اوهان ڇا ٿا ڪري سگهو. هيٺئين خاڪي ۾ ڏنل خانن ۾ تفصيل درج ڪريو.

| ڳوٺ / شهر ۾ | ڪلاس ۾ | گهر ۾ |
|-------------|---------|---------|
| _____ 1 | _____ 1 | _____ 1 |
| _____ 2 | _____ 2 | _____ 2 |

3. هيٺين سوالن جا جواب ڏيو:

(i) توهان جو دوست ڪير آهي؟

(ii) توهان ڪهڙين ڳالهين ۾ پنهنجي دوست جهڙا آهيو؟

(iii) توهان ڪهڙين ٻن ڳالهين ۾ پنهنجي دوست کان مختلف آهيو؟

(iv) جيڪڏهن اوهان جو پنهنجي دوست سان ڪنهن ڳالهه تي اختلاف ٿي پئي ته پوءِ توهان ڇا ڪندؤ؟

4. هنن شخصن کي ڇا ڪرڻ گهرجي؟ صحيح جواب آڏو (✓) نشان لڳايو.

(الف) بينا ۽ سليم گڏن ۽ گڏين سان راند کيڏي رهيا آهن. واڱڻائي چولو پاتل گڏيءَ سان بينا کيڏڻ وقت تائين راند کيڏي، هاڻي سليم جي دل پئي چئي ته ان سان راند ڪري. هن کي ڇا ڪرڻ گهرجي؟

- (i) بينا کي چئي ته مهرباني ڪري مون کي کيڏڻ جو وارو ڏئي.
- (ii) واڪو ڪري چئي ”مون کي گڏي ڏي“ ۽ بينا کان گڏي کسي وٺي.
- (iii) بينا کي ڏک هڻي کائڻس گڏي ڦري وٺي.

(ب) ثنا وڊيو راند کيڏي پئي. هاڻي ريحان چاهي ٿو ته هو به راند کيڏي پر ثنا کيس وڊيو راند کيڏڻ لاءِ نٿي ڏئي. ريحان کي ڇا ڪرڻ گهرجي؟

- (i) ثنا کان زوري وڊيو راند ڦري وٺي.
- (ii) راند کيڏڻ کان پهريائين اهو فيصلو ڪري ته ڪير ڪيتري وقت تائين راند ڪندو ۽ پوءِ پئي کي وارو ڏيندو.
- (iii) ثنا چيو ته مون کي وارو ڏنو وڃي.

(ج) سارا ۽ فهد ڊرائينگ ڪڍي رهيا آهن. سارا وٽ گاڙهي رنگ جو چاڪ ڪونهي پر فهد وٽ اهو آهي. سارا کي ڇا ڪرڻ گهرجي؟

- (i) فهد کان پڇڻ بنا گاڙهو چاڪ کڻي.
- (ii) فهد کان اجازت وٺي ته ڇا هوءَ سندس گاڙهو چاڪ استعمال ڪري سگهي ٿي.
- (iii) گاڙهي بدران پيو رنگ استعمال ڪري.

5. هيٺيون ڳالهيون ٻارن وچ ۾ اڪثر ڪري ٿينديون رهن ٿيون.

توهان جي خيال ۾ مانائتو طريقو ڪهڙو آهي؟
صحيح جواب آڏو (✓) جو نشان لڳايو.

(الف) سونيا جي ٽيچر، سونيا کي چيو ته جن رانديڪن سان هن راند پئي کيڏي اهي پٽ تان کڻي. ٽيچر کي مان ڏيڻ لاءِ سونيا کي ڇا ڪرڻ گهرجي؟

- (i) رانديڪن کي پٽ تان کڻڻ گهرجي.
- (ii) ٽيچر کي وڏي واڪي چئي ڏئي ”نه“!

استاد لاءِ هدايت: سوال نمبر 4، 5 ۽ 6 ۽ انهن جي پاڻي کي وڏي آواز سان ڪلاس کي پڙهي ٻڌائي ۽ کين چئي ته صحيح جواب جي چونڊ ڪن، جيڪڏهن لفظ سولا آهن ته پوءِ شاگردن کي چئو ته اهي پاڻن کي پاڻ پڙهن.

(ب) بابر جي ڀاءُ، هن کان چڪر لڳائڻ لاءِ سائڪل ورتي. اتفاق سان هن کي گپ چڪ مان لنگهڻو پيو ۽ سائڪل گندي ٿي وئي. توهان جي خيال ۾ سنو ۽ شانائتو طريقو ڪهڙو آهي.

(i) بابر کي گندي سائڪل موٽائي ڏني.

(ii) بابر کي سائڪل موٽائڻ کان پهريان ان کي چڱي طرح ڌوئي صاف ڪري.

(ج) اينجیلا ۽ نورین ڪلاس کي آکاڻي ٻڌائڻ لاءِ انتظار ڪري رهيون آهن. نورین پهريان ٻڌائڻ لاءِ بيچين آهي، پر ٽيچر اينجیلا کي چيو ته پهريان آکاڻي هوءَ ٻڌائي. نورین لاءِ سهڻو طريقو ڪهڙو آهي؟

(i) پنهنجي واري جو انتظار ڪري.

(ii) پنهنجي آکاڻي ٻڌائڻ شروع ڪري جڏهن ته اينجیلا پنهنجي آکاڻي ٻڌائي رهي آهي.

6. ڪڏهن ڪڏهن هيٺيون ڳالهيون ٻارن وچ ۾ ٿي وينديون آهن. توهان جي خيال ۾ ڪهڙيون ڳالهيون درگذر ڪرڻ واريون آهن. صحيح جواب سامهون (✓) جو نشان لڳايو.

(الف) امير ۽ بلال بلاڪن سان راند کيڏي رهيا آهن.

بلال انهن بلاڪن سان هڪ وڏو ٽاور بنايو آهي. امير سعيو ڪري بلال جي وڏي ٽاور کي ڊاهي ٿو.

بلال کي ڇا ڪرڻ گهرجي؟

(i) امير کي چئي ته هو سندس بلاڪن جو ٽاور ڊاهڻ تي ساڻس ناراض آهي ۽ کيس

چئي ته ٽاور کي وري جوڙڻ ۾ هو سندس مدد ڪري.

(ii) امير جي بلاڪن کي ڊاهي ڇڏي.

(ب) طاهره ۽ ڪرن پاڻ ۾ طئي ڪيو ته هو اسڪول پوري ٿيڻ بعد گڏجي راند کيڏنديون. پر ڪرن سُوسيءَ کي چوي ٿي ته اها سندس گهر راند کيڏڻ اچي. طاهره کي ڇا ڪرڻ گهرجي.

(i) ڪرن کي چئي ته هوءَ هن سان ڪڏهن به نه ڳالهائيندي.

(ii) ڪرن کي چئي ته هوءَ سندس رويي جي ڪري ڏاڍي پريشان ۽ ناراض آهي، پر ان هوندي به هوءَ سندس دوست ٿي رهڻ چاهي ٿي.

(ج) حرا ۽ لینا ڪيتري وقت کان هڪ ٻئي جون ساهيڙيون آهن. هڪ ڏينهن هو پاڻ ۾ راند کيڏي رهيون هيون ته حرا لینا لاءِ نامناسب لفظ چيا. بعد ۾ هن ان تي پڇتاءُ جو اظهار ڪندي ”سوري“ ڪيو. هاڻي لینا کي ڇا ڪرڻ گهرجي؟ صحيح جواب سامهون (✓) جو نشان لڳايو.

(i) لینا حرا کي چئي ڇڏي ته هوءَ ساڻس دوستي رکڻ نٿي گهري.

(ii) لینا کيس چئي ته سندس جذبن کي مجروح ڪيو آهي. هن جي دل کي رنجايو آهي، ڇاڪاڻ ته هن غلط لفظ ڳالهايا آهن، پر ان هوندي به هوءَ سندس دوست ٿي رهندي.

7. پنهنجي والدين/ماءُ پيءُ/ استادن کان معلوم ڪريو ته حڪومت توهان کي هيٺيان حق ڏيڻ لاءِ ڇا ڪيو آهي. خانن کي مڪمل ڪريو

| توهان جا حق | اهو حق ڏيڻ لاءِ سرڪار ڇا ڪيو آهي |
|----------------------|----------------------------------|
| نالي ۽ قوميت جو حق | _____ |
| تعليم جو حق | _____ |
| صحت سنڀال جو حق | _____ |
| رانڊ روند ڪيڏڻ جو حق | _____ |

واڌو سرگرمي:

پنهنجي ڪلاس جي ساٿين سان گڏ هيٺيون نظم پڙهو.
ان ۾ ٻڌايل ڳالهين تي عمل ڪيو.

معاف ڪرڻ بابت نظم

آهيو جيسين جيئرا
رڪو ياد هر دم
ڪرڻ معاف آهي
سني ڳالهه بيشڪ
”وسارڻ ۽ بخشڻ“
سبق سوڀ وارو
اجورو انهيءَ جو
ملي رب کان بهتر

شاگردن جي سکيا جا نتيجا (SLOs) Students Learning Outcomes

باب پهريون: اسان جي ڌرتي، اسان جو ماحول

هن باب جي پڄاڻيءَ تي شاگرد اهو سکي ۽ ڄاڻي ويندا ته:

- اهو سڃاڻي ۽ سمجهي وڃن ته قدرتي ماحول ۾ جاندار ۽ بي جان شيون شامل آهن.

باب ٻيو: قدرتي وسيلا

هن باب جي پڄاڻيءَ تي شاگرد اهو سکي ۽ ڄاڻي ويندا ته:

- ڪن قدرتي وسيلن جا نالا ٻڌائي سگهن.
- قدرتي وسيلن جي اهميت بيان ڪري سگهن.

اسان جي ڌرتيءَ، اسان جو ماحول

اسان ڌرتيءَ تي رهون ٿا. اسان جي آسپاس جيڪي به شيون آهن، اهي اسان جي ماحول ۾ شامل آهن. پنهنجي چوڌاري نهاريو. توهان ڇا ٿا ڏسو ڏسو؟ توهان ماڻهن، ٻوٽن ۽ جانورن کي ڏسو ٿا. توهان عمارتون، ڪارون ۽ بسون پڻ ڏسو ٿا. انهن مان ڪي جاندار شيون آهن ته ڪي بي جان. جاندار شين کي زنده رهڻ لاءِ هوا، پاڻي ۽ کاڌي جي ضرورت آهي.



ماڻهو



جانور



ٻوٽا (گل)

بي جان شين کي هوا، پاڻيءَ ۽ غذا جي ضرورت نه آهي.



رانديڪا



سائيڪل



میز ۽ ڪرسي

سرگرميون:

1. خانن مان مناسب لفظ چوندي خال ڀريو

| | |
|----------|----------|
| جاندار | بي جان |
| جاندار | بي جان |
| مري | جيئرو ٿي |
| نتو سگهي | سگهي ٿو |
| نتو سگهي | سگهي ٿو |

(i) جانور _____ شيون آهن.

(ii) منهنجي ڪرسي _____ شيءِ آهي.

(iii) ٻوٽي کي پاڻي نه ملي ته _____ ويندو.

(iv) فوٽبال پاڻمرادو چڙي پڙي _____.

(v) انب جو وڻ، ڪڪڙيءَ مان وڌي _____.

اسان جي ماحول ۾ قدرتي توڙي انسان جون ٺهيل شيون موجود آهن.



قدرتي ماحول

ڪيتريون جاندار شيون جهڙوڪ ٻوٽا ۽ جانور ۽ بي جان شيون جهڙوڪ هوا ۽ پاڻي قدرتي ماحول جو حصو آهن.



انساني ماحول

اسان جي آسپاس انسان جون ٺاهيل شيون ان ماحول جو حصو آهن، جيڪو ماحول انسان جو جوڙيل آهي.

2. هيٺ ڏنل تصويرن کي ڏسو ۽ انهن هيٺان ليک تي ”قدرتي“ لکو، جيڪڏهن اهي قدرتي ماحول جو حصو آهن. يا ”انساني جڙيل“ لکو، جيڪڏهن اهي انسان جي ٺهيل ماحول جو حصو آهن.



قدرتي وسيلا

اهي شيون، جيڪي قدرت طرفان عطا ٿيل آهن ۽ قدرتي ماحول مان حاصل ٿين ٿيون انهن کي ”قدرتي وسيلا“ سڏجي ٿو. اهي وسيلا اسان لاءِ ڏاڍا ڪارائتا آهن. هيٺ ڏنل تصويرن کي ڏسو. اهي سڀ قدرتي وسيلا آهن.



ٻوٽا



جانور



قدرتي نظارو



ٽڪريون

زمين، پاڻي، ٻوٽا ۽ جانور قدرتي وسيلا آهن. ايندڙ چئن يونٽن ۾ اوهان انهن قدرتي وسيلن بابت ڄاڻ حاصل ڪندا.

يونٽ 5 جي پڄاڻي: مشق

1. الله تعاليٰ طرفان عطا ٿيل نعمتن جي تصوير ٺاهيو ۽ ان ۾ رنگ ڀريو.



2. ڪلاس ۾ ڪو رانديڪو (گڏي، ڪار، تيڊي رچ يا بال) آڻيو. ان جي پنهنجي پاڻ سان پيٽ ڪريو. هيٺيان خال ڀريو ته جيئن اوهان ۽ رانديڪي وچ ۾ فرق ظاهر ٿي سگهي.

(i) مان _____ سگهان ٿو. منهنجو رانديڪو _____ نٿو سگهي.

(ii) مان _____ سگهان ٿو. منهنجو رانديڪو _____ نٿو سگهي.

(iii) مان _____ سگهان ٿو. منهنجو رانديڪو _____ نٿو سگهي.

تنهن ڪري مان _____ شيءِ آهيان. منهنجو رانديڪو _____ شيءِ آهي.

3. هيٺ ڏنل تصويرن کي ڏسو ۽ سوالن جا جواب لکو.



تصويرن ۾ توهان ڪهڙا ٽي قدرتي وسيلا ڏسي سگهو ٿا.

(i) _____ (ii) _____ (iii) _____

4. ”الف“ خاني ۾ قدرتي وسيلا ڏنا ويا آهن. ”ب“ خاني ۾ انهن جا فائدا يا استعمال لکڻا آهن. خاڪي کي مڪمل ڪريو.

| خانو ”ب“ اسان ان کي ڪيئن استعمال ڪيون ٿا | خانو ”الف“ قدرتي وسيلا |
|---|---------------------------|
| | هوا |
| | پاڻي |
| | ٻوٽا |
| | جانور |

5. پنهنجي پسگردائيءَ ۾ موجود پنجن ٻوٽن ۽ پنجن جانورن جا نالا لکو.

| جانور | ٻوٽا |
|----------|----------|
| _____ .1 | _____ .1 |
| _____ .2 | _____ .2 |
| _____ .3 | _____ .3 |
| _____ .4 | _____ .4 |
| _____ .5 | _____ .5 |

شاگردن جي سکيا جا نتيجا (SLOs) Students Learning Outcomes

باب پهريون: زمين

- هن باب جي پڄاڻيءَ تي شاگرد اهو سکي ۽ ڄاڻي ويندا ته:
- قدرت طرفان عطا ڪيل زميني وسيلن جي اهميت کي سمجهي سگهن.
 - ماڻهو زمين کي ڪهڙيءَ ريت استعمال ڪن ٿا.
 - هو ڄاڻي ويندا ته انسان ڌرتيءَ جي وسيلن کي پنهنجي گهرجن ۽ ضرورتن لاءِ استعمال ڪري ٿو (زمين زراعت لاءِ، سمنڊ مچي مارڻ لاءِ وغيره). اهي ڳالهيون پاڻي واري يونٽ 7 ۾ سمجهايون ويون آهن.

باب ٻيو: ميدان يا پٽ

- هن باب جي پڄاڻيءَ تي شاگرد اهو سکي ۽ ڄاڻي ويندا ته:
- قدرتي طور حاصل ٿيندڙ شين ۽ انسان جي ٺاهيل شين وچ ۾ فرق کي سمجهي سگهن.

باب ٽيون: جبل

- هن باب جي پڄاڻيءَ تي شاگرد اهو سکي ۽ ڄاڻي ويندا ته:
- اهو ڄاڻڻ ته انسان ڌرتيءَ جي وسيلن کي پنهنجي گهرجن لاءِ استعمال ڪري ٿو. مثال طور زمين پوکي راهيءَ لاءِ، سمنڊ مچي مارڻ لاءِ (هن بابت يونٽ ست ۾ وڌيڪ ڄاڻ ڏني وئي آهي). جبلن مان معدنيات ۽ مختلف ڪماتتا ڌاتو ملن ٿا.

باب چوٿون: ٻيلا

- هن باب جي پڄاڻيءَ تي شاگرد اهو سکي ۽ ڄاڻي ويندا ته:
- ٻيلن جي اهميت ڪيتري آهي.
 - انسان جي مختلف سرگرمين جي ڪري زمين ڪيئن تباهه ٿي رهي آهي؟ (وڻن جي واڍي سببان)
 - وڻن جي واڍيءَ کي ڪيئن گهٽائي سگهجي ٿو؟ ڪجهه صلاحون ۽ تجويزون ڏيو.

باب پنجون: زمين جا مسئلا ۽ اسان ان لاءِ ڇا ٿا ڪري سگهون؟

- هن باب جي پڄاڻيءَ تي شاگرد اهو سکي ۽ ڄاڻي ويندا ته:
- اهو ٻڌائڻ ته انساني سرگرمين جي ڪري زمين تباهه ۽ برباد ٿي رهي آهي. (وڻن جو بي حساب وڍجڻ).

زمين



توهان پهريئين ڪلاس ۾ پڙهي آيا آهيو، ته ڌرتي ٻن حصن، زمين ۽ پاڻيءَ تي مشتمل آهي. زمين، ڌرتيءَ جو پڪو مٿاڇرو آهي. زمين هڪ اهم قدرتي وسيلو آهي. اسان زمين تي رهون ٿا. اسان پنهنجا گهر، اسڪول ۽ اسپتالون زمين تي ٺاهيون ٿا.



عمارتون، اسڪول ۽ اسپتالون زمين تي اڏيل آهن.

اسان زمين تي پوک ڪري غذائي فصل اُڀايون ٿا. ان کانسواءِ ٻيا به فصل تيار ڪري انهن مان ٻيون ڪارائتيون شيون ٺاهيون ٿا.



سورج مڪيءَ جي پوک جنهن مان ڪاڇرو تيل ٺهي ٿو.



گيس جي چلهي تي کاڌو پچي ٿو.

زمين مان معدني پيداوار پڻ ملي ٿي. لوڻ، سون ۽ چاندي معدني پيداوار آهن. لوڻ کاڌي کي ذائقيدار بڻائي ٿو. سون ۽ چانديءَ مان زيور جوڙائجن ٿا. لوهه مشينن ٺاهڻ ۾ ڪم اچي ٿو. قدرتي گيس ٻارڻ طور ڪتب آڻجي ٿي.

ليڪ ذريعي قدرتي وسيلن کي انهيءَ شيءِ جي تصوير سان ملايو، جيڪا ان مان ٺهي ٿي.

| ان مان ٺهيل شيءِ جي تصوير | قدرتي وسيلو |
|---|--|
|  |  |
|  |  |
|  |  |
|  |  |
|  |  |

ميدان يا پٽ

زمين هر هنڌ سڌي سنواري ڪانه آهي. زمين جا ڪي حصا وڏا ۽ تراڪڙا آهن، جن کي ميدان يا پٽ سڏجي ٿو. اسان سڌن پٽن ۽ ميدانن تي اڏاوت ڪري پنهنجا گهر، اسپتالون، اسڪول ۽ آفيسون تعمير ڪيون ٿا.



ميدان تي اڏيل گهر ۽ اسپتال

هاري ميداني پٽن تي پوک ڪري اناج اُپائين ٿا، جيڪو انسانن جي کاڌ خوراڪ جي ضرورتن کي پورو ڪري ٿو. وونئڻن جي فصل مان ڪپهه ملي ٿي، جنهن مان ڪپڙو ٺهي ٿو.



ڪڻڪ جو لبارو



ڦٽين جو چونڊو

سرگرمي:

ميدانن جا ٽي فائدا لکو.

(iii)

(ii)

(i)

جبل

ڪن هنڌن تي زمين پنهنجي آسپاس جي سطح کان تمام گهڻو اُتانھين ٿي ويندي آھي. اهڙن حصن کي ٽڪريون يا جبل چئبو آھي.



منو پاڻي جبلن مان ملي ٿو. جڏهن جبلن تي ڄميل برف رجي ٿي ته پاڻي اتان وهندو نديون ۽ ڍنڍون ٺاهي ٿو. اسان جيڪو پاڻي استعمال ڪيون ٿا، اهو اسان کي ندين ۽ ڍنڍن مان حاصل ٿئي ٿو. جبلن مان معدنيات پڻ ملي ٿي.



استاد لاءِ هدايت: شاگردن کي چئو ته توهان جي ويجهڙائيءَ ۾ جيڪي به جبل هجن، انهن جا نالا ٻڌائين.

بيلا



زمين ۾ ڪيترن ئي هنڌن تي گهاتا ۽ ڳٽيل وڻ قدرتي طور پيدا ٿين ٿا. انهن کي بيلا چئجي ٿو. هيٺ اسين ڪجهه اهڙن سببن کي بيان ڪريون ٿا، جن مان خبر پوندي ته بيلن جي اهميت ڪيتري آهي.



2. بيلا هوا کي صاف ۽ تازو رکڻ ٿا.



1. بيلا ڪيترن ئي جانورن جي رهڻ جو هنڌ آهن.



4. ڪن وڻن جو ڪاٺ پارڻ جي ڪم اچي ٿو.



3. بيلن مان ملندڙ ڪاٺ مان ڪيتريون ئي شيون ٺهن ٿيون جهڙوڪ ڊيسڪ، دريون، دروازا، ڪرسيون ۽ ميزون وغيره.

سرگرمي:

سوالن جا جواب لکو.

(i) بيلو ڇا کي ٿو چئجي؟

(ii) بيلا ڇو اهم آهن؟

(iii) جيڪڏهن بيلن جا وڻ وڍيا ويندا ته ڇا ٿيندو؟

استاد لاءِ هدايت: شاگردن کي چئو ته انهن جي ويجهڙائيءَ ۾ جيڪڏهن ڪي بيلا هجن ته، انهن جا نالا ٻڌائين.

زمين جا مسئلا ۽ اسان ڇا ٿا ڪري سگهون؟

- انساني سرگرمين جي ڪري زمين کي ڏاڍا ڏکيا مسئلا درپيش آهن.
1. اسان زمين تي گند ڪچرو اڇلائي، ان کي گدلو ۽ غليظ ڪري رهيا آهيون.
 2. اسان لڳاتار سال بسال زمين تي فصل اپائي رهيا آهيون. ان کي قدرتي ساهي به نٿا ڏيون ۽ نه وري ان جي پوري سنڀال ٿا ڪيون. ان ڪري زمين جي قدرتي پيداواري صلاحيت ختم ٿي وڃي ٿي.



گند ڪچرو



ڪمند جو فصل

3. پيلا وڍي، اسان اتي گهر اڏي ۽ پوک لاءِ زمين تيار ڪري رهيا آهيون. ان کانسواءِ وڻ وڍي ڪاٺ به حاصل ڪري رهيا آهيون. پيلن کي ختم ڪرڻ سان نه رڳو وڻڪار ختم ٿئي ٿي، پر ان سان گڏ ڪيترائي ٻوٽا ۽ جانورن جا گهر پڻ تباھ ۽ برباد ٿي وڃن ٿا، جن جو وري نهڻ ممڪن ناهي. ان سان جبلن تان چيون ڪرن ٿيون ۽ ميداني علائقن ۾ ٻوڏ اچي ٿي.

4. زمين اندر کوٽائي ڪري اسان معدنيات ته حاصل ڪيون ٿا، پر ان ڪري قدرتي ماحول کي ڏاڍو نقصان رسي ٿو.



وڻن کي وڍيو پيو وڃي

زمين جي سنڀال لاءِ اسان هيٺيون ڳالهون ڪري سگهون ٿا:

1. اسان گهٽائي (reduce) وري استعمال (reuse) ۽ ري سائڪل (recycle) تي عمل ڪري زمين کي بچائي سگهون ٿا. ڪپڙن، ڪاغذ ۽ ڪاٺ جي شين جي استعمال کي گهٽائي (reduce) سگهون ٿا. بوتلن ۽ ڪاغذ کي وري استعمال (reuse) ۽ ري سائڪل (recycle) ڪري سگهون ٿا.
2. هارين کي پنهنجي ٻنيءَ جي چڱيءَ طرح سار سنڀال لهن گهرجي.
3. اسان قانون ناهي پنهنجي ٻيلن کي تباهه ٿيڻ کان بچائي سگهون ٿا.
4. اسان کي تمام گهڻا وڻ پوکڻ گهرجن.



سرگرمي:

زمين کي متاثر ڪندڙ ڪي به ٽي انساني سرگرميون لکو.

_____ (i)

_____ (ii)

_____ (iii)

زمين جي مسئلن کي گهٽائڻ لاءِ اسان ڪهڙا ٽي قدم ڪڍي سگهون ٿا؟

_____ (i)

_____ (ii)

_____ (iii)

يونٽ 6 جي پڄاڻي: مشق

1. ٻيلي جي تصوير ڪڍي ان کي رنگ ڪريو:




2. هيٺيان خال ڀريو. لفظن واري خاني مان مناسب لفظ چونڊيو.
نوٽ: ساڳيو لفظ هڪ کان وڌيڪ دفعا استعمال ڪري سگهجي ٿو.

هوا ٽڪري زمين معدنيات ميدان جبل پاڻي ٻيلا

- (i) اسان کي ساهه کڻڻ لاءِ _____ گهرجي.
- (ii) _____ مان اڀريل اناج اسان جون غذائِي ضرورتون پوريون ڪري ٿو.
- (iii) سڀني جاندارن کي زندهه رهڻ لاءِ هوا، کاڌي ۽ _____ جي ضرورت آهي.
- (iv) ندين ۽ ڍنڍن مان حاصل ٿيندڙ _____ اسان پيئڻ ٿا.
- (v) اسان پنهنجا گهر _____ تي تعمير ڪيون ٿا.
- (vi) زمين جي سطح کان مٿانهن علائقن کي _____ ۽ _____ چئجي ٿو.
- (vii) سون، چاندي ۽ سنگ مرمر _____ جا نمونا آهن.
- (viii) ٻيلا _____ کي تازو ۽ صاف رکن ٿا.
- (ix) وڏن سڌن سنواٽن زميني حصن کي _____ چئبو آهي.
- (x) اها زمين جيڪا تمام گهڻن، گهٽن ۽ گتيل وڻن سان ڍڪيل هجي، ان کي _____ چئبو آهي.

سرگرميون:

3. هيٺ ڏنل تصويرن کي ڏسو ۽ ٻڌايو ته ان ۾ ڪهڙي معدنيات استعمال ٿيل آهي. خال ڀريو.



(i) زيور _____ مان ٺهڻ ٿا.

(ii) قائد اعظم جو مقبرو _____ مان ٺهيل آهي.

(iii) هي شيخون _____ مان ٺهيل آهن.

4. هيٺين سوالن جا جواب ڏيو:

(i) ٽن قدرتي وسيلن جا نالا لکو.

_____ (i) _____ (ii) _____ (iii)

(ii) ٽن معدنيات جا نالا لکو جيڪي توهان استعمال ڪيو ٿا.

_____ (i) _____ (ii) _____ (iii)

(iii) لوهه معدني پيداوار آهي. اهو ڪيترن شين جي ٺاهڻ ۾ ڪم اچي ٿو. لوهه مان ٺهيل ٽن شين جا نالا لکو.

_____ (i) _____ (ii) _____ (iii)

5. ”الف“ خاني ۾ ماڻهو جيڪو ڪم ڪن ٿا، اهو ڏٺو ويو آهي. ”ب“ خاني ۾ اهو قدرتي وسيلو لکيو، جيڪو اهو شخص پنهنجي ڪم ۾ استعمال ڪري ٿو.

| ”الف“ | ”ب“ |
|--------------------------|--------------------------------|
| ماڻهو جيڪو ڪم ڪن ٿا | قدرتي وسيلو جيڪو استعمال ڪن ٿا |
| توهان شاگرد جي حيثيت سان | |
| هاري | |
| باهه وسائيندڙ ماڻهو | |
| گهر ۾ ڪم ڪندڙ | |
| سونارو | |
| چڙيا گهر ۾ ڪم ڪندڙ | |
| واڍو | |

6. پنهنجي والدين، استادن ۽ ڪتابن ذريعي اهو معلوم ڪيو ته اوهان جي آسپاس ماڻهن جي سرگرمين جي ڪري زمين لاءِ ڪهڙا مسئلا ۽ مشڪلاتون پيدا ٿيون آهن. هيٺ ڇڏيل جاءِ تي انهن کي لکيو:

استاد لاءِ هدايت: شاگردن جي همت افزائي ڪيو ته جيئن هو انهن قدرتي وسيلن کي ڳولي لهن، جيڪي هو روزمره جي زندگيءَ ۾ ڪم ۾ استعمال ڪن ٿا. قدرتي وسيلن جي چونڊ ۾ شاگردن جي مدد ڪريو. کين ٻڌايو ته ڪم ڪندي ماڻهو ڪيترن ئي وسيلن کي استعمال ڪري ٿو.

شاگردن جي سکيا جا نتيجا (SLOs) Students Learning Outcomes

باب پهريون: پاڻي

- هن باب جي پڄاڻيءَ تي شاگرد اهو سکي ۽ ڄاڻي ويندا ته:
- جاندارن لاءِ پاڻيءَ جي اهميت سمجهڻ.
 - پاڻيءَ جي قدرتي وسيلن بابت ڄاڻ حاصل ڪرڻ.
 - ٻارن جي محلي يا پاڙي ۾ پاڻيءَ جي مکيه ذريعن متعلق ڄاڻڻ.

باب ٻيو: پاڻي اسان جي گهرن تائين ڪيئن ٿو پهچي؟

- هن باب جي پڄاڻيءَ تي شاگرد اهو سکي ۽ ڄاڻي ويندا ته:
- پاڻيءَ جي ذريعن جي اهميت کي ڄاڻڻ.
 - روزمره جي زندگيءَ ۾ پاڻي ڪهڙين ڳالهين ۾ استعمال ڪجي ٿو.

باب ٽيون: پاڻيءَ جي اهميت

- هن باب جي پڄاڻيءَ تي شاگرد اهو سکي ۽ ڄاڻي ويندا ته:
- محلي ۾ پاڻيءَ جي اهم ذريعن کي معلوم ڪرڻ.
 - اهو ٻڌائڻ ته پاڻي قدرتي وسيلن کان گهرجي نلڪن تائين ڪيئن ٿو پهچي؟
 - انسان پاڻي ڪيئن ٿا ضايع ڪن.
 - پاڻيءَ جي زيان ڪرڻ سان ڪهڙا مسئلا پيدا ٿين ٿا؟

باب چوٿون: پاڻيءَ جو استعمال ۽ سنڀال

- هن باب جي پڄاڻيءَ تي شاگرد اهو سکي ۽ ڄاڻي ويندا ته:
- اهو سمجهڻ ته صاف پاڻي فقط پيئڻ لاءِ استعمال ڪرڻ گهرجي.
 - اهو ڄاڻڻ ته اهڙا ڪيترا انسان آهن، جيڪي هميشه پاڻيءَ جي اٿان جو شڪار آهن.
 - پاڻي بچائڻ جا طريقا تجويز ڪرڻ.

پاڻي

اسان کي ڄاڻ آهي ته ڌرتيءَ جو مٿاڇرو پاڻي ۽ زمين تي ٻڌل آهي. زمين جيان، پاڻي به نهايت اهم قدرتي وسيلو آهي.



ڌرتيءَ جو مٿاڇرو

ڇا توهان کي خبر آهي ته ڌرتيءَ جي مٿاڇري جو لڳ ڀڳ 75 في سيڪڙو يعني ٽي ڀاڱي چار حصو، پاڻيءَ سان والاريل آهي؟ ڌرتيءَ تي موجود اهو پاڻي گهڻي ڀاڱي ڪارو آهي، جيڪو سمنڊن ۽ مها ساگرن ۾ ملي ٿو. ڪارو يا لوڻيانيل پاڻي پيئڻ، وهنجڻ توڙي زراعت لاءِ ڪم آڻي نٿو سگهجي.



سمنڊ

پيئڻ، وهنجڻ ۽ پوک ڪرڻ لاءِ مٺي پاڻيءَ جي ضرورت آهي. مٺو پاڻي دريائن، ڍنڍن ۽ نهرن کان سواءِ زمين هيٺان پڻ ملي ٿو. مينهن جو پاڻي به مٺو آهي.



درياءَ



ڍنڍ



ڪوهه کوٽي زمين هيٺان پاڻي حاصل ڪجي ٿو



ڪڪر مينهن آڻين ٿا



جڏهن سج تيز چمڪندو آهي ته جبلن مٿان ڄميل برف رجي پاڻي ٿيندي آهي

ڇا توهان کي خبر آهي؟

ڌرتي تي موجود ڪُل پاڻيءَ جو هڪ في سيڪڙو پاڻي استعمال جي قابل آهي. باقي ڪارو پاڻي آهي (سمنڊن جو پاڻي) يا هميشه ڄميل پاڻي به پي نٿو سگهجي، نڪو ان کي ڌوئڻ يا پوک لاءِ استعمال ڪري سگهجي ٿو.

سرگرميون:

1. هيٺين سوالن جا جواب ڏيو:

(i) ڌرتيءَ جو مٿاڇرو ڪهڙن بن قدرتي وسيلن سان والاريل آهي؟

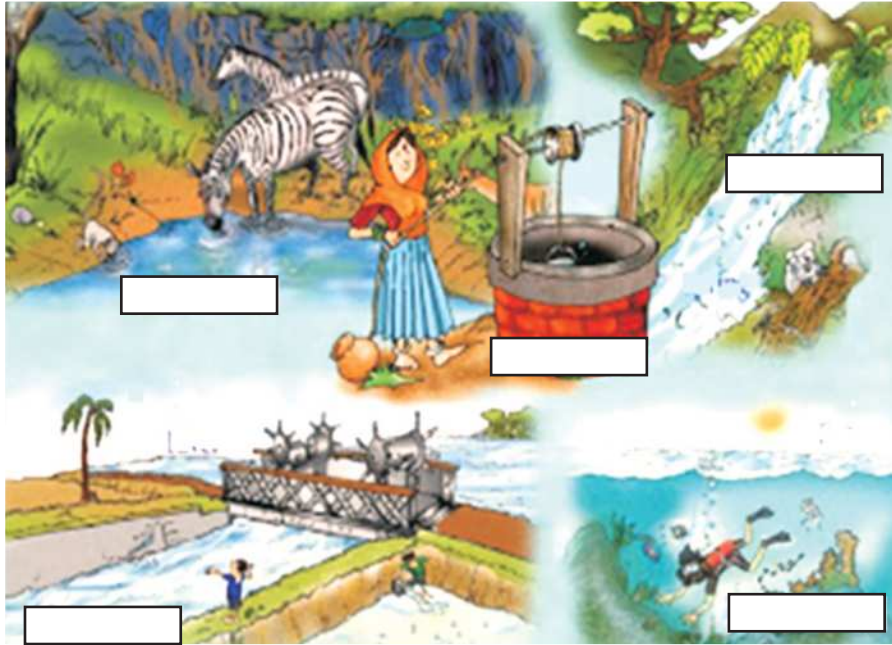
(ii) ڌرتيءَ جي مٿاڇري جو ڪيترو حصو پاڻيءَ سان ڍڪيل آهي؟

(iii) ڪارو پاڻي ڪٿي ملي ٿو؟

(iv) منو پاڻي ڪٿان حاصل ڪجي ٿو؟

(v) ڌرتيءَ تي موجود پاڻيءَ جو وڏو مقدار ڇو پي نٿو سگهجي؟

2. هيٺينءَ تصوير کي ڏسو. اوهان کي پاڻيءَ جا مختلف ذريعا نظر ايندا. ڇڏيل جاءِ تي انهن ذريعن جا نالا لکو.



اسان جي گهرن تائين پاڻي ڪيئن ٿو پهچي؟

عام طور سان اسان کي پنهنجي گهرن ۾ پاڻي نلڪن يا کوهن مان ملي ٿو. پاڻي اسان جي گهرن جي نلڪين يا نلڪن تائين ڪيئن ٿو پهچي؟



برف سان ڍڪيل جبل

جڏهن سج چمڪي ٿو ته جبلن تي جميل برف رجي پاڻي ٿئي ٿي.



برف جو پاڻي درياءَ جي شڪل ۾

اهو پاڻي دريائن جي شڪل ۾ وهي ٿو.



پاڻي صاف ڪرڻ جا ذخيرو

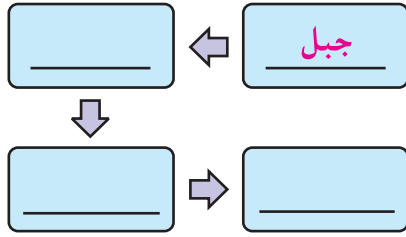
دريائن مان پاڻي وڌن آبي ذخيرن ۾ گڏ ڪري ان کي صاف ڪيو ٿو وڃي. جيڪو پاڻي ذريعي اسان جي گهرن تائين پهچي وڃي ٿو.



تازو منو پاڻي

اسان جڏهن نلڪي کي کوليون ٿا ته اسان کي پاڻي ملي ٿو.

سرگرمي:



خانن ۾ بنيادي لفظ لکو ته جيئن جبلن کان گهر تائين پاڻي پهچڻ جو سرشتو سلسليوار مڪمل ٿي سگهي.

ڪوهه ۾ پاڻي ڪٿان ٿو اچي؟ جڏهن مينهن وسن ٿا، ته ڪجهه پاڻي زمين جذب ڪري ٿي جيڪو زمين هيٺان موجود رهي ٿو.



ڪوهه



هٿ جو نلڪو



ٽيوب ويل

اسان ڪوهه ڪوٽائي پاڻيءَ کي پمپ ذريعي حاصل ڪري استعمال ڪيون ٿا.

سرگرمي:

ٻنهي گلاسن ۾ پيل پاڻيءَ کي ڏسو ۽ سوالن جا جواب ڏيو.



(i) جيڪڏهن توهان کي پاڻيءَ جا اهي ٻئي گلاس ڏنا وڃن، ته توهان ڪهڙي گلاس جو پاڻي پيئڻ پسند ڪندا؟

(ii) ڇو؟

پاڻيءَ جي اهميت

سڀني جاندارن کي زنده رهڻ لاءِ پاڻيءَ جي ضرورت آهي. اسان کي پيئڻ ۽ رڌ پچاءُ لاءِ پاڻي گهرجي. ٻوٽن جي واڌ ويجهه لاءِ پڻ پاڻي ضروري آهي.



ڪي جاندار پاڻيءَ ۾ رهن ٿا.
پاڻي ئي سندن گهر آهي.



ڪي جانور ڪجهه وقت لاءِ پاڻيءَ ۾
رهن ٿا.



ماڻهو پاڻيءَ جي جهازن ۽ ٻيٽن ذريعي
هڪ هنڌان ٻئي هنڌ وڃن ٿا.



ماڻهن جي جان ۽ ملڪيت کي باه کان
بچائڻ لاءِ ”باه وسائيندڙ عملو“ پاڻي
استعمال ڪري ٿو.



ڊيمن ۾ پاڻيءَ جي تيز وهڪرن مان
بجلي پيدا ڪئي وڃي ٿي.

سرگرمي:

1. هيٺ ڏنل خاڪي ۾ پاڻيءَ جي استعمال بابت ڪي ڳالهيون ٻڌايل آهن:
(الف) هر چوڪڙي کي رنگ ڪيو ته جيئن خبر پوي ته توهان ڪنهن مقصد لاءِ ڏينهن ۾ ڪيترا دفعا پاڻي استعمال ڪيو ٿا.

| ڪپڙا ڌوئڻ | ٻوٽن کي پاڻي ڏيڻ | ٿانو ڌوئڻ | رڌ پچاءُ ڪرڻ | پيئڻ | وهنجڻ | ڏند صاف ڪرڻ | |
|-----------|------------------|-----------|--------------|------|-------|-------------|----|
| | | | | | | | .6 |
| | | | | | | | .5 |
| | | | | | | | .4 |
| | | | | | | | .3 |
| | | | | | | | .2 |
| | | | | | | | .1 |

(ب) توهان جيڪو گراف ٺاهيو آهي، ان کي ڏسو ۽ هيٺين سوالن جا جواب لکو:

(i) توهان ڪهڙي مقصد لاءِ گهٽ ۾ گهٽ پاڻي استعمال ڪيو؟

(ii) توهان ڪهڙي مقصد لاءِ گهڻي ۾ گهڻو پاڻي استعمال ڪيو؟

پاڻيءَ جو استعمال ۽ سنڀال

منو پاڻي ڏاڍو اهم قدرتي وسيلو آهي. سڀني ماڻهن جي گهرجن لاءِ منو پاڻي جهجهي مقدار ۾ موجود ناهي، تنهن ڪري اسان کي ڏاڍي خبرداري سان ان کي استعمال ڪرڻ گهرجي.



عورتون ڏورانهين هنڌ تان پاڻي آڻيندي

- جڏهن ڏند صاف ڪرڻ لاءِ برش ڪيو ته نلڪو کولي نه ڇڏيو.
- وهنجڻ لاءِ گهٽ پاڻي استعمال ڪيو.
- گهر کي ڌوئڻ لاءِ بالٽي يا ڏول استعمال ڪريو. پائپ سان فرش ڌوئڻ ۾ تمام گهڻو پاڻي ضايع ٿئي ٿو.
- تانوَ ڌوئڻ مهل نلڪي کي کولي نه ڇڏيو.
- وهندڙ ٽوٽين، نلڪن ۽ پائپن جي تڪڙي مرمت ڪرايو.
- بين کي پاڻيءَ جي بچت ڪرڻ سیکاريو.

يونٽ 7 جي پڄاڻي: مشق

1. تصوير ٺاهي ان ۾ ڏيکاريو ته جبلن تي ڄميل برف، پاڻيءَ ۾ ڪيئن ٿي تبديل ٿئي ۽ هيٺ وڃي ندين ۽ دريائن جي صورت ڪيئن ٿي اختيار ڪري.



2. هيٺين سوالن جا جواب ڏيو:

(i) ڌرتيءَ جي مٿاڇري جو وڏو حصو ڇا سان ڍڪيل آهي؟

(ii) لوٽائيل پاڻي سمنڊن ۽ مها ساگرن ۾ ملي ٿو. مني ۽ تازي پاڻيءَ جي ڪن به ٽن ذريعن جا نالا لکو.

(الف) _____ (ب) _____ (ج) _____

(iii) زير زمين (زمين هيٺان) پاڻي ماڻهن جي گهرن تائين ڪيئن ٿو پهچي؟

(iv) ڪن به ٽن جاندارن جا نالا لکو جن جي جياپي لاءِ پاڻي نهايت ضروري آهي.

(الف) _____ (ب) _____ (ج) _____

3. پاڻي ڪيئن استعمال ڪجي ٿو؟ هيٺئين خاڪي جا سڀئي خانا مڪمل ڪريو:

| جانور پاڻي استعمال ڪن ٿا | مان ۽ منهنجي گهر وارا استعمال ڪن ٿا | هاري پاڻي استعمال ڪن ٿا | ٻوٽا پاڻي استعمال ڪن ٿا |
|--------------------------|-------------------------------------|-------------------------|-------------------------|
| | | | |

4. هيٺ ڏنل تصويرن پريسان ڏنل خانن ۾ ٻڌايو ته اها ڪهڙي آبي (پاڻي) ذريعي جي تصوير آهي؟



5. ٻڌايو ته ماڻهو ڪهڙي طرح پاڻيءَ کي ضايع ڪن ٿا هنن کي ائين ڪرڻ بدران ڇا ڪرڻ گهرجي؟
(هڪ خاڪو بنايو. تصوير کي آڏو رکي، شاگردن کي سمجهايو ته اسان ڪهڙي مطلب ۽ مقصد سان ائين ڪيون ٿا).

- (i) _____
- (ii) _____
- (iii) _____
- (iv) _____
- (v) _____

شاگردن جي سکيا جا نتيجا (SLOs) Students Learning Outcomes

باب پهريون: اسان جي آسپاس موجود ٻوٽا

هن باب جي پڄاڻيءَ تي شاگرد اهو سکي ۽ ڄاڻي ويندا ته:

- انهن ٻوٽن جا نالا ۽ سڃاڻپ ڪري سگهن جيڪي هنن جي آسپاس موجود آهن.
- ٻوٽن جي مختلف پاڻن ۽ حصن کي سڃاڻي سگهن.

باب ٻيو: ٻوٽن جا پاڻا ۽ انهن جا فائدا

هن باب جي پڄاڻيءَ تي شاگرد اهو سکي ۽ ڄاڻي ويندا ته:

- پاڙ، پن ۽ گل جي فائدين کي ٻڌائي سگهن.
- مختلف قسم جي پنن بابت ڄاڻ ڏيئي سگهن.
- جن ٻوٽن جون پاڙون کاڌي جي ڪم اچن ٿيون انهن جي سڃاڻپ ڪري سگهن.
- هنن جي آسپاس جيڪي ٻوٽا ٿين ٿا انهن مان ڪهڙا گل ڏين ۽ ڪهڙا گل نٿا ڏين، انهن جا نالا ٻڌائي سگهن.
- اهو ٻڌائي سگهن ته ٻوٽي جي واڌ ويجهه لاءِ سٺي زمين ۽ پاڻي درڪار آهي.
- ٻوٽن جا فائدا ٻڌائي سگهن (کاڌي، ڪپڙي ۽ پناهه وغيره).

اسان جي آسپاس موجود ٻوٽا

اوهان پهرئين ڪلاس ۾ پڙهي آيا آهيو ته اسان جي آسپاس انيڪ ٻوٽا موجود آهن. ڇا توهان ڪن ٻوٽن جا نالا ٻڌائي سگهو ٿا؟ اهي جيڪي اوهان جي گهر، اسڪول، ڀر واري پارڪ يا ٻنين ۾ ٿين ٿا. ٻوٽا فطرت جي سهڻين سوکڙين مان هڪ سوکڙي يا تحفو آهن. انهن مان اسان کي ڪيترائي فائدا حاصل ٿين ٿا.

سرگرميون:

1. پنهنجي آسپاس موجود ڪن به ٽن ٻوٽن جا نالا لکو.

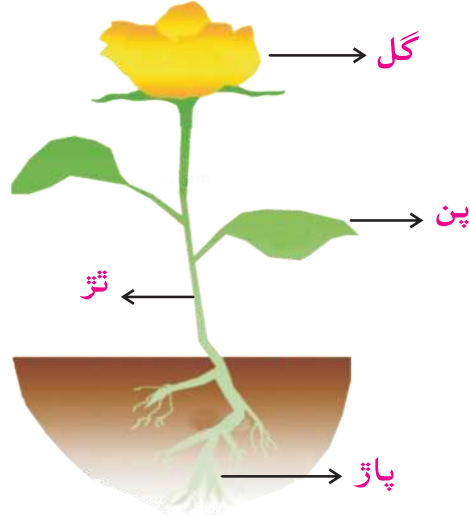
_____ (i) _____ (ii) _____ (iii)

2. تصويرن ۾ ڏيکاريل ٻوٽن جا نالا انهن جي هيٺان لکو:



ٻوٽن جا ڀاڱا ۽ انهن جا فائدا


توهان پهرئين ڪلاس ۾ پڙهي آيا آهيو ته ٻوٽن جا ڪيترا ڀاڱا يا حصا آهن. ڇا توهان ٻوٽي جي ڀاڱن جا نالا ٻڌائي سگهو ٿا؟ گل، پن، ٿڙ ۽ پاڙون ٻوٽي جا ڀاڱا آهن.



ٻوٽي جو هر هڪ حصو يا ڀاڱو، ڪنهن نه ڪنهن طرح ٻوٽي لاءِ مددگار ثابت ٿئي ٿو. ايندڙ صفحن ۾ توهان پڙهندؤ ته ٻوٽي جو هر هڪ ڀاڱو ان جي واڌ ويجهه ۽ اوسر ۾ ڪهڙو ڪم ڪري ٿو.

سرگرمي:

ٻوٽي جي تصوير ٺاهيو. ٻوٽي جي ڀاڱن تي چٽڪي لڳايو ۽ ان ۾ رنگ ڀريو.



پاڙون

سڀني ٻوٽن کي پاڙون آهن. پاڙون زمين اندر پيھي وڃن ٿيون. انهن پاڙن جون ڪيتريون ئي شاخون ۽ تندون آهن. پاڙن جا هيٺيان فائدا آهن.

1. پاڙن جي ڪري ٻوٽو مضبوطيءَ سان هڪ هنڌ قائم بيهي سگھي ٿو.



سرگرمي:

هڪ ٻوٽي کي پاڙن سميت صحيح سلامت آڻيو. پاڙن کي چڱيءَ طرح چڪاسيو. انهن تي لڳل مٽي ڇنڊيو.

هاڻي پاڙ جي وري جانچ ڪريو. هيٺين سوالن جا جواب ڏيو:

(i) توهان ڇا ڏٺو؟

(ii) پاڙ کي مٽي ڇو لڳل هئي؟

(iii) پاڙون زمين هيٺان ڇو ٿيون ڄمن؟

(iv) پاڙن کي ننڍيون شاخون ڇو آهن؟

استاد لاءِ هدايت: شاگردن کي ٻڌايو ته پاڙون زمين اندر ٿين ٿيون. اهي اندر ئي اندر ڦهلجي ۽ پڪيڙجي وڃن ٿيون ان ڪري مٽي ٻوٽو هڪ هنڌ قائم بيهي رهي ٿو. ٻارن کي ٻڌايو ته پاڙون ڪهڙيءَ ريت زمين مان پاڻي ۽ غذائي حصا جذب ڪري ٻوٽي جي مختلف ڀاڱن تائين پهچائين ٿيون.

سرگرمي ۾ ڏنل سوال جو مناسب جواب: پاڻي سوتي ڪپڙي يا کاغذي ٽوال جي مٿين حصن ۾ پهچڻ لڳندو.

2. پاڙون زمين اندر موجود پاڻي ۽ ڪارائتا غذائي جزا کڻي سڄي ٻوٽي تائين پهچائين ٿيون.



سرگرمي:

گهربل شيون

- سوتي ڪپڙي جو ٽڪرو يا ڪاغذي ٽوال
- پاڻي سان ڀريل ڪوپ

طريقي

پاڻي سان ڀريل ڪوپ کڻو. ڪاتن ڪلاٽ (سوتي ڪپڙي) يا ڪاغذي ٽوال جي ڪنڊ پاڻيءَ ۾ ٻوڙيو. چڱيءَ طرح ڏسو ته ڇا ٿو ٿئي؟
توهان ڇا ڏٺو؟

3. ڪي پاڙون پاڻ وٽ کاڌو سنڀالي رکن ٿيون. اهڙيون پاڙون اسان جي ڪاٺ جي به ڪم اچن ٿيون جهڙوڪ موري، گجر ۽ ڪچالو.



ڪچالو



گجر



موري

سرگرميون:

1. هيٺيان خال ڀريو. لفظن واري خاني کان مدد وٺو.

| مدد | پاڙن | ڄمن | کاڌي |
|-----|------|-----|------|
|-----|------|-----|------|

- (i) پاڙون زمين اندر _____ ٿيون.
- (ii) پاڻي ۽ ٻيا غذائي جزا، ٻوٽي جي _____ ۾ جذب ٿين ٿا.
- (iii) اسان ڪن ٻوٽن جون پاڙون _____ طور استعمال ڪندا آهيون.
- (iv) پاڙون، ٻوٽن کي سڌو بيٺڻ ۾ _____ ڪن ٿيون.

2. ٽي پاڙون جيڪي توهان کائيندا آهيو انهن جون تصويرون ٺاهيو، نالا لکو ۽ رنگ ڪريو.

| | | |
|--|--|--|
| | | |
|--|--|--|



ٿڙ

ٻوٽي جي پاڙن ۽ پنن جي وچ واري ڀاڱي کي ٿڙ يا ڏانڊي سڏجي ٿو. ٿڙ مان هيٺيان فائدا آهن.

1. ٿڙ جي ڪري ٻوٽو سڌو سنئون بيٺي ٿو.
2. ٿڙ، ٻوٽي جي تارين، پنن، گلن ۽ ميون کي ٽيڪ ڏئي ٿو.
3. ٿڙ ذريعي پاڻي پاڙن مان پنن تائين پهچي ٿو جيڪي ٻوٽي جو کاڌو تيار ڪن ٿا.
4. ڪي ٻوٽا پنهنجي کاڌي جو ذخيرو ٿڙن ۾ گڏ ڪندا آهن. اسان ڪن ٻوٽن جا ٿڙ کائيندا آهيون جهڙوڪ ڪمند.

استاد لاءِ هدايت: شاگردن کي سمجهايو ته اهو ٿڙ جو ڪم آهي ته پاڻيءَ کي پنن ۽ گلن تائين پهچائي. اهو پوري ڪاني (Straw) جيان پاڻي مٿي چوسي يا چڪي ٿو.

سرگرمي:



- گهريل شيون
- هڪ گلاس
- پن گوبي تڙ سميت
- غذائي رنگ (گاڙهو يا نيرو، مس به استعمال
- ڪري سگهجي ٿي)
- پاڻي

طريقيو:

پاڻيءَ سان اڌ گلاس ڀريو، تڙ سميت پن گوبي پاڻيءَ واري گلاس ۾ وجهو، پاڻيءَ ۾ غذائي رنگ ملايو. گلاس ۾ پاڻيءَ جي ليول تي نشان لڳايو. تن ڏينهن تائين چڪاسيندا رهو ته پن گوبي ۽ پاڻي ۾ ڇا ٿو ٿئي؟ هيٺين خاڪي ۾ پنهنجي جانچ جا نتيجا ڄاڻايو.

| پن گوبيءَ جو رنگ | گلاس ۾ پاڻي جي سطح (ليول) | ڏينهن |
|------------------|---------------------------|-------|
| | | .1 |
| | | .2 |
| | | .3 |

هيٺين سوالن جا جواب ڏيو:

(i) شروعات ۾ پن گوبي جو رنگ ڪهڙو هو؟

(ii) تجربي جي پڄاڻي تي پن گوبيءَ جو رنگ ڪهڙو ٿيو؟

(iii) پن گوبيءَ جو رنگ مٽجڻ جو ڪهڙو سبب هو؟

(iv) تڙ جو ڪم ڪهڙو آهي؟

پَنَ

پن، ٻوٽي جي ٿڙ ۽ تارين ۾ ٿيندا آهن. ڪي ڏاڍا سادا پن آهن يعني فقط هڪ پن ٿڙ سان لاڳاپيل هوندو آهي. ڪي وري گڏيل يا گڏيل پن هوندا آهن يعني ڪيترائي پن ٿڙ سان چنبڙيل هوندا آهن.



سادو پن



گڏيل پن

پَنَ گهڻو ڪري ساوا ٿين ٿا. ڪي پن ته سڄو سال ساوا هوندا آهن. اهي سدا-ساوا پن سڌبا آهن ٻيا پن پورا بادامي رنگ جا ٿي ڏانڊيءَ تان ڪري پون ٿا. پنن جا مختلف ڊول ۽ شڪليون آهن، ڪي بنهه ننڍا ته ڪي وڏا پن ٿين ٿا. ڪي پن ته مرڱو سئيءَ وانگر سنها ۽ چنهدار آهن، اهي سادا لسا پن آهن. ته ڪي ڪناريڊار (Margins) ٿين.



سئيءَ جهڙا پن



سادا لسا پن



ڪناريڊار (مارجنس)

پنن جا ڪم ۽ فائدا هيٺ ڏجن ٿا:

1. پن ٻوٽي لاءِ کاڌو تيار ڪن ٿا. اهي پاڻي ۽ ڪاربن ڊاءِ آڪسائيڊ هوا مان کڻن ٿا ۽ سج جي تپش کي جذب ڪري ٻوٽي کي غذا يا کاڌو فراهم ڪن ٿا.



2. اسان ڪن ٻوٽن جا پن کاڌي ۾ استعمال ڪيون ٿا جهڙوڪ پالڪ، قودنو، ساوا ڌاڻا ۽ هڙبو وغيره.



هڙبو



ساون ڌاڻن جا پن



قودني جا پن



پالڪ جا پن








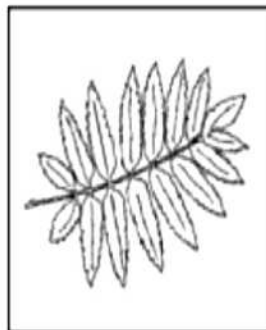

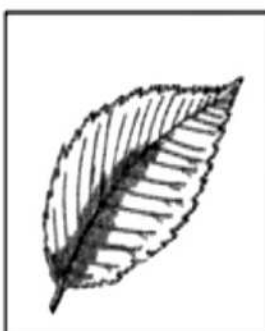
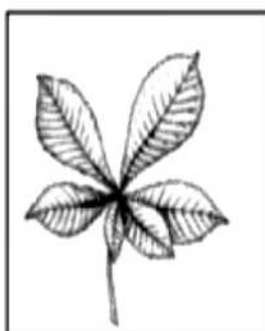

سرگرمي:

هيٺ ڏنل خاڪي جي خانن ۾ مختلف قسمن جا پن ڏيکاريا ويا آهن. (✓) جو نشان لڳايو.

سادن ۽ لسن پنن لاءِ 1 جي انگ تي

گڏيل پنن لاءِ 2 جي انگ تي

سئيءَ جهڙن پنن لاءِ 3 جي انگ تي

| | | | |
|---|---|--|---|
|  |  |  |  |
| 1 2 3 | 1 2 3 | 1 2 3 | 1 2 3 |
|  |  |  |  |
| 1 2 3 | 1 2 3 | 1 2 3 | 1 2 3 |
|  |  |  |  |
| 1 2 3 | 1 2 3 | 1 2 3 | 1 2 3 |

گل

گل ٻوٽن جو رنگين ۽ سهڻو ڀاڱو آهن. گلن جا هيٺيان ڪم ۽ فائدا آهن:

1. گلن جي سهڻي رنگت ۽ وڻندڙ خوشبوءِ پوپٽ ۽ ماکيءَ جي مکين کي پاڻ ڏانهن ڇڪي ٿي. پوپٽ ۽ ماکيءَ جون مکيون ٻوٽي جي ڦرجڻ ۾ مدد ڏين ٿيون.



پوپٽ ۽ ماکيءَ جي مک گلن جي مٿان

2. گلن مان ئي ڪيترا ميوا ٿين ٿا جيڪي اسين مزي سان کائون ٿا جهڙوڪ انب ۽ نارنگيون وغيره. ميوي ۾ بچ ٿئي ٿو جيڪو نون ٻوٽن کي جنم ڏئي ٿو.



انب جي ڪٽڙي (بچ)



پڪل انب



گل ميوون سان گڏ



انب جو وڻ گلن (بور) سان



گلن وارا ۽ گلن کانسواءِ ٻوٽا

3. گل اسان جي ماحول ۾ سونهن پيدا ڪن ٿا.

استاد لاءِ هدايت: شاگردن کي سمجهايو ته ڪهڙي سبب جي ڪري گل تيز ڇٽن ۽ روشن رنگن وارا ٿين ٿا. شاگردن کي ٻڌايو ته ٻوٽن جو ڦر ڪٿي ٿئي ٿو ۽ مئگنيفائنگ گلاس (وڏو ڪري ڏيکاريندڙ شيشي) جي مدد سان ڦر ۽ ٻور جي چڪاس ڪن. هنن کي سمجهايو ته ڦرجڻ جي عمل ۾ هنن جو ڪهڙو ڪردار آهي. ڦرجڻ بابت هنن کي معلومات ڏيو ۽ ٻڌايو ته گل جو ڪم آهي ته بچ تيار ڪري.

سيئي ٻوٽا گل ڪونه ٿا ڏين.
اهي ٻوٽا جيڪي گل ۽ ٻج پيدا ڪن ٿا انهن کي ”گلن وارا“ ٻوٽا سڏجي ٿو.



گلاب جو گل



سورج مڪيءَ جو گل

اهي ٻوٽا جيڪي گل ۽ ٻج پيدا نه ٿا ڪن انهن کي ”گلن کانسواءِ“ ٻوٽا چئبو آهي.



سرگرميون:


1. هيٺين سوالن جا جواب ڏيو:

(i) گل تيز ۽ چٽن رنگن وارا ڇو ٿيندا آهن؟


(ii) ڇا توهان ڪڏهن ڪنهن جيت، پوپت يا ماکيءَ جي مک کي گلن تي وينل ڏٺو آهي؟ اهي جيت اُتي ڇا ٿا ڪن؟

(iii) گلن جا مکيه ڪم ڪهڙا آهن؟

2. هيٺ ڏنل خانن ۾ تصويرون ٺاهي ٻڌايو ته گل مان ميوو (ٻج سميت) ۽ ٻج نئين ٻوٽي ۾ ڪيئن ٿو تبديل ٿئي؟




زيتون جو نئون ٻوٽو



زيتون جو ٻج



زيتون جو ميوو



زيتون جو گل

يونٽ 8 جي پڄاڻي: مشق

1. (الف) هڪ ٻوٽي جي تصوير ٺاهي ان کي رنگ ڏيو، ٻوٽي جي مختلف ڀاڱن تي ليبل (چٽڪي) لڳائي انهن جا نالا لکو.



(ب) ٻوٽي کي اُسرڻ لاءِ ڪهڙين شين / ڳالهين جي ضرورت آهي؟

_____ (i)

_____ (ii)

_____ (iii)

_____ (iv)

2. هيٺيان خال ڀريو. لفظن واري خاني مان صحيح لفظ جي چونڊ ڪريو.

گل - ميوو - ٿڙ - پاڻي - کاڌو

(i) پاڙون زمين مان _____ کڻن ٿيون.

(ii) وڻ جي وچئين سڌي حصي کي _____ چئبو آهي.

(iii) ٻوٽي جي رنگين ڀاڱي کي _____ چوندا آهن.

(iv) پَٺَ، ٻوٽن لاءِ _____ تيار ڪن ٿا.

(v) گلن مان _____ پيدا ٿئي ٿو.

3. تصويرن کي ڏسي، هيٺين سوالن جا جواب ڏيو:



(i) ٻوٽن جا نالا لکو:

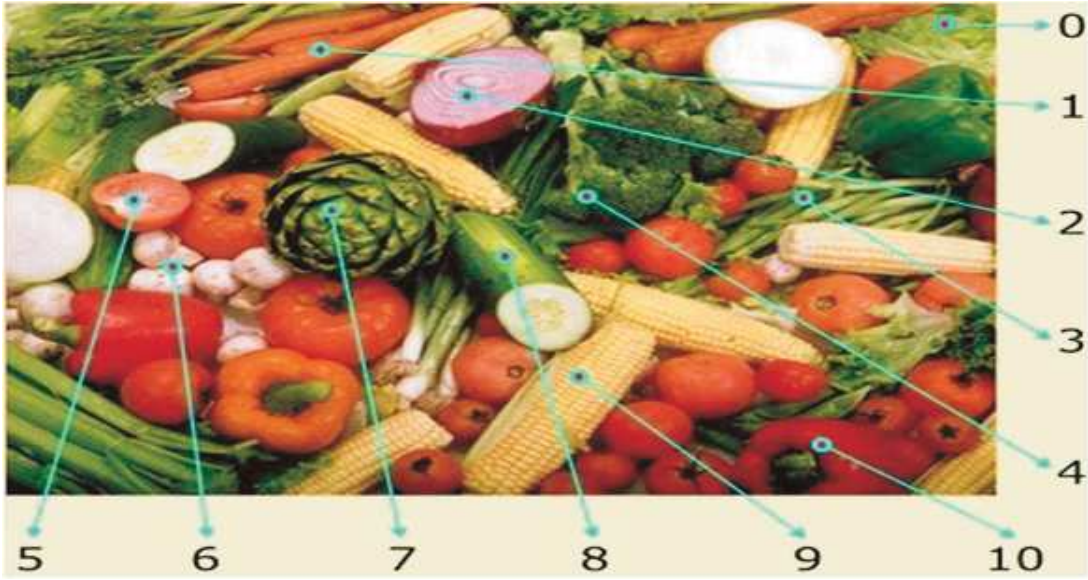
1. _____
2. _____

(ii) ڪهڙي لحاظ سان اهي ٻوٽا هڪجهڙا آهن؟

(iii) هنن ٻوٽن ۾ مختلف ڳالهين ڪهڙيون آهن؟

(جيڪي به مختلف ڳالهين، اوهان ڳولي سگهو، انهن جي تلاش ڪيو. هنن جي پنن، ڏانڊين/ٿڙن، تارين گلن ۽ ميون (جيڪڏهن هجي ته) (اهڙو خاڪو تيار ڪيو جهڙو ٽيڪسٽ ڪاپيءَ ۾ ڏنل آهي).

3. (الف) هيٺ ڏنل تصوير کي چڱيءَ طرح چڪاسيو. ڪن پاڇين تي 0 کان 10 تائين جا انگ ڏنا ويا آهن. ٻڌايو ته اها پاڇي ٻوٽي جو ڪهڙو ڀاڱو سڏجي ٿي.



هيٺ ڏنل خاڪي کي مڪمل ڪيو.

| انگ | پاڇيءَ جو نالو | ٻوٽي جو ڀاڱو |
|-----|----------------|--------------|
| 0 | | |
| 1 | | |
| 2 | | |
| 3 | | |
| 4 | | |
| 5 | | |
| 6 | | |
| 7 | | |
| 8 | | |
| 9 | | |
| 10 | | |


(ب) هيٺ ڪن ٻوٽن جون تصويرون ڏيون ويون آهن. ڏنل ليڪ تي لکو ته اهو ”گلن“ وارو“ ٻوٽو آهي يا ”گلن کانسواءِ“.














1. پنهنجي پسند جي ميوي جي ٻج سميت تصوير ٺاهيو.



2. ٻوٽا اسان لاءِ ڪهڙين ڳالهين جي ڪري ڪمائتا ۽ فائديمند آهن؟ لفظن واري خاني مان لفظن جي چونڊ ڪريو.

صاف هوا - کاڌو - پکين جي پناهه گاهه - اسان لاءِ چانو - ڪاٺ - سهڻو ماحول
فرنيجر - پنو - ڪپڙو - دوا - پارٽي - ڪپهه

| اسان ٻوٽن مان ٺاهيون ٿا | ٻوٽا ڏين ٿا |
|-------------------------|-------------|
| | |
| | |
| | |
| | |

استاد لاءِ هدايت: ٻارن کي چڱي طرح سمجهايو ته ٻوٽن جي ڪهڙي اهميت آهي. کين اهو به سمجهايو ته جيڪو اسان ٻوٽن مان حاصل ڪيون ٿا ۽ جيڪي اسان ٻوٽن مان ٺاهيون ٿا ان وچ ۾ ڪهڙو فرق آهي.

3. ٻن ميون جا نالا لکو جن ۾ بچ آهي وري ٻن اهڙن ميون جا نالا لکو جن ۾ بچ ناهي.

(الف) ٻه ميوا جن ۾ بچ آهي:

_____ (i) _____ (ii)

(ب) ٻه ميوا جن ۾ بچ ناهي:

_____ (i) _____ (ii)

جانچ:

4. ٻه پنن وارا ٻوٽا کڻو. هڪ ٻوٽي جا پن ڏاڍي خبرداريءَ سان ڌار ڪيو. ٻنهي ٻوٽن کي اس ۾ رکو ۽ ڪجهه هفتن لاءِ باقاعديءَ سان انهن کي پاڻي به ڏيندا رهو ۽ انهن جي سنڀال به ڪندا رهو. جيڪڏهن ان ٻوٽي ۾ جن جا پن توهان چئي ڇڏيا هئا، نوان پن ظاهر ٿين ته انهن کي پٽي ڇڏيو. چڱيءَ طرح جانچي ڏسو ته ٻنهي ٻوٽن ۾ ڪهڙيون تبديليون ۽ اثر ظاهر ٿين ٿا. انهن کي پٽي تي لکو.

بيشڪ، پنن کانسواءِ ٻوٽو کاڌو پيدا ڪري نه سگهندو ۽ مري ويندو.

يونٽ 9: اسان جي آسپاس رهندڙ جانور

شاگردن جي سکيا جا نتيجا (SLOs) Students Learning Outcomes

باب پهريون: اسان جي آسپاس رهندڙ جانور

هن باب جي پڄاڻيءَ تي شاگرد اهو سکي ۽ ڄاڻي ويندا ته:

- انهن جانورن بابت ٻڌائي سگهن جيڪي هو پنهنجي ماحول ۾، هوا، پاڻي ۽ زمين تي ڏسن ٿا.
- هو، اهو به سمجهي ويندا ته جيڪي جانور خشڪيءَ تي رهن ٿا، اهي هوا ۽ پاڻيءَ ۾ رهندڙ جانورن کان ڪيترين ڳالهين ۾ مختلف آهن.

باب ٻيو: جانورن جي رهڻ جا هنڌ ۽ جايون

هن باب جي پڄاڻيءَ تي شاگرد اهو سکي ۽ ڄاڻي ويندا ته:

- سڀني جانورن کي ٻچا آهن جيڪي وڏي وڏا ٿين ٿا.
- مختلف جانورن ۽ انهن جي ٻچن کي ڪهڙن نالن سان سڏجي ٿو. (گهوڙو: وچيرو-هنج پڪي: سگنيٽ، ڏيڏر: ڏيڏرڙو (tadpole)- پوپٽ:

باب ٽيون: جانورن جي رهڻ جون جايون

هن باب جي پڄاڻيءَ تي شاگرد اهو سکي ۽ ڄاڻي ويندا ته:

- جانورن کي به پنهنجي گهرن ۽ پناهه جي ضرورت آهي.
- جانورن جي رهڻ جي هنڌن ۽ جاين جي نالن بابت ڄاڻ

باب چوٿون: جانور ۽ انهن جا ڦر ۽ ٻچا

هن باب جي پڄاڻيءَ تي شاگرد اهو سکي ۽ ڄاڻي ويندا ته:

- ڪن جانورن جا ٻچا پنهنجي وڏن جهڙا نظر نه ايندا آهن (ڏيڏر ۽ پوپٽ).
- انهن جانورن بابت ٻڌائي سگهن جيڪي پنهنجي ٻچن کي کير پيارين ٿا ۽ انهن جي تيسٽائين سار سنڀال لهن ٿا، جيسين اهي وڏا نه ٿا ٿي وڃن.

اسان جي آسپاس رهندڙ جانور

اسان جي چوڌاري ڪيترائي جانور رهن ٿا. ڇا توهان انهن مان ڪن جانورن جا نالا ٻڌائي سگهو ٿا؟



جانور به اسان جيان ساهوارا آهن. هنن کي به زنده رهڻ لاءِ پاڻي، کاڌي، هوا ۽ گهر جي ضرورت آهي. اهي هلي ڦري، وڌي ويجهي سگهن ٿا. انهن کي ٻچا به ٿين جيڪي وڏا ٿي جوان ٿين ٿا.

سرگرمي:

ڪن به اهڙن پنجن (5) جانورن جا نالا لکو جيڪي توهان جي آسپاس ماحول ۾ موجود آهن.

- (i) _____
- (ii) _____
- (iii) _____
- (iv) _____
- (v) _____

جانورن جي رهڻ جا هنڌ ۽ جايون

جانور مختلف هنڌن تي رهڻ ٿا. انهن کي خشڪيءَ جا جانور چئجي ٿو.



کتو



ڊگي




گهوڙو

خشڪي تي رهندڙ ڪن جانورن کي هلڻ ۽ ڊوڙڻ لاءِ تنگون آهن ۽ ٻيا ريڙهيون پائي اڳتي وڌن ٿا.



سانپو



نانگ

ڪي جانور جهڙوڪ پکي ۽ جيت زمين تي به رهڻ ٿا ته هوا ۾ به اڏامي سگهن ٿا. انهن کي خشڪيءَ تي هلڻ لاءِ تنگون ۽ هوا ۾ اڏامڻ لاءِ پر هوندا آهن، هنن جا جسم ڏاڍا هلڪا ٿين ٿا تنهن ڪري سولائيءَ سان اڏامي سگهن ٿا.



مک



کبوتر




ڪاڪروچ

ڪي جانور پاڻيءَ ۾ رهن ٿا. انهن کي ”آبي“ يا ”پاڻيءَ جا جانور“ سڏجي ٿو. انهن جانورن جا جسم سنها آهن ۽ اهي ڪنپڙائين جي مدد سان تري سگهن ٿا.



پاڻيءَ جا جانور (مختلف مڇيون)

ڪي جانور پاڻيءَ ۽ خشڪيءَ تي رهن ٿا. انهن کي reptiles ريٽھيون پائيندڙ جانور (سُرنڌڙ ساھ وارا) سڏبو آھي. انهن کي خاص قسم جا پير ٿين ٿا، جن جي مدد سان هو زمين تي هلي ۽ پاڻيءَ ۾ تري سگهن ٿا.



واڳون پاڻيءَ ۾



واڳون خشڪيءَ تي



ڪُمي پاڻيءَ ۾



ڪُمي خشڪيءَ تي

ڇا توهان کي خبر آهي؟

ڪي جانور برفاني علائقن ۾ رهن ٿا. هنن جي جسم تي پشم هوندي آهي جيڪا انهن کي سرديءَ کان محفوظ رکي ٿي. مثال برفاني رڇ.



اُن بيابان ۾ رهندا آهن. انهن کي ٿوھا هوندا آهن جن ۾ پاڻيءَ ۽ کاڌو ڪيترن هفتن لاءِ ذخيرو ڪري رکندا آهن.



1. خاني ۾ ڄاڻايل جانور هيٺ ڏنل تصوير ۾ ڪهڙي جاءِ تي رهن ٿا.

مڇي- طوطو- ڏيڏر- بدڪ- پولڙو- نانگ- هرڻ



2. هيٺين خانن ۾ ٽن جانورن جا نالا لکو:

- (i) چئن تنگن وارا جانور _____، _____، _____
- (ii) پرن وارا جانور _____، _____، _____
- (iii) سُرندڙ جانور ريتڙهيون پائيندڙ جانور _____، _____، _____
- (iv) ڪنپڙائين وارا جانور _____، _____، _____

3. هيٺين سوالن جا جواب ڏيو:

- (i) پکي پنهنجي پرن سان ڇا ڪندا آهن؟ _____
- (ii) مڇي پنهنجي ڪنپڙائين سان ڇا ڪندي آهي؟ _____
- (iii) پنهنجي جاريڊار يا جهليدار پيرن سان بدڪ ڇا ٿي ڪري سگهي؟ _____
- (iv) گهوڙو پنهنجي تنگن سان ڇا ٿو ڪري؟ _____
- (v) جيت پنهنجي پرن سان ڇا ٿا ڪن؟ _____

استاد لاءِ هدايت: شاگردن کي سمجهايو ته قدرت طرفان جانورن کي ڌار ڌار جسماني بناوتون عطا ڪيل آهن ته جيئن انهن کي پنهنجي ماحول ۾ رهڻ ۾ سهوليت ٿئي. مثال طور زميني جانورن کي تنگون آهن ته جيئن هلي ۽ ڊوڙي سگهن. مڇين جا جسم هلڪا ۽ سنڀا آهن. ڪنپڙائين ذريعي پاڻي ۾ سولائيءَ سان تري سگهن ٿيون.

جانورن جي رهڻ جون جايون

اسان وانگر جانور به گهرن ۾ رهڻ ٿا. انهن جا گهر مختلف قسمن جا هوندا آهن جيڪي هنن کي جُهڙي ڦُڙي ۽ گرمي سرديءَ کان محفوظ رکن ٿا ۽ پڻ دشمنن جي حملي کان بچائين ٿا. ڪي جانور قدرتي ماحول ۾ رهڻ ٿا، ته ڪي وري پنهنجا گهر ۽ رهڻ جون جايون ٺاهي انهن ۾ رهڻ.



شينهن، چيٽا ۽ رچ چُون ۾ رهڻ جن کي غارون چوندا آهن.



ڪي جانور زمين اندر پرن ۾ رهڻ. انهن جي گهرن کي ڏر يا چُر چون. سها، نوريئڙو ۽ انڌا ڪئا (Moles) زمين ۾ پرڪري انهن ۾ رهڻ.

ڪي جانور وڻن ۾ رهڻ. پولڙا ۽ جيت وڻن تي رهڻ ٿا.





پڪي پنهنجا گهر وٺڻ ۾ ٺاهين.
انهن جي گهرن کي آڪيرا چئبو آهي.

ماڪيءَ جي مک جو گهر سندس مانارو
هوندو آهي.



ڪوريٽرو پنهنجو چار اُٽي اُن ۾ رهي.

مڇي پاڻيءَ ۾ رهي. پاڻي سندس گهر
آهي.



1. هيٺين آکاڻي پڙهي سوالن جا جواب ڏيو:

ننڍڙو بَني (Bunny)


هڪڙي ڏينهن شاهي شينهن پنهنجي جنم ڏينهن تي، جهنگ جي سڀني جانورن کي دعوت ڏني. سڀ جانور آيا پر موگي مڇي ڪانه آئي ڇاڪاڻ ته اها پاڻيءَ کان سواءِ زندهه رهي نه ٿي سگهي. سڀني جانورن کي دعوت ۾ ڏاڍو مزو آيو. جڏهن پارتي ختم ٿي ته سڀ پنهنجي گهرن ڏانهن روانا ٿيا سواءِ ننڍڙي بَني جي. هن جا ماءُ پيءُ ڏاڍا پريشان ٿيا جڏهن هو پنهنجي ڀر ۾ ڪونه پهتو. ٻئي بَنيءَ کي ڳولڻ لاءِ جهنگ ۾ نڪري پيا. پهريان هو اينٿوني ماکوڙيءَ جي ٽڪريءَ تي ويا پر اتي ننڍڙي بَني ڪانه هئي پوءِ اهي شاهي شينهن جي غار ڏانهن ويا. سگهاري سرڻ جي آڪيري ۾ ڏٺائون پر هن جو پتو نه پيو. ننڍڙي بَنيءَ جي ماءُ پيءُ سان جهنگل جا ٻيا سڀ جانور گڏجي بَنيءَ کي ڳولڻ لڳا، شرارتي پولڙي هنن کي پنهنجي وٽ تان آواز ڏنو ته هن ننڍڙي بَنيءَ کي درياءَ جي طرف ويندو ڏٺو هو. سڀ جانور اوڏانهن ويا ته بَني کين ملي ويو. ننڍڙي بَنيءَ هنن کي ٻڌايو ته هو موگي مڇيءَ ڏانهن ويو هو ته جيئن هن کي خوش ڪري سگهي ڇاڪاڻ ته دعوت ۾ نه اچي سگهڻ جي ڪري هوءَ ڏاڍي اداس ٿي وئي هئي. سڀني جانور بَنيءَ جي انهيءَ ڳالهه تي فخر محسوس ڪرڻ لڳا. هنن کي اتي موگي مڇيءَ سان ٻي دعوت کائيندي ڏاڍو مزو آيو.



استاد لاءِ هدايت: ڪلاس ۾ شاگردن کي آکاڻي پڙهي ٻڌايو ۽ انهن کان زباني سوالن جا جواب پڇو.

- (i) جهنگ جي جانورن کي جنم ڏينهن جي دعوت ڪنهن ڏني؟ _____
- (ii) ننڍڙي ٻنيءَ کي ڳولڻ لاءِ هن جا ماءُ پيءُ پهريان ڪاڏي ويا؟ _____
- (iii) غار ۾ ڪير رهندو هو؟ _____
- (iv) شرارتي پولڙو ڪٿي رهندو هو؟ _____
- (v) ننڍڙو ٻني هنن کي ڪٿي لڌو؟ _____
- (vi) ننڍڙو ٻني درياءُ پاسي ڇو ويو هو؟ _____

2. جانور مختلف جاين تي رهندا آهن. ليڪ ڪڍي، جانور کي پنهنجي رهائش واري هنڌ يا گهر سان ملايو.



جانور ۽ انهن جا ڦر ۽ ٻچا

سڀني جانورن کي ڦر يا ٻچا ٿين. ڪي جانور جهڙوڪ ڪڪڙيون، ڪچون ۽ نانگ آنا لاهين. اهي آنن تي آرو ڪن ۽ ڪجهه ڏينهن کانپوءِ انهن مان ٻچا ڦٽن.



ڪڪڙ



ڪچون



نانگ

سرگرمي:

پکين جي ٻچن کي چوڙا چوندا آهن. تصويرون سامهون ڏنل جملن جي لحاظ سان هيٺ مٿي ٿيل آهن. ليڪ ذريعي تصوير کي صحيح جملي سان ملايو.

1. پکي آکيرو ٺاهين ٿا.

2. ماءُ آکيري ۾ آنا لاهيندي آهي.

3. آنن کي گرم رکڻ لاءِ، پکي آرو ڪندا آهن.

4. آنا ڦٽندا ته انهن مان ٻچا نڪرندا.

5. مائٽ چوڙن کي چڱائيندا آهن.



ڪي جانور جهڙوڪ ڍڳي، هاڻي ۽ پولٽا پڇا چڻين ٿا.



ماءُ پنهنجي پڄن يا ڦرن جي جوان ٿيڻ تائين سار سنڀال لهي ٿي.



اهي هر قسم جي ايڏاءُ ۽ تڪليف کان انهن جو بچاءُ ڪن ٿيون ۽ پنهنجي ڦرن کي ڌارائين ٿيون.

سرگرمي:

هيٺ ڏنل تصويرن کي ڏسو. هڪ جانور-ماءُ پنهنجي جانور-بيبي جي ڪهڙي ريت مدد ڪري رهي آهي. لفظ-خاني مان صحيح جواب چونڊيو.

ڪٿي هلڻ وهنجارڻ ڪارائڻ پيار ڪرڻ بچائڻ



ڪن جانورن جا نوان ڄاول پڇا جهڙوڪ بدڪ جا پڇا، پليءَ جا پلونگڙا ۽ ڪتن جا گلر بلڪل پنهنجي مائٽن جهڙا لڳندا آهن.



ڊڳي گابي سان




پلي پلونگڙن سان



بدڪ بدڪڙين سان

ڪن جانورن جا نوان ڄاول پڇا پنهنجي مائٽن کان نرالا لڳندا آهن. جيئن جيئن انهن ۾ واڌ ايندي آهي، تيئن تيئن اهي تبديل ٿيندا ويندا آهن. مثال طور هڪ ڏيڏرڙو (tadpole) ڄمڻ مهل هوبهو مڇيءَ جهڙو هوندو آهي. جيئن اهو وڏو ٿيندو ويندو آهي، ته هن جو پُڇ گم ٿي ويندو آهي ۽ اهو بلڪل ڏيڏر جهڙو لڳندو آهي.



پت ڪيٽون وڏي پوپٽ بڻجي ٿو



نڍڙو ڏيڏرڙو وڏي ڏيڏر بڻجي ٿو

استاد لاءِ هدايت: شاگردن کي ٻڌايو ته سڀني جانورن کي پنهنجا پڇا آهن. ڪي پڇا مائٽن جهڙا ته ڪي انهن کان مختلف آهن. جيڪي مختلف آهن اهي تبديليءَ جي عمل مان گذرن ٿا جنهن کي زندگيءَ جو چڪر/دائرو يا ”لائيف سائيڪل“ چوندا آهن.

1. نظر ”جانورن جي ماءُ“ ياد ڪريو ۽ پنهنجي ڪلاس جي ساٿين کي پڙهي ٻڌايو.

”جانورن جي ماءُ“



ماءُ پنهنجي ٻچن سان پيار ڪري ٿي انهن کي صاف سٿرو ۽ گرمي سرديءَ کان محفوظ رکي ٿي انهن لاءِ ماني ۽ پاڻي آڻي ٿي انهن کي وهنجاري سهنجاري اچو اجرور رکي ٿي رات جو پنهنجي ڪوڙيءَ سان لائي سمهي ٿي ماءُ پنهنجي ٻچن سان ڏاڍو پيار ڪري ٿي هوءَ پنهنجي سموري سگهه سان انهن سان محبت ڪري ٿي

(الف) ڪن به ٻن جانورن جي ٻچن جا نالا لکو، جيڪي پنهنجي مائٽن جهڙا نٿا لڳن.

_____ (i) _____ (ii)

(ب) ڪن به ٻن جانورن جي ٻچن جا نالا لکو، جيڪي پنهنجي مائٽن جهڙا لڳن.

_____ (i) _____ (ii)

(ج) ڇا توهان پنهنجي مائٽن جهڙا لڳو ٿا؟ توهان ۽ توهان جي والدين ۾ هڪجهڙائي لکو.

ڪن جانورن جي ٻچن کي خاص نالن سان سڏجي ٿو.



ٻليءَ جي ٻچي کي ٻلونگڙو (kitten) چون .



ڪتي جي ٻچي کي گلر (Puppy) سڏين .



هنج پکي جي ٻچي کي سگنيت (cygnet) چون .



بدڪ جي ٻچڙي کي بدڪڙي (duckling) سڏين .



ڍڳيءَ جي ڦر کي گابو/گابي (calf) سڏين .



رڍ جي ڦر کي گهيتڙو (lamb) سڏين .



گهوڙي جي ٻچي کي وچيرو (foal) چون .

”الف“ خاني ۾ جوان/ وڏن جانورن جا نالا ڏنا ويا آهن. ”ب“ خاني ۾ انهن جي بچن جا نالا لکو. هڪ جو جواب ڏنو ويو آهي.

| ”الف“ خانو | ”ب“ خانو |
|------------|----------|
| ري | گهيٽڙو |
| بلي | |
| کتو | |
| ڪڪڙ | |
| ڍڳي | |
| ڏيڏر | |
| گهوڙو | |
| پوپت | |
| بدڪ | |
| شينهن | |
| بڪري | |

يونٽ 9 جي پڄاڻي: مشق

1. سهي جي چُر ۽ ڪورٽيڙي جي چار جون تصويرون ٺاهيو.

| | |
|--|--|
| | |
|--|--|

2. هيٺين جانورن جي گهرن جا نالا لکو:

- (i) شينهن _____ ۾ رهندا آهن.
- (ii) چمڙا _____ ۾ رهندا آهن.
- (iii) پڪي _____ ۾ رهندا آهن.
- (iv) پولڙا _____ تي رهندا آهن.
- (v) گهوڙا _____ ۾ رهندا آهن.
- (vi) ڊگيون _____ ۾ رهنديون آهن.
- (vii) سها _____ ۾ رهندا آهن.

3. هنن جانورن کي انهن جي بدني بناوت ڪهڙي ريت ڪم اچي ٿي. خاني مان مناسب لفظن جي چونڊ ڪريو.

نوٽ: ساڳيو لفظ هڪ کان وڌيڪ دفعا استعمال ڪري سگهجي ٿو.

بچاءُ ڪرڻ- پنن ۽ ڏانڊي کي غذا لاءِ پيڇڻ- کاڌو کائڻ- ترڻ-
گوشت کائڻ- کاڌي ۽ پاڻي کي گڏ ڪري رکڻ- ٿڌ کان بچڻ

- (i) رچ جي بدن تي گهائڻ وارن جي بچ هن کي _____ ۾ مدد ڪري ٿي.
- (ii) اٺ جو ٿوهو/ ڪوهو _____ ۾ هن جي مدد ڪري ٿو.
- (iii) شينهن جا سنهڙا، تڪا ۽ مضبوط ڏنڊ _____ ۾ هن جي مدد ڪن ٿا.
- (iv) مچيءَ جون ڪنپڙائون _____ ۾ هن جي مدد ڪن ٿيون.

- (v) بدڪ جا ڪُنڊيل پير، هن کي _____ ۾ مدد ڏين ٿا.
- (vi) پڪين جي چُهنب انهن جي _____ ۾ مدد ڪري ٿي.
- (vii) هاٿيءَ جي سونڊ هن جي _____ ۾ مدد ڏئي ٿي.
- (viii) ڪُميءَ جي ٿلهي ڪل ڪوپو ان جي _____ مدد ڪري ٿو.
- (ix) ڍڳيءَ جا سڱ ان جي _____ ۾ مدد ڪن ٿا.

4. (i) ان جانور کي چوڌاري گول پايو، جيڪو ٻين کان مختلف آهي.
- (ii) ٻڌايو ته اهو ڪيئن مختلف آهي؟

(الف) (i) ٻلي (ii) ڍڳي (iii) ڪتو (iv) ڪُڪڙ

چو؟

(ب) (i) ڪانءُ (ii) گهوڙو (iii) طوطو (iv) گيرو

چو؟

(ج) (i) پت ڪينئون (ii) مڇي (iii) ڪرڙي (iv) نانگ

چو؟

(د) (i) پوپٽ (ii) ڊولفن مڇي (iii) استار فش (مڇي) (iv) وهيل مڇي

چو؟

(ه) (i) واڳون (ii) ڏيڏر (iii) پولڙو (iv) ڪچون (ٿرٿل)

چو؟

استاد لاءِ هدايت: شاگردن طرفان ڏنل سڀني صحيح فرقن ۽ تفاوتن کي قبول ڪيو. مثال طور (الف) ”ڪُڪڙ“ انهن ۾ مختلف آهي. فرق اهو آهي ته ٻلي، ڍڳيءَ ۽ ڪتي کي چار تنگون آهن مگر ڪُڪڙ کي ٻه تنگون آهن. ٻلي صرف هلي سگهي ٿي جڏهن ته ڪُڪڙ هلي ۽ اڏامي به سگهي ٿي. ڪڪڙ کي ڪنڀ آهن پر ٻلي، ڍڳي ۽ ڪتي کي ڪنڀ ناهن. شاگردن جي همت افزائي ڪريو ته هو جنهن ماحول ۾ رهن ٿا ان جي چڱيءَ طرح جانچ ۽ چڪاس رکن ته هو ڪهڙي هنڌ رهن ٿا ۽ ڇا ڪئن ٿا.

5. جانور مختلف طريقن سان چُرپُر ڪن ٿا. ”الف“ خاني ۾ جانورن جا نالا ڏنل آهن. ”ب“ خاني ۾ ٻڌايو ته اهي ڪهڙي ريت چُرپُر ڪن ٿا. هيٺ ڏنل ”خاني“ مان صحيح لفظ ڳوليو ۽ خاڪي کي مڪمل ڪريو (نوٽ: هڪ لفظ هڪ کان وڌيڪ ڀيرا استعمال ڪري سگهجي ٿو).

سُرِي ٿو- اڏامي ٿو- ٽپا ڏئي ٿو- ڊوڙي ٿو- پڇي ٿو- تري ٿو- هلي ٿو

| ”الف“ خانو جانور جو نالو | ”ب“ خانو اهي چُرپُر ڪيئن ڪن ٿا؟ |
|-----------------------------|------------------------------------|
| ڍڳي | |
| شينهن | |
| گهوڙو | |
| مڇي | |
| طوطو | |
| پت ڪينٽون | |
| ڪئنگرو | |
| ڪانءُ | |

6. پنهنجي آسپاس موجود جانورن جا نالا لکو. هر هڪ جانور اسان جي ڪهڙي ڪم اچي ٿو.

| جانور جو نالو | اسان جي ڪهڙي ڪم اچي ٿو |
|---------------|------------------------|
| | |
| | |
| | |
| | |

شاگردن جي سکيا جا نتيجا (SLOs) Students Learning Outcomes

باب پهريون: گهرجن جي پورائي لاءِ ڌرتي جا وسيلا استعمال ڪرڻ

- هن باب جي پڄاڻيءَ تي شاگرد اهو سکي ۽ ڄاڻي ويندا ته:
- انسان پنهنجي ضرورتن جي پورائي لاءِ زمين جي وسيلن کي استعمال ڪن ٿا. (زمين پوک وغيره لاءِ ۽ درياءَ ۽ سمنڊ مڇي وغيره مارڻ لاءِ).
 - قدرتي طور حاصل ڪيل (مادن) وسيلن ۽ انهن مان پنهنجي محنت سان ٺاهيل شين ۾ فرق محسوس ڪرڻ.

باب ٻيو: پوک

- هن باب جي پڄاڻيءَ تي شاگرد اهو سکي ۽ ڄاڻي ويندا ته:
- پاڪستان ۾ مکيه فصل ڪهڙا اُپايا وڃن ٿا ۽ ڪهڙن جانورن جي پالنا ڪئي ٿي وڃي.
 - ان ڳالهه کي سمجهڻ ته ماڻهو اُپايل فصلن کي ڪهڙيءَ ريت (خاص عمل ذريعي) تبديل ڪري پنهنجي ڪتب آڻين ٿا. (ڪپهه مان ڏاڳو ٺاهڻ، ڏاڳي مان ڪپڙو ٺاهڻ ۽ ڪپڙي مان مختلف لباس ٺاهڻ وغيره).
 - مارڪيٽ ۾ وڪرو ٿيندڙ عام ٺهيل شين جي اصلي قدرتي وسيلي جي ڄاڻ رکڻ (ڪٽڪ مان بسڪوٽ ٺهڻ ٿا).

باب ٽيون: عمارتن ٺاهڻ ۾ ڪتب ايندڙ سامان ۽ اوزار

- هن باب جي پڄاڻيءَ تي شاگرد اهو سکي ۽ ڄاڻي ويندا ته:
- عمارتون ٺاهڻ ۾ ڪهڙو مال ۽ اوزار استعمال ٿين ٿا؟
 - مادن جي انهن خاصيتن کي معلوم ڪرڻ، جن جي ڪري انهن کي اڏاوتي مقصدن لاءِ استعمال ڪجي ٿو.
 - ڏنل تصويرن مان دنيا جي مشهور عمارتن کي سڃاڻڻ.
 - عمارتن جي اڏاوت ۾ ڪهڙي قسم جي ڪمن ۽ ڪم ڪندڙن جي ضرورت پوي ٿي. (رازڪو ڪم- واڍي جو ڪم- رنگ واري جو ڪم- نلڪا ۽ سينٽريءَ جو سامان لڳائڻ وارن جو ڪم وغيره).

گهرجن جي پورائي لاءِ ڌرتي جا وسيلا استعمال ڪرڻ

قدرت طرفان انسانذات کي ڪيترائي قدرتي وسيلا مهيا ڪيا ويا آهن جهڙوڪ: پاڻي، هوا، زمين، پيلا ۽ معدنيات. اسان انهن وسيلن کي استعمال ڪري پنهنجي ضرورتن جو پوراڻو ڪري سگهون ٿا.



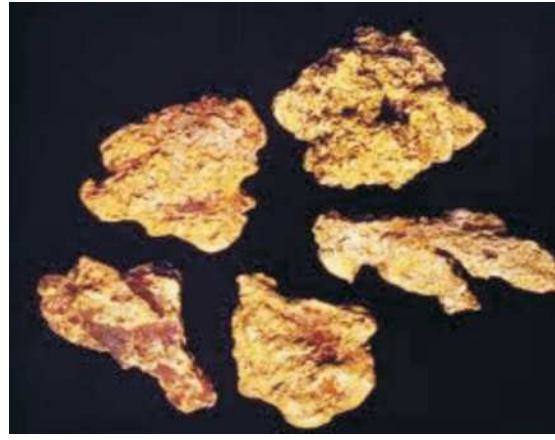
زمين تي فصل اُٻائڻ



سمند ۾ مڇي مارڻ



ڪاڻ مان فرنيچر وغيره ٺاهڻ




سون مان زيور ٺاهڻ

سون، ٽامو (Copper)، لوهه، ڪوئلو ۽ ڪاڻ قدرتي طور حاصل ٿئي ٿو.

اسان انهن قدرتي مادن، ذاتن ۽ وسيلن مان بيشمار شيون ٺاهيون ٿا. ڪاٺ مان فرنيچر، لوهه مان ديگڙا، ديگڙيون، تيون، ٿرٿيون ۽ سون چاندي مان زيور زڙا ٺاهيون ٿا.

سرگرميون:

1. اشارن جي مدد سان ڪراس- ورڊ (آڏا سڌا لفظ) کي مڪمل ڪريو.



سڌا

(1) سمنڊ مان حاصل ٿئي ٿي.

(2) فرنيچر مان ٺهي ٿي.


(3) تارون/واٽرون مان ٺهن ٿيون.

مٿان کان هيٺ

(1) هاري ۾ ڪم ڪري ٿو.

(2) زيور مان ٺهن ٿا.

2. قدرتي مادي کي ان شيءِ سان ملايو، جيڪا ان مادي مان ٺهي تيار ٿي آهي.



پوک

توهان پڙهي آيا آهيو ته زمين جو گهڻو ڀاڱو پوک يا زراعت هيٺ آهي. هاري ڪيترائي فصل پوکين ٿا ۽ جانورن جي پالنا ڪن ٿا. ان ذريعي کاڌ خوراڪ ۽ ڪپڙي لٽي جون اسان جون ضرورتون پوريون ٿين ٿيون. هيٺين تصويرن کي ڏسو. انهن ۾ اوهان کي سنڌ جا مکيه فصل نظر ايندا.



ڪپهه



ڪڻڪ



ڪمند



چانور

سرگرمي:

پاڪستان ۾ پيدا ٿيندڙ پنجن مکيه فصلن جا نالا لکو:

فصلن مان ڪيتريون شيون ٺاهجن ٿيون. هيٺين تصويرن کي ڏسو. انهن مان اسان کي خبر پئي ٿي ته ڪيئن نه ڪپهه ۽ ڪڙڪ جي اُڀايل فصلن مان اهي شيون ٺهن ٿيون.



ڪپهه ← ڏاڳو ← سوتي ڪپڙو ← پائڻ جو تيار لباس قميص

ڪڙڪ کي پيهي اٽو ٺاهين ٿا. ان کانپوءِ اُن مان بريد ۽ ماني وغيره ٺاهي وڃي ٿي.



ڪڙڪ ← اٽو ← ماني

سرگرمي:

هيٺ ڄاڻايل شيون ڪهڙي قدرتي وسيلي مان ٺهن ٿيون. انهن مان هڪ اوهان جي سهوليت لاءِ حل ڪيو ويو آهي.

(i) بسڪوٽ ← ڪڙڪ

_____ ← (ii) زيور

_____ ← (iii) تافي

_____ ← (iv) ڪارن آئل

_____ ← (v) فرنيچر

هيٺين تصويرن کي ڏسو. ڇا توهان انهن ۾ ڏيکاريل جانورن کي سڃاڻي سگهو ٿا؟



اهي سڀ جانور پاڪستان ۾ پالبا وڃن ٿا. اهي جانور اسان جون غذائي ضرورتون پوريون ڪن ٿا. اسين ڪڪڙين جو گوشت ۽ آنا کائيندا آهيون. اسين ڍڳين، مينهن، پڪرين ۽ رڍن جو کير پيئندا آهيون ۽ گوشت کائيندا آهيون. کير مان مڪڻ، لسي، ڏهي ۽ چيز (Cheese) ٺهي ٿي. اسين کير مان ڪيتريون مٺيون شيون به تيار ڪريون ٿا.



آنا

کير

مڪڻ

جانورن جي کلن مان چمڙو ٺهي ٿو. چمڙي مان بوت، جئڪيٽون ۽ بئگون تيار ڪيون وڃن ٿيون.



بوت، بيلٽ ۽ هٿ جا پرس ۽ بيگون چمڙي مان ٺهن ٿيون

رڱيل چمڙو سُڪي رهيو آهي

کلن کي رنگيو پيو وڃي

جانورن جي کلن تان وار لٽا پيا وڃن

رڍن جي اُن ڪتري ان مان گرم سٺيتر ۽ توپيون ٺاهيون وڃن ٿيون.



رڍن جي اُن ڪتري پئي ← اُن مان اوني ڏاڳو ← اوني ڏاڳي مان مختلف رنگن جي پشم ٺاهي وڃي ٿي ← اُن يا پشم کي اُٿي توپيون، شالون ۽ سٺيتر وغيره ٺاهجن ٿا

سرگرمي:

هيٺين سوالن جا جواب ڏيو:

1. پاڪستان ۾ جيڪي جانور پالبا وڃن ٿا، انهن جا نالا لکو.

(i) _____ (ii) _____ (iii) _____
2. ڪن به ٽن اهڙن جانورن جا نالا لکو جن جو کير اسان پيئندا آهيون.

(i) _____ (ii) _____ (iii) _____
3. کير مان ٺهيل ڪن به ٽن شين جا نالا لکو جيڪي اوهان کائيندا آهيو.

(i) _____ (ii) _____ (iii) _____
4. جانورن جي ڪلن مان ٺهيل ڪن به ٽن شين جا نالا لکو.

(i) _____ (ii) _____ (iii) _____

عمارتن ناهڻ ۾ ڪتب ايندڙ سامان ۽ اوزار

اسان کي رهڻ لاءِ گهر ڪپي. اسان کي اسڪولن، اسپتالن، واپاري مرڪزن ۽ آفيسن لاءِ عمارتن جي ضرورت آهي.



قدرتي شين مان ٺهيل ڪچو گهر

اسان کي جاءِ اڏڻ لاءِ گاري جي مٽي، واري، بجري، ريتي پٿر، تاريون چانپ ۽ ڪاٺ وغيره گهرجي. ان سان گڏوگڏ اسان کي انسان جو ٺاهيل سامان جهڙوڪ ڪنڪريٽ، پلاسٽڪ ۽ ڪاٺو (شيشو) پڻ جايون ناهڻ ۾ ڪم اچي ٿو.



انسانن جو ٺهيل مٽيريل جيڪو اسان جي گهر ۾ استعمال ٿئي ٿو

اسان جون اڪثر عمارتون سرن مان ٺهيل آهن. سرون چيڪي مٽيءَ مان ٺهن ٿيون، جن کي ٻني ۾ پچائي پڪيون سرون تيار ڪجن ٿيون. پڪيون سرون ڪافي مضبوط آهن.



سرن کي پچائڻ جو بناو



عورت سرون پئي وجهي

سيميٽ ۽ ريتي ملائي به سرون ٺاهي سگهجن ٿيون جن کي ننڍا بلاڪ سڏين. اهي سرون وڌيڪ مضبوط آهن. اهي باهه ۽ موسم جي خراب اثرن کان پڻ محفوظ آهن.



سيميٽ ۽ ريتيءَ مان ٺهيل بلاڪ يا سرون

اُڇين ۽ گهٽ-ماڙ عمارتن کي وڌيڪ مضبوط هجڻ گهرجي. لوهه يا اسٽيل جي سرين ۽ شيخن کي استعمال ڪري بلند عمارتون جوڙيون ويون آهن. لوهه ڏاڍو مضبوط ۽ پائيدار آهي، ليڪن ساڳئي وقت وزن ۾ هلڪو به آهي.



لوهه جو چڄو يا چتو ٺاهيو پيو وڃي



عمارتن کي مضبوط بنائڻ لاءِ لوهه جو استعمال

ڪاٺ وٽن مان حاصل ڪجي ٿو ۽ وڻ ڏاڍو اهم قدرتي وسيلو آهن. ڪاٺ جون ڪيتريون ئي ڪارائتيون خاصيتون آهن. عمارتن جي درن ۽ درين ٺاهڻ ۾ ڪاٺ استعمال ٿئي ٿو.



در ۽ دريون ٺاهڻ لاءِ ڪاٺ استعمال ٿئي ٿو

ڪاٺ قدرتي وسيلو آهي

پلاسٽڪ، انسان جو ٺهيل مٿريل يا مادو آهي. پلاسٽڪ کي هر شڪل ۽ ڊول ۾ آڻي سگهجي ٿو. پلاسٽڪ مضبوط هجڻ سان گڏوگڏ ڏاڍو هلڪو آهي. هن مان پاڻي وهي نٿو سگهي، ڇاڪاڻ ته اهو واٽر پروف آهي. عمارتن ۾ پلاسٽڪ جي پائپن جو استعمال عام آهي.



پلاسٽڪ جا پائپ

ڪاٺو (شيشو) به انسان جو ٺاهيل مٿريل يا مادو آهي. عمارتن ۽ عام طرح درين ۾ ڪاٺو استعمال ٿئي ٿو.



شيشي واريون دريون

عمارتون ٺاهيندڙ ماڻهو ۽ انهن جي ڪتب ايندڙ اوزار
 عمارت ٺاهڻ ۾ ڪيترن ماڻهن جو حصو آهي. هر هڪ پنهنجي ڪم جو ماهر آهي.
 مختلف ڪم ڪندڙ ماڻهو مختلف قسمن جا اوزار ۽ سامان ڪتب آڻين ٿا.



هڪ آرڪيٽيڪٽ عمارت جو نقشو ٺاهي رهيو آهي



هڪ عورت سرون وجهي رهي آهي



هڪ مزدور ڪلهي تي سرون ڏوٽي رهيو آهي



هڪ رازو سرن جي اوساري ڪئي رهيو آهي



تعميراتي مزدور لوهي شيخون ڪتي رهيو آهي



رنگ وارو رنگ ملائي رهيو آهي

استاد لاءِ هدايت: شاگردن کي ٻڌايو ته گوناڻا صدين کان ڪچن گهرن ۾ رهندا اچن ٿا جيڪي مٽي واري، ڪڪن ڪانن، بانس، ڪچين سرن، گاهه، بهه، ٽوٽي، سرن ۽ ڍڳيءَ جي چيڙهي مان ٺهيل هوندا آهن. انهن کي چير، ڪوني، وانگ ۽ چؤنرا چوندا آهن. اهڙيون اڏاوتون مضبوط نه هونديون آهن ۽ مينهن، ٻوڏن، طوفانن ۽ ڌرتي ڌٻڻ جي حالت ۾ جهٽ ۾ ڊهي پونديون آهن. اڄڪلهه گونن ۾ به سيمينٽ سان ٺهيل پڪا گهر ٺاهيا وڃن ٿا. شاگردن کي اهو به سمجهايو ته مٽي، واري، پٿر، بانس، ڪانڪريٽ، سيمينٽ، ڪاٺ جون ٽوٽيون، لوهي شيخون ۽ پلاسٽڪ پاڻيپ وغيره عمارتن جي اڏاوت ۾ استعمال ٿين ٿا.

اوزار

عمارتن جي اڏاوت ۾ ٻين کانسواءِ هيٺيان اوزار ڪثرت سان استعمال ٿين ٿا.



رازو شاهل سان ڏسي رهيو آهي ته ڇا هُو پٽ کي سٺو اڏي رهيو آهي؟



گاري ۽ سيمينٽ کي ملائڻ ۽ کڻڻ لاءِ ۽ زمين جي کوٽائي ڪرڻ لاءِ ڪوڏرون ۽ بيلچا استعمال ٿين ٿا.



مارن ۽ چُونارين جو سٽ جنهن سان سيمينٽ/گارو ڦهلائجي ٿو ۽ واڌو گاري کي لاتووجي ٿو



گهرجي ڊزائين ۽ ڊرائنگ ڪيڻ لاءِ ڪمپاس، هڪ آرڪيٽيڪٽ لاءِ نهايت ضروري آهي.



وايو ڊرل مشين، هٿوڙو ۽ چيٽي ذريعي پنهنجو ڪم ڪري ٿو



بجليءَ وارو تارون ڪٽڻ لاءِ ”واپرڪٽر“ استعمال ڪندو آهي



رنگ وارو، رنگ برش سان عمارت کي رنگ ڪري ٿو



پلمبر، پائپ پاني سان پائپ ڦيرائي، مضبوط ڪري ٿو

سرگرميون:

1. جيڪڏهن هيٺيان جملا صحيح معلومات ڏين ٿا ته (✓) جو ۽ جي غلط معلومات ڏين ٿا ته (X) جو نشان لڳايو:

- () (i) ذاتو مضبوط، سخت ۽ چمڪدار آهن.
- () (ii) پلاسٽڪ قدرتي مادو آهي.
- () (iii) چيڪي مٽيءَ کي سولائي سان ڪابه شڪل ڏئي ٿي سگهجي
- () (iv) ڪاٺو پائپ ٺاهڻ ۾ ڪم اچي ٿو
- () (v) ڪاٺ قدرتي مادو آهي.
- () (vi) اسٽيل مضبوط پر هلڪو مادو آهي.
- () (vii) ڪڪن جهڙيون قدرتي شيون، سرن ٺاهڻ ۾ ڪم اچن ٿيون
- () (viii) عمارتن ۾ ڪم ايندڙ سامان (Material) قدرتي به آهن ته انسان جو ٺهيل/هٿرادو به ()

2. (الف) ”الف“ خاني ۾ قدرتي مادن ۽ ”ب“ خاني ۾ هٿرادو يا انسان جي ٺهيل انهن مادن کي لکو جيڪي عمارتن ٺاهڻ ۾ ڪم اچن ٿا. ڏنل باڪس مان لفظ چونڊيو.

چيڪي مٽي ڪاٺ ڪاٺو چيريون ڪڪ ڪانا سيمينٽ
واري (رיתי) ڪانڪريٽ اسٽيل پن پلاسٽڪ

| ”ب“ خانو هٿرادو يا انسان جا ٺهيل مادا جيڪي جاين ٺاهڻ ۾ ڪتب اچن ٿا | ”الف“ خانو قدرتي مادا جيڪي جاين ٺاهڻ ۾ استعمال ٿين ٿا |
|---|---|
| (i) | (i) |
| (ii) | (ii) |
| (iii) | (iii) |
| (iv) | (iv) |
| (v) | (v) |

2. (ب) تصويرن ۾ ڏيکاريل اوزارن کي سڃاڻي انهن جا نالا لکو ۽ اهو پڻ ٻڌايو ته انهن کي کير استعمال ڪندو آهي.



اوزار نالو: _____

کير استعمال ڪندو آهي _____



اوزار نالو: _____

کير استعمال ڪندو آهي _____



اوزار نالو: _____

کير استعمال ڪندو آهي _____



اوزار نالو: _____

کير استعمال ڪندو آهي _____

2. (ج) کي به ٽي خصوصيتون يا خوبيون ٻڌايو، جن جي ڪري هيٺيان مادا (Material)، عمارتون جوڙڻ لاءِ ڪارائتا آهن. توهان جي سهوليت لاءِ پهريون سوال حل ڪيو ويو آهي.

(i) ڏاتو مضبوط، پائدار ۽ چمڪندڙ آهن.

(ii) پلاسٽڪ _____ ۽ _____ آهي.

(iii) چيڪي مٽي _____ ۽ _____ آهي.

(iv) ڪاڻو _____ ۽ _____ آهي.

(v) ڪاڻ _____ ۽ _____ آهي.

دنیا جون مشهور عمارتون:

دنیا ۾ ڪيتريون ئي مشهور عمارتون آهن. انهن مان ڪن جون تصويرون هيٺ ڏجن ٿيون:



پيسا ٽاور، اٽلي



شاهي قلعو، لاھور



برج العرب دبي، گڏيل عرب رياستون



ايفل ٽاور پيرس، فرانس



پيٽروناس ٽاورس ڪوالالمپور، ملائيشيا



تاج محل آگرو، انڊيا

سنڌ جون مشهور عمارتون:
 اسان جي سنڌ صوبي ۾ ڪيتريون ئي مشهور عمارتون آهن. انهن مان ڪن جون
 تصويرون هيٺ ڏجن ٿيون:



حبيب بئنڪ پلازه، ڪراچي



معصوم شاه جو منارو، سکر



شاه جھاني مسجد، ٺٽو



ٽاور مارڪيٽ، حيدرآباد



رني ڪوٽ جو قلعو، ڄام شورو



قائد اعظم بين الاقوامي هوائي اڏو، ڪراچي

سرگرمي:

هيٺ ڏنل عمارتن جي تصويرن کي غور سان ڏسو ۽ ٻڌايو ته انهن عمارتن جا نالا ڇا آهن ۽ اهي ڪهڙي ملڪ/هند تي آهن.



نالو: _____

ملڪ/هند: _____



نالو: _____

ملڪ/هند: _____




نالو: _____

ملڪ/هند: _____



نالو: _____

ملڪ/هند: _____



نالو: _____

ملڪ/هند: _____



نالو: _____

ملڪ/هند: _____

يونٽ 10 جي پڄاڻي: مشق

1. هيٺين سوالن جا جواب ڏيو:

(الف) ڪن به ٽن فصلن ۽ انهن مان ٺهندڙ شين جا نالا لکو:

| فصل جو نالو | شيءَ جو نالو |
|-------------|--------------|
| (i) | (i) |
| (ii) | (ii) |
| (iii) | (iii) |

(ب) پاڪستان ۾ پيدا ٿيندڙ ڪن به ڇهن فصلن جا نالا لکو:

(i) _____ (ii) _____ (iii) _____

(iv) _____ (v) _____ (vi) _____

(ج) ڪڻڪ (ڪڻڪ جي اٽي) مان ٺهندڙ ڪن به ٽن شين جا نالا لکو:

(i) _____ (ii) _____ (iii) _____

(د) ڪن به ٽن جانورن جا نالا لکو، جن جو گوشت اسان کائيندا آهيون:

(i) _____ (ii) _____ (iii) _____

(ح) جانورن مان حاصل ٿيندڙ ٽن شين جا نالا لکو:

(i) _____ (ii) _____ (iii) _____

(و) ڪن به ٽن شين جا نالا لکو، جيڪي کير مان ٺهن ٿيون:

(i) _____ (ii) _____ (iii) _____

2. هيٺ ڏنل خانن ۾ تصويرن ذريعي ڪمند مان ڪنڊ ٺاهڻ جي عمل کي ترتيبوار بيان ڪيو.

| | | | |
|------|-----|------------|-----|
| | | | |
| ڪمند | ڪٽڻ | ڪمند جي رس | ڪنڊ |

3. هيٺ ڏنل خاڪي جي خانن کي ڀريو. عمارت سازي جي ڌنڌي سان لاڳاپيل ماڻهو ڪهڙو ڪم ڪن ٿا ۽ اهي پنهنجي ڪم ۾ ڪهڙن اوزارن کي استعمال ڪن ٿا.

| اهي اوزار جيڪي هو استعمال ڪن ٿا | اهو ڪم جيڪو هو ڪن ٿا | تعمير يا اڏاوت جي ڪم سان لاڳاپيل ماڻهو |
|---------------------------------|----------------------|--|
| | | آرڪيٽيڪٽ |
| | | واڊو |
| | | رازو |
| | | رنگ ساز (وارو) |
| | | پلمبر |

شاگردن جي سکيا جا نتيجا (SLOs) Students Learning Outcomes

باب پهريون: گرمي

هن باب جي پڄاڻيءَ تي شاگرد اهو سکي ۽ ڄاڻي ويندا ته:

- گرمي ۽ روشني ڪهڙن ذريعن سان حاصل ٿئي ٿي.
- قدرتي ۽ انسان جي ٺهيل، روشني ۽ گرميءَ جي ذريعن بابت ڄاڻ.
- گرمي جن طريقن سان پيدا ڪئي وڃي ٿي تن کي معلوم ڪرڻ (جهڙوڪ: ٻارڻ ۽ گسائڻ).

باب ٻيو: روشني

هن باب جي پڄاڻيءَ تي شاگرد اهو سکي ۽ ڄاڻي ويندا ته:

- گرمي ۽ روشني جا ڪهڙا فائدا آهن؟
- گرمي ۽ روشنيءَ جي ذريعن کي جيترو ويجهو ٿيو، اوترو انهن جي شدت محسوس ٿيندي.

گرمي

سرگرمي:

شاگردن کي چئو ته ڪلاس کان ٻاهر وڃن ۽ ٻن ٽن منٽن تائين اُس ۾ بيهن ۽ اهو ڏسن ته هو اتي بيٺو سان ڇا ٿا محسوس ڪن؟ ٻن ٽن منٽن بعد کين ڪلاس ۾ اچڻ لاءِ سڏيو. انهن کان هيٺيان سوال پڇو:

(i) جڏهن توهان اُس ۾ بيٺا هئا ته توهان ڇا پئي محسوس ڪيو؟

(ii) هاڻي جڏهن توهان ڪلاس ۾ آيا آهيو ته ڇا ٿا محسوس ڪيو؟

(iii) ٻڌايو ته اُس ۾ بيٺو ۽ ڪلاس ۾ هجڻ ۾ فرق محسوس ڇو ٿو ٿئي؟

سج، گرمي ۽ جو مکيه ذريعو آهي. اهو گرمي ۽ جو قدرتي وسيلو آهي.

سرگرمي:



گهريل شيون

• ڪپڙي يا ڪاغذ جا ٻه ٽوال.

• پاڻي ۽ جو مڱ يا ڪپو

طريقيو:

پاڻي ۽ جي مڱ ۾ ٻنهي ٽوالن کي آلو ڪيو.

هڪ ٽوال کي اُس ۾ ۽ ٻئي کي چانو ۾ رکو.

(i) توهان جي خيال ۾ ڪهڙو ٽوال پهريان سُڪي ويندو؟

(ii) ڇو؟

ڏهن منٽن کانپوءِ ٻئي ٽوال پنهنجي ڊيسڪ تي کڻي اچو.

ڏسو ته ٽوال ڪهڙي حالت ۾ آهن. هيٺين سوالن جا جواب ڏيو:

(i) ڪهڙو ٽوال وڌيڪ سڪل آهي؟

(ii) اهو ٽوال سڪل ڇو آهي؟

(iii) ٽوال جي سُڪڻ ۾ گرمي ۽ جو ڪيترو دخل آهي؟

(iv) ٽوال وارو پاڻي ڪاڏي ويو؟

ٻارڻ سان گرمي پيدا ٿئي ٿي. جڏهن اسان ڪانيون، قدرتي گيس، پيٽرول يا ڪوئلو ٻاريندا آهيون ته اسان کي گرمي ملندي آهي. ڪاڻ، قدرتي گيس ۽ ڪوئلو پڻ گرميءَ جا قدرتي وسيلو آهن.



ڪوئلو



قدرتي گيس



ڪاڻ

سرگرميون:



1. مٿين تصويرن کي ڏسو. هر تصوير ۾ ڏيکاريل گرميءَ جي ذريعي کي هيٺين ليڪن تي لکو.

_____ (i) _____ (i)

_____ (ii) _____ (ii)

2. هيٺ ڏنل تصويرن کي ڏسو. انهن ۾ ڪهڙي ڪم ڪرڻ لاءِ گرمي استعمال ٿئي ٿي.

1. گرميءَ جو ذريعو ٻڌايو. 2. ڇڏيل جاءِ تي لکو ته ان ڪهڙي ڪم ۾ مدد ڪئي؟



_____ (i)

_____ (ii)



_____ (i)

_____ (ii)



_____ (i)

_____ (ii)



_____ (i)

_____ (ii)



_____ (i)

_____ (ii)



_____ (i)

_____ (ii)



گسائڻ ذريعي به گرمي پيدا ڪري سگهجي ٿي.
پنهنجا ٻئي هٿ زور سان مهٽيو.

لاڳيتو ٻن منٽن تائين هٿن کي گسائيندا رهو.

توهان ڇا تا محسوس ڪيو؟

ڇا توهان محسوس ڪيو ته گسائڻ سان اوهان جا هٿ گرم ٿيندا پيا وڃن؟

سرگرمي:

ڪلاس کي ننڍين ٽولين ۾ ورهايو ۽ هر هڪ ٽوليءَ کي پلاسٽڪ جي ٿيلهي ۽ برف جو هڪ ٻنڍو ڏيو.

هاڻي کين چئو ته پاڻ ۾ مقابلو ڪن ته ڪير برف جي ٻنڍي کي پهريان رجائي ٿوسگهي. شاگردن جي ٽولين جي همت افزائي ڪيو ته جيئن اهي برف کي ڳارڻ لاءِ گرميءَ جي استعمال ۾ تخليقي صلاحيتون ڪم آڻين. جيڪا ٽولي سڀني کان پهريان برف جو ٻنڍو رجائي وڃي تنهن کي هٿ مٿي ڪري اهڙو اظهار ڪرڻ گهرجي.

(i) ڪهڙيءَ ٽوليءَ برف رجائڻ جو مقابلو ڪيو؟ _____

(ii) انهيءَ اهو مقابلو ڪيئن ڪيو؟ _____

(iii) اهي مختلف طريقا بيان ڪيو، جن کي استعمال ڪندي، شاگردن برف رجائڻ جي

ڪوشش ڪئي. _____

استاد لاءِ هدايت:

شاگردن کي سمجهايو ته هٿن مهٽڻ سان هنن پنهنجي هٿن جي ترين کي گرم ڪيو. گسائڻ سان گرمي پيدا ٿئي ٿي. شاگردن کي همٿايو ته اهي گسائڻ ذريعي گرمي پيدا ڪرڻ جي ٻين مثالن تي به سوچين. شاگرد برف جي ٻنڍن کي پاڻ ۾ گسائين، انهن کي گرم هوا ڏين يا ڳوٺرين کي اُس ۾ رکن ته جيئن رجڻ ۽ ڳرڻ جي عمل جي رفتار جانچي سگهجي.

روشنِي

روشنِي تمام اهم آهي. روشنِيءَ جي ڪري ئي اسان هر شيءِ ڏسي ٿا سگهون. سج روشنِيءَ جو مکيه وسيلو آهي. سج جي روشنِي ڏاڍي چمڪندڙ ۽ تڪي آهي. سج جي روشنِيءَ جي ڪري اسان ڏينهن جي وقت، هر شيءِ صاف ڏسي سگهون ٿا. سج روشنِيءَ جو قدرتي ذريعو آهي.

سرگرمي:

پنهنجي ڪلاس جي دريءَ مان ٻاهر ڏسو. توهان ڇا ٿا ڏسو؟
 ڏينهن جو روشنِيءَ جو ذريعو ڪهڙو آهي؟
 هاڻي سمجهو ته توهان هڪ اونداهي ڪمري ۾ آهيو؟
 ڇا توهان ڪمري ۾ ڪجهه ڏسي سگهو ٿا؟
 ڪمري ۾ شين کي ڏسڻ لاءِ توهان کي ڇا جي ضرورت آهي؟
 سمجهو ته اوهانجو دوست هٿ ۾ ميٺ بتي کڻي ڪمري ۾ اندر ٿو اچي. ڇا هاڻي توهان ڪمري جو شيون ڏسي سگهو ٿا؟
 ڇو؟
 انسان جا ٺاهيل روشنِيءَ جا ٻيا ڪهڙا ذريعا آهن؟

هيٺ ڏنل تصوير کي ڏسو. اڄ سيءُ وڌيڪ آهي، تنهنڪري ماڻهو پاڻ کي گرم رکڻ لاءِ باهه جي ويجهو ويٺا آهن. انهن ماڻهن ۾ باهه جي تپش گهڻي ڪنهن کي ملندي. تصوير نمبر 1 ۾ ڏيکاريل ماڻهن کي يا تصوير نمبر 2 ۾ ڏيکاريل ماڻهن کي؟ ٻڌايو؟



تصوير نمبر 2 ۾ عورتون باهه جي تمام ويجهو



تصوير نمبر 1 ۾ ماڻهو باهه کان پري

ها، بلڪل صحيح تصوير نمبر 2 ۾ ماڻهن کي باهه جي تپش گهڻي محسوس ٿيندي، ڇاڪاڻ ته اهي باهه جي تمام ويجهو ويٺا آهن، جنهن ڪري وڌيڪ تپش محسوس ڪندا ۽ جيئن جيئن اسين باهه کان پري ٿيندا وينداسين ته اسان کي گهٽ تپش محسوس ٿيندي.

اسان پهرئين ڪلاس ۾ پڙهي آيا آهيون ته روشني اسان جي چوڌاري موجود شين کي ڏسڻ ۾ مدد ڪري ٿي. هيٺ ڏنل تصويرن کي ڏسو ۽ ٻڌايو ته ٻار تصوير ۾ ڇا ڪري رهيا آهن ۽ ٻڌايو ته ڪهڙي تصوير ۾ روشني ٻارن جي گهڻي مدد ڪري رهي آهي؟ ۽ ڇو؟



تصوير نمبر 2 ٻار روشني کان پري ويٺا آهن



تصوير نمبر 1 ٻار روشنيءَ جي ويجهو ويٺا آهن

جي ها، بلڪل صحيح، ٻار پڙهي رهيا آهن. تصوير نمبر 1 ۾ روشني انهن کي پڙهڻ ۾ مددگار ثابت ٿي رهي آهي، ڇاڪاڻ ته ٻار لائيت جي وڌيڪ ويجهو آهن، جيڪا روشني جو ذريعو آهي.

اسين انهن شين کي وڌيڪ ڏسي سگهون ٿا، جيڪي روشني جي ذريعي جي ويجهو آهن. جيئن جيئن اسان روشنيءَ جي ذريعي کان پري ٿينداسين، ته اسين شين کي چڱيءَ ريت ۽ چٽو ڏسي نه سگهنداسين.







سرگرمي:

روشنيءَ جي ٻن ذريعن جون تصويرون ٺاهيو. هڪ اسان کي ڏينهن جو شين کي ڏسڻ ۾ مدد ڪري ۽ ٻيو رات جو اسان کي شين کي ڏسڻ ۾ مدد ڪري.

ميٺ بتي، باھ، تيل جون بتيون ۽ لائيٽ جا بلب روشنيءَ جا ٻيا ذريعا آهن. اهي ذريعا انسان جا ٺاهيل آهن.

سرگرمي:

هيٺ ڏنل تصويرن کي ڏسو. روشنيءَ جي ذريعي جو نالو لکو ۽ ٻڌايو ته اهو قدرتي آهي يا انسان جو ٺاهيل. هر تصوير هيٺان ان مقصد لاءِ هڪ خانو ڏنو ويو آهي.

| | | |
|---|---|--|
|  |  |  |
| _____ (i) _____ (ii) | _____ (i) _____ (ii) | _____ (i) _____ (ii) |
|  |  |  |
| _____ (i) _____ (ii) | _____ (i) _____ (ii) | _____ (i) _____ (ii) |




ٽانڊاڻو

ڇا توهان کي خبر آهي؟

ڪي جانور پنهنجي روشني پاڻ پيدا ڪندا آهن جيئن ته ٽانڊاڻو يا ڪڙ ڪپيتو.

يونٽ 11 جي پڄاڻي: مشق

1. فقط انهن شين ۾ رنگ ڀريو، جيڪي روشني ڏين/ڪن ٿيون.



2. هيٺين سوالن جا جواب ڏيو:

(i) جس جي ڪهڙي ڀاڱي يا عضوي کي ڏسڻ لاءِ استعمال ڪجي ٿو؟

(ii) ڇا توهان ڏينهن جو شين کي سولائيءَ سان ڏسي سگهو ٿا؟

ڇو؟

(iii) ڇا توهان رات جو شين کي سولائيءَ سان ڏسي سگهو ٿا؟

ڇو؟

3. مختلف شين جون تصويرون، انهن جي نمبرن سان هيٺ ڏنل آهن.



(الف) هيٺين خانن ۾ انهن تصويرون جا نمبر لکو، جن مان فقط گرمي ملي ٿي، جن مان رڳو روشني ملي ٿي ۽ جن مان گرمي ۽ روشني ٻئي ملن ٿيون.

| صرف گرمي | فقط روشني | گرمي ۽ روشني ٻئي |
|----------|-----------|------------------|
| | | |

(ب) هيٺين خانن ۾، انهن تصويرن جا نمبر لکو جيڪي روشنيءَ جو قدرتي يا انسان جو ٺهيل ذريعو آهن.

| انسان جو ٺاهيل روشنيءَ جو ذريعو | روشنيءَ جو قدرتي ذريعو |
|---------------------------------|------------------------|
| | |

4. گرميءَ جي ڳولا:

(الف) پنهنجي ماءُ/پيءُ سان گڏجي گهر جو چڪر لڳايو ۽ گرميءَ جي مختلف ذريعن جي تلاش ڪيو. هيٺ ڏنل ليڪن تي گرميءَ جي ذريعن جا نالا لکو.

- (i) _____
- (ii) _____
- (iii) _____
- (iv) _____
- (v) _____

(ب) ڇا اهي ڪجهه دير هلائڻ کانپوءِ گرم ٿين ٿا؟

5. اندازو لڳايو ته مان ڪير آهيان؟

اپ تي مان وسيع روشني آهيان
رات جو مان توهان کي نظر ڪونه ايندس.
مان سڀني شين جي پيدائش ۾ انهن جي مدد ڪريان ٿو.
توهان کي ان جي خبر هئڻ گهرجي.
ڇا توهان ڄاڻي ويا آهيو ته مان ڪير آهيان؟

6. ”روشني“ نظم کي ياد ڪري ٻارن کي ٻڌايو.

روشني

هتي روشني، هتي روشني،
روشني، روشني، هر هنڌ روشني!
لائيٽ جا بلب روشن آهن
فليس لائيٽس جي تيز روشني
سج جي روشني چمڪي پئي
ميڻ بتي به ٻري ٿي پئي
هتي روشني، هتي روشني،
روشني، روشني، هر هنڌ روشني!!

يونٽ 12: سٺي ڪردار جي تشڪيل ۽ تڪميل

شاگردن جي سکيا جا نتيجا (SLOs) Students Learning Outcomes

باب پهريون: پيغمبرن سڳورن جي مبارڪ زندگيءَ، اعليٰ تعليم ۽ هدايتن مان پرائڻ

- هن باب جي پڄاڻيءَ تي شاگرد اهو سکي ۽ ڄاڻي ويندا ته:
- حضرت محمد صلي الله عليه وسلم جن جي مبارڪ سيرت/زندگيءَ جا ڪجهه اهم واقعا ۽ ڳالهيون.
 - حضرت موسيٰ عليه السلام ۽ حضرت عيسيٰ عليه السلام جي پاڪ حياتين جا ڪي نصيحت وارا نڪتا ۽ واقعا.
 - نبي اڪرم حضرت محمد صلي الله عليه وسلم جن جي حيات مبارڪ مان اعليٰ اخلاق جا ڪجهه مثال.

باب ٻيو: انصاف ۽ هڪجهڙائيءَ سان هلڻ

- هن باب جي پڄاڻيءَ تي شاگرد اهو سکي ۽ ڄاڻي ويندا ته:
- آکاڻين ۾ سٺي ۽ خراب هلت واريون ڳالهيون نوٽ ڪرڻ.
 - ڪهڙا طريقا، نامناسب حالتن کي بهتر بڻائي سگهن ٿا.
 - ٻين سان خراب ورتاءُ ڪرڻ جي ذميواري قبول ڪيو.
 - جڏهن اوهان جي هلت کي خراب محسوس ڪيو وڃي ته ان کي ترت بدلايو.

باب ٽيون: ٻين جي واهر ڪرڻ

- هن باب جي پڄاڻيءَ تي شاگرد اهو سکي ۽ ڄاڻي ويندا ته:
- شاگرد جيڪي شيون هڪٻئي سان شيئر ڪن ٿا (مثال طور دوستن سان رانديڪا ۽ ڪاٺڻ جون شيون) انهن جا نالا لکو.
 - ڏنل تصويرن ۽ آکاڻين ۾ ٻڌايل اهي طريقا بيان ڪريو جن تي عمل ڪرڻ سان هڪ ٻئي جي مدد ڪري سگهجي ٿي. (گهر ۾، اسڪول ۾، شهر يا ڳوٺ ۾).
 - ڪو اهڙو واقعو ٻڌايو جڏهن شاگردن ڪنهن کي ماني ڪارائي رانديڪا ۽ ڪتاب شيئر ڪري مدد ڪئي هجي.

پيغمبرن سڳورن جي مبارڪ زندگيءَ، اعليٰ تعليم ۽ هدايتن مان پرائڻ

الله تعاليٰ ماڻهن جي پلائيءَ لاءِ ڪيترائي نبي سڳورا موڪليا آهن. انهن جي مٿان اهو ڪم رکيو ويو ته اهي ماڻهن کي الله تعاليٰ بابت ٻڌائين ۽ سندس حڪمن مطابق زندگي گذارڻ جي دعوت ڏين. نبي سڳورن ڏاڍي پاڪ، صاف ۽ فراخديءَ واري زندگي گذاري. هنن الله تعاليٰ بابت ماڻهن کي معلومات ۽ ڄاڻ ڏني ۽ سيکاريو ته اهي ڪيئن هڪ ٻئي جي سار سنڀال لهي سگهن ٿا.

حضرت محمد صلي الله عليه وسلم جن جي مبارڪ سيرت ۽ تعليم

حضرت محمد صلي الله عليه وسلم جن جي ولادت مڪي پاڪ ۾ 571 ع ۾ ٿي. پاڻ سڳورا سڄا ۽ امين هئا تنهن ڪري مڪي جا ماڻهو کين صادق (سچو) ۽ امين (اعتبار ۽ پروسي لائق) جي لقبن سان سڏيندا هئا. پاڻ جڏهن چاليهه سالن جا ٿيا، کين الله تعاليٰ جي طرفان نبوت عطا ڪئي وئي.

نبي ڪريم صلي الله عليه وسلم جن ماڻهن کي سمجهايو ته اهي فقط هڪ الله جي عبادت ڪن ۽ بتن وغيره کي هرگز نه پوڄين. پاڻ سڳورن صلي الله عليه وسلم ماڻهن کي هدايت ڪئي ته هو پنهنجي ماءُ ۽ پيءُ جي عزت ڪن، وڏن جو ادب ۽ ننڍن سان پيار ۽ شفقت سان هلن. پاڙيسرين سان سهڻو سلوڪ رکن ۽ غريبن ۽ ضرورتمندن جي مدد ڪن. هيٺين ڳالهه مان توهان اهو اندازو لڳائي ويندا ته نبي اڪرم صلي الله عليه وسلم جن سني ڪردار ۽ سيرت جو عملي نمونو هئا. پاڻ سڳورن تي قرآن پاڪ نازل ٿيو آهي، جيڪو الله تعاليٰ جو آخري ڪتاب آهي.

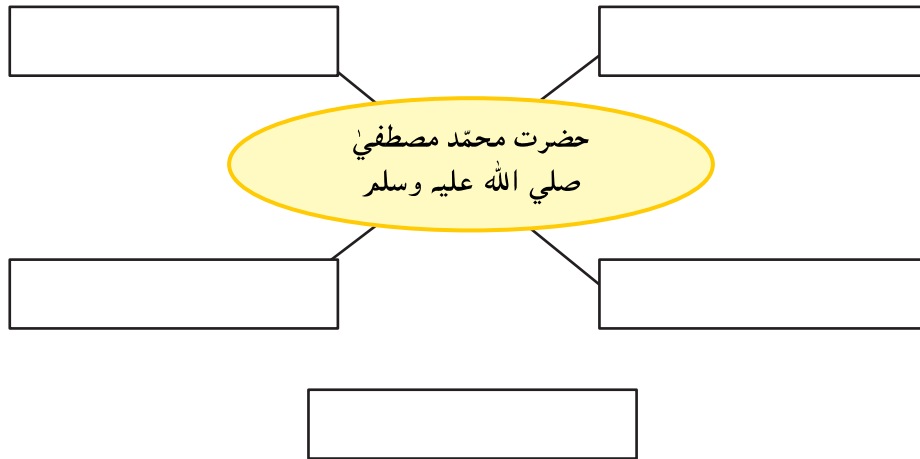
رحمدي، درگذر ۽ معاف ڪري ڇڏڻ ۽ احترام جي ڳالهه

مڪي ۾ هڪ ٻيڙي عورت رهندي هئي. پاڻ سڳورا صلي الله عليه وسلم جڏهن به ان مائيءَ جي گهر وٽان لنگهندا هئا ته هوءَ گڏ ڪيل گند ڪچرو سندن مٿان اڇلائيندي هئي. هڪ ڏينهن، جيئن پاڻ ڪريم صلي الله عليه وسلم ٻيڙي عورت جي گهر وٽان لنگهيا ته گند ڪچرو کونه اڇلايو ويو. پاڻ پاڙيوارن کان پڇا ڪيائون ته معلوم ٿيو ته اها عورت سخت بيمار ٿي پئي هئي ۽ بستري داخل

هئي. پاڻ سڳورا صلي الله عليه وسلم مائيءَ جي گهر ويا، سندس مزاج پرسي
 ڪيائون ۽ سندس چڱيلائيءَ جي دعا ڪيائون. سندس خراب هلت لاءِ کيس معاف
 ڪري ڇڏيائون. ٻيڙي عورت ڏاڍي شرمسار ٿي ته هن ڪيڏو نه اينگو ۽ خراب
 سلوڪ ڪيو هو. هن محسوس ڪيو ته پاڻ سڳورا صلي الله عليه وسلم جن
 نهايت باجھارا، مانائتا، ايماندار ۽ معاف ڪرڻ وارا هئا. ان ڏينهن کانپوءِ هن
 ڪڏهن به نبي ڪريم صلي الله عليه وسلم جن کي تڪليف نه ڏني ۽ ڪلمو پڙهي
 مسلمان ٿي.

سرگرميون:

1. ڏنل خانن ۾ نبي ڪريم صلي الله عليه وسلم جي سهڻين فضيلتن مان ڪن به پنجن کي
 بيان ڪريو.



2. هيٺين سوالن جا جواب لکو:

(i) حضرت محمد صلي الله عليه وسلم جن جي ولادت ڪٿي ٿي؟

(ii) جڏهن الله تعاليٰ طرفان ڪين نبوت عطا ڪئي تڏهن سندن عمر مبارڪ ڪيتري هئي؟

(iii) مڪي جا ماڻهو حضرت محمد صلي الله عليه وسلم جن کي ”صادق“ ۽ ”امين“ چو سڏيندا
 هئا؟

استاد لاءِ هدايت: شاگردن کي حضور صلعم جي زندگي مبارڪ ۽ ڏنل تعليم بابت وڌيڪ ٻڌايو.

حضرت موسيٰ عليه السلام جي سيرت ۽ تعليم

گهڻو وقت اڳ، حضرت موسيٰ عليه السلام مصر ۾ ڄائو. ان زماني ۾ مصر تي ظالم بادشاهه فرعون جي حڪمراني هئي. هن کي نجومين (ستارن جي مدد سان، ايندڙ واقعن جي اڳواٽ خبر ڏيندڙ) ٻڌايو ”اسرائيل ۾ هڪ ٻار پيدا ٿيندو جيڪو تنهنجي حڪومت جو خاتمو آڻيندو.“ ان اڳڪٿيءَ جي ڊپ ۾ هن حڪم جاري ڪيو ته بني اسرائيل ۾ جيڪو به ٻار ڄمي تنهن کي ماري ڇڏيو وڃي. جڏهن حضرت موسيٰ عليه السلام جن ڄاوا ته سندن امڙ، هن جي حياتي بچائڻ خاطر هن کي هڪ پيٽيءَ ۾ رکي نيل ندي ۾ لوڙهي ڇڏيو. الله جي قدرت سان اها پيٽي ظالم فرعون جي زال کي ملي وئي، جنهن حضرت موسيٰ عليه السلام جي پرورش ڪئي.

جڏهن حضرت موسيٰ عليه السلام وڏو ٿيو ته هن فرعون جي ظلم ۽ ڏاڍي کي پنهنجي اکين سان ڏٺو، هو ماڻهن سان ٿيندڙ زيادتين ۽ ظلم کي برداشت ڪري نه سگهيو. هن فيصلو ڪيو ته هو پنهنجي ماڻهن کي فرعون جي ظلم کان بچائڻ خاطر، مصر کان ٻاهر وٺي ويندو جتي هو سک جو ساهه کڻي آزاديءَ سان زندگي گذاري سگهندا. جڏهن هو ڳاڙهي سمنڊ (Red Sea) وٽ پهتا، تڏهن الله تعاليٰ ان کي ٻن حصن ۾ ورهائي ڇڏيو ته جيئن حضرت موسيٰ عليه السلام ۽ هن جا پوئلڳ سولائيءَ سان ٻئي ڪناري تي پهچي سگهن. فرعون ۽ هن جو لشڪر به سندن پويان پئي آيو. اُهي جڏهن وچ تي پهتا ته سمنڊ جا ٻئي حصا پاڻ ۾ ملي هڪ ٿي ويا ۽ اهڙيءَ طرح ظالم فرعون ۽ سندس لشڪر پاڻيءَ ۾ ٻڏي غرق ٿي ويو.

حضرت موسيٰ عليه السلام صحرا کي لتاڙي سينا جبل تي پهتو، جتي الله تعاليٰ هن سان همڪلام ٿيو ۽ کيس ٻڌايائين ته هن بني اسرائيل کي ڇو بچايو آهي. ڇاڪاڻ ته اُهي الله تعاليٰ جا چونڊيل ۽ نوازيل بندا آهن ۽ سندس قيمتي سرمايو آهن. الله تعاليٰ، حضرت موسيٰ عليه السلام کي ڏهه فرمان يا حڪمناما ڏنا. الله پاڪ گهريو پئي ته بني اسرائيل انهن ڏهن فرمانن تي عمل ڪن.

هيٺ ڏنل باڪس ۾، ڏهن فرمانن مان ڪجهه ڏنا ويا آهن.

1. فقط هڪ الله جي بندگي ڪريو.
2. الله جون شڪليون، بتن ۽ عڪسن جي صورت ۾ نه ٺاهيو.
3. الله جو نالو ادب ۽ احترام سان وٺو.
4. ماءُ ۽ پيءُ جي عزت ڪريو. هنن سان سهڻو سلوڪ ڪريو ۽ سندن فرمانبرداري ڪريو.
5. ڪنهن ٻئي انسان کي قتل نه ڪيو.
6. چوري نه ڪريو. ٻئي جي شيءِ کي هٿ نه لايو.
7. ڪنهن بابت ڪوڙي ڳالهه نه ڪريو ۽ نه ئي ڪنهن تي بهتان مڙهيو.

الله طرفان هدايتن ۽ حڪمن جو پاڪ ڪتاب جيڪو حضرت موسيٰ عليه السلام تي لٿو، ان کي تورات چوندا آهن. حضرت موسيٰ جي پوئلڳن کي يهودي سڏيندا آهن.

سرگرمي:

هيٺين سوالن جا جواب ڏيو:

(i) حضرت موسيٰ عليه السلام جو جنم ڪٿي ٿيو؟

(ii) حضرت موسيٰ عليه السلام جي زماني ۾ مصر جي حاڪمن کي ڪهڙي نالي سان سڏيندا

هئا؟

(iii) اسرائيل ۾ ڄمندڙ سڀني ڀُٽن کي مارڻ جو حڪم فرعون ڇو ڏنو؟

(iv) حضرت موسيٰ عليه السلام جي ڪن به ٽن سهڻين خوبين کي بيان ڪريو. ڪنهن به هڪ

اهڙي خصلت بابت ٻڌايو، جيڪا توهان پاڻ ۾ پيدا ڪرڻ پسند ڪندؤ.

حضرت عيسيٰ عليه السلام جي سيرت ۽ تعليم

حضرت عيسيٰ عليه السلام بيتلحم (بيت اللحم) ۾ ڄائو. الله تعاليٰ، حضرت عيسيٰ عليه السلام کي ڪيترن معجزن سان نوازيو. کين بيمارن کي تندرست ڪرڻ، انڌن کي اکين جو نور ڏيڻ ۽ مئلن کي جيئرو ڪرڻ جا معجزا عطا ڪيل هئا. پاڻ هزارين ماڻهن کي ڀڄڻ ڪرائي سگهندا هئا.

حضرت عيسيٰ عليه السلام عظيم استاد هو. ماڻهن جا ميٽر سندن ڳالهين پٽڻ لاءِ گڏ ٿي ويندا هئا. پاڻ ڪهاڻين ذريعي ماڻهن کي ٻڌائيندا هئا ته الله تعاليٰ چاهي ٿو ته ماڻهو پنهنجيون زندگيون ڪيئن گذارين؟ هيٺ ٽن ڳالهين کي بيان ڪجي ٿو.

- انهن ڏينهن ۾ بدلي وٺڻ جو رواج عام هو ”اک بدران اک ۽ ڏند بدران ڏند“. حضرت عيسيٰ عليه السلام ماڻهن کي سمجهايو ته بدلي وٺڻ کان معاف ڪري ڇڏڻ بهتر آهي. دشمنن سان به درگذر ڪرڻ وارو سلوڪ ڪجي.

- حضرت عيسيٰ عليه السلام جي ڏينهن ۾ ڪي ماڻهو پاڻ کي نيڪ ۽ بزرگ سڏائڻ جو ڍوڻگ ڪندا هئا. هو جڏهن به ڪنهن غريب کي امداد طور پيسا ڏيندا هئا ته هنن جا ماڻهو توتارا ۽ بگل وڃائي ماڻهن جو ڌيان ڇڪائيندا هئا ته جيئن هر هڪ کي خبر پئي ته اهو ڀلو ماڻهو خير جو ڪم ڪري رهيو آهي. حضرت عيسيٰ عليه السلام ماڻهن کي هدايت ڪئي ته ”ضرورتمندن جي مدد لکائي ڪيو، الله تعاليٰ اوهان کي انعام ۽ اڪرام سان نوازيندو“.

- حضرت عيسيٰ عليه السلام کين ٻڌايو ته جنت ۾ وڃڻ لاءِ هنن کي ڪهڙا عمل ڪرڻ گهرجن. ”جيڪڏهن توهان وٽ ٻه ڪوٽ آهن ته هڪ غريب کي ڏئي ڇڏيو. جيڪڏهن توهان وٽ وڌيڪ کاڌو آهي ته بڪايل کي ڪارايو“.

حضرت عيسيٰ عليه السلام تي جيڪو مقدس ڪتاب نازل ٿيو، ان کي ”انجيل“ چوندا آهن ۽ سندس پوئلڳن کي ”عيسائي“ سڏبو آهي.

استاد لاءِ هدايت: شاگردن کي نبين سڳورن جي زندگي ۽ تعليم بابت وڌيڪ ٻڌايو.

سرگرميون:

1. حضرت عيسيٰ عليه السلام جا پنج اعليٰ گڻ ۽ خاصيتون ڄاڻايو. انهن مان ڪنهن به هڪ خوبيءَ جو عملي نمونو پيش ڪيو.

ڪا هڪ اهڙي خوبي لکو جيڪا توهان ٻين لاءِ ڪري سگهو ٿا.

_____ (i)

_____ (ii)

_____ (iii)

_____ (iv)

_____ (v)

2. هيٺيان جملا پڙهو ۽ ٻڌايو ته توهان انهن مان ڪهڙي ڳالهه ڪري سگهو ٿا؟

_____ (i) سڄاڻ ٿيڻ لاءِ مان

_____ (ii) ٻين جي لاءِ احترام ۽ عزت ڏيکارڻ لاءِ مان

_____ (iii) وقت سر پهچڻ لاءِ مان

_____ (iv) ٻين جي مدد ڪرڻ لاءِ مان

_____ (v) ايماندار ٿيڻ لاءِ مان

_____ (vi) مهربان ۽ رحمدل ٿيڻ لاءِ مان

_____ (vii) فرمانبردار ٿيڻ لاءِ مان

انصاف ۽ هڪجهڙائيءَ سان هلڻ

فائزه پنهنجي پيٽ ۽ پيءُ سان پيار ته ڪندي هئي پر انهن سان هڪجهڙائيءَ وارو ورتاءُ نه ڪندي هئي. جڏهن ڪجهه ڪاٺ جو وقت ٿيندو هو ته هوءَ هميشه پنهنجي حصي کان وڌيڪ کڻندي هئي. جڏهن ڪچهري يا پاڻ ۾ گفتگو ڪندا هئا ته پنهنجي واري جو انتظار نه ڪندي، وچ ۾ ئي ڳالهائڻ شروع ڪندي هئي. راند کيڏڻ وقت به چاهيندي هئي ته پهريون وارو مان وٺان وري قاعدن موجب راند کيڏڻ پسند نه ڪندي هئي ۽ پنهنجي مرضيءَ موجب کيڏڻ ۽ کٽڻ چاهيندي هئي. هڪ ڏينهن فائزه جي امڙ کيس پاڻ وٽ سڏي وهاريو ته جيئن ساڻس سندس انهن عادتن بابت ڳالهه ٻولهه ڪري هن ۾ سٺي ۽ وڻندڙ تبديلي آڻي سگهي. کيس چيائين ”فائزه! مان ڏسان پئي ته تون پنهنجي پيءُ پيٽ سان سٺو سلوڪ نه پئي ڪرين. سهڻي ورتاءُ جو مطلب آهي ته پنهنجي حصي جيترو پاڻو کڻجي، پنهنجي واري اچڻ تائين انتظار ڪجي ۽ راند پنهنجي مرضيءَ موجب نه پر راند جي قاعدن موجب کيڏجي.“ فائزه کي اهي ڳالهيون وڻيون ۽ ان کانپوءِ هوءَ ڪوشش ڪندي هئي ته هر ڪم ۾ پنهنجي پيٽ پيءُ سان هڪجهڙو ۽ انصاف روءِ هلي. کاڌي مهل، پنهنجو حصو کڻندي ۽ کائيندي هئي، پنهنجي واري اچڻ تي ئي ڳالهائيندي هئي ۽ راند جي قاعدن مطابق کيڏندي هئي.



ائين ڪندي هن پاڻ کي ڏاڍو سٺو محسوس ڪيو. هن جا پيٽ پيءُ سندس بدليل ورتاءُ ڪري هن سان پيار ڪرڻ لڳا ۽ اهي پاڻ ۾ گڏجي سڏجي رانديون کيڏڻ ۽ وقت گذرڻ ۾ ڏاڍا خوش ٿيندا هئا.

سرگرمي:

هيٺين سوالن جا جواب ڏيو:

1. اهي ٽي ڪهڙيون چڱيون ڳالهيون نه هيون، جيڪي فائزه ڪندي هئي؟

(i) _____ (ii) _____ (iii) _____

2. فائزه سٺو هلڻ لاءِ ڇا ڪيو؟

3. ڪنهن سان سٺو نه هلڻ لاءِ ڇا چوڻ گهرجي؟

ڇا توهان کي خبر آهي

جيڪڏهن توهان ڪنهن سان سٺو نه هليا آهيو ته ان لاءِ ”سوري!“ چئو. سڀني سان هڪجهڙو ورتاءُ ڪرڻ سان اوهان پنهنجي پاڻ کي سٺو سمجهڻ لڳندؤ.

استاد لاءِ هدايت: شاگردن کي آکاڻي پڙهي ٻڌايو ۽ ان بعد ساڻن هڪجهڙو هلڻ تي بحث ڪريو.

بين جي واهر ڪرڻ

علي پنهنجي پيءُ سان گڏجي مارڪيٽ ويو. واپسيءَ تي هن پنهنجي پيءُ کي سامان ڀريل ڳوٺريون کڻائڻ ۾ مدد ڪئي. وات تي هڪ شخص جي سيڏي سامان جي ڳوٺري ڪري پئي. عليءَ رستي تي ڪريل شيون ميٽڙ ۾ هن جي مدد ڪئي.



هر ڪنهن کي پئي جي مدد درڪار آهي. ڪڏهن اسان کي بين جي مدد ڪرڻ جي ضرورت پئي ٿي ته ڪڏهن بين کي اسان جي مدد گهرجي. اسان ڪيترن طريقن سان بين جي واهر ڪري سگهون ٿا. هيٺ ڏنل تصويرن کي ڏسو ۽ ٻڌايو ته ٻار بين جي مدد ڪهڙي طرح ڪن ٿا.



اسان پڻ هر چڱي ڪم ۾ بين جي مدد ڪري سگهون ٿا. ڪنٽين ۾، بس اسٽاپ يا دڪان تي پنهنجي واري جو انتظار ڪرڻ سان، بين لاءِ به آساني ٿي ٿئي.

ياد ڪيو ته گهر، اسڪول يا ڪلاس ۾ پنهنجي واري جو انتظار ڪرڻ ڪيترو نه ضروري هو؟ ڀلا ائين ڪرڻ جو ضروري هو؟

استاد لاءِ هدايت: شاگردن کان پڇو ته ڇا هنن ڪڏهن ڪنهن سان کاڌو، رانديڪا، ڪتاب ۽ ڪپڙا شيئر ڪيا آهن؟ هنن کي ائين ڪرڻ لاءِ همٿايو. هنن کي چئو ته ڪا ڳالهه جا هنن ٻڌي، پڙهي ۽ ڏني هجي ته اها ڪلاس سان شيئر ڪن.

سرگرمي:

شيئر ڪرڻ بابت آکاڻي پڙهو ۽ سوالن جا جواب ڏيو:
سيما ۽ عائشه ٻه ساهڙيون هيون.
سيما وٽ رانديڪي واري نئين ڪار هئي.
جڏهن عائشه سيماءَ جي گهر آئي ۽ نئين ڪار ڏنائين ته هن چاهيو پئي ته اها وٽس هجي.



تنهن ڪري سيماءَ کان پڇڻ بنا هن سيماءَ کان ڪار ڪسي ۽ ان سان راند کيڏڻ لڳي. هوءَ سيماءَ کي ڪار سان کيڏڻ جو وارو ئي نه پئي ڏئي جنهن تي سيماءَ کيس چيو ”اڄ ته گڏجي راند ڪيون“.



هيٺين سوالن جا جواب ڏيو:

(i) جڏهن عائشه، سيماءَ جي رانديڪي سان کيڏڻ پئي گهريو تڏهن هن ڇا ڪيو؟

(ii) جڏهن ڪو توهان جي موڪل کانسواءِ توهان جي شيءِ کڻي تڏهن توهان ڇا محسوس ڪندا؟


(iii) شيئرنگ جي معنيٰ ڇا آهي؟

(iv) توهان کي ڪا شيءِ گهرجي، جيڪا ٻئي وٽ آهي ته توهان ڇا ڪندؤ؟

استاد لاءِ هدايت: جيڪي شيون اسان شيئر ڪري سگهون ٿا انهن ۾ رانديڪا (بال گڏي)، کاڌي جون شيون (ميوو، ماني، اسڪولي شيون بسڪوٽ) تصوير، ڪتاب، ڪمبل، ڪپڙا، ڪمر، لطيفو، سني خبر ۽ اعليٰ خيال ۽ سوچ شامل آهن.

يونٽ 12 جي پڄاڻي: مشق

1. تصوير ڪڍي ٻڌايو ته توهان ڪنهن جي مدد ڪهڙيءَ طرح ڪري سگهو ٿا.



2. هيٺ اهڙيون ڳالهون ڏجن ٿيون جيڪي ٻارن سان ڪڏهن ڪڏهن ٿين ٿيون. توهان جي خيال ۾ مناسب ۽ انصاف روءِ ڪهڙي ڳالهه ٿيندي؟

درست جواب سامهون (✓) جو نشانو لڳايو.

(i) ثنا ۽ عائشه ڪيڪ کائڻ لاءِ تياري ڪري رهيون آهن. ثنا ڪيڪ جا ٻه حصا ڪيا، هڪ حصو وڏو ۽ ٻيو ننڍو ثنا کي ڇا ڪرڻ گهرجي؟
(الف) ڪيڪ جو ننڍو حصو عائشه کي ڏئي.

()

()

(ب) عائشه کي وڏو حصو ڏئي.

(ii) سلمیٰ ۽ ميري (Mary) راند کيڏي رهيون آهن. جڏهن ميريءَ جو ڌيان ٻئي پاسي هڻو تڏهن سلمیٰ ٺڳي ڪري راند کڻي وئي.

ميري چيو ”سلمیٰ! تون صحيح نموني راند نٿي کيڏين ۽ ٺڳي ڪرين ٿي.“ سلمیٰ کي ڇا ڪرڻ گهرجي؟

()

(الف) سلمیٰ کي ”سوري“ Sorry ڪري، راند وري کيڏڻ گهرجي.

()

(ب) سلمیٰ کي ضد ڪري چوڻ گهرجي ته هن واقعي راند کڻي آهي.

(iii) ڪاشف، دوستن سان گڏ فوٽبال راند کيڏي رهيو آهي.

ڪاشف کي بال پهريان ملي ٿو. ڪاشف کي ڇا ڪرڻ گهرجي؟

()

(الف) سڄو وقت بال پاڻ وٽ رکي ۽ گول ڪرڻ جي ڪوشش ڪرڻ

()

(ب) بال تير جي ٻئي رانديگر کي ڏئي جيڪو گول جي ويجهو آهي

3. هيٺين سوالن جا جواب ڏيو:

(i) پنهنجي واري جو انتظار ڪرڻ ڇو ضروري آهي؟ تي سبب ڄاڻايو.

- (i) _____
 (ii) _____
 (iii) _____

(ii) اهڙن موقعن جو ذڪر ڪيو، جڏهن پنهنجي واري جو انتظار ڪرڻ ڏاڍو ضروري هو:

- (i) _____
 (ii) _____
 (iii) _____

(iii) (Sorry) ”سوري ڪارڊ“ ٺاهيو ۽ جنهن کي توهان رنجايو يا تڪليف رسائي هجي ان کي ڏيو.

- (i) _____
 (ii) _____
 (iii) _____

4. ”الف“ ڪالم ۾ پيغمبر سڳورن جا نالا ڄاڻايا ويا آهن. ”ب“ ڪالم ۾ اهڙيون ئي ڳالهيون لکو جيڪي توهان انهيءَ نبي سڳوري جي سيرت ۽ تعليم مان پرايون آهن.

| ”ب“ ڪالم تي ڳالهيون جيڪي اوهان پرايون | ”الف“ ڪالم پيغمبر سڳوري جو نالو |
|--|------------------------------------|
| | حضرت محمد صلي الله عليه وسلم |
| | |
| | |
| | حضرت موسيٰ عليه السلام |
| | |
| | |
| | حضرت عيسيٰ عليه السلام |
| | |
| | |

5. (الف) ياد ڪيو جڏهن توهان ڪنهن سان صحيح نه هليا هجو يا جڏهن ڪنهن ٻئي توهان سان مناسب سلوڪ نه ڪيو هجي. اهو بيان ڪريو.

اهو ان ڪري صحيح ۽ مناسب نه هيو ڇاڪاڻ ته _____

ان کي هن طريقي سان صحيح ڪري پيو سگهجي _____

5. (ب) ان باري ۾ سوچيو جڏهن توهان پنهنجي ڪنهن عمل سان، ڪنهن جي مدد ڪئي هجي. هيٺ ڇڏيل جاءِ تي لکو:

6. ڪن به پنجن شين جا نالا لکوجيڪي توهان ٻين سان شيئر ڪيون هجن.

| مان اهي شيون ڪنهن سان شيئر ڪندو آهيان؟ | مان ڪهڙيون شيون ٻين سان شيئر ڪندو آهيان؟ |
|--|--|
| _____ | (i) _____ |
| _____ | (ii) _____ |
| _____ | (iii) _____ |
| _____ | (iv) _____ |
| _____ | (v) _____ |

واڌو سرگرمي:

1. (Fairness) ”انصاف روءِ هلڻ“ بابت نظر ياد ڪيو.

ياد رکڻو ته توهان کي انصاف روءِ هلڻو آهي.
 ائين ڪرڻ ۾ خاص خيال رکڻو.
 پڪ ڪيو ته توهان سدائين انصاف سان هلو ٿا.
 ڇاڪاڻ ته زندگيءَ ۾ اهو نهايت ضروري آهي.
 هر ڪنهن سان هڪجهڙو ورتاءُ ڪريو.
 ائين ڪرڻ سان اوهان جي ناماچاري ٿيندي.