

آزمائشی اشاعت

# ریاضی 4



سندھ ٹیکسٹ بک بورڈ

چینڈر

یونیورسل بک ڈپو، حیدرآباد.

هن ڪتاب جا سڀ حق ۽ واسطاسنڌ ٽيڪسٽ بڪ بورڊ، ڄام شورو وٽ محفوظ آهن.

سنڌ ٽيڪسٽ بڪ بورڊ جو تيار ڪيل ۽ بيورو آف ڪيريڪيولم ۽ ايڪسٽيشن ونگ سنڌ، ڄامشورو ۽ تعليم کاتو حڪومت سنڌ طرفان سنڌ صوبي جي اسڪولن لاءِ واحد درسي ڪتاب طور منظور ٿيل.

حوالو نمبر 2014 - Curriculum / E & L (G - 1) SO. تاريخ 2014 - 3 - 27

ڪتابن جي نصاب جي جائزي واري صوبائي رويو ڪميٽيءَ جو سڌاريل

## نگران اعليٰ:

چيئرمين سنڌ ٽيڪسٽ بڪ بورڊ

- ليکڪ:** • ارجن لعل، ايس - سڌريا • پروفيسر اعجاز علي صبحپوٽو  
• عطيه تبسم پٽو • محمد سائمر حنيف  
• اسماء پٽي • سعديه سائمر

## نظر ثاني ڪميٽي:

- محمد صغير شيخ • سيد آفاق احمد  
• آفتاب علي • محمد يوسف جمالي  
• محمد هارون لغاري • شفيق احمد ميمڻ  
• عطيه تبسم پٽو • ماجده سومرو  
• نظير احمد ميمڻ • ارجن لعل، ايس - سڌريا

رضاڪارانه نظر ثاني ڪندڙ: • علي ڏنو پيو

- ايڊيٽر:** • ارجن لعل ايس - سڌريا • عطيه تبسم پٽو  
**مترجم:** • ارجن لعل، ايس - سڌريا • پروفيسر اعجاز علي صبحپوٽو

**ڪنسلٽنٽ:** • ڪامران لطيف لغاري، اي ايس ايس  
• مير سرفراز خليل سانڌ، جي ايس ايس

**لي آئوٽ ۽ ڪمپوزنگ:** بختيار احمد پٽو  
ڪوڪر محل حيدرآباد

**ڇپيندڙ:** هي يونيورسل بڪ ڊپو، حيدرآباد ۾ ڇپيو

## فہرست

صفحو نمبر	عنوان	یونت
1	عدد ۽ حسابي عمل	1
25	جزا ۽ پیج اُپتون	2
46	اڻپور	3
69	ڏهائي عدد ۽ اڻپور	4
88	پیمائش	5
113	جامیٽري	6
144	معلومات سهیڙڻ	7
155	اصطلاح	8
158	جواب	9

## په اکر

سنڌ ٽيڪسٽ بڪ بورڊ هڪ اهڙو تعليمي ادارو آهي، جنهن جو ڪم درسي ڪتابن جي تياري ۽ اشاعت ڪرڻ آهي. ان جو اهم مقصد اهڙن درسي ڪتابن جي تياري ۽ فراهمي آهي، جيڪي نئين نسل کي علم ۽ شعور سان گڏوگڏ منجهن اهڙي صلاحيت پيدا ڪن جنهن جي ذريعي اهي اسلام جي آفاقي نظرين، پائيداري، بزرگن جي ڪارنامن، پنهنجي ثقافتي ورثي ۽ روايت جي حفاظت ڪندي نئين دور جي سائنسي، ٽيڪنيڪي ۽ سماجي تقاضائن کي پورو ڪري ڪامياب زندگي گذاري سگهن.

هن اعليٰ مقصد کي پورو ڪرڻ خاطر اهل علم، ماهرن، استادن صاحبن ۽ مخلص دوستن جي هڪ ٽيم ڪم ڪرڻ کان حاصل ٿيندڙ معلومات جي روشنيءَ ۾ ڪتابن جي درستگيءَ جي معيار، جائزي ۽ انهن جي سڌاري جي عمل ۾ اسان سان گڏ لڳاتار مصروف آهي. اسان جا ماهر ۽ اشاعتي عملو ان صورت ۾ ئي گهربل مقصدن ۾ ڪامياب ٿيندو، جڏهن انهن ڪتابن مان استادن صاحب، شاگرد ۽ شاگردڀائڻيون پورو پورو لاپ مائين. ان لاءِ سندن تجويزون ۽ رايو انهن ڪتابن کي بهتر بنائڻ ۾ ڪار آمد ٿيندا.

### چيئرمين

سنڌ ٽيڪسٽ بڪ بورڊ

عدد ۽ حسابي عمل

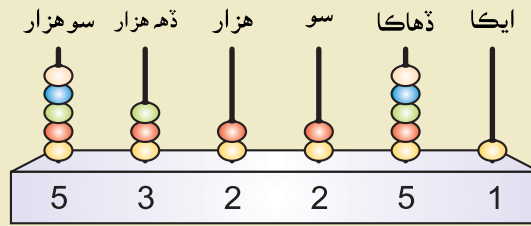
1.1 عدد

اسين ڪلاس ٽئين ۾، عددن جي مڪاني مُلھ جي بنياد تي هڪ سو هزار تائين شين کي گڻڻ ۽ عددن کي لکڻ سکي چڪا آهيون.

مثال 1: عدد ”پنج سو ٻٽيهه هزار ٻه سو ايڪونجاه“ کي انگن ۾ هيٺين ريت لکنداسين.

ايڪا	ڏهاڪا	سو	هزار	ڏهه هزار	سو هزار
1	5	2	2	3	5

انهيءَ کي بال فريم ۾ هيٺين ريت لکيو:



$$500,000 + 30,000 + 2,000 + 200 + 50 + 1 = \boxed{532251}$$

مشق 1.1

1 هيٺيان عدد انگن ۾ لکو.

- (i) چار هزار ڇهه سو پيانوي  
(ii) اوڻهتر هزار چار سو ست  
(iii) چار سو چاونجاه هزار نو سو چويهه  
(iv) ستر سو هزار  
(v) نو سو ٻه هزار ٻائيتاليهه  
(vi) ست سو اوڻٽيهه هزار ڇهه

2 هيٺين عددن کي لفظن ۾ لکو.

- (i) 2,561 (ii) 34,561 (iii) 56,081

- (iv) 92,000 (v) 245,612 (vi) 349,650

هڪ سو ملين تائين عددن ۾ انگن جي مڪاني ملهه جي سڃاڻپ ڪرڻ

هڪ سو ملين لاءِ مڪاني ملهه جو چارٽ

تہ ننڍي ۾ ننڍو ست انگي عدد هڪ ملين آهي يعني **1,000,000**

**1,000,000** لاءِ مڪاني ملهه جو چارٽ

ايڪا	ڏهاڪا	سو	هزار	ڏهه هزار	سو هزار	ملين
0	0	0	0	0	0	1

ڏهه ملين لاءِ مڪاني ملهه جو چارٽ

وڏي ۾ وڏو ست انگي عدد **9,999,999** آهي.

”نوملين، نو سو نوانوي هزار ۽ نو سو نوانوي“

جڏهن اسين 9,999,999 ۾ 1 جوڙ ڪنداسين ته اسين **10,000,000** حاصل ڪنداسين. اهڙيءَ طرح 9,999,999 کانپوءِ عدد **10,000,000** آهي. انهيءَ کي پڙهيو ”ڏهه ملين“ يعني  $10,000,000 = 1 + 9,999,999$

**10,000,000** لاءِ مڪاني ملهه جو چارٽ

ايڪا	ڏهاڪا	سو	هزار	ڏهه هزار	سو هزار	ملين	ڏهه ملين
0	0	0	0	0	0	0	1

هڪ سو ملين لاءِ مڪاني ملهه جو چارٽ

وڏي ۾ وڏو اٺ انگي عدد **99,999,999** آهي.

اسين هن کي پڙهنداسين ”نوانوي ملين نو سو نوانوي هزار نو سو نوانوي“

جڏهن اسين 99,999,999 ۾ 1 جوڙ ڪنداسين، اسان کي **100,000,000** ملندو. انهيءَ کي پڙهيو ”هڪ سو ملين“ يعني  $100,000,000 = 99,999,999 + 1$

100,000,000 لاءِ مڪاني مُلھ جو چارٽ

ايڪا	ڏهاڪا	سو	هزار	ڏھ هزار	سو هزار	مليين	ڏھ مليين	سو مليين
0	0	0	0	0	0	0	0	1

بال فريئر تي هيٺين ريت ظاهر ڪيو



مثال 1: 2,546,789 ۾ رنگدار انگ جو مڪاني ملهه سڃاڻو.

ايڪا	ڏهاڪا	سو	هزار	ڏھ هزار	سو هزار	مليين
9	8	7	6	4	5	2

5 جو مڪاني ملهه آهي، 5 سو هزار = 500,000

مثال 2: 327,09,854 جي هر هڪ انگ جو مڪاني ملهه لکو.

ايڪا	ڏهاڪا	سو	هزار	ڏھ هزار	سو هزار	مليين	ڏھ مليين
4	5	8	9	0	2	7	3

3 جو مڪاني ملهه 3 ڏھ مليين آهي.  $3 \times 10,000,000 = 30,000,000$

7 جو مڪاني ملهه 7 مليين آهي.  $7 \times 1,000,000 = 7,000,000$

2 جو مڪاني ملهه 2 سو هزار آهي.  $2 \times 100,000 = 200,000$

0 جو مڪاني ملهه 0 ڏھ هزار آهي.  $0 \times 10,000 = 0$

9 جو مڪاني ملهه نو هزار آهي.  $9 \times 1,000 = 9,000$

8 جو مڪاني ملهه 8 سو آهي.  $8 \times 100 = 800$

5 جو مڪاني ملهه 5 ڏهاڪا آهي.  $5 \times 0 = 50$

4 جو مڪاني ملهه 4 ايڪا آهي.  $4 \times 1 = 4$

اُستاد کي گهرجي ته شاگردن کي بليڪ بورڊ تي بال فريئر کي استعمال ڪندي شاگردن کي مڪاني مُلھ جو تصور سيکاري.

اُستاد لاءِ هدايت:

مشق 1.2

1 هيٺين عددن ۾ رنگدار انگ جو مڪاني ملهه سڃاڻو.

- (i) 1 **2**,345,678                      (ii) 5 **8**,923,107  
 (iii) **1**00,000,000                    (iv) 23, **9**64,579  
 (v) 2 **5**,960, **2**38                    (vi) **9**,62 **1**,382  
 (vii) 8, **9**9 **8**,776                    (viii) **7** **6**,905,851

2 هيٺ ڏنل عددن ۾ هر هڪ انگ جو مڪاني ملهه سڃاڻو.

- (i) 9,234,513                              (ii) 50,120,306  
 (iii) 3,567,899                            (iv) 36,564, 396

هڪ سو ملين تائين عددن کي لکڻ ۽ پڙهڻ.

بين الاقوامي ايڪن جي نظام ۾ عدد ٽولن يا پيرڊن ۾ ورهايو ويندو آهي. هر هڪ پيرڊ کي ٽي انگ هوندا آهن.

پيرڊ ۽ مڪاني ملهه جو چارٽ

ملين			هزار			ايڪا		
سوملين	ڏهملين	ملين	سوهزار	ڏهه هزار	هزار	سو	ڏهاڪا	ايڪا

نوٽ: عدد کي پڙهڻ ۾ ساڳيئي پيرڊ جا سڀئي انگ پيرڊ سان (سواءِ ايڪن جي) گڏ پڙهبا آهن. پيرڊ کي الڳ ڪرڻ لاءِ بيهڪ جي نشاني يا ڪاما '،' لڳائي ويندي آهي.

عدد 24,567,189 کي پڙهڻ ۽ لکڻ

ملين	هزار	ايڪا
24	567	189

↓
↓
↓

**24**
**567**
**189**

لفظن ۾



چوويهه **ملين** پنج سو  
 ستهن **هزار** ۽  
 هڪ سو اٺاڻوي

مثال 1: پڙهو ۽ پوءِ ڏنل عدد لفظن ۾ لکو.

- (i) 3,671,289      (ii) 45,612,378      (iii) 10,202,000

(i) 3,671,289	ٽي ملين ڇهه سو اڪهتر هزار ٻه سو اوڻاڻوي
(ii) 45,612,378	بينجيتاليهه ملين ڇهه سو ٻارهن هزار ٽي سو اٺهتر
(iii) 102,002,000	هڪ سو ٻه ملين ۽ ٻه هزار

مثال 2: انگن ۾ هڪ ملين هڪ کان هڪ ملين پندرهن تائين عدد انگن ۾ لکو.

حل:

1,000,001, 1,000,002, 1,000,003, 1,000,004, 1,000,005,  
1,000,006, 1,000,007, 1,000,008, 1,000,009, 1,000,010,  
1,000,011, 1,000,012, 1,000,013, 1,000,014, 1,000,015.

هڪ سو ملين تائين عددن کي لفظن ۾ سڃاڻڻ

نو انگي عدد سو ملين کي ظاهر ڪن ٿا جيئن 700,000,000 ۽ 850,000,000 ۽  
710,999,999 کي ترتيبوار پڙهيو (ست سو ملين، اٺ سو پنجاهه ملين ۽  
ست سو ڏهه ملين، نو سو نوانوي هزار نو سو نوانوي)

ڪي هڪ ملين پڙهيو ۽ اهو ننڍي ۾ ننڍو 9 انگي عدد آهي **100,000,000**

مثال 1: 53816432 کي کليل شڪل ۾ لکو.

$$50,000,000 + 3,000,000 + 800,000 + 10,000 + 6000 + 400 + 30 + 2$$

يا 5 ڏهه ملين + 3 ملين + 8 سو هزار + 1 ڏهه هزار + 6 هزار + 4 سو + 3 ڏهاڪا + 2 ايڪا  
مطلب ته ان عدد کي اسين پڙهنداسين:

ٽيونجاهه ملين اٺ سو سورهن هزار چار سو ٻٽيهه. **53,816,432**

مثال 2: هيٺين مان عددن کي ملين، ڏهه ملين ۽ سو ملين ۾ الڳ ڪريو.

21,045,678, 100,000,000, 4,234,566, 2,005,127,  
55,566,677

سو ملين	ڏهه ملين	ملين	حل:
100,000,000	21,045,678	4,234,566	
—	55,566,677	2,005,127	

### مشق 1.3

1 پڙهو ۽ پوءِ هيٺيان عدد اکرن ۾ لکو.

- (i) 241,935      (ii) 4,312,687      (iii) 5,000,000  
(iv) 25,134,564      (v) 100,000,000      (vi) 9,264,387  
(vii) 50,001,000      (viii) 4,109,200      (ix) 99,990,090

2 هيٺيان عدد انگن ۾ لکو.

- (i) ٻه ملين نوي هزار انھڻ      (ii) ٽيهه ملين ڇهه سو هزار پنجيتاليهه  
(iii) هڪ سو ملين      (iv) ويهه ملين ويهه  
(v) نوي ملين ستھڻ هزار

3 ٻه ملين کان ٻه ملين ويهه تائين عدد انگن ۾ لکو.

4 هيٺين نمونن ۾ گھربل عدد لکو.

- (i) 2,450,761, 2,451,761, 2,452,761, \_\_\_\_\_, \_\_\_\_\_, \_\_\_\_\_,  
(ii) 7,000,300, 7,000,400, 7,000,500, \_\_\_\_\_, \_\_\_\_\_, \_\_\_\_\_,  
(iii) 67,213,415, 67,223,415, 67,233,415, \_\_\_\_\_, \_\_\_\_\_, \_\_\_\_\_,

5 هيٺين مان ملين، ڏهه ملين ۽ سو ملين ۾ عدد الڳ ڪريو.

2,456,178, 22,233,341, 1,000,000, 10,000,000,  
100,000,000, 2,561,000 ۽ 20,001,010

## انگي عددن تائين پيٽ ۽ ترتيب ڪرڻ

اسين اڳيئي عددن کي پيٽ ڪرڻ جا اصول ڄاڻون ٿا. اچو ته انهن جو دؤر ڪريون.

**اصول 1:** جڏهن اسين ٻن عددن جي پيٽ ڪنداسين ته گهٽ انگن وارو عدد هميشه ننڍو هوندو ۽ وڌيڪ انگن وارو عدد هميشه وڏو هوندو آهي.

**مثال:** هيٺين عددن جي پيٽ ڪريو.

$$3,456,712 \quad \text{۽} \quad 92,315,612 \quad \text{(i)}$$

$$60,123,000 \quad \text{۽} \quad 9,999,999 \quad \text{(ii)}$$

**حل:** (i)  $92315612 < 3456712$  ڇاڪاڻ 3456,712 کي گهٽ انگ آهن.

(ii)  $60,123,000 > 9,999,999$  ڇاڪاڻ ته 60,123,000 کي وڌيڪ انگ آهن.

**اصول 2:** ٻه عدد جن ۾ انگن جي تعداد ساڳيو هجي، برابر هوندا جيڪڏهن مطابقت رکندڙ جڳهن تي انگ ساڳيا هجن.

**مثال:** 2456127 ۽ 2456127 جي پيٽ ڪريو.

**حل:** ٻنهي عددن ۾ انگن جي تعداد ساڳيو آهي.

- لاڳاپيل مڪاني ملهه جي مطابق هر هڪ عدد لکو.
- اسان کي معلوم ٿيو ته هر هڪ جڳهه تي انگ ساڳيا آهن.

$$2,456,127 = 2,456,127 \quad \text{انهيءَ ڪري:}$$

**اصول 3:** جيڪڏهن ٻن عددن ۾ انگن جي تعداد ساڳي آهي ته اسين وڏن مڪاني ملهن جي مختلف انگن جي پيٽ ڪنداسين.

**مثال:** 24,513,105 ۽ 24,367,999 جي پيٽ ڪريو.

**حل:** ٻئي 8 انگي عدد آهن.

مٿين مثال ۾ ڏنل طريقي مطابق:

- پهريان اسين وڏن مڪاني ملهن جي پيٽ ڪنداسين.
- هتي عددن ۾ ملين واري مڪاني ملهن ۾ انگ 24 ساڳيا آهن.
- تنهنڪري اسين اڳين سو هزار واري مڪاني ملهن جي پيٽ ڪنداسين.

$$24,513,105 > 24,367,999 \quad \text{يعني} \quad \text{هتي } 5 > 3 \quad \text{(سو هزار)}$$

استاد کي اها پڪ ڪرڻ گهرجي ته شاگردن عددن جي پيٽ ڪندڙ اصولن کي استعمال ڪندي ڪافي مشق ڪئي آهي.

استاد لاءِ هدايت:

عددن کي ترتيب ڏيڻ

مثال: 5,671,231 , 341,267 , 90,000,000 , 5,767,237 کي ننڍو وڏائي

۽ وڏو ننڍائي ترتيب ڏيو.

حل:

عددن جي پيٽ وارن اصولن کي استعمال ڪندي

ننڍو وڏائي ترتيب

341,267 , 5,671,231 , 5,767,237 , 90,000,000

وڏو ننڍائي ترتيب

90,000,000 , 5,767,237 , 5,671,231 , 341,267

### مشق 1.4

1 < ، > ۽ = جون نشانيون استعمال ڪندي هيٺين عددن جي پيٽ ڪريو.

(i) 52,001,000 ۽ 345,912

(ii) 2,456,123 ۽ 24,345,611

(iii) 7,123,400 ۽ 8,567,001

(iv) 92,333,444 ۽ 92,315,617

(v) 24,000,008 ۽ 24,000,005

2 هيٺين عددن کي ننڍو وڏائي ۽ وڏو ننڍائي ترتيب ۾ لکو.

(i) 3,174,215, 3,741,512, 3,076,005

(ii) 95,123,415, 95,312,415, 95,113,417

(iii) 59,178,215, 59,296,712, 52,111,222, 58,110,176

(iv) 14,111,920, 14,160,000, 13,200,415, 13,100,219

1.2 جوڙ جو عمل

6 انگي عددن تائين جوڙ ڪرڻ

اسان ڪلاس ٽئين ۾ چار انگي عددن تائين جوڙ ڪرڻ سکي چڪا آهيون.

مثال 1: 8420 ۽ 3910 کي جوڙ ڪريو. مثال 2: 45093 ۽ 3421 کي جوڙ ڪريو.

$$\begin{array}{r} 45093 \\ + 3421 \\ \hline 48514 \end{array}$$

حل:

$$\begin{array}{r} 8420 \\ + 3910 \\ \hline 12330 \end{array}$$

حل:

جوڙ اُپت

تنهنڪري  $45093 + 3421 = 48514$  تنهنڪري  $8420 + 3910 = 12330$

اچو ته 6 انگن تائين عدد جوڙ ڪرڻ لاءِ جوڙ جا اصول استعمال ڪريون.

مثال 1: 85765 ۽ 37071 کي جوڙ ڪريو

$$\begin{array}{r} 85765 \\ + 37071 \\ \hline 122836 \end{array}$$

حل:

ڏاکو 1: ايڪا جوڙ ڪريو.  $5 + 1 = 6$

ڏاکو 2: ڏهاڪا جوڙ ڪريو.  $6 + 7 = 13$   
ڏهاڪن جي هيٺيان 3 لکو ۽ 1 کي سون واري ڪالمر ڏانهن ٽپائي وڃو.

ڏاکو 3: سون کي جوڙ ڪريو.  $8 = 1 + 7 + 0$

ڏاکو 4: هزارن کي جوڙ ڪريو.  $5 + 7 = 12$   
هزارن جي هيٺيان 2 لکو ۽ 1 کي ڏهه هزار واري ڪالمر ڏانهن ٽپائي وڃو.

ڏاکو 5: ڏهه هزارن کي جوڙ ڪريو.  $1 + 8 + 3 = 12$   
ڏهه هزارن جي هيٺيان 12 لکو.

اهڙيءَ طرح  $85765 + 37071 = 122836$

اُستاد کي گهرجي ته شاگردن کي مشق لاءِ ڪجهه ٻيا مثال مختلف مڪاني ملهه ڏيکاري ڪري سمجهائي.

اُستاد لاءِ هدايت:

مثال 2: 348754 ۽ 343445 کی جوڑ کریو۔

$$\begin{array}{r} \textcircled{0}\textcircled{0} \\ 348754 \\ + 343445 \\ \hline 692199 \end{array}$$

انہیء کری  $348754 + 343445 = 692199$

### مشق 1.5

1. ہینیان حل کریو۔

$$92345 \quad (\text{ii})$$

$$+ 50178$$

---

$$349629 \quad (\text{iv})$$

$$+ 201548$$

---

$$999555 \quad (\text{vi})$$

$$+ 312016$$

---

$$25431 \quad (\text{i})$$

$$+ 41245$$

---

$$107236 \quad (\text{iii})$$

$$+ 298017$$

---

$$964328 \quad (\text{v})$$

$$+ 428961$$

---

2. ہینیان جوڑ کریو۔

$$249,982 \text{ ₹ } 67,999 \quad (\text{ii})$$

$$942,589 \text{ ₹ } 591,023 \quad (\text{iv})$$

$$778,896 \text{ ₹ } 555,566 \quad (\text{vi})$$

$$881,223 \text{ ₹ } 910,052 \quad (\text{viii})$$

$$90,235 \text{ ₹ } 24,317 \quad (\text{i})$$

$$722,334 \text{ ₹ } 92,612 \quad (\text{iii})$$

$$921,079 \text{ ₹ } 17,640 \quad (\text{v})$$

$$645,008 \text{ ₹ } 500,983 \quad (\text{vii})$$

6. انگي عددن تائين جوڙ سان واسطو رکندڙ روزمره زندگي جا لکتی حساب حل ڪرڻ روزمره زندگي ۾ اسين 6 انگي عددن جي جوڙ ڪندا رهندا آهيون.  
مثال: هڪ ننڍي شهر ۾ 321976 عورتون ۽ 317581 مرد آهن. شهر ۾ ماڻهن جي ڪل تعداد ڇا آهي؟

$$\begin{array}{r} 321876 \\ + 313589 \\ \hline 635465 \end{array}$$

جوڙ ايت 635465

حل: عورتن جي تعداد = 321,876  
مردن جي تعداد = 313,589  
ڪُل تعداد = 635,465  
ٻنهي عورتن ۽ مردن جو ڪل تعداد 635,465 آهي.

### مشق 1.6

- 1- سنڌ حڪومت هڪ رستي کي ٺاهڻ لاءِ 581,034 رپيا ۽ ٻئي رستي لاءِ 347,083 رپيا خرچ ڪيا. ٻنهي رستن جي ٺهڻ ۾ ڪُل ڪيترو خرچ آيو؟
- 2- هڪ امتحان ۾ 27,514 شاگرد پائين ۽ 20,328 شاگرد حاضر ٿيا. امتحان ۾ ڪُل حاضر شاگردن ۽ شاگرد پائين جي تعداد ڇا آهي؟
- 3- بسم 857,600 رپيا ۽ عليشه 641,200 رپيا ڪمپيوٽر خريد ڪرڻ ۾ خرچ ڪيا. ٻڌايو انهن ٻنهي گڏجي ڪمپيوٽر خريد ڪرڻ ۾ ڪُل ڪيتري رقم خرچ ڪئي؟
- 4- پاڪستان ۽ انڊيا جي وچ ۾ ٻن مئچن واري ڪرڪيٽ سيريز جي پهرين مئچ کي ڏسڻ لاءِ 55,384 ماڻهن نيشنل اسٽيڊيم ڪراچي ۾ آيا ۽ ٻيءَ مئچ کي ڏسڻ لاءِ 43,298 ماڻهو قذافي اسٽيڊيم لاهور ۾ آيا. ڪرڪيٽ سيريز کي ڏسڻ لاءِ ڪُل ڪيترا ماڻهو آيا؟
- 5- هڪ سال ۾ هڪ ڪمپني 865,271 سائيڪلون ۽ ٻي ڪمپني 725,059 سائيڪلون ٺاهي ٿي. ٻنهي ڪمپنين جي گڏ هڪ سال جي ڪُل پيداوار ڪيتري آهي؟
- 6- پاڪستان ريلوي پهرين هفتي ۾ 347,180 ڪلوگرام انب کڻي ٻين شهرن تائين پهچايا ۽ ٻئي هفتي ۾ 449,130 ڪلوگرام انب کڻيا. ٻڌايو ته ٻنهي هفتن ۾ گڏ ڪُل ڪيترا ڪلوگرام انب کڻيا ويا؟

1.3 ڪٽ جو عمل

6 - انگي عددن جي ڪٽ ڪرڻ

4 - انگي عددن تائين ڪٽ ڪرڻ اسين ٽئين ڪلاس ۾ سکي چڪا آهيون. اسين ڪٽ جو عمل هيٺين ريت ڪريون ٿا.

مثال 1: 2481 مان 1374 ڪٽ ڪريو. مثال 2: حل ڪريو 51432 - 40028

$$\begin{array}{r} 51,4\overset{2}{\cancel{3}}\overset{12}{2} \\ - 40,028 \\ \hline 11,404 \end{array}$$

حل: فرق

$$\begin{array}{r} 2,481 \\ - 1,374 \\ \hline 1,107 \end{array}$$

حل: فرق

اهڙيءَ طرح

اهڙيءَ طرح

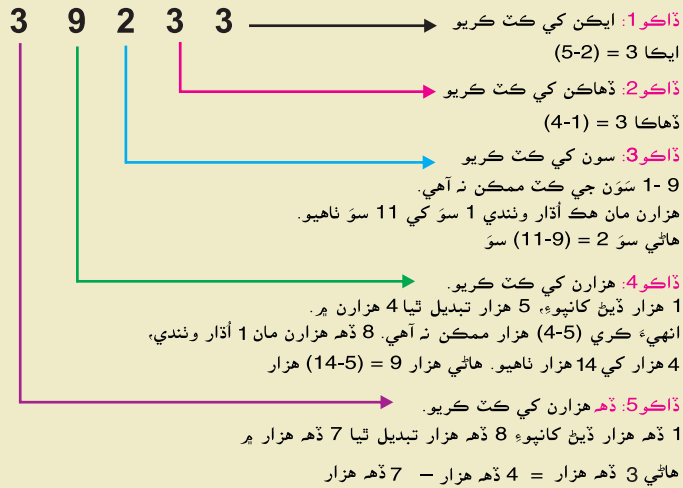
$$51,432 - 40,028 = 11,404 \quad 2481 - 1374 = 1,107$$

ايڪا ڏهاڪا سو هزار ڏهه هزار

مثال 3: 85145 مان 45912 ڪٽ ڪريو.

$$\begin{array}{r} \textcircled{7} \textcircled{14} \textcircled{11} \\ 85,145 \\ - 45,912 \\ \hline \end{array}$$

حل:



اهڙيءَ طرح  $85145 - 45912 = 39233$

استاد کي گهرجي ته ڪٽ جي عمل جو تصور واضح ڪرڻ لاءِ مٿي ڏنل اصولن کي استعمال ڪندي ڪجهه وڌيڪ مثال حل ڪرائي.

استاد لاءِ هدايت:

مثال 4: 557942 مان 438905 کت کریو.

$$\begin{array}{r} \text{حل:} \\ \textcircled{4} \textcircled{1} \textcircled{3} \textcircled{2} \\ 557942 \\ - 438905 \\ \hline 119037 \end{array}$$

$$557,942 - 438,905 = 119,037$$

### مشق 1.7

1 ھینیان حل کریو.

$$\text{(i)} \quad \begin{array}{r} 32,164 \\ - 20,053 \\ \hline \end{array}$$

$$\text{(ii)} \quad \begin{array}{r} 583,729 \\ - 21,678 \\ \hline \end{array}$$

$$\text{(iii)} \quad \begin{array}{r} 627,948 \\ - 16,328 \\ \hline \end{array}$$

$$\text{(iv)} \quad \begin{array}{r} 793,854 \\ - 185,035 \\ \hline \end{array}$$

$$\text{(v)} \quad \begin{array}{r} 790,000 \\ - 628,453 \\ \hline \end{array}$$

$$\text{(vi)} \quad \begin{array}{r} 894,093 \\ - 847,141 \\ \hline \end{array}$$

2 ھینیان کت کریو.

39,072 مان	273,194 (ii)	43,210 مان	98,765 (i)
537,864 مان	700,000 (iv)	99,999 مان	100,000 (iii)
721,059 مان	751,342 (vi)	685,439 مان	874,189 (v)
894,354 مان	994,354 (viii)	781,500 مان	871,600 (vii)
184,019 مان	765,129 (x)	990,001 مان	991,000 (ix)
493,994 مان	943,002 (xii)	853,492 مان	89,1400 (xi)

6- انگي عددن تائين ڪٽ سان واسطو رکندڙ روزمره زندگيءَ جا لکتي حساب حل ڪرڻ

روزمره زندگيءَ ۾ اسين 6- انگي عددن جي ڪٽ ڪندا رهندا آهيون. اچو ته ڪٽ جو عمل هيٺين مثالن سان سمجهون.

**مثال:** هڪ فارم ۾ 847385 ڪڪڙيون آهن. انهن مان 312793 ڪڪڙيون وڪامڻ ۽ ڪڪڙيون وڪامڻ. فارم ۾ بچيل ڪڪڙين جو تعداد معلوم ڪريو.

**حل:** ڪڪڙين جو تعداد = 847385

وڪاميل ڪڪڙيون = 312793

ڪڪڙين جو بچيل تعداد = 534592

### مشق 1.8

- 1 سنڌ حڪومت ٻن اسڪولن جي مرمت تي 985,000 رپيا خرچ ڪيا. جيڪڏهن هڪ اسڪول تي 539,450 رپيا خرچ ٿيا ته ٻئي اسڪول تي خرچ ڪيل رقم معلوم ڪريو.
- 2 چوٿين درجي جي امتحان ۾ 57,986 شاگرد حاضر ٿيا، جنهن مان 43,985 شاگرد پاس ٿيا. ٻڌايو ته ڪيترا شاگرد امتحان ۾ فيل ٿيا؟
- 3 اسلم ۽ عاطف چوپائي مال جي فارم قائم ڪرڻ ۾ 658,700 رپيا خرچ ڪيا. اسلم جو حصو 385,780 رپيا آهي. ٻڌايو ته عاطف جو حصو گهڻو آهي؟
- 4 ڪپهه جو واپار ڪندڙ ڪمپني جو ٻن مهينن جو نفعو 320,000 رپيا آهي. جيڪڏهن هڪ مهيني جو نفعو 139,999 رپيا آهي ته ٻئي مهيني جو نفعو معلوم ڪريو.
- 5 عيد جي پهرين ڏينهن تي 3,955 ماڻهو جانورن جو باغ گهمڻ آيا ۽ ٻئي ڏينهن تي 3,843 ماڻهو گهمڻ آيا. ٻڌايو ته عيد جي پهرين ڏينهن ڪيترا وڌيڪ ماڻهو گهمڻ آيا؟
- 6 ڪڪڙين جي فارم ۾ 89,574 ڪڪڙيون هيون، جن مان 43,294 ڪڪڙيون برد فلو جي ڪري مري ويون. معلوم ڪريو ته ڪڪڙين جي فارم ۾ ڪُل ڪيتريون ڪڪڙيون باقي بچيون؟

1.4 ضرب جو عمل

5 انگي عددن تائين 3 انگي عددن سان ضرب ڪرڻ

اسين ڪلاس تئين ۾ 2 انگي عددن کي، 1 انگي عددن سان ضرب ڪرڻ سگهي چڪا آهيون. وري وري جوڙ جي عمل کي ضرب جو عمل چئبو آهي.

مثال: 24 کي 3 سان ضرب ڪريو.

$$\begin{array}{r} 24 \\ \times 3 \\ \hline 72 \end{array}$$

ضرب اُپت =  $\frac{72}{3} = 24$  اهڙي طرح  $24 \times 3 = 72$

اچو ته اهو عمل هيٺين مثالن سان سکون.

مثال 1: 34251 کي 32 سان ضرب ڪريو. **ڏاڪو 1:**

2 سان ضرب ڪريو ۽ عددن کي پنهنجي مڪاني ملهه جي لحاظ سان لکو.

$$\begin{array}{r} 34251 \\ \times 32 \\ \hline \end{array}$$

**ڏاڪو 2:**

ايڪن جي هيٺيان مڪاني ملهه ظاهر ڪرڻ لاءِ "X" جو نشان لڳايو.

$$\begin{array}{r} 34251 \\ \times 32 \\ \hline 68502 \\ + 102753x \\ \hline 1096032 \end{array}$$

**ڏاڪو 3:**

جوڙ ڪرڻ سان

تنهنڪري  $34251 \times 32 = 1096032$

مثال 3:

23415 کي 382 سان ضرب ڪريو.

$$\begin{array}{r} 23415 \\ \times 382 \\ \hline 46830 \\ 187320x \\ + 70245xx \\ \hline 8944530 \end{array}$$

مثال 2:

40329 کي 123 سان ضرب ڪريو.

$$\begin{array}{r} 40329 \\ \times 123 \\ \hline 120987 \\ 80658x \\ + 40329xx \\ \hline 4960467 \end{array}$$

انهيءَ کي  $40329 \times 123 = 4960467$  انهيءَ کي  $23415 \times 382 = 8944530$

مشق 1.9

1 هيٺيان حل ڪريو.

- |                    |                   |
|--------------------|-------------------|
| 2341 x 70 (ii)     | 1632 x 23 (i)     |
| 2109 x 84 (iv)     | 6314 x 52 (iii)   |
| 43851 x 725 (vi)   | 51389 x 562 (v)   |
| 74156 x 163 (viii) | 65123 x 316 (vii) |

2 ضرب ڪريو.

- |                      |                     |
|----------------------|---------------------|
| 21499 سان 120 (ii)   | 11689 سان 100 (i)   |
| 32145 سان 152 (iv)   | 25701 سان 553 (iii) |
| 12345 سان 123 (vi)   | 41078 سان 203 (v)   |
| 89713 سان 401 (viii) | 54321 سان 321 (vii) |

ضرب سان واسطو رکندڙ روزمره زندگيءَ جا لکتی حساب

اسان روزمره زندگيءَ ۾ عددن جي ضرب ڪندا رهندا آهيون. اچو ته هيٺين مثال جي مدد سان اهو عمل سمجهون.

مثال: هڪ شفت ۾ هڪ ڪارخانو 28,543 تافيون ٺاهي ٿو. اهڙين 132 شفتن ۾ تافين جي ٺهڻ جو ڪل تعداد معلوم ڪريو.

$$\begin{array}{r} \textcircled{2} \textcircled{1} \\ \textcircled{1} \textcircled{1} \textcircled{1} \\ 28543 \\ \times 132 \\ \hline \end{array}$$

حل: هڪڙي شفت ۾ تافين جي ٺهڻ جو تعداد ڪل تافين ٺهڻ جو تعداد

$$\begin{array}{r} \textcircled{1} \textcircled{1} \\ \textcircled{1} 57086 \\ \textcircled{1} 85629 \times \\ + 28543 \times \times \\ \hline 3767676 \end{array}$$

ڪل تافين ٺهڻ جو تعداد

مطلب ته 3,767,676 تافين جو ڪل تعداد آهي

مشق 1.10

- 1 هڪ ٽرڪ ۾ پيٽڻ واريون شربت جون 5,324 بوتلون ڀريون ويون. ٻڌايو ته 132 ٽرڪن ۾ ڪيتريون بوتلون ڀريون وينديون؟
- 2 هڪ اسڪول ۾ 630 شاگرد آهن. هر هڪ شاگرد 1,200 رپيا ماهوار في ادا ڪري ٿو. ٻڌايو ته هڪ مهيني ۾ اسڪول ۾ ڪُل ڪيتري في جمع ٿيندي؟
- 3 هڪ موٽر سائيڪل جي قيمت 35,800 رپيا آهي. اهڙين 325 موٽر سائيڪلن جي قيمت معلوم ڪريو.
- 4 هڪ ڪڪڙين جي فارم ۾ هڪ ڏينهن جي پيداوار 45,038 آنا آهي. 400 ڏينهن ۾ ٽن جي ڪُل پيداوار ڪيتري ٿيندي؟
- 5 هڪ ڳوٺ ۾ هڪ هفتي ۾ 45,038 لٽر پاڻي استعمال ٿئي ٿو. 890 هفتن ۾ ڪُل ڪيترو پاڻي استعمال ٿيندو؟
- 6 هڪ ڪٽنب مهيني ۾ کاڌي جي شين کي خريد ڪرڻ ۾ 15,980 رپيا خرچ ڪيا. اهڙا 580 ڪٽنب ڪل ڪيتري رقم خرچ ڪندا؟

1.5 ونڊ جو عمل

4- انگي عددن تائين 2 انگي عددن سان ونڊ ڪرڻ

اسين ڪلاس ٽئين ۾ 2 انگي عددن کي 1 انگي عددن سان ونڊ ڪرڻ سکي چڪا آهيون. اسين ونڊ روزمره زندگيءَ ۾ استعمال ڪندا آهيون. اها وري وري ڪت جو عمل آهي.

مثال 1: 56 کي 8 سان ونڊ ڪريو. مثال 2: 561 کي 11 سان ونڊ ڪريو.

$\begin{array}{r} 51 \\ 11 \overline{) 561} \\ \underline{- 55} \phantom{0} \\ 11 \\ \underline{- 11} \\ 0 \end{array}$ <p>اهڙي طرح <math>561 \div 11 = 51</math></p>	<table style="width: 100%; border-collapse: collapse;"> <tr> <td style="width: 50%; text-align: center;">ونڊيندڙ</td> <td style="width: 50%; text-align: center;"> <math display="block">\begin{array}{r} 7 \\ 8 \overline{) 56} \\ \underline{- 56} \\ 0 \end{array}</math> </td> </tr> <tr> <td style="width: 50%; text-align: center;">ونڊڻي</td> <td style="width: 50%; text-align: center;"> <p>اهڙي طرح <math>56 \div 8 = 7</math></p> </td> </tr> <tr> <td style="width: 50%; text-align: center;">پاڇي</td> <td style="width: 50%;"></td> </tr> </table>	ونڊيندڙ	$\begin{array}{r} 7 \\ 8 \overline{) 56} \\ \underline{- 56} \\ 0 \end{array}$	ونڊڻي	<p>اهڙي طرح <math>56 \div 8 = 7</math></p>	پاڇي	
ونڊيندڙ	$\begin{array}{r} 7 \\ 8 \overline{) 56} \\ \underline{- 56} \\ 0 \end{array}$						
ونڊڻي	<p>اهڙي طرح <math>56 \div 8 = 7</math></p>						
پاڇي							

اُستاد کي گهرجي ته شاگردن کي ونڊ وري وري ڪت واري عمل سان ونڊ جي تصور کي پڪو ڪرائي.

استاد لاءِ هدايت:

مثال 3: 975 کي 15 سان ونڊ ڪريو.

حل:

$$\begin{array}{r}
 65 \\
 15 \overline{) 975} \\
 \underline{- 90} \phantom{0} \\
 75 \\
 \underline{- 75} \\
 00
 \end{array}$$

اهڙي طرح

$$975 \div 15 = 65$$

وضاحت

- اسين ونڊ وڌي ملهه واري انگ کان شروع ڪندا آهيون.
- جيڪڏهن اهو ونڊيندڙ کان ننڍو آهي، ته بيولاڳيتو انگ انهيءَ سان ملايو.
- انهي ڪري اسان کي 97 حاصل ٿيو.
- اسان کي 15 سان ونڊ ڪرڻو آهي. تنهنڪري اسين 15 جون وڌ ۾ وڌ ڀڃ ڀٽون ڳڻينداسين، جيڪي 97 مان ڪٽ ٿي سگهجن. جيڪو عدد 6 آهي ڇاڪاڻ جو  $90 = 15 \times 6$
- جيڪڏهن اسين 7 ڀڃ ڀٽون ڪٽون ته اهو  $105 = 15 \times 7$  ٿيندو، جيڪو 97 کان وڏو آهي.
- 97 جي هيٺيان 90 لکو. 97 مان 90 ڪٽ ڪريو، جيئن ڏيکاريل آهي.
- اسين 6 کي ونڊ ڀٽ طور لکنداسين.
- هاڻي ٻيو انگ هيٺ ڪٽي اچو، جيڪو 5 آهي ۽ اسان کي نئون عدد 75 مليو. هاڻي ساڳيو عمل وري ڪريو.

مشق 1.11

هيٺيان حل ڪريو.

1

- |                |                 |
|----------------|-----------------|
| 3795 ÷ 15 (ii) | 6744 ÷ 12 (i)   |
| 9384 ÷ 12 (iv) | 7293 ÷ 13 (iii) |
| 9944 ÷ 22 (vi) | 2214 ÷ 18 (v)   |

هيٺين ڏنل عددن کي مليل ونڊيندڙ سان ونڊ ڪريو ۽ ونڊ ڀٽ معلوم ڪريو.

2

- |                      |                      |
|----------------------|----------------------|
| 88990 کي 35 سان (ii) | 4368 کي 28 سان (i)   |
| 6300 کي 25 سان (iv)  | 5056 کي 32 سان (iii) |
| 6642 کي 18 سان (vi)  | 3920 کي 16 سان (v)   |

ونڊ ڀٽ ۽ پاڇي معلوم ڪريو، جيڪڏهن ونڊيندڙ 35 ۽ ونڊڻي 5,075 آهي.

3

ونڊ ڀٽ ۽ پاڇي ڇا ٿيندي، جيڪڏهن ونڊڻي 5,696 ۽ ونڊيندڙ 16 آهي.

4

جيڪڏهن ونڊيندڙ 12 ۽ ونڊڻي 31,035 آهي، ته ونڊ ڀٽ ۽ پاڇي معلوم ڪريو.

5

ونڊ ڀٽ ۽ پاڇي معلوم ڪريو، جيڪڏهن 9,267 کي 15 سان ونڊ ڪجي.

6

ونڊ سان واسطو رکندڙ روزمره زندگيءَ جا لکتِي حساب

اسين عددن ۾ ونڊ جو عمل پنهنجي روزمره زندگيءَ ۾ استعمال ڪندا آهيون. اچو ته هيٺين مثال جي مدد سان اهو عمل سمجهون.

**مثال:** 12 برابر ماپ وارن ڏين ۾ 6,816 تافيون آهن. هر هڪ ڊبي ۾ ڪيتريون تافيون آهن؟

ونڊ جو عمل

$$\begin{array}{r} 568 \\ 12 \overline{) 6816} \\ \underline{60} \phantom{00} \\ 81 \phantom{00} \\ \underline{72} \phantom{00} \\ 96 \phantom{00} \\ \underline{96} \phantom{00} \\ 00 \end{array}$$

**حل:** تافين جو ڪل تعداد آهي = 6816

ڊين جو تعداد = 12

انهيءَ ڪري هر هڪ ڊبي ۾ ڪل تافيون 568 آهن

### مشق 1.12

- 1 هڪ ڪپڙو 6,272 ميٽر ڊگهو آهي. جيڪڏهن هڪ وڳو 7 ميٽرن ۾ ٺهي ٿو ته ڪيترا وڳا ٺهي سگهن ٿا؟
- 2 12 ڪم ڪندڙ ماڻهن جي ماهوار پگهار 7,032 رپيا آهي. هڪ ڪم ڪندڙ جي پگهار ڇا ٿيندي؟ جيڪڏهن اهي سڀ ڪم ڪندڙ ساڳي پگهار کڻن ٿا.
- 3 آصف ساڳي قيمت واريون 13 قميصون خريد ڪرڻ لاءِ 2,925 رپيا خرچ ڪيا. هر هڪ قميص جي قيمت ڇا ٿيندي؟
- 4 16 اٽي جي ڳوٺين جو وزن 4,496 ڪلوگرام آهي. هر هڪ ڳوٺ جو وزن ڇا آهي؟
- 5 25 ڪرڪيٽ بئٽن جي قيمت 3,075 رپيا آهي. هڪ بئٽ جي قيمت ڇا ٿيندي؟
- 6 هڪ بوتلن جي کوڪي ۾ 36 بوتلن وجهڻ جي گنجائش آهي. 5,616 بوتلن لاءِ ڪيترا کوڪا گهرجن؟

1.6 جوڙ، ڪٽ ۽ ضرب، ونڊ جا عمل

جوڙ، ڪٽ، ضرب ۽ ونڊ جا گڏيل عمل استعمال ڪرڻ

ڏينگين کي حل ڪريو.

جيڪڏهن  $-/+$  ۽  $/x$  گڏ مليل نه هجن ته ڪا بهي ڪان ساڄي واري نشانين کي حل ڪيو.

جيڪڏهن  $-/+$  ۽  $/x$  گڏ مليل هجن ته پوءِ پهريان ونڊ ۽ ضرب پوءِ جوڙ ۽ ڪٽ حل ڪيو.

مثال 1: حل ڪريو.  $86 - 34 + 62$

حل: جيئن ته مليل سوال ۾ ٻئي جوڙ ۽ ڪٽ جا عمل شامل آهن. تنهنڪري اسان کي ٻئي عمل هيٺين ريت هڪ هڪ ڪري ڪرڻا پوندا.

حل 2:

حل 1:

$$\begin{aligned} & 86 - 34 + 62 \\ = & \boxed{86 - 34} + 62 \\ & \boxed{86 - 34 = 52} \\ = & \boxed{52 + 62} = 114 \end{aligned}$$

$$\begin{aligned} & 86 - 34 + 62 \\ = & 86 + 62 - 34 \text{ ترتيب متايندي} \\ = & 148 - 34 \quad \boxed{86 + 62 = 148} \\ = & 114 \end{aligned}$$

مثال 2: حل ڪريو.  $4 + 6 \div 2 \times 3$

حل:

صحيح طريقو

$$\begin{aligned} = & \boxed{4 + 6 \div 2} \times 3 \text{ (پهريان ونڊ ڪريو)} \\ = & 4 + \boxed{3 \times 3} \text{ (ونڊ کان پوءِ ضرب ڪريو)} \\ = & 4 + 9 = 13 \end{aligned}$$

غلط طريقو

$$\begin{aligned} = & \boxed{4 + 6} \div 2 \times 3 \\ = & \boxed{10 \div 2} \times 3 \\ = & 5 \times 3 = 15 \end{aligned}$$

مثال 3: حل ڪريو.  $3 \times 4 + 2$

حل: جيئن ته هتي ٻئي ضرب ۽ جوڙ سوال ۾ شامل آهن. اسان کي پهرين ضرب ڪرڻي آهي ۽ پوءِ جوڙ.

$$\begin{aligned} 3 \times 4 + 2 & = \boxed{3 \times 4} + 2 \\ & = 12 + 2 \\ & = 14 \end{aligned}$$

مثال 4: حل ڪريو:  $81 \div 9 + 34$

حل: جيئن ته ٻئي عمل ونڊ ۽ جوڙ سوال ۾ شامل آهن. اسان کي پهريان ونڊ ڪرڻي آهي ۽ پوءِ جوڙ ڪنداسين.

$$81 \quad 9 + 34 = \boxed{81 \div 9} + 34$$

$$= 9 + 34 = 43$$

### مشق 1.13

هيٺيان حل ڪريو.

- |                                   |                                    |
|-----------------------------------|------------------------------------|
| (1) $46 - 23 + 17$                | (2) $99 - 77 + 33$                 |
| (3) $98 - 46 + 24$                | (4) $48 - 21 + 31$                 |
| (5) $324 - 152 + 182$             | (6) $582 - 325 + 154$              |
| (7) $682 + 329 - 159$             | (8) $489 \div 5 + 393$             |
| (9) $253 \div 11 \times 5$        | (10) $540 \div 15 \times 8$        |
| (11) $992 \div 16 \times 4$       | (12) $7 \times 375 \div 15$        |
| (13) $12 \times 114 \div 19 + 10$ | (14) $23 + 800 \div 20 \times 2$   |
| (15) $32 \times 400 \div 16 + 23$ | (16) $451 \times 690 \div 30 - 15$ |

جوڙ، کٽ، ضرب ۽ ونڊ سان واسطو رکندڙ روزمره زندگيءَ جا لکتِي حساب حل ڪرڻ (پاڪستاني ڪرنسيءَ جو پڻ استعمال)

جوڙ، کٽ، ضرب ۽ ونڊ جو عمل

مثال 1: سارا گاڏي خريد ڪرڻ لاءِ 486,935 رُپيا خرچ ڪيا ۽ 439,870 رُپيا زيور خريد ڪرڻ لاءِ خرچ ڪيا. هن کُل ڪيتري رقم خرچ ڪئي؟

حل: گاڏي خريد ڪرڻ لاءِ  $\overset{\textcircled{1}}{4} \overset{\textcircled{1}}{8} \overset{\textcircled{1}}{6} \overset{\textcircled{1}}{9} 35 =$  رُپيا

زيور خريد ڪرڻ لاءِ  $+ 439870 =$  رُپيا

ڪل رقم جيڪا خرچ ٿي  $\underline{\underline{926805}} =$  رُپيا

**مثال 2:** هڪ فٽبال مئچ ڏسڻ لاءِ اسٽيڊيم ۾ 767,513 ماڻهو موجود هئا. وقفي کان پوءِ رڳو، 468,302 ماڻهو اسٽيڊيم ۾ باقي بچيا. ڪيترا ماڻهو اسٽيڊيم ڇڏي هليا ويا؟

**حل:** آيل ماڻهن جي ڪل تعداد  
 اسٽيڊيم ۾ باقي بچيل ماڻهو  
 اسٽيڊيم ڇڏي وڃڻ وارن ماڻهن جو تعداد

$$\begin{array}{r} 767513 \\ - 468302 \\ \hline 299211 \end{array}$$

**مثال 3:** هڪ ڪمپني گرميءَ جي موسم ۾ 856,940 اليڪٽرڪ پڪا وڪرو ڪيا ۽ هر هڪ اليڪٽرڪ پڪي تي 341 رپيا نفعو حاصل ڪيو. ڪُل نفعو معلوم ڪريو.

**حل:** وڪرو ڪيل پڪن جو تعداد =  $856940 \times 341$  = هر هڪ پڪي تي نفعو

$$\begin{array}{r} 856940 \\ \times 341 \\ \hline 856940 \\ 3427760 \\ 2570820 \\ \hline 292216540 \end{array}$$

اهڙي طرح ڪمپني 292216540 رپيا منافعو حاصل ڪيو.

**مثال 4:** هڪ ڏڪاندار 16 هفتن ۾ 3,104 ڪاپيون وڪرون ڪيون. هن هر هڪ هفتي ۾ ڪاپين جي ساڳي تعداد وڪرو ڪئي آهي. ٻڌايو ته هڪ هفتي ۾ ڪيتريون ڪاپيون وڪرو ٿيون؟

**حل:** ڪاپين جي تعداد =  $3104 \div 16$  = هفتن جو تعداد

$$\begin{array}{r} 194 \\ 16 \overline{) 3104} \\ \underline{- 16} \phantom{0} \\ 150 \\ \underline{- 144} \\ 64 \\ \underline{- 64} \\ 00 \end{array}$$

اهڙي طرح هڪ هفتي ۾ ڪل 194 ڪاپيون وڪرو ٿيون.

مشق 1.14

- 1 هڪ گاڏي جي قيمت 748,630 رپيا آهي ۽ ٻي گاڏي جي قيمت 630,010 رپيا آهي. ٻڌايو ته ٻنهي گاڏين جي ڪُل قيمت ڇا آهي؟
- 2 شگفته جي بئنڪ کاتي ۾ 389,000 رپيا آهن. هن پنهنجي گهر جي مرمت لاءِ 183,499 رپيا خرچ ڪيا. هن وٽ گهڻي رقم باقي بچي؟
- 3 هڪ ڪڪڙين جي فارم هڪ مهيني ۾ 143,860 ڪڪڙيون وڪيون ۽ ٻئي مهيني ۾ 354,180 ڪڪڙيون وڪرو ڪيون. ان جي وڪري ۾ فرق معلوم ڪريو.
- 4 هڪ ٽي وي جي قيمت 95,400 رپيا آهي. اهڙين 150 ٽي وي جي قيمت معلوم ڪريو.
- 5 هڪ باغ ۾ 56,321 ڪچي جا وڻ آهن. اهڙن 835 باغن ۾ ڪيترا ڪچي جا وڻ هوندا؟
- 6 هڪ اسڪول پڪنڪ تي 4,375 رپيا خرچ ڪيا. رڳو 35 شاگرد پڪنڪ تي ويا. هر هڪ شاگرد پڪنڪ لاءِ ڪيتري رقم ادا ڪندو؟
- 7 نجيب 235 ڪتنن ۾ 3,290 کاڌي جا دٻا هڪجيترا ورهائي پيو. هر هڪ ڪتنب کيترا کاڌي جا دٻا حاصل ڪندو؟

جائزي واري مشق 1

1. صحيح جواب تي (✓) جو نشان لڳايو.

- (i) 2485,612 ۾ 8 جو مڪاني ملهه \_\_\_\_\_ آهي  
 (الف) 800 (ب) 8,000 (ت) 80,000 (ث) 800,000
- (ii) ست انگي عدد \_\_\_\_\_ کي ظاهر ڪري ٿو.  
 (الف) هزار (ب) ملين (ت) ڏهه ملين (ث) سو ملين
- (iii)  $20 + 8 \div 4 =$  \_\_\_\_\_  
 (الف) 4 (ب) 7 (ت) 8 (ث) 22

2. هيٺين عددن کي اکرن ۾ لکو.

- (i) 2,412,316 (ii) 36,123,101 (iii) 600,216

3. هيٺيان عدد انگن ۾ لکو.

- (i) ويهه ملين (ii) هڪ سو ملين.

4. جوڙ ڪريو.

- (i) 416,712 ۽ 712,145 (ii) 900,102 ۽ 812,156

5. ڪٽ ڪريو.

- (i) 967,829 مان 218,822 (ii) 200,603 مان 100,512  
 (iii) 723,444 مان 555,666

6. هيٺيان حل ڪريو.

- (i)  $61243 \times 261$  (ii)  $21588 \times 120$   
 (iii)  $3810 \div 15$  (iv)  $5088 \div 32$   
 (v)  $555 \div 15 \times 2$

7. راحيل جي سالياني بچت 89,560 رپيا آهي، جنهن مان هڪ ٽي وي 35,000 رپين ۾ خريد ڪري ٿو. ٻڌايو ته هن وٽ ڪل ڪيتري رقم باقي بچي؟

## جزا ۽ پيچ اُپتون

## 2.1 ونڊجڻ لاءِ آزمائشون

## 2, 3, 5 ۽ 10 سان ونڊجڻ جا اصول سڃاڻڻ

ونڊجڻ لاءِ آزمائش ڏنل عدد جي، ٻي عدد سان (ونڊ جي عمل کانسواءِ) ونڊجڻ جي چاچ ڪرڻ جو هڪ سڌو سولو ۽ تڪڙو رستو آهي.

ونڊيندڙ جا جزا	عدد
1, 2	2
1, 2, 4	4
	7
	12
	18
	32
	48

2, 4, 5, 7, 9, 12,

18, 24, 32, 48

عملي ڪر



جا ونڊيندڙ يا جزا

معلوم ڪريو.

هر عدد 1 سان پورو پورو ونڊجي سگهجي ٿو.

اچو ته عددن جي چاچ ڪريون.

مثال 1: هيٺين مان ڪهڙو عدد 2 سان پورو پورو ونڊجي سگهجي ٿو.

(ii) 1,456

ايڪن جي جاءِ تي 6 آهي جيڪو هڪ ٻڌي عدد آهي.

انهيءَ ڪري مليل عدد 1456 کي 2 سان پورو پورو ونڊي سگهجي ٿو.

تصديق

$$\begin{array}{r} 728 \\ 2 \overline{) 1456} \\ \underline{-14} \phantom{00} \\ 5 \phantom{00} \\ \underline{-4} \phantom{00} \\ 16 \phantom{00} \\ \underline{-16} \phantom{00} \\ 00 \end{array}$$

(i) 92,357

ايڪن جي جاءِ تي 7 آهي، جيڪو هڪ اڪي عدد آهي.

تنهنڪري مليل عدد 92357 کي 2 سان پورو پورو نٿو ونڊي سگهجي.

تصديق

$$\begin{array}{r} 46268 \\ 2 \overline{) 92537} \\ \underline{-8} \phantom{0000} \\ 12 \phantom{0000} \\ \underline{-12} \phantom{0000} \\ 5 \phantom{0000} \\ \underline{-4} \phantom{0000} \\ 13 \phantom{0000} \\ \underline{-12} \phantom{0000} \\ 17 \phantom{0000} \\ \underline{-16} \phantom{0000} \\ 1 \end{array}$$

نوٽ: جيئن ته پاڇي 0 نه آهي، انهيءَ ڪري مليل عدد 92537 کي 2 سان پورو پورو نٿو ونڊي سگهجي.

جڏهن مليل عدد جي ايڪن وارو انگ ٻڌي يعني 0, 2, 4, 6 يا 8 هوندو ته اهو 2 سان پورو پورو ونڊجي سگهجي ٿو.

مثال 2: هيٺين مان ڪهڙو عدد 3 سان پورو پورو ونڊجي سگهجي ٿو.

1,452 (i)

تصديق

$$\begin{array}{r} 3 \overline{) 1452} \\ \underline{-12} \phantom{0} \\ 25 \phantom{0} \\ \underline{-24} \phantom{0} \\ 12 \phantom{0} \\ \underline{-12} \\ 00 \end{array}$$

حل: انگن جو جوڙ  $1 + 4 + 5 + 2 = 12$   
۽ 12 کي 3 سان پورو پورو ونڊي  
سگهجي ٿو، تنهنڪري مليل عدد 1452  
پڻ 3 سان پورو پورو ونڊي سگهجي ٿو.

62,345 (ii)

تصديق

$$\begin{array}{r} 3 \overline{) 62345} \\ \underline{-6} \phantom{0000} \\ 23 \phantom{000} \\ \underline{-21} \phantom{00} \\ 14 \phantom{00} \\ \underline{-12} \phantom{0} \\ 25 \phantom{0} \\ \underline{-24} \\ 1 \end{array}$$

انگن جو جوڙ  $6 + 2 + 3 + 4 + 5 = 20$   
20 کي 3 سان پورو پورو نٿو ونڊي  
سگهجي. تنهنڪري مليل عدد 62345  
کي 3 سان پورو پورو نٿو ونڊي  
سگهجي.

نوٽ: جيئن ته پاڇي 0 نه آهي، تنهنڪري  
مليل عدد 6234 کي 3 سان پورو پورو  
نٿو ونڊي سگهجي.

انگن کي جوڙ ڪريو، جيڪڏهن نتيجو 3 سان پورو پورو ونڊي سگهجي  
ٿو ته اصل عدد به 3 سان پورو پورو ونڊي سگهجي ٿو.

مثال 3: هيٺين عددن مان ڪهڙو عدد، 5 سان پورو پورو ونڊي سگهجي ٿو.

14673 (i)

مليل عدد 14673 کي 5 سان پورو  
پورو نٿو ونڊي سگهجي، ڇاڪاڻ جو  
ايڪن وارو انگ 0 يا 5 نه آهي.

تصديق

$$\begin{array}{r} 5 \overline{) 14673} \\ \underline{-10} \phantom{000} \\ 46 \phantom{00} \\ \underline{-45} \phantom{0} \\ 17 \phantom{0} \\ \underline{-15} \\ 23 \\ \underline{-20} \\ 3 \end{array}$$

نوٽ: جيئن ته پاڇي 0 نه آهي  
تنهنڪري مليل عدد 14673  
کي 5 سان نٿو ونڊي سگهجي.

31360 (ii)

مليل عدد 31360 کي 5 سان پورو  
پورو ونڊي سگهجي ٿو، ڇاڪاڻ جو  
ايڪن وارو انگ 0 آهي.

تصديق

$$\begin{array}{r} 5 \overline{) 31360} \\ \underline{-30} \phantom{0} \\ 13 \phantom{0} \\ \underline{-10} \phantom{0} \\ 36 \phantom{0} \\ \underline{-35} \\ 10 \\ \underline{-10} \\ 0 \end{array}$$

هڪ عدد 5 سان ونڊي سگهيو، جيڪڏهن ايڪن وارو انگ 0 يا 5 هجي.

مثال 4: هيٺين عددن مان ڪهڙو، 10 سان پورو پورو ونڊي سگهجي ٿو.

16,230 (ii)

هتي مليل عدد 16230 کي 10 سان پورو پورو ونڊي سگهجي ٿو، ڇاڪاڻ جو ايڪن وارو انگ 0 آهي.

تصديق

$$\begin{array}{r} 10 \overline{) 16230} \phantom{0} \\ \underline{10} \phantom{00} \\ 62 \phantom{0} \\ \underline{60} \phantom{0} \\ 23 \phantom{0} \\ \underline{20} \phantom{0} \\ 30 \\ \underline{30} \\ 00 \end{array}$$

24,563 (i)

24563 کي 10 سان پورو پورو نٿو ونڊي سگهجي، ڇاڪاڻ جو ايڪن وارو انگ 0 نه آهي.

تصديق

$$\begin{array}{r} 10 \overline{) 24563} \\ \underline{20} \phantom{00} \\ 45 \phantom{0} \\ \underline{40} \phantom{0} \\ 56 \phantom{0} \\ \underline{50} \phantom{0} \\ 63 \\ \underline{60} \\ 3 \end{array}$$

نوٽ:

جيئن ته پاڇي 0 نه آهي انهيءَ ڪري 24563 کي 10 سان پورو پورو نٿو ونڊي سگهجي.

هڪ عدد 10 سان پورو پورو ونڊي سگهيو، جيڪڏهن ايڪن وارو انگ 0 آهي.

5 - انگي عددن تائين عددن کي 2، 3، 5 ۽ 10 سان ونڊجڻ لاءِ آزمائشون استعمال ڪرڻ

مليل عدد 15381 کي 2، 3، 5 ۽ 10 سان ونڊجڻ جو مشاهدو ڪريو ۽ چڪاس پڻ ڪريو.



حل:

- (1) مليل عدد 15381 ۾ ايڪن وارا انگ 0، 2، 4، 6 ۽ 8 نه آهن تنهنڪري مليل عدد 15381 کي 2 سان پورو پورو ونڊي نٿو سگهجي.
- (2) هاڻي مليل عدد 15381 ۾ انگن جي جوڙ اُپت آهي.  $1 + 5 + 3 + 8 = 18$  جيئن ته 18 کي 3 سان پورو پورو ونڊي سگهجي ٿو، تنهنڪري 15381 کي 3 سان پورو پورو ونڊي سگهجي ٿو.
- (3) 15381 ۾ ايڪن وارا انگ 0 يا 5 نه آهي، تنهنڪري مليل عدد 15381 کي 5 سان پورو پورو ونڊي نٿو سگهجي.
- (4) ايڪن وارو انگ پڻ 0 نه آهي. تنهنڪري 15381 کي 10 سان پورو پورو ونڊي نٿو سگهجي.

## مشق 2.1

1. هيٺين عددن مان ڪهڙا 2 سان پورو پورو ونڊي سگهجن ٿا.

(i) 120 (ii) 1,001 (iii) 1,434 (iv) 2,221 (v) 13,574

2. 3 سان ونڊجڻ لاءِ هيٺين عددن جي جاچ ڪريو.

(i) 135 (ii) 1,471 (iii) 2,100 (iv) 3,331 (v) 31,242

3. هيٺين عددن مان ڪهڙا عدد 5 سان پورو پورو ونڊي سگهجن ٿا.

(i) 1,235 (ii) 5,552 (iii) 6,035 (iv) 10,001 (v) 53,550

4. 10 سان ونڊجڻ لاءِ هيٺين عددن جي جاچ ڪريو.

(i) 1,350 (ii) 2,225 (iii) 30,500 (iv) 13,575 (v) 20,050

5. انهن عددن جي سڃاڻپ ڪريو، جيڪي ٻنهي عددن 5 ۽ 10 سان پورو پورو ونڊي سگهجن.

(i) 12,000 (ii) 2,145 (iii) 4,040 (iv) 12,345 (v) 7,270

6. 2، 3، 5 ۽ 10 سان هيٺين عددن جي ونڊجڻ جو مشاهدو ڪريو.

عدد	2 سان ونڊجڻ	3 سان ونڊجڻ	5 سان ونڊجڻ	10 سان ونڊجڻ
405				
3,354				
2,340				
41,220				
34,329				

2.2 مفرد ۽ مرڪب عدد

مفرد ۽ مرڪب عددن جي وصف بيان ڪرڻ

2000 سال اڳ، هڪ مشهور يوناني رياضي دان ايراطو سٽينس جي مفرد عددن ۾ دلچسپي هئي. هن قدرتي عددن کي 10 ڪالمن ۾ ترتيب سان لکيو. هن جي 1 کان 100 تائين مفرد عدد معلوم ڪرڻ لاءِ ڪنيل ڏاڪن کي توهان به عمل ڪريو.



- "1" هڪ خاص انگ آهي. ان کي ائين ڇڏيو جيئن آهي.
- 2 کان شروع ڪريو، ان تي گول ڪيو ۽ ان کانپوءِ هر ٻئي عدد کي ڪٽيو.
- هاڻي 3 ڏانهن هلو. ان تي گول ڪيو ۽ ان کانپوءِ هر ٽئين عدد کي ڪٽيو.
- اڳيون عدد جنهن تي گول نه ڪڍيو ويو آهي ۽ نه وري ان کي ڪٽيو ويو آهي، اهو آهي 5، ان تي هاڻي گول ڪيو ۽ ان کانپوءِ هر پنجين عدد کي ڪٽيو.
- 5 کانپوءِ ڪهڙو عدد آهي، جنهن تي نه گول ڪڍيو ويو آهي ۽ نه وري ڪٽيو ويو آهي. انهيءَ عدد تي گول ڪيو ۽ ساڳين ڏاڪن تي هلو، جيستائين توهان سڀني عددن (1 کانسواءِ) تي گول ڪيو يا ڪٽيو.

ڇارت هيٺين ريت ڏسڻ ۾ ايندو.

1	2	3	4	5	6	7	8	9	10
11	12	13	14	15	16	17	18	19	20
21	22	23	24	25	26	27	28	29	30
31	32	33	34	35	36	37	38	39	40
41	42	43	44	45	46	47	48	49	50
51	52	53	54	55	56	57	58	59	60
61	62	63	64	65	66	67	68	69	70
71	72	73	74	75	76	77	78	79	80
81	82	83	84	85	86	87	88	89	90
91	92	93	94	95	96	97	98	99	100

عملي ڪم ظاهر ڪري ٿو تہ:

اُهي سڀ عدد جن تي گول ڪڍيو ويو آهي 2، 3، 5، 7، وغيره مفرد عدد آهن. اُهي سڀ عدد جيڪي ڪتيا ويا آهن 4، 6، 8، 9، 12، 14 وغيره مرڪب آهن. ”1“ نہ مفرد ۽ نہ ئي مرڪب عدد آهي. اِهو هڪ خاص قسم جو قدرتي انگ آهي.

مفرد عدد:

اهو عدد جيڪو فقط پنهنجو پاڻ سان يا 1 سان پورو پورو ونڊجي سگهي، ان کي مفرد عدد چئبو آهي. جهڙوڪ 2، 3، 5 ۽ 41 وغيره. اِهي فقط پنهنجو پاڻ ۽ 1 کانسواءِ ٻئي ڪنهن به عدد سان ونڊجي نٿا سگهجن.

مرڪب عدد:

عدد 1 کانسواءِ، اُهي عدد جن جا ونڊيندڙ ٻن کان وڌيڪ هجن، انهن کي مرڪب عدد چئبو آهي.

متين عملي ڪم مان اهو به ظاهر ٿيو ته رڳو هڪڙو ئي اهڙو مفرد عدد آهي، جيڪو ٻڌي عدد آهي، باقي ٻيا سڀ مفرد عدد، اڪي آهن. ٻڌايو اهو عدد ڪهڙو آهي.

مرڪب عدد، ٻه يا ٻن کان وڌيڪ مفرد عددن جي ضرب اُپت جي صورت ۾ لکي سگهجن ٿا.

مثال طور:  $5 \times 2 = 10$

مثال طور: 1، 2، 4 سان 4 پورو پورو ونڊي سگهجي ٿو.

18 کي 1، 2، 3، 6، 9 ۽ 18 سان پورو پورو ونڊي سگهجي ٿو. انهيءَ ڪري 4 ۽ 18 مرڪب عدد آهن. ان ڳالهه جي شاگرد پاڻ چڪاس ڪن.

مفرد ۽ مرڪب عددن جي وچ ۾ فرق معلوم ڪرڻ

نتيجو	ونڊيندڙ	عدد
فقط ٻه ونڊيندڙ هڪ مفرد عدد	1 ۽ 37	37
ٻن کان وڌيڪ ونڊيندڙ هڪ مرڪب عدد	1، 2، 3، 6، 7، 14، 21 ۽ 42	42
فقط ٻه ونڊيندڙ هڪ مفرد عدد	1 ۽ 19	19
ٻن کان وڌيڪ ونڊيندڙ هڪ مرڪب عدد	1، 7، 11، 77 ۽ 77	77

• هڪ مفرد عدد کي فقط ٻه ونڊيندڙ هوندا آهن.

• هڪ مرڪب عدد کي ٻن کان وڌيڪ ونڊيندڙ هوندا آهن.

اُستاد لاءِ هدايت:

اُستاد کي گهرجي ته شاگردن کي مفرد ۽ مرڪب عددن جو تصور سيکارڻ کانپوءِ شاگردن کان مفرد ۽ مرڪب عددن جا زباني سوال پڇي.

## مشق 2.2

1. هيٺين مان مفرد عددن جي سڃاڻپ ڪريو.

- (i) 22 (ii) 41 (iii) 63 (iv) 51 (v) 81  
(vi) 119 (vii) 223 (viii) 1 (ix) 101 (x) 222

2. هيٺين مان مرڪب عددن جي سڃاڻپ ڪريو.

- (i) 34 (ii) 71 (iii) 163 (iv) 351 (v) 81  
(vi) 19 (vii) 23 (viii) 100 (ix) 18 (x) 135

3. هيٺين مان مفرد ۽ مرڪب عدد جدا ڪريو.

41, 42, 43, 44, 45, 46, 47, 48, 49, 50,  
51, 52, 53, 54, 55, 56, 57, 58, 59, 60.

4. 1 ۽ 20 جي وچ وارا سڀ مفرد عدد لکو.

5. 10 ۽ 30 جي وچ وارا سڀ مرڪب عدد لکو.

6. 20 ۽ 40 جي وچ وارا سڀ مفرد ۽ مرڪب عدد لکو.

## 2.3 جڙا ۽ پيڇ اُپتون

50 تائين عددن جي جڙن جي فهرست ٺاهڻ

1. جڙا

هڪ جڙو ڏنل عدد کي پورو پورو ونڊي ٿو ۽ پاڇي ٻڙي ڏئي ٿو.

مثال 1: 6 جا جڙا 1, 2, 3 ۽ 6 آهن.

12 جا جڙا 1, 2, 3, 4, 6 ۽ 12 آهن.



اُستاد کي گهرجي ته جڙن ۽ پيڇ اُپتن جا ڪجهه عملي ڪم ڪرائي.

اُستاد لاءِ هدايت:

مثال 2:



ڪنهن به عدد جي جزن جي ضرب اُپت معلوم ڪرڻ جي لاءِ توهان ڪهڙو عمل ڪندا؟

- 9، 10، 15، 18، 42 ۽ 50 جا سڀ جزا لکو.  
 9 جا جزا 1، 3 ۽ 9 آهن.  
 15 جا جزا 1، 3، 5 ۽ 15 آهن.  
 10 جا جزا 1، 2، 5 ۽ 10 آهن.  
 18 جا جزا 1، 2، 3، 6، 9 ۽ 18 آهن.  
 42 جا جزا 1، 2، 3، 6، 7، 14، 21 ۽ 42 آهن.  
 50 جا جزا 1، 2، 5، 10، 25 ۽ 50 آهن.

2. پيچ اُپتون:



هن بسڪوٽ جي قيمت 2 رپيا آهي. هر هڪ بسڪوٽ جيڪو توهان خريد ڪندا، ان جي قيمت 2 جي جوڙ سان وڌندي. قيمتون ٽينديون 2 رپيا، 4 رپيا، 6 رپيا وغيره. انهيءَ ڪري 2 جون پيچ اُپتون 2، 4، 6 ۽ 8 آهن.



$$2 \times 1 = 2$$

مثال: هڪ Eclairs جي قيمت

بن جي قيمت



$$2 \times 2 = 4$$

تن جي قيمت



$$2 \times 3 = 6$$

انهيءَ ڪري 2 جون پيچ اُپتون 2، 4، 6، 8..... آهن.

ضرب جيڪا توهان گذريل ڪلاس ۾ سکي آهي. اها ڪنهن عدد جي پيچ اُپت معلوم ڪرڻ ۾ مدد ڪري سگهي ٿي. 2, 3, 4, 5 جون ڪجهه پيچ اُپتون هيٺ ڏنل آهن.

$2 \times 1 = 2$	$3 \times 1 = 3$	$4 \times 1 = 4$	$5 \times 1 = 5$
$2 \times 2 = 4$	$3 \times 2 = 6$	$4 \times 2 = 8$	$5 \times 2 = 10$
$2 \times 3 = 6$	$3 \times 3 = 9$	$4 \times 3 = 12$	$5 \times 3 = 15$
$2 \times 4 = 8$	$3 \times 4 = 12$	$4 \times 4 = 16$	$5 \times 4 = 20$

اصول:



مثال: هڪ انگي عدد جي پهرين ٻارهن پيچ اُپتن جي فهرست ٺاهڻ

حل: 8 ۽ 6 جون پهريون ٻارهن پيچ اُپتون لکو.

6 جون پهريون ٻارهن پيچ اُپتون آهن.  
6, 12, 18, 24, 30, 36, 42, 48, 54, 60, 66, 72

8 جون پهريون ٻارهن پيچ اُپتون آهن.  
8, 16, 24, 32, 40, 48, 56, 64, 72, 80, 88, 96

جزن ۽ پيچ اُپتن جي وچ ۾ فرق ڪرڻ

6 جا جزا 1, 2, 3 ۽ 6 آهن. انهن جي ڳڻپ ٿي سگهي ٿي.	$1 \times 6 = 6$ $2 \times 3 = 6$ $3 \times 2 = 6$ $6 \times 1 = 6$	6 جون پيچ اُپتون 6, 12, 18, ... آهن ۽ اهي لامحدود آهن.
---	--	--

$6 \times 1 = 6$   
 $6 \times 2 = 12$   
 $6 \times 3 = 18$   
 $6 \times 4 = 24$   
 . . . . .

جزن ۽ ضرب اُپتن جو تعلق عددين جي ضرب ۽ ونڊ سان هوندو آهي.

مشق 2.3

1. 4، 7 ۽ 9 جون پهريون ٻارهن پيچ اُپتون لکو.
2. هيٺ ڏنل خانن ۾ 16، 26 ۽ 45 جا سڀ جزا لکو.
3. هيٺين عددن مان 7 جي سڀني پيچ اُپتن تي گول ڪيو.  
14، 24، 28، 35، 45، 56، 62، 84، 69
4. 20 ۽ 90 جي وچ ۾ 8 جون سڀ پيچ اُپتون لکو.
5. 50 جا سڀ جزا لکو.

2.4 مفرد جزن واري ضربِي صورت

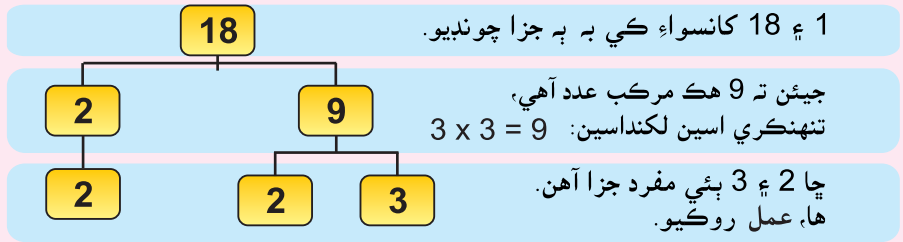
عددن کي مفرد جزن جي ضرب اُپت ۾ لکڻ جي طريقي کي، مفرد جزن واري ضربِي صورت چئبو آهي.

مفرد جزا استعمال ڪندي، ڪنهن عدد جي ضربِي صورت معلوم ڪرڻ

مفرد جزن واري ضربِي صورت جا ٻه طريقا آهن:

1. جزن جي وڻ وارو طريقو:
2. ونڊ وارو طريقو

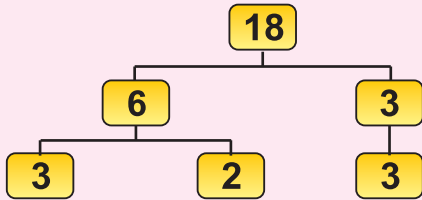
مثال: 18 جي مفرد جزن واري ضربِي صورت معلوم ڪريو.



اهڙي طرح اسين لکي سگهون ٿا.  $18 = 2 \times 3 \times 3$

جڏهن ته 18 جا مفرد جزا 2 ۽ 3 آهن.

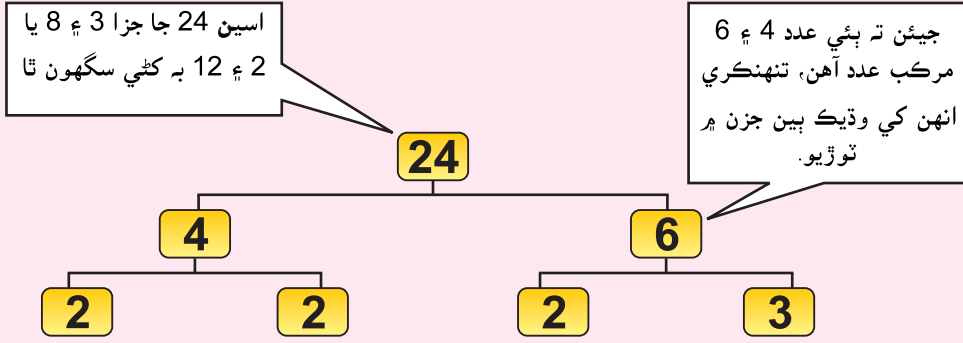
اسين 18 جا جزا 3 ۽ 6 به کڻي سگهون ها.



اهڙي طرح ائين به لکي سگهون ٿا.

$$3 \times 2 \times 3 = 18$$

مثال 2: 24 جي مفرد جزن واري ضربِي صورت معلوم ڪريو.



24 جا مفرد جزا 2, 2, 2, 3, ۽ 2 آهن.

2. ونڊ وارو طريقو

مثال 2:

2	24	
2	12	جيئن ته $2 \times 12 = 24$
2	6	جيئن ته $2 \times 6 = 12$
3	3	جيئن ته $2 \times 3 = 6$
	1	جيئن ته $3 \times 1 = 3$
$24 = 2 \times 2 \times 2 \times 3$ تنهنڪري		

مثال 1:

2	18	
3	9	جيئن ته $2 \times 9 = 18$
3	3	جيئن ته $3 \times 3 = 9$
	1	جيئن ته $3 \times 1 = 3$
$18 = 2 \times 3 \times 3$ تنهنڪري		

### مشق 2.4

- هيٺين عددين جا سڀ جزا لکو ۽ مفرد جزن جي هيٺيان ليڪ ڪريو.  
12 (i) 20 (ii) 25 (iii) 44 (iv) 64 (v) 28 (vi)
- مفرد جزن جي وڻ واري طريقي سان، هيٺين عددين جي ضربِي صورت معلوم ڪريو.  
36 (i) 54 (ii) 27 (iii) 45 (iv) 32 (v) 82 (vi)
- ونڊ واري طريقي کي استعمال ڪندي، هيٺين عددين جي ضربِي صورت معلوم ڪريو.  
63 (i) 45 (ii) 72 (iii) 54 (iv) 38 (v) 90 (vi)

استاد کي گهرجي ته شاگردن کان جزن واري وڻ ۽ ونڊ واري طريقي سان سوال بليڪ بورڊ تي حل ڪرائي.

اُستاد لاءِ هدايت:

2.5 وڏو عام پورو ونڊيندڙ (و.ع.پ. و)

به يا ٻن کان وڌيڪ 2 - انگي عددن جا عام جزا معلوم ڪرڻ

اچو ته پهريائين ڪن به ٻن عددن جا جزا لکون.

مثال 1: 18 جا جزا 1, 2, 3, 6, 9 ۽ 18 آهن.

24 جا جزا 1, 2, 3, 4, 6, 8, 12 ۽ 24 آهن.

18 ۽ 24 جا عام جزا 1, 2, 3, 6 آهن.

18 ۽ 24 جا جزا، عام جزا 1, 2, 3 ۽ 6 آهن جن مان 6 سڀ کان وڏو آهي.

تنهنڪري 6 کي 18 ۽ 24 جو وڏو عام پورو ونڊيندڙ چئبو.

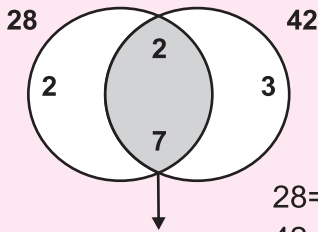
2 يا وڌيڪ 2 - انگي عددن جو هيٺين طريقن کي استعمال ڪندي و.ع.پ. و معلوم ڪرڻ

(i) وين شڪل (ii) مفرد ضربِي صورت

2 انگي عددن جو و.ع.پ. و معلوم ڪرڻ لاءِ هيٺين مثالن تي غور ڪريو.

مثال 1: وين شڪل ۽ مفرد ضربِي صورت کي استعمال ڪندي 28 ۽ 42 جو وڏو

عام پورو ونڊيندڙ معلوم ڪريو.



1. وين شڪل

اچو ته وين شڪل کي استعمال ڪندي 28 ۽ 42

جا مفرد جزا معلوم ڪريون.

28 جي مفرد جزن واري ضربِي صورت آهي:  $28 = 2 \times 2 \times 7$

42 جي مفرد جزن واري ضربِي صورت آهي:  $42 = 2 \times 3 \times 7$

و.ع.پ. و  $14 = 2 \times 7$

2. مفرد ضربِي صورت

اچو ته ونڊ وارو طريقو استعمال ڪندي، 28 ۽ 42 جا مفرد جزا معلوم ڪريون.

2	28
2	14
7	7
	1

2	42
3	21
7	7
	1

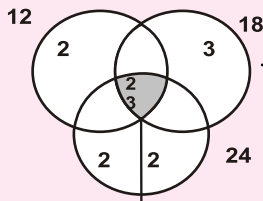
$28 = 2 \times 2 \times 7$   
 $42 = 2 \times 3 \times 7$  } عام جزن تي گولائي وارو وڪڙ يعني زنجير لڳايو.

$14 = 2 \times 7$  } سڀني عام جزن جي ضربِي اپت

اُستاد ٻين عددن جو سيٽ استعمال ڪري سگهي ٿو ۽ عددن جو و.ع.پ. و معلوم ڪرڻ جو تصور سيکاري.

اُستاد لاءِ هدايت:

**مثال 3:** وٺڻ شڪل ۽ مفرد ضرب جي صورت استعمال ڪندي 12، 18 ۽



24 جو وڏو عام پورو ونڊيندڙ معلوم ڪري. اچو ته وٺڻ شڪل جي مدد سان 12، 18 ۽ 24 جا جڙا لھون.

تنھنڪري و.ع.پ.و

مفرد ضرب جي صورت سان

اچو ته وٺڻ شڪل جي مدد سان 12، 18 ۽ 24 جا مفرد جڙا لھون.

2	12
2	6
3	3
	1

2	18
3	9
3	3
	1

2	24
2	12
2	6
3	3
	1

$$12 = 2 \times 2 \times 3$$

$$18 = 2 \times 3 \times 3$$

$$24 = 2 \times 2 \times 2 \times 3$$

و.ع.پ.و  $2 \times 3 = 6$

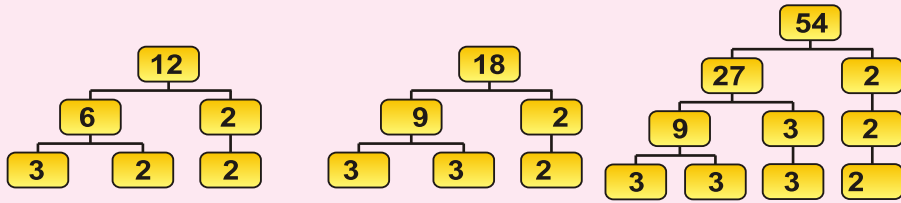


**مثال 4:** وٺڻ شڪل ۽ مفرد ضرب جي استعمال ڪندي 12، 18 ۽ 54 جو وڏو عام

پورو ونڊيندڙ لھو.

مفرد ضرب جي صورت سان

اچو ته 12، 18 ۽ 54 جا مفرد جڙا لھون

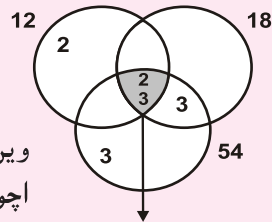


$$12 = 2 \times 2 \times 3$$

$$18 = 2 \times 3 \times 3$$

$$54 = 2 \times 3 \times 3 \times 3$$

و.ع.پ.و  $2 \times 3 = 6$



وٺڻ شڪل جي مدد سان

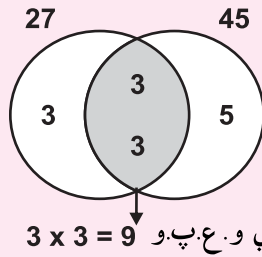
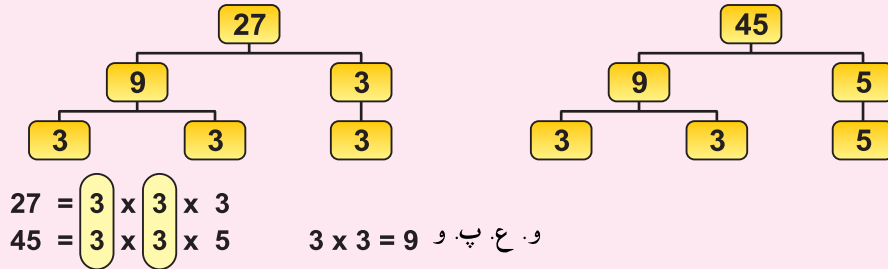
اچو ته 12، 18 ۽ 54 جا وٺڻ شڪل جي مدد سان جڙا لھون

و.ع.پ.و  $2 \times 3 = 6$

مثال 5: وڃن شڪل ۽ مفرد ضربِي صورت استعمال ڪندي 27 ۽ 45 جو وڏو عام پورو ونڊيندڙ معلوم ڪريو.

مفرد ضربِي صورت سان:

اچو ته جڙن جي وڻ وارو طريقو استعمال ڪندي 27 ۽ 45 جا مفرد جڙا معلوم ڪريون.



وڃن شڪل سان:

اچو ته وڃن شڪل استعمال ڪندي 27 ۽ 45 جا مفرد جڙا معلوم ڪريون.

$27 = 3 \times 3 \times 3$   
 $45 = 3 \times 3 \times 5$

### مشق 2.5

1. هيٺين عددن جي جوڙن جا سڀئي جڙا معلوم ڪريو ۽ عام جڙن تي گول لڳايو.

- (i) 12 ۽ 18 (ii) 10 ۽ 15 (iii) 22 ۽ 44  
 (iv) 8 ۽ 32 (v) 24 ۽ 36

2. مفرد ضربِي صورت واري طريقي سان هيٺين عددن جو و.ع.پ. و معلوم ڪريو.

- (i) 36 ۽ 42 (ii) 28 ۽ 42 (iii) 45 ۽ 75  
 (iv) 25 ۽ 75 (v) 18 ۽ 72 (vi) 32 ۽ 64  
 (vii) 60 ۽ 90 (viii) 25 ۽ 40

3. وڃن شڪل سان هيٺين عددن جو و.ع.پ. و معلوم ڪريو.

- (i) 24 ۽ 36 (ii) 63 ۽ 54 (iii) 40 ۽ 44  
 (iv) 48 ۽ 84 (v) 22 ۽ 24 (vi) 14 ۽ 21

و.ع.پ. و سان واسطو رکندڙ روزمره زندگيءَ جا لکتی حساب حل ڪرڻ  
**مثال 1:** 48 سينٽي ميٽر ۽ 64 سينٽي ميٽر ڊيگهه جي ٻن تارن کي برابر ٽڪرن ۾ ڪپڻو آهي. ٽڪرن جي وڏي ۾ وڏي ممڪن ڊيگهه معلوم ڪريو.

**حل:** اسان کي وڏي ۾ وڏي ڊيگهه معلوم ڪرڻي آهي جنهن ۾ هر هڪ تار ورهائي سگهجي هر هڪ تار جي وڏي ۾ وڏي ممڪن ڊيگهه معلوم ڪرڻ لاءِ، اسان کي 48 ۽ 64 جو و.ع.پ. و معلوم ڪرڻو پوندو.

2	48
2	24
2	12
2	6
3	3
	1

2	64
2	32
2	16
2	8
2	4
2	2
	1

$$48 = 2 \times 2 \times 2 \times 2 \times 3$$

$$64 = 2 \times 2 \times 2 \times 2 \times 2 \times 2$$

$$2 \times 2 \times 2 \times 2 = \text{و.ع.پ. و}$$

$$16 = \text{و.ع.پ. و}$$

اهڙي طرح تار جي ٽڪرن جي وڏي ۾ وڏي ممڪن ڊيگهه 16 س. م آهي جنهن ۾ تار برابر ٽڪرن ۾ ڪپي سگهجي.

**مثال 2:** هڪ اسڪول ۾ 80، 112 ۽ 144 اسڪائوٽن جون 3 ڪمپنيون آهن. اسڪائوٽن جي وڏي ۾ وڏي تعداد معلوم ڪريو، جنهن سان هر هڪ ٽيم کي برابر حصن ۾ ورهائي سگهجي.

2	80
2	40
2	20
2	10
5	5
	1

2	112
2	56
2	28
2	14
7	7
	1

2	144
2	72
2	36
2	18
3	9
3	3
	1

$$80 = 2 \times 2 \times 2 \times 2 \times 5$$

$$112 = 2 \times 2 \times 2 \times 2 \times 7$$

$$144 = 2 \times 2 \times 2 \times 2 \times 3 \times 3$$

$$2 \times 2 \times 2 \times 2 = 16 = \text{و.ع.پ. و}$$

انهيءَ ڪري

استاد روزمره زندگيءَ سان جڙيل ڪجهه ٻيا مثال کڻي، جهڙوڪ ٻنيءَ کيڙڻ ۾ ڪلاڪن جو لڳڻ، ڪار جو مفاصلو طئي ڪرڻ، هاريءَ جو فصل لٽڻ وارو خرچو وغيره وغيره

استاد لاءِ هدايت:

**مثال 3:** شيبا وٽ 3 ڪپڙا آهن. انهن تنهي ڪپڙن جي ماپ 12، 24 ۽ 30 ميٽر آهي. هنن ٽڪڙن کي برابر حصن ۾ ڪٽڻ جا هي ٽي ته ان لاءِ ڊگهي ۾ ڊگهي ماپ ڪيتري رکڻي پوندي.

اسان ڊگهي ۾ ڊگهي ماپ جيڪا انهن کي برابر حصن ۾ ورهائڻ لاءِ و.ع.پ.و جي مدد وٺنداسين. هاڻي

2	12
2	6
3	3
	1

2	24
2	12
2	6
3	3
	1

2	30
3	15
5	5
	1

تنهنڪري

$$12 = 2 \times 2 \times 3$$

$$24 = 2 \times 2 \times 2 \times 3$$

$$30 = 2 \times 3 \times 5$$

هن کي هر ٽڪري کي 6 ميٽر واري ماپي سان ڪٽڻو پوندو. و.ع.پ.و =  $2 \times 3 = 6$

### مشق 2.6

1. گهڙي ۾ گهڻو شاگردن جو تعداد معلوم ڪريو، جنهن ۾ حيدر 36 ۽ 48 جيليءَ جا پيالو برابر ورهائي سگهي.
2. گڻڙين جو وڏو ۽ وڏو تعداد معلوم ڪريو، جنهن ۾ 18 سائيس جا ڪتاب، 24 رياضيءَ جا ڪتاب يا 36 انگريزيءَ جا ڪتاب برابر ٻڌجي سگهجن.
3. 44 ميٽر ۽ 66 ميٽر ڊيگهه جون ٻه ربنون برابر ٽڪرن ۾ ڪپيون وڃن ٿيون. ربنن جي ٽڪر جي وڏو ۽ وڏو ڊيگهه معلوم ڪريو.
4. مونا وٽ ميز پوش جا ٻه ٽڪر آهن، هڪ جي ويڪر 48 سينٽي ميٽر ۽ ٻئي جي ويڪر 90 سينٽي ميٽر آهي. هيءُ ٻنهي ٽڪرن کي ساڳي ويڪر وارين پٽين ۾ ڪپڻ چاهي ٿي. هر هڪ پٽي جي ويڪر ڇا ٿيڻ گهرجي؟
5. اُستاد وٽ 32 ڳاڙها ڦوڪڻا، 28 نيرا ڦوڪڻا ۽ 20 ساوا ڦوڪڻا آهن. هي شاگردن ۾ برابر برابر ورهائڻ چاهي ٿو. ڦوڪڻن جو هڪجيترو تعداد معلوم ڪريو، جيڪي شاگردن ۾ ورهائڻ لاءِ وڌيڪ مناسب هجي.
6. ذوالفقار وٽ ٽي ٿانو آهن جن ۾ 144، 176 ۽ 246 لٽر ناريل جو تيل آهي. وڏي ۾ وڏي ٿانو جي گنجائش معلوم ڪريو جنهن سان هي تيل کي آساني سان ماپي سگهجي.

2.6 ننڍي عام ڀڃ اُڀت (ن.ع.پ. اُ)

ٻه يا ٻن کان وڌيڪ 2 - انگي عددين جون عام ڀڃ اُڀتون معلوم ڪرڻ

ڪن ٻه ٻن عددين جون عام ڀڃ اُڀتون جيڪي ٻنهي عددين ۾ عام هجن انهن کي عام ڀڃ اُڀتون چئبو آهي.

مثال 1:

اچو ته عددين 4 ۽ 6 کان شروع ڪريون:

4 جون عام ڀڃ اُڀتون = 4, 8, 12, 16, 20, 24, 28, 32, 36, ...

6 جون عام ڀڃ اُڀتون = 6, 12, 18, 24, 30, 36, 42, 48, 54, ...

4 ۽ 6 جون عام ڀڃ اُڀتون 12, 24, 36, ... آهن:

عام ڀڃ اُڀتن جو ڪو ڇيڙو نه هوندو آهي. ڇاڪاڻ جو ڀڃ اُڀتون محدود نه هونديون آهن.

مثال 2:

8 ۽ 12 جون پهريون چار عام ڀڃ اُڀتون معلوم ڪريو.

8 جون عام ڀڃ اُڀتون = 8, 16, 24, 32, 40, 48, 56, 64, 72, 80, 88, 96, ...

12 جون عام ڀڃ اُڀتون = 12, 24, 36, 48, 60, 72, 84, 96, 108, ...

اسين ڏسون ٿا ته 8 ۽ 12 جون پهريون چار عام ڀڃ اُڀتون 24, 48, 72 ۽ 96 آهن.

ننڍي عام ڀڃ اُڀت معلوم ڪرڻ (i) عام ڀڃ اُڀتن سان (ii) مفرد ضربِي صورت سان

ٻن عددين جي ننڍي عام ڀڃ اُڀت (ن.ع.پ. اُ) معلوم ڪرڻ لاءِ مٿين مثالن تي غور ڪريو.

مثال 1 ۾ 4 ۽ 6 جي عام ڀڃ اُڀتن مان سڀ کان ننڍي عام ڀڃ اُڀت 12 آهي. ڇا وڏي ۾ وڏي عام ڀڃ اُڀت جو وجود آهي؟ تنهنڪري 4 ۽ 6 جي ننڍي عام ڀڃ اُڀت 12 آهي.

ساڳئي طريقي سان مثال 2 ۾، 8 ۽ 12 جي عام پيڇ اُپتن مان 24 ننڍي ۾ ننڍي آهي، تنهنڪري 8 ۽ 12 جي ننڍي عام پيڇ اُپت 24 آهي. انهي ن.ع.پ. اُ معلوم ڪرڻ واري طريقي کي عام پيڇ اُپتن وارو طريقو چئبو آهي. ٻيو طريقو مفرد ضربِي صورت وارو طريقو آهي.

**مثال 1:** مفرد ضربِي صورت واري طريقي سان 24، 36 ۽ 48 جي ننڍي عام پيڇ اُپت معلوم ڪريو.

2	24
2	12
2	6
3	3
	1

2	36
2	18
3	9
3	3
	1

2	48
2	24
2	12
2	6
3	3
	1

$$24 = 2 \times 2 \times 2 \times 3$$

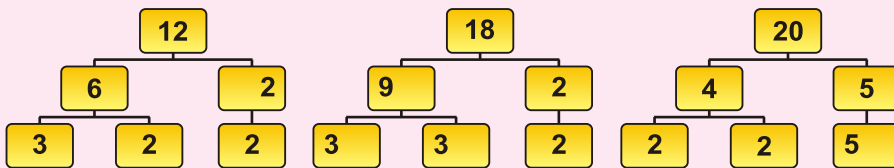
$$36 = 2 \times 2 \times 3 \times 3$$

$$48 = 2 \times 2 \times 2 \times 2 \times 3$$

ن.ع.پ. اُ سڀني ڏنل عددن سان لازمي ونڊي آهي.

ننڍي عام پيڇ اُپت = عام جزن جي ضرب اُپت غير عام جزن جي ضرب اُپت  
 ن.ع.پ. اُ  $2 \times 2 \times 2 \times 3 \times 3 \times 2 = 144$

**مثال 2:** مفرد ضربِي صورت سان 12، 18، 20 جي ننڍي عام پيڇ اُپت لھو.



$$12 = 2 \times 2 \times 3$$

$$18 = 2 \times 3 \times 3$$

$$20 = 2 \times 2 \times 5$$

$$\text{ن.ع.پ.ا} = 2 \times 2 \times 2 \times 3 \times 3 \times 3 \times 5 = 1080$$

## مشق 2.7

1. عام پيچ اُپتن واري طريقي سان هيٺين عددن جي ن.ع. پ. اُ معلوم ڪريو.

20 ۽ 10	(iii)	14 ۽ 12	(ii)	15 ۽ 25	(i)
		5 ۽ 7	(v)	9 ۽ 6	(iv)

2. مفرد ضرب صورت واري طريقي سان هيٺين عددن جي ن.ع. پ. اُ معلوم ڪريو.

36 ۽ 15	(ii)	18 ۽ 42	(i)
15 ۽ 35	(iv)	45 ۽ 12	(iii)
24 ۽ 27	(vi)	48 ۽ 20	(v)
18 ۽ 30	(viii)	63 ۽ 45	(vii)
36 ۽ 30	(x)	22 ۽ 33	(ix)

ن.ع. پ. اُ سان واسطو رکندڙ روزمره زندگيءَ جا لکتِي حساب حل ڪرڻ

ن.ع. پ. اُ سان واسطو رکندڙ روزمره زندگيءَ جا لکتِي حساب حل ڪرڻ.

**مثال 1:** اڄ فٽ بال ۽ باسڪيٽ بال جي ٻنهي ٽيمن جو ميچ هو. فٽ بال ٽيم هر ٽي ڏينهن ڪيڏي ٽي ۽ باسڪيٽ ٽيم پر پنجين ڏينهن ڪيڏي ٽي. هاڻي اهي ٻئي ٽيمن وري ڪڏهن ميچ ڪيڏنديون؟

**حل:** 3 ۽ 5 جي ننڍي عام پيچ اُپت 15 آهي. ان جو مطلب 15 ڏينهن کان پوءِ اهي ٻئي ٽيمن جو ميچ ڪيڏنديون.

**مثال 2:** ريسٽورنٽ ۾ هڪ مينيجر بنس 8 جي پيڪيج ۾، برگر 10 جي پيڪيج ۾ ۽ شامي ڪباب 6 جي پيڪيج ۾ خريد ڪري ٿو. گهٽ ۾ گهٽ پيڪيج جو ڇا تعداد هجي، جو ٽئي شيون هڪ جيتريون وٺي سگهجن  
**حل:** 8، 10 ۽ 6 جي ننڍي عام پيچ اُپت 12 آهي. هن کي بنس، شامي ڪباب ۽ برگر لاءِ گهٽ ۾ گهٽ 120 پيڪيج وٺڻ گهرجن.

مثال 3: 3 گھنٽيون 7، 10 ۽ 14 منٽن جي ترتيبوار وقفي سان وڃن ٿيون. اهي ساڳئي وقت ۾ وڃڻ شروع ڪن ٿيون. هاڻ اهو معلوم ڪيو ته ڪيتري وقفي کان پوءِ اهي ٽئي گڏ وڃنديون؟

حل: تنهنجي گھنٽين جو وقفو 7، 10 ۽ 14 منٽ آهي.

$$\begin{array}{r|l} 2 & 7, 10, 14 \\ \hline 5 & 7, 5, 7 \\ \hline 7 & 7, 1, 7 \\ \hline & 1, 1, 1 \end{array}$$

ن.ع.پ.ا = 7، 10 ۽ 14

ن.ع.پ.ا =  $2 \times 5 \times 7 = 70$

تنهنڪري اهي ٽئي گھنٽيون 70 منٽ جي وقفي کان پوءِ وڃنديون.

مشق 2.8

1. علي روز 9 رپيا بچائي ٿو جڏهن ته ماريه روز 12 رپيا بچائي ٿي. هاڻي گھٽ ۾ گھٽ ڪيترن ڏينهن کان پوءِ انهن ٻنهي وٽ ساڳيا پيسا بچندا؟
2. 12 انچز ڊگھن دٻن جي پاسي ۾ 10 انچز ڊگھا دٻا رکجن ٿا. ننڍي ۾ ننڍي اوچائي فوت ۾ معلوم ڪريو ته هي ٻئي دٻن جون شيون گھٽ ۾ گھٽ ڪيتري اوچائي تي برابر هونديون؟
3. ٻه ماڻهو ماروٿرن ريس ۾ ريس شروع ٿيڻ جي 72 منٽن کان پوءِ ساڳئي وقت ۾ پاڻي جو ڍڪ ڀرين ٿا. جيڪڏهن پهريون ماڻهو هر 9 منٽن ۾ پاڻي جو ڍڪ ڀري ٿو ته ٻڌايو ته ٻيو ماڻهو ڪيترا ڀيرا پاڻي جو ڍڪ ڀريندو؟
4. هڪ ريڊيو اسٽيشن گانو ”هو جمالو“ هر ٻي ڏينهن تي هلائي ٿي. هڪ ٻي اسٽيشن ساڳيو گانو هر ٽي ڏينهن تي هلائي ٿي. تيهه ڏينهن ۾ ساڳيو گانو ٻئي اسٽيشنون گھڻا دفعا ساڳي ڏينهن تي هلائڻ ٿيون؟
5. علي هر 12 ڏينهن کان پوءِ ڊوڙي ٿو، انيس هر 8 ڏينهن تي ڊوڙي ٿو ۽ امين هر 6 ڏينهن تي ڊوڙي ٿو. گھٽ ۾ گھٽ ڪيترن ڏينهن کان پوءِ اهي ٽئي ساڳي ڏينهن ڊوڙ ڪندا؟
6. علي هر 15 ڏينهن ۾ اظھر هر 20 ڏينهن باغ گھمڻ وڃن ٿا. علي ۽ اظھر ٻئي اڃ ملن ٿا. ٻڌايو ته ڪيترن ڏينهن کانپوءِ اهي ٻئي باغ ۾ ٻيهر ملندا؟

جائزي واري مشق 2

1. صحيح جواب چونڊيو.

(i) هيٺين مان ڪهڙو عدد 2 سان پورو پورو ونڊجي سگهي ٿو.

(الف) 567 (ب) 484

(ج) 257 (د) 193

(ii) هيٺين مان ڪهڙو عدد 3 سان پورو پورو ونڊجي سگهي ٿو.

(الف) 143 (ب) 483

(ج) 367 (د) 941

(iii) هيٺين مان ڪهڙو عدد 2 ۽ 10 سان پورو پورو ونڊجي سگهي ٿو.

(الف) 4579 (ب) 3921

(ج) 4050 (د) 2108

(iv) 39 ۽ 52 جو و. ع. پ. و ڇا آهي؟

(الف) 39 (ب) 26

(ج) 13 (د) 1

(v) 48 ۽ 66 جي ن. ع. پ. ا ڇا آهي؟

(الف) 528 (ب) 185 (ج) 246 (د) 114

2. 36، 69، 48 جو و. ع. پ. و ۽ ن. ع. پ. ا معلوم ڪريو.

3. 37 ۽ 41 جو و. ع. پ. و ۽ ن. ع. پ. ا ڇا آهي. وضاحت ڪيو ته توهان جواب ڪيئن حاصل ڪيو؟

4. مسز سائمر 45 پيٽيس، 55 سموسا ۽ 75 جوس برابر ورهائڻ چاهي ٿي. شاگردن جي وڌ ۾ وڌ تعداد معلوم ڪريو جن ۾ اهو سامان پورو پورو ورهائجي سگهي؟

5. ردا پنهنجي سالگره جي پارٽي ڪيفي ٿيريا ۾ ڪري پئي. هي هر هڪ پنهنجي ساهيڙيءَ ۾ 15 سينڊوچ، 30 پيزا جا ٽڪر پورا پورا ورهائڻ چاهي ٿي. معلوم ڪريو ته پارٽي ۾ ڪيترين ساهيڙين کي دعوت ڏئي سگهجي ٿي؟

## اٽپور

## 3.1 اٽپور

اٽپور جي وصف بيان ڪرڻ

برابر حصن ۾ ورهايل سڄي جو، ڪو حصو اٽپور آهي.


 $\frac{3}{4}$ 

انس

چيد

ڪنيل حصن جو تعداد

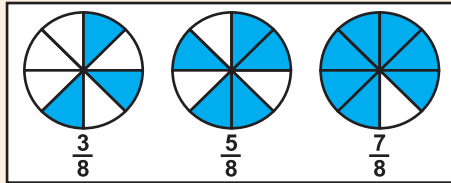
ڪل حصن جو تعداد

مثال: شڪلين جا غير رنگدار حصا اٽپور ۾ ڏيکاريل آهن ۽ لفظن ۾ پڻ لکيل آهن.

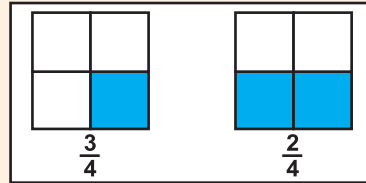
هڪ سڄو هڪ رنگدار حصو		هڪ ڇهين پتي $\frac{5}{6}$ 
هڪ اڌ		هڪ ستين پتي $\frac{6}{7}$ 
هڪ ٽين پتي		هڪ اٺين پتي $\frac{7}{8}$ 
هڪ چوٿين پتي		هڪ نائين پتي $\frac{8}{9}$ 
هڪ پنجين پتي		هڪ ڏهين پتي $\frac{9}{10}$ 

هم ڇيد اڻپور غير هم ڇيد اڻپور جي سڃاڻپ ڪرڻ  
هيٺين شڪلين کي ڏسو.

رنگدار



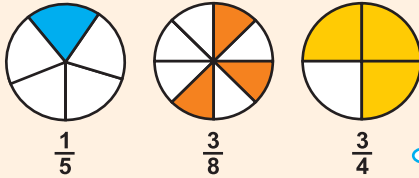
غير رنگدار



توهان ڇا مشاهدو ڪيو؟

هڪ شڪل برابر حصن ۾ ورهايل آهي.  
هر حالت ۾ ڇيد ساڳيو آهي.  
هڪ سڄو ساڳي حصن جي تعداد ۾ ورهايل آهي.  
انهن کي هم ڇيد اڻپور چئبو آهي.  
اهي اڻپور جن جا ڇيد مختلف هجن، انهن کي غير هم ڇيد اڻپور چئبو آهي.

مثال طور رنگ دار حصا



هڪ سڄو مختلف حصن  
جي تعداد ۾ ورهايل آهي.

غير هم ڇيد اڻپور آهن.

مثال: هم ڇيد ۽ غير هم ڇيد اڻپورن جا جوڙا ڌار ڪريو.

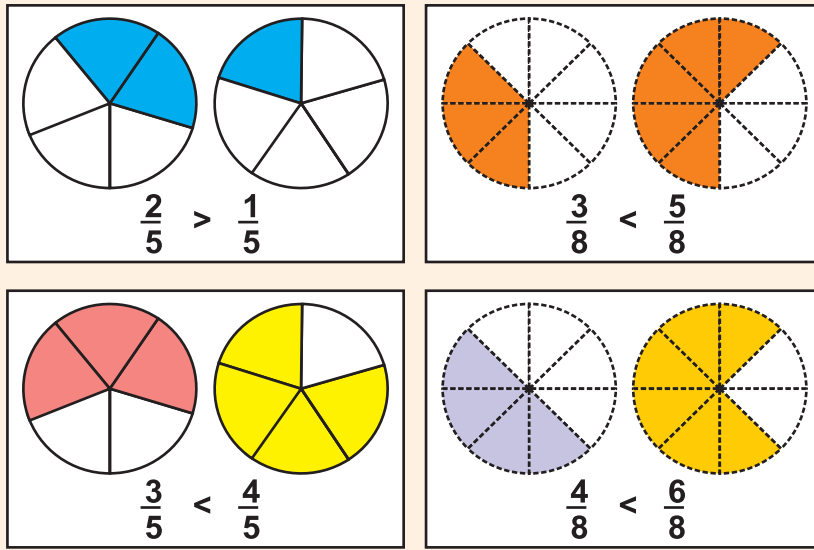
(i)  $\frac{3}{4}$ ,  $\frac{5}{7}$       (ii)  $\frac{1}{5}$ ,  $\frac{2}{5}$

حل:

$\frac{1}{5}$ ,  $\frac{2}{5}$  هم ڇيد اڻپورن جو جوڙو

$\frac{3}{4}$ ,  $\frac{5}{7}$  غير هم ڇيد اڻپورن جو جوڙو

ساڳي چيد جي برابر اٽپورن ۾ متائيندي ٻن غير هم چيد اٽپورن جي پيٽ ڪرڻ گذريل ڪلاس ۾ اسان سکي آيا آهيون ته هم چيد اٽپورن جي پيٽ ڪيئن ڪجي. اچو ته پهريائين ڪيل ڪم کي دؤر ڪري ياد ڪريون. رنگدار حصي سان ڏيکاريل اٽپورن جي پيٽ ڪريو.



هم چيد اٽپورن واري حالت ۾، رڳو انس کي ڏسو. وڏي انس وارو اٽپور وڏو ملهه ظاهر ڪري ٿو.

مثال:

$$\frac{8}{9} > \frac{5}{9} \quad , \quad \frac{7}{11} > \frac{2}{11} \quad , \quad \frac{1}{16} < \frac{5}{16} \quad , \quad \frac{2}{7} < \frac{5}{7}$$

اسين غير هم چيد اٽپورن جي به پيٽ ڪري سگهون ٿا.

مثال: توهان کي ڪيئن خبر پوندي ته  $\frac{3}{4}$  کان  $\frac{4}{7}$  ننڍو آهي يا وڏو آهي.

حل:

پهريائين انهن غير هم چيد اٽپورن کي ساڳي چيد وارن برابر اٽپورن ۾ تبديل ڪريو.

4 ۽ 7 جي ن. ع. پ. اُ 28 آهي

برابر اڻپور، ساڳي عدد سان انس ۽ چيد کي ضرب ڪرڻ سان حاصل ٿيندا آهن. اهي اصل اڻپور جي ملهه کي تبديل نه ڪندا آهن.

هاڻي اسين مختلف چيدن کي ساڳيو ڪريون ٿا.

$$\frac{3}{4} = \frac{3 \times 7}{4 \times 7} = \frac{21}{28}$$

$$\frac{4}{7} = \frac{4 \times 4}{7 \times 4} = \frac{16}{28}$$

هاڻي اهي هر چيد اڻپور آهن.

تنهنڪري رڳو انس جي پاڻ ۾ پيٽ ڪريو.

ياد رکو:

- پهريائين چيدن جي ن.ع.پ. اُ معلوم ڪريو.
- چيد کي ن.ع.پ. اُ ۾ تبديل ڪرڻ لاءِ انس ۽ چيد کي ساڳي عدد سان ضرب ڪريو.

$$\frac{21}{28} > \frac{16}{28}$$

$$\frac{3}{4} > \frac{4}{7} \text{ تنهنڪري}$$

اڻپورن کي ننڍ وڏائي ۽ وڏ ننڍائي ترتيب ڏيڻ

مثال 1:

هيٺين اڻپورن کي ننڍ وڏائي ۽ وڏ ننڍائي ترتيب ڏيو.

$$\frac{6}{7}, \frac{2}{7}, \frac{1}{7}, \frac{3}{7}$$

$$\text{حل: } \frac{6}{7}, \frac{2}{7}, \frac{1}{7}, \frac{3}{7}$$

جيئن ته اهي هر چيد اڻپور آهن، تنهنڪري رڳو انس جي پيٽ ڪريو.

ننڍ وڏائي ترتيب

$$\frac{1}{7}, \frac{2}{7}, \frac{3}{7}, \frac{6}{7}$$

وڏ ننڍائي ترتيب

$$\frac{6}{7}, \frac{3}{7}, \frac{2}{7}, \frac{1}{7}$$

ننڍ وڏائي ترتيب جو اُبتڙ ڪريو.

مثال 2:  $\frac{5}{9}$  ۽  $\frac{4}{5}$  جي پيٽ ڪريو.

حل:

$$\frac{5}{9} = \frac{5 \times 5}{9 \times 5} = \left(\frac{25}{45}\right) \quad 5 \text{ ۽ } 9 \text{ جي ن. ع. پ. اُ } 45 \text{ آهي.}$$

$$\frac{4}{5} = \frac{4 \times 9}{5 \times 9} = \left(\frac{36}{45}\right) \quad \text{تنهنڪري ٻنهي اٺپورن جو چيد 45 آهي}$$

اسان ٻنهي اٺپورن جي انسن جي پيٽ ڪنداسين.

$$25 < 36 \quad \text{چاڪاڻ جو}$$

$$\frac{5}{9} < \frac{4}{5} \quad \text{تنهنڪري}$$

مثال 3: هيٺين اٺپورن کي ننڍو وڏائي ۽ وڏو ننڍائي ترتيب ۾ لکو.

$$\frac{2}{9}, \frac{5}{6}, \frac{7}{12}, \frac{1}{3}$$

حل:

جيئن ته اهي عدد هم چيد اٺپور آهن، اسان کي پهريان انهن کي برابر اٺپورن ۾ تبديل ڪرڻو پوندو.

ڏاڪو 1: چيدن جي ن. ع. پ. اُ کڻو.

(9, 6, 12 ۽ 3 جي ن. ع. پ. اُ 36 آهي)

ڏاڪو 2: چيد ۾ ن. ع. پ. اُ حاصل ڪرڻ لاءِ انس ۽ چيد کي ساڳي عدد سان ضرب ڪريو.

$$\frac{2 \times 4}{9 \times 4} = \left(\frac{8}{36}\right), \frac{5 \times 6}{6 \times 6} = \left(\frac{30}{36}\right), \frac{7 \times 3}{12 \times 3} = \left(\frac{21}{36}\right), \frac{1 \times 12}{3 \times 12} = \left(\frac{12}{36}\right)$$

$$\frac{8}{36}, \frac{30}{36}, \frac{21}{36}, \frac{12}{36} \quad \text{يا}$$

هاڻي هر هڪ اٺپور جي انس کي ڏسندي، ترتيب ڏيڻ آسان آهي.

هيءَ ڳالهه ياد رکو جيڪڏهن  
چيڊ ساڳيا آهن ته جنهن اٽپور جو  
انس وڏو هوندو، ان اٽپور جو ملهه  
به وڏو هوندو.

ننڍ وڏائي ترتيب

$$\frac{8}{36}, \frac{12}{36}, \frac{21}{36}, \frac{30}{36}$$

$$\frac{2}{9}, \frac{1}{3}, \frac{7}{12}, \frac{5}{6} \quad \text{يا}$$

وڏ ننڍائي ترتيب

$$\frac{5}{6}, \frac{7}{12}, \frac{1}{3}, \frac{2}{9}$$

اٽپور کي سندس سادي صورت ۾ مٽائڻ

ساڳي عدد سان انس ۽ چيڊ کي ونڊ ڪندي، مليل اٽپور کي سندس سادي صورت  
۾ مٽائي سگهجي ٿو.

مثال 1:  $\frac{30}{45}$  کي سادي صورت ۾ آڻيو.

حل:  $\frac{30}{45}$  اهي اڃا 3 سان ونڊجي سگهجن ٿا

$$\frac{30 \div 3}{45 \div 3} = \frac{10}{15}$$

جيئن ته هر هڪ انس ۽ چيڊ رڳو 1 سان ونڊجي سگهجي ٿو.

$$\frac{10}{15} = \frac{10 \div 5}{15 \div 5} = \frac{2}{3}$$

اهڙي طرح هائي سادي صورت وارو عمل روڪيو

اُستاد کي گهرجي ته شاگردن کي ن.ع.پ. اُجو استعمال ڪندي  
ننڍ وڏائي ۽ وڏ ننڍائي ترتيب مثال سان سڀڪاري

اُستاد لاءِ هدايت

## مشق 3.1

1. هيٺين اٽپورن جي جوڙن مان، هر چيد ۽ غير هر چيد اٽپورن جي سڃاڻپ ڪريو.

$$\begin{array}{lll} \frac{7}{17} \text{ ۽ } \frac{8}{17} \text{ (iii)} & \frac{2}{15} \text{ ۽ } \frac{2}{9} \text{ (ii)} & \frac{6}{7} \text{ ۽ } \frac{2}{7} \text{ (i)} \\ \frac{3}{4} \text{ ۽ } \frac{1}{4} \text{ (vi)} & \frac{7}{10} \text{ ۽ } \frac{7}{11} \text{ (v)} & \frac{6}{11} \text{ ۽ } \frac{3}{10} \text{ (iv)} \\ \frac{77}{27} \text{ ۽ } \frac{4}{27} \text{ (ix)} & \frac{16}{19} \text{ ۽ } \frac{11}{19} \text{ (viii)} & \frac{13}{15} \text{ ۽ } \frac{4}{13} \text{ (vii)} \end{array}$$

2. پهريان مليل اٽپورن کي هر چيد اٽپورن ۾ تبديل ڪندي، خالي خانن کي "<" يا ">" يا "=" جي نشانين سان ڀريو.

$$\begin{array}{lll} \text{(i)} \quad \frac{3}{8} \square \frac{3}{8} & \text{(ii)} \quad \frac{5}{6} \square \frac{4}{9} & \text{(iii)} \quad \frac{7}{12} \square \frac{1}{4} \\ \text{(iv)} \quad \frac{2}{7} \square \frac{13}{14} & \text{(v)} \quad \frac{6}{15} \square \frac{3}{10} & \text{(vi)} \quad \frac{9}{11} \square \frac{16}{22} \end{array}$$

3. هيٺين اٽپورن کي ننڍو وڏائي ۽ وڏو ننڍائي ترتيب ۾ لکو.


$$\begin{array}{ll} \text{(i)} \quad \frac{6}{7}, \frac{9}{7}, \frac{5}{7} & \text{(ii)} \quad \frac{5}{6}, \frac{2}{3}, \frac{5}{9} \\ \text{(iii)} \quad \frac{2}{5}, \frac{1}{3}, \frac{4}{15} & \text{(iv)} \quad \frac{5}{12}, \frac{4}{8}, \frac{3}{4}, \frac{1}{6} \\ \text{(v)} \quad \frac{9}{8}, \frac{7}{2}, \frac{13}{6}, \frac{5}{4} & \text{(vi)} \quad \frac{5}{12}, \frac{7}{6}, \frac{7}{4}, \frac{5}{2} \end{array}$$

4. هيٺين اٽپورن کي سندن سادي صورت ۾ مٽايو.

$$\text{(i)} \quad \frac{24}{32} \quad \text{(ii)} \quad \frac{18}{27} \quad \text{(iii)} \quad \frac{30}{50} \quad \text{(iv)} \quad \frac{14}{42} \quad \text{(v)} \quad \frac{33}{66}$$

3.2 اڻپور جا قسم

اڪائي اڻپور، واجب اڻپور، غير واجب اڻپور ۽ مرڪب اڻپور کي سڃاڻڻ



انس هميشه هڪ جي برابر هوندو آهي.

اڪائي اڻپور



$$\frac{1}{2}$$



$$\frac{1}{5}$$



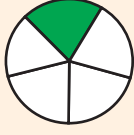
$$\frac{1}{4}$$

اهي سڀ اڪائي اڻپورا آهن.

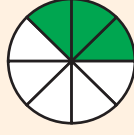


هن اڻپور ۾ انس چيد کان ننڍو هوندو آهي.

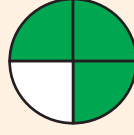
واجب اڻپور



$$\frac{1}{5}$$




$$\frac{3}{8}$$



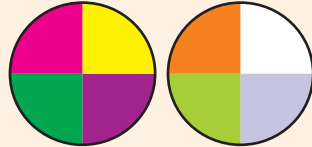
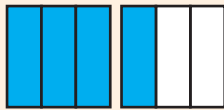
$$\frac{3}{4}$$

اهي سڀ اڻپور 1 کان گهٽ يعني ننڍا آهن.



اهي اڻپور جنهن ۾ انس چيد کان وڏو يا برابر هوندو آهي.

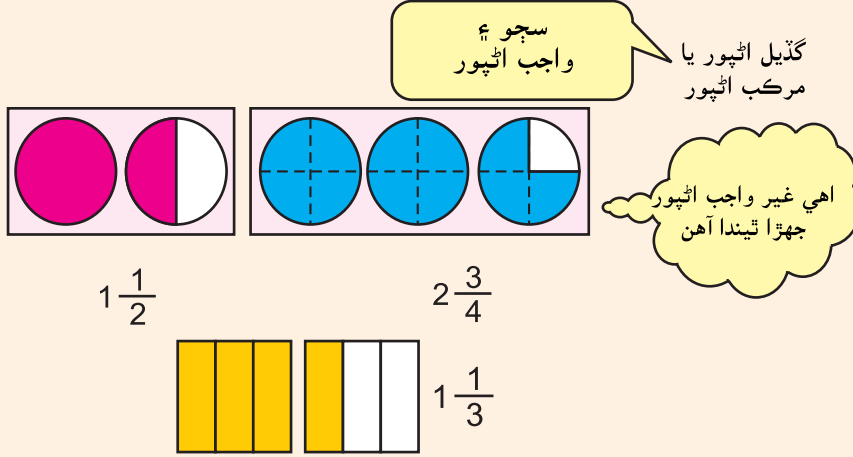
غير واجب اڻپور



اهي سڀ اڻپور 1 کان وڏا آهن.

$$\frac{3}{3} + \frac{1}{3} = \frac{4}{3}$$

$$\frac{4}{4} + \frac{3}{4} = \frac{7}{4}$$



غير واجب اٽپور کي مرڪب اٽپور ۾ تبديل ڪرڻ ۽ مرڪب اٽپور کي غير واجب اٽپور ۾ تبديل ڪرڻ.

مثال 1:  $5\frac{1}{2}$  مرڪب اٽپور کي غير واجب اٽپور ۾ مٽايو

5 سڄا = 10 اٽ

10 اٽ = 1 اٽ + 11 اٽ

$$5\frac{1}{2} = \frac{11}{2}$$

مثال 2:  $\frac{13}{4}$  غير واجب اٽپور کي مرڪب اٽپور ۾ مٽايو.

چار چوٽائي = 1 سڄو

13 چوٽائي = 3 سڄو هڪ چوٽائي


(1 پاڇي  $13 \div 4 = 3$ )

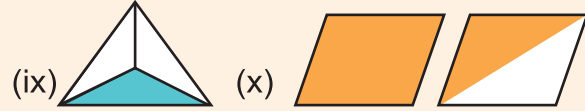
$$\frac{13}{4} = 3\frac{1}{4}$$

## مشق 3.2

1. سڃاڻپ ڪريو ته هيٺين مان ڪهڙا اڪائي، واجب، غير واجب يا مرڪب اٽپور آهن.

(i)  $\frac{1}{3}$  (ii)  $\frac{1}{4}$  (iii)  $\frac{19}{4}$  (iv)  $\frac{1}{7}$

(v)  $\frac{5}{9}$  (vi)  $2\frac{1}{8}$  (vii)  $\frac{4}{3}$  (viii) 



2. هيٺين غير واجب اٽپورن کي مرڪب اٽپورن ۾ تبديل ڪريو.

(i)  $\frac{43}{7}$  (ii)  $\frac{29}{4}$  (iii)  $\frac{74}{9}$  (iv)  $\frac{14}{6}$

(v)  $\frac{28}{5}$  (vi)  $\frac{67}{3}$  (vii)  $\frac{85}{11}$  (viii)  $\frac{86}{5}$

3. هيٺين مرڪب اٽپورن کي غير واجب اٽپورن ۾ تبديل ڪريو.

(i)  $4\frac{3}{10}$  (ii)  $5\frac{2}{3}$  (iii)  $6\frac{1}{2}$  (iv)  $3\frac{2}{7}$

(v)  $8\frac{1}{4}$  (vi)  $1\frac{11}{13}$  (vii)  $7\frac{7}{8}$  (viii)  $2\frac{6}{7}$

## 3.3 اٽپورن جو جوڙ ۽ ڪٽ

گذريل ڪلاس ۾ اسان سکي آيا آهيون ته هر چيد اٽپورن جو جوڙ ۽ ڪٽ ڪيئن ڪجي. اچو ته پهريائين ان ڪيل ڪم کي ياد ڪريون.

مثال 2:  $\frac{7}{11} - \frac{4}{11}$  حل ڪريو.

حل:


$$\frac{7}{11} - \frac{4}{11} = \frac{3}{11}$$

مثال 1:  $\frac{2}{7} + \frac{3}{7}$  جوڙ ڪريو.

حل:

$$\frac{2}{7} + \frac{3}{7} = \frac{5}{7}$$

عملي ڪم



حل ڪريو.

$$\frac{3}{7} + \frac{5}{7} = \square$$

$$\frac{4}{5} - \frac{2}{5} = \square$$

$$\frac{2}{9} + \frac{3}{9} = \square$$

$$\frac{9}{15} - \frac{8}{15} = \square$$

$$\frac{5}{7} + \frac{1}{7} = \square$$

$$\frac{7}{15} - \frac{4}{15} = \square$$

$$\frac{6}{10} + \frac{3}{10} = \square$$

$$\frac{7}{12} - \frac{6}{12} = \square$$

$$\frac{5}{12} + \frac{2}{12} = \square$$

$$\frac{8}{14} - \frac{5}{14} = \square$$

$$\frac{7}{11} + \frac{2}{11} = \square$$

$$\frac{13}{17} - \frac{4}{17} = \square$$

مختلف ڇيد وارن اٽپور جو جوڙ ڪرڻ

مثال 1: جوڙ ڪريو.  $\frac{2}{3} + \frac{5}{6}$ 

ڇيدن جي ن.ع.پ. اُڪڻندي، اسين پهريان انهن اٽپورن کي هم ڇيد اٽپورن ۾ تبديل ڪنداسين.

$$\frac{2}{3} = \frac{2 \times 2}{3 \times 2} = \frac{4}{6}$$

حل:

برابر اٽپورن وارو  
طريقي استعمال ڪندي

$$\frac{2}{3} + \frac{5}{6} \rightarrow \text{ن.ع.پ. اُ 6 آهي.}$$

$$= \frac{4}{6} + \frac{5}{6} \rightarrow \text{هاڻي انهن کي  
پاڻ ۾ جوڙ ڪريو}$$

$$= \frac{4}{6} + \frac{5}{6}$$

$$= \frac{9}{6} = \frac{3}{2}$$

$$= 1 \frac{1}{2}$$

هميشه پنهنجو جواب  
سادي صورت ۾ لکو.استاد کي گهرجي ته شاگردن کي مختلف ڇيد وارن اٽپورن جي جوڙ ۽  
ڪٽ ۾ ن.ع.پ. اُ جي استعمال تي زور ڏين.

اُستاد لاءِ هدايت

مثال 3: حل ڪريو.  $1\frac{3}{5} + 2\frac{1}{10}$

غير واجب اٽپورن ۾ تبديل ڪريو.

$$= \frac{8}{5} + \frac{21}{10}$$

انهن کي هم چيد اٽپورن ۾ تبديل ڪريو. ن.ع.پ. ا. 10 =

$$= \frac{8 \times 2}{5 \times 2} + \frac{21 \times 1}{10 \times 1}$$

انسن جو جوڙ ڪريو.

$$= \frac{16}{10} + \frac{21}{10}$$

$$= \frac{16 + 21}{10}$$

$$= \frac{37}{10}$$

سادي صورت ۾ کڻي اچو جيڪڏهن ممڪن هجي.

$$\begin{array}{r} 37 \\ - 30 \\ \hline 7 \end{array}$$

$$= 3\frac{7}{10}$$

هميشه پنهنجو جواب سادي صورت ۾ رکو.

ساڳي چيد وارن اٽپورن ۾ جوڙ جي لحاظ کان مٿا سٽا واري خاصيت ثابت ڪرڻ

جڏهن اسين ٻن اٽپورن جو جوڙ ڪنداسين ته ترتيب ۾ تبديليءَ سان جوڙ اُپٽ ۾ ڪابه تبديلي نه ايندي. اهو هميشه ساڳيو رهندو. ان عمل کي جوڙ جي لحاظ کان اٽپورن جي مٿا سٽا واري خاصيت چئبو آهي

مثال: چڪاس ڪريو.  $\frac{4}{17} + \frac{9}{17} = \frac{9}{17} + \frac{4}{17}$

حل: چڪاس

$$\begin{array}{ccc} \boxed{\frac{4}{17} + \frac{9}{17}} & \xrightarrow{=} & \boxed{\frac{9}{17} + \frac{4}{17}} \\ = \frac{4+9}{17} & & = \frac{9+4}{17} \\ = \frac{13}{17} & \xrightarrow{\text{نتيجو ساڳيو آهي}} & = \frac{13}{17} \end{array}$$

$$\frac{4}{17} + \frac{9}{17} = \frac{9}{17} + \frac{4}{17} \text{ اهڙي طرح}$$

اسين ڏسون ٿا ته جوڙ ڪرڻ ۾ ترتيب جي ڪا اهميت نه آهي.

ساڳي ڇيد وارن اٽپورن ۾ جوڙ جي سنگت واري خاصيت ثابت ڪرڻ هن خاصيت جي مطابق، جڏهن اسين ٽي اٽپور جوڙ ڪنداسين ته ترتيب ۾ تبديلي جوڙ اُپت تي اثر انداز نه ٿيندي. اها ساڳي رهندي.

**مثال:** ثابت ڪريو ته  $\frac{2}{9} + \left(\frac{4}{9} + \frac{7}{9}\right) = \left(\frac{2}{9} + \frac{4}{9}\right) + \frac{7}{9}$

**حل:** چڪاس

$$\begin{array}{ccc} \boxed{\frac{2}{9} + \left(\frac{4}{9} + \frac{7}{9}\right)} & = & \boxed{\left(\frac{2}{9} + \frac{4}{9}\right) + \frac{7}{9}} \\ = \frac{2}{9} + \frac{11}{9} & & = \frac{6}{9} + \frac{7}{9} \\ = \frac{13}{9} & \text{نتيجو ساڳيو آهي.} & = \frac{13}{9} \end{array}$$

اهڙي طرح  $\frac{2}{9} + \left(\frac{4}{9} + \frac{7}{9}\right) = \left(\frac{2}{9} + \frac{4}{9}\right) + \frac{7}{9}$

مختلف ڇيد وارن اٽپورن جي ڪٽ ڪرڻ

اسين ڄاڻون ٿا ته هر ڇيد اٽپورن جي ڪٽ ۾ رڳو انسن جي ڪٽ ٿيندي آهي ۽ ڪٽ اُپت (فرق) ۾ ڇيد اهوئي رهندو، جيڪو ڏنل اٽپورن جو آهي.

**مثال 1:** ڪٽ ڪريو.  $\frac{5}{8} - \frac{1}{2}$

**حل:** 8 ۽ 2 جي ن.ع.پ. معلوم ڪريو

يا برابر اٽپورن کي لکندي  $\frac{1}{2}$

اسان حاصل ڪريون ٿا  $\frac{1 \times 4}{2 \times 4} = \frac{4}{8}$  انهيءَ ڪري

$$\begin{aligned} \frac{5}{8} - \frac{1}{2} &= \frac{5 \times 1 - 1 \times 4}{8} \\ &= \frac{5 - 4}{8} \\ &= \frac{1}{8} \end{aligned}$$

2	8, 2
2	4, 1
2	2, 1
	1, 1

ن.ع.پ.  $8 = 2 \times 2 \times 2 = 8$

مثال 2: سادي صورت ۾ آڻيو.  $3\frac{3}{4} - 1\frac{1}{6}$

حل: غير واجب اٽپورن ۾ تبديل ڪريو ۽ پوءِ ڇيڊن جي ن.ع.پ. اُ معلوم ڪريو.

$$\begin{aligned} &= 3\frac{3}{4} - 1\frac{1}{6} = \frac{15}{4} - \frac{7}{6} \\ &= \frac{15 \times 3 - 7 \times 2}{12} \\ &= \frac{45 - 14}{12} = \frac{31}{12} = 2\frac{7}{12} \end{aligned}$$

### مشق 3.3

1. هيٺيان اٽپور جوڙ ڪريو. پنهنجو جواب سادي صورت ۾ لکو.

- |  |  |
|--|--|
| (i) $\frac{2}{3} + \frac{11}{9}$                 | (ii) $\frac{7}{6} + \frac{1}{2}$                   |
| (iii) $\frac{8}{10} + \frac{1}{2} + \frac{2}{4}$ | (iv) $\frac{3}{4} + \frac{1}{2} + \frac{4}{6}$     |
| (v) $3\frac{1}{2} + 5\frac{1}{3}$                | (vi) $5\frac{1}{3} + 2\frac{3}{4}$                 |
| (vii) $\frac{2}{3} + 1\frac{1}{5} + \frac{3}{2}$ | (viii) $2\frac{1}{7} + \frac{2}{5} + 1\frac{1}{7}$ |

2. هيٺيان اٽپور ڪٽ ڪريو. پنهنجو جواب سادي صورت ۾ لکو.

- |                                     |                                   |  |
|-------------------------------------|-----------------------------------|--|
| (i) $\frac{5}{6} - \frac{1}{2}$     | (ii) $\frac{7}{8} - \frac{3}{4}$  | (iii) $\frac{4}{5} - \frac{1}{3}$                |
| (iv) $3\frac{3}{10} - 1\frac{1}{4}$ | (v) $9\frac{1}{2} - 3\frac{1}{5}$ | (vi) $\frac{4}{5} - \frac{1}{10} - \frac{2}{15}$ |

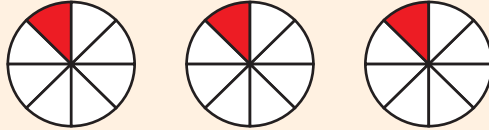
3. خال ڀرڻ لاءِ جوڙ جي مٿا سٽا ۽ سنگت واري خاصيت جو استعمال ڪريو.

- |   |  |
|---|--|
| (i) $\frac{3}{5} + \frac{7}{4} = \dots + \frac{3}{5}$   | (ii) $\frac{2}{9} + \dots = \frac{4}{7} + \dots$ |
| (iii) $\frac{1}{3} + \left(\frac{1}{5} + \frac{1}{4}\right) = \left(\frac{1}{3} + \dots\right) + \frac{1}{4}$ |  |
| (iv) $\frac{3}{10} + \left(\dots + \frac{4}{5}\right) = \left(\dots + \frac{2}{7}\right) + \frac{4}{5}$       |  |

3.4 اٽپورن جي ضرب

اٽپورن جي سڄي عدد سان ضرب ڪرڻ

هيٺ ڏنل شڪلين تي غور ڪريو.



هر هڪ شڪل ۾ رنگدار حصو اٽپور  $\frac{1}{8}$  کي ظاهر ڪري ٿو. اهي رنگدار حصا

گڏجي يعني ملائي، ڪل  $\frac{3}{8}$  ٿين ٿا.

$$\frac{1}{8} + \frac{1}{8} + \frac{1}{8} = \frac{3}{8} \text{ يا}$$

اهو ائين لکي سگهجي ٿو.

$$3 \times \frac{1}{8} = \frac{3}{8} \leftarrow 3 \text{ ساڳيو آهي جيئن } \frac{3}{1}$$

هڪ عدد کي اٽپور سان ضرب ڪرڻ وقت ان جي سڄي عدد جي اٽپورن کي انس سان ضرب ڪريو.

مثال 1:	عمل جا ڏاڪا	مثال 2:
$5 \times \frac{3}{4}$ $= \frac{5 \times 3}{4}$ $= \frac{15}{4}$ $= 3 \frac{3}{4}$	<p>انس کي سڄي عدد سان ضرب ڪريو.</p> <p>سادي صورت ۾ آڻيو، جيڪڏهن ممڪن هجي.</p> <p>مرڪب اٽپور ۾ تبديل ڪريو. (جيڪڏهن غير واجب اٽپور) هجي.</p> <p>پنهنجو جواب سادي صورت ۾ لکو.</p>	$7 \times \frac{3}{14}$ $= \frac{21}{14}$ $= \frac{3}{2}$ $= 1 \frac{1}{2}$

ٻه يا ٻن کان وڌيڪ اٽپورن (واجب، غير واجب ۽ مرڪب اٽپور) جي ضرب ڪرڻ

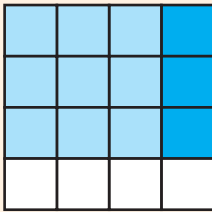


اها شڪل  $\frac{3}{4}$  جي ظاهر ڪري ٿي.

$\frac{3}{4}$  جو  $\frac{1}{4}$  معلوم ڪرڻ اسين

$\frac{3}{4}$  کي وڌيڪ چار برابر حصن

۾ ورهائينداسين ۽ چئن مان هڪ حصي کي رنگ ڪنداسين.



اها شڪل  $\frac{3}{4}$  جو  $\frac{1}{4}$  ظاهر ڪري ٿي،

$\frac{3}{16}$  جيڪو  $\frac{3}{4}$  آهي (ٻه دفعا رنگ ڪيل حصو)

اهو شڪل جي صورت ۾  $\frac{3}{4}$  جو  $\frac{1}{4}$  آهي.

$\frac{3}{4}$  جو  $\frac{1}{4}$  ائين لکي سگهجي ٿو.

$$= \frac{1}{4} \times \frac{3}{4}$$

$$= \frac{1 \times 3}{4 \times 4}$$

انس ۽ چيد کي ضرب ڪريو.

$$= \frac{3}{16}$$

ضرب اُپت کي سادي صورت ۾ لکو.

مثال 1: حل ڪريو.  $\frac{2}{9} \times \frac{3}{5} \times \frac{1}{2}$

حل:  $\frac{2}{9} \times \frac{3}{5} \times \frac{1}{2}$

$$= \frac{2 \times 3 \times 1}{9 \times 5 \times 2}$$

انس ۽ چيدن جي عددن کي ضرب ڪريو.

$$= \frac{6}{90} \div \frac{3}{3}$$

$$= \frac{6 \div 3}{90 \div 3} = \frac{2}{30} = \frac{1}{15}$$

اُستاد کي گهرجي ته شاگردن کي جاميٽريءَ جي شڪلين جي مدد سان اٽپورن جي ضرب جو تصور سمجھائي، سيڪاري ۽ پڪو ڪرائي.

اُستاد لاءِ هدايت

مرڪب اٽپورن جي ضرب ڪرڻ

مرڪب اٽپورن جي ضرب ڪرڻ ۾ رڳو هڪ وڌيڪ ڏاڪو گهرجي ٿو. يعني پهريان مرڪب اٽپورن کي ضرور غير واجب اٽپورن ۾ تبديل ڪريو. باقي ڏاڪا اهي ساڳيا ئي آهن، جيڪي بن يا بن کان وڌيڪ اٽپورن جي ضرب جا آهن.

مثال 1:	عمل جا ڏاڪا	مثال 2:
$1\frac{7}{3} \times 3\frac{1}{9}$		$4\frac{2}{5} \times 3\frac{7}{11}$
$= \frac{10}{3} \times \frac{28}{9}$	• مرڪب اٽپورن کي غير واجب اٽپورن ۾ تبديل ڪريو ۽ جيڪڏهن ممڪن هجي ته سادي صورت ۾ آڻيو.	$= \frac{22}{5} \times \frac{40}{11}$
$= \frac{10 \times 28}{3 \times 9}$	• انس ۽ چيد کي ضرب ڪريو.	$= \frac{22 \times 40}{5 \times 11}$
$= \frac{280}{27}$	• ضرب اُپت کي مرڪب اٽپورن ۾ مٽايو. (جيڪڏهن غير واجب اٽپورن هجي)	$= \frac{880}{55}$
$= 10\frac{10}{27}$	• پنهنجي جواب کي سادي صورت ۾ رکو.	$= \frac{176}{11}$
		$= 16$

مشق 3.4

1. هيٺين اٽپورن کي سادي صورت ۾ لکو.

(i)  $\frac{5}{6}$  جو 9 (ii)  $\frac{4}{8}$  جو 6 (iii)  $\frac{3}{14}$  جو 45

2. هيٺين اٽپورن جي ضرب اُپت معلوم ڪريو.

(i)  $\frac{1}{2} \times \frac{4}{10}$  (ii)  $\frac{6}{9} \times \frac{8}{6}$  (iii)  $\frac{15}{21} \times \frac{6}{9} \times \frac{1}{2}$

(iv)  $\frac{12}{24} \times \frac{15}{18}$  (v)  $\frac{6}{12} \times \frac{21}{24}$  (vi)  $\frac{8}{16} \times \frac{4}{8} \times \frac{3}{2}$

(vii)  $4\frac{4}{5} \times 4\frac{3}{3}$  (viii)  $8\frac{1}{4} \times 3\frac{2}{6}$  (ix)  $8\frac{4}{5} \times 3\frac{6}{8}$

اُستاد کي گهرجي ته اٽپورن ۾ ضرب جي سنگت واري خاصيت جي وضاحت لاءِ ڪجهه ٻيا مثال استعمال ڪري.

اُستاد لاءِ هدايت

## 3.5 اٽپورن جي ونڊ

هڪ اٽپورن جي سڄي عدد سان ونڊ ڪرڻ  
اٽپورن جي سڄي عدد سان ونڊ ڪي سمجهڻ لاءِ هيٺين حل ٿيل مثال تي غور ڪريو.

مثال 1: حل ڪريو.  $4 \div \frac{1}{2}$

حل:  $4 \div \frac{1}{2}$  جو مطلب آهي ته هڪ اڌ کي چئن حصن ۾ ورهايو ويو آهي.

اهڙي طرح هر هڪ حصي  $\frac{1}{2}$  جو  $\frac{1}{4}$  چئبو.

انهيءَ ڪري  $\frac{1}{4} \times \frac{1}{2}$  يا  $\frac{1}{2} \times \frac{1}{4}$

$= \frac{1}{8}$

4 سان ونڊ ڪرڻ اهڙو ئي آهي جهڙو  
 $\frac{1}{4}$  سان ضرب ڪرڻ، (4 جو اُبتو  
يا ضربِي اُبتو)

عام اٽپورن جو ضربِي اُبتو معلوم ڪرڻ جو مطلب آهي ته انس ۽ چيڊ  
جي پاڻ ۾ مٿا ستا ڪرڻ.

مثال 2: حل ڪريو.  $5 \div \frac{3}{7}$

حل:  $5 \div \frac{3}{7}$  (5 اهڙو ساڳيو ئي آهي جهڙو  $\frac{5}{1}$ )

$= \frac{3}{7} \times \frac{1}{5}$  →

■ ونڊ کي ضرب ۾ تبديل ڪريو.  
■ ساڳي وقت 5 جو ضربِي اُبتو لکو.

$= \frac{3 \times 1}{7 \times 5} = \frac{3}{35}$

سڄي عدد کي اٽپورن سان ونڊ ڪرڻ

مثال: حل ڪريو.  $15 \div \frac{2}{3}$

اُستاد کي گهرجي ته شاگردن جو اٽپورن جي سڄي عدد سان ونڊ وارو تصور، مضبوط  
۽ پڪو ڪرڻ لاءِ ڪلاس ۾ ڪجهه ٻيا مثال حل ڪرائي.

اُستاد لاءِ هدايت

حل:

$$15 \div \frac{2}{3} = 15 \times \frac{3}{2} \rightarrow$$

هميشه وند واري نشاني کانپوءِ واري عدد جو ضربِي اُبتَر لکبو آهي.

$$= \frac{15 \times 3}{2} = \frac{45}{2} = 22\frac{1}{2}$$

هڪ اٽپور کي ٻئي اٽپور (واجب، غير واجب ۽ مرڪب اٽپور) سان وند ڪرڻ وند جو طريقو ساڳيو ئي آهي.

مثال 1: حل ڪريو  $\frac{7}{9} \div \frac{14}{27}$

حل:

$$\begin{aligned} \frac{7}{9} \div \frac{14}{27} &= \frac{\cancel{7}^1}{\cancel{9}_1} \times \frac{\cancel{27}^3}{\cancel{14}_2} \\ &= \frac{1 \times 3}{1 \times 2} \\ &= \frac{3}{2} \\ &= 1\frac{1}{2} \end{aligned}$$

وضاحت

- ”÷“ جي نشانيءَ کي ”X“ جي نشاني ۾ تبديل ڪريو.
- ٻئي اٽپور جو ضربِي اُبتَر معلوم ڪريو.
- انس ۽ ڇيڊ کي ضرب ڪريو.
- جيڪڏهن ممڪن آهي ته سادي صورت ۾ آڻيو.
- پنهنجو جواب سادي صورت ۾ لکو.

مثال 2:

حل ڪريو  $2\frac{2}{7} \div 1\frac{3}{5}$

$$\begin{aligned} 2\frac{2}{7} \div 1\frac{3}{5} &= \frac{16}{7} \div \frac{8}{5} = \frac{16}{7} \times \frac{5}{8} \\ &= \frac{\cancel{16}^2}{7} \times \frac{5}{\cancel{8}_1} \\ &= \frac{10}{7} = 1\frac{3}{7} \end{aligned}$$

## مشق 3.5

هيٺيان حل ڪريو.

(i)  $\frac{4}{9} \div \frac{16}{9}$

(ii)  $\frac{4}{8} \div \frac{2}{12}$

(iii)  $\frac{15}{20} \div \frac{3}{12}$

(iv)  $\frac{1}{4} \div \frac{7}{16}$

(v)  $\frac{9}{10} \div \frac{12}{15}$

(vi)  $\frac{9}{30} \div \frac{6}{12}$

(vii)  $\frac{12}{21} \div \frac{6}{27}$

(viii)  $\frac{5}{25} \div \frac{20}{30}$

(ix)  $2\frac{1}{3} \div \frac{2}{5}$

(x)  $2\frac{1}{3} \div \frac{2}{4}$

(xi)  $2\frac{4}{5} \div \frac{2}{3}$

(xii)  $3\frac{6}{83} \div 4\frac{2}{4}$

(xiii)  $6 \div \frac{2}{3}$

(xiv)  $\frac{2}{3} \div 8$

(xv)  $\frac{12}{5} \div 9$

چئن بنيادي عملن کي استعمال ڪندي اٽپورن سان واسطو رکندڙ روزمره زندگي جا لکتني حساب حل ڪرڻ

مثال 1: هڪ برني ۾  $\frac{1}{2}$  ڪلوگرام کنڊ آهي. ٻي برنيءَ ۾  $\frac{1}{4}$  ڪلوگرام کنڊ آهي. ٻڌايو ته ٻنهي برنين ۾ کنڊ جو ڪل مقدار ڪيترو آهي؟

حل:  $\frac{1}{2} + \frac{1}{4} = \frac{2+1}{4} = \frac{3}{4}$

اهڙي طرح کنڊ جو ڪل مقدار  $\frac{3}{4}$  ڪلوگرام آهي.

استاد کي گهرجي ته شاگردن کي اهو سڀڪاري ته روزمره زندگيءَ جا مسئلا، رياضي جي صورت ۾ ڪيئن تبديل ۽ حل ڪجن.

اُستاد لاءِ هدايت

مثال 2: نسيم  $4\frac{1}{4}$  ڪلوگرام ڪير جو پاڻوڊر خريد ڪيو. هُن هڪ مهيني ۾ اُن جو  $1\frac{3}{8}$  ڪلوگرام استعمال ڪيو. ٻڌايو ته ڪيترو ڪير جو پاڻوڊر باقي بچيو؟

حل: ڪير جي پاڻوڊر جو مقدار =  $4\frac{1}{4}$  ڪلوگرام

استعمال ٿيل ڪير جي پاڻوڊر جو مقدار =  $1\frac{3}{8}$  ڪلوگرام

بچيل ڪير جي پاڻوڊر جو مقدار =  $4\frac{1}{4} - 1\frac{3}{8}$

$$\begin{aligned} 4\frac{1}{4} - 1\frac{3}{8} &= \frac{17}{4} - \frac{11}{8} \quad \text{هاڻي} \\ &= \frac{34 - 11}{8} \\ &= \frac{23}{8} = 2\frac{7}{8} \end{aligned}$$

اهڙي طرح باقي ڪير جو پاڻوڊر بچيو =  $2\frac{7}{8}$  ڪلوگرام

مثال 3: رسيءَ جي 5 ٽڪرن جي ڪُل ڊيگهه ڪيتري ٿيندي، جيڪڏهن هر هڪ ٽڪر جي ڊيگهه  $\frac{3}{4}$  ميٽر آهي.

حل: 1 ٽڪر جي ڊيگهه =  $\frac{3}{4}$  ميٽر

$$5 \text{ ٽڪرن جي ڊيگهه} = \text{ميٽر } 3\frac{3}{4} = \frac{15}{4} = \frac{15}{4} \times 5$$

اهڙيءَ طرح رسيءَ جي 5 ٽڪرن جي ڪُل ڊيگهه  $3\frac{3}{4}$  ميٽر آهي.

### مشق 3.6

1. هڪ ڪٽنب هڪ ڏينهن ۾  $4\frac{1}{4}$  لٽر ڪير ۽ ٻئي ڪٽنب  $7\frac{1}{2}$  ڪير استعمال ڪيو.

ٻڌايو ته هڪ ڏينهن ۾ ٻنهي ڪٽنبن ڪير جو گهڻو مقدار استعمال ڪيو؟

2. منهنجي چاچيءَ ربن جو هڪ ٽڪر خريد ڪيو، جيڪو  $4\frac{1}{6}$  س.م ڊگهو آهي. هن

هڪ ٻيو ربن جو ٽڪر پڻ خريد ڪيو، جيڪو  $4\frac{2}{5}$  س.م ڊگهو آهي. ٻڌايو ته ربن

جو ٻيو ٽڪر، پهرين ٽڪر کان ڪيترو وڌيڪ ڊگهو آهي؟

3. منهنجي عمر  $8\frac{1}{2}$  سال آهي ۽ منهنجو ڀاءُ مون کان  $2\frac{1}{2}$  سال ننڍو آهي. ٻڌايو ته منهنجي ڀاءُ جي عمر ڪيتري آهي؟
4. نازيه وٽ  $4\frac{4}{5}$  ميٽر ڊگهي ربن آهي. هن پنهنجي ڌيءَ جي تحفي کي ٻڌڻ ۾ ربين جو  $\frac{1}{2}$  حصو استعمال ڪيو. ٻڌايو ته هن ربين جا ڪيترا ميٽر استعمال ڪيا؟
5. هڪ وٽ 18 ميٽر ڊگهو آهي. ڪاٺ جا ڪيترا ٽڪرا ان وٽ جي ڊيگهه مان وڌي سگهجن ٿا، جيڪڏهن هر هڪ ٽڪر  $\frac{2}{3}$  ميٽر ڊگهو هجي.
6. هڪ دوڪاندار وٽ 15 ڪلوگرام مڱ آهن. هي  $\frac{2}{5}$  ڪلوگرام مڱ هڪ ٽيلهيءَ ۾ رکي ٿو. ٻڌايو ته هو ڪيتريون ٽيلهيون پريندو؟

جائزي واري مشق 3

1. هيٺين کي مرڪب اٽپورن ۾ تبديل ڪريو.
- (i)  $\frac{66}{8}$       (ii)  $\frac{17}{3}$       (iii)  $\frac{23}{5}$       (iv)  $\frac{40}{5}$
2. هيٺين مرڪب اٽپورن کي غير واجب اٽپورن ۾ تبديل ڪريو.
- (i)  $8\frac{4}{5}$       (ii)  $3\frac{5}{8}$       (iii)  $7\frac{3}{7}$       (iv)  $4\frac{3}{2}$
3. هيٺين اٽپورن کي ننڍي وڏائي ترتيب ۾ لکو.
- (i)  $\frac{3}{8}, \frac{9}{8}, \frac{5}{8}$       (ii)  $\frac{2}{3}, \frac{1}{4}, \frac{5}{6}$
- (iii)  $\frac{6}{4}, \frac{8}{3}, \frac{7}{6}, \frac{5}{2}$       (iv)  $\frac{2}{7}, \frac{5}{11}, \frac{4}{5}, \frac{3}{11}$
4. هيٺين اٽپورن کي وڏي ننڍائي ترتيب ۾ لکو.
- (i)  $\frac{13}{6}, \frac{11}{6}, \frac{7}{6}$       (ii)  $\frac{2}{3}, \frac{3}{5}, \frac{5}{6}$
- (iii)  $\frac{4}{15}, \frac{3}{10}, \frac{9}{20}, \frac{4}{5}$       (iv)  $\frac{4}{3}, \frac{3}{5}, \frac{5}{7}, \frac{1}{3}$

5. هيٺين اٽپورن کي سادي صورت ۾ آڻيو.

(i)  $\frac{30}{42}$       (ii)  $\frac{24}{44}$       (iii)  $2\frac{4}{8}$       (iv)  $3\frac{3}{6}$

6. سادي صورت ۾ آڻيو.

(i)  $\frac{3}{5} + \frac{2}{4}$       (ii)  $\frac{7}{9} + \frac{4}{6} + \frac{2}{3}$

(iii)  $\frac{4}{5} + \frac{6}{10} + \frac{1}{2}$       (iv)  $\frac{2}{3} + 4\frac{1}{2}$

7. سادي صورت ۾ آڻيو.

(i)  $\frac{3}{4} - \frac{4}{8}$       (ii)  $\frac{11}{5} - \frac{9}{5}$

(iii)  $5\frac{2}{3} - 4\frac{2}{4}$       (iv)  $\frac{13}{15} - \frac{5}{10} - \frac{1}{5}$

8. هيٺين اٽپورن کي ضرب ڪريو ۽ پنهنجو جواب سادي صورت ۾ لکو.

(i)  $2\frac{2}{5} \times 2\frac{1}{2}$       (ii)  $1\frac{2}{3} \times 2\frac{1}{4}$

(iii)  $\frac{28}{35} \times \frac{12}{21}$       (iv)  $1\frac{3}{5} \times 1\frac{5}{10}$

9. هيٺين اٽپورن کي ونڊ ڪريو ۽ پنهنجو جواب سادي صورت ۾ لکو.

(i)  $\frac{5}{6} \div 25$       (ii)  $\frac{3}{4} \div \frac{5}{8}$

(iii)  $5\frac{1}{2} \div 1\frac{1}{4}$       (iv)  $7\frac{3}{5} \div 1\frac{7}{12}$

10. ناصر ۽ هن جو دوست ڊوڙ جي مقابلي واري رستي تي ڊوڙي رهيا هئا. ناصر  $7\frac{1}{2}$

ڪلوميٽر ۽ هن جي دوست  $4\frac{2}{3}$  ڪلوميٽر ڊوڙ پاتي. ٻڌايو ته ناصر پنهنجي دوست کان ڪيترو وڌيڪ مفاصلو مڪمل ڪيو؟

11. هڪ ڪمري ۾ 30 ڦوڪڻا آهن، جن مان  $\frac{1}{4}$  ڳاڙها آهن. ٻڌايو ته ڪمري ۾ ڪيترا

ڳاڙها ڦوڪڻا آهن؟

12. جويريا جي گڏي جي وڳي لاءِ  $\frac{3}{4}$  ميٽر ڪپڙو گهرجي ٿو.  $3\frac{3}{4}$  ميٽر ڪپڙي مان

گڏي جا ڪل ڪيترا وڳا ٺهي سگهن ٿا؟

13. هڪ ڪارخانو هڪ ڪلاڪ ۾ صوف جي جوس جا  $9\frac{1}{2}$  لٽر تيار ڪري ٿو. 14

ڪلاڪن ۾ ڪارخانو ڪيترا لٽر صوف جي جوس جا تيار ڪندو؟

## ڏهائي عدد ۽ اڻپور

### 4.1 ڏهائي عدد

ڏهائي عدد جي ڄاڻ ته اهو اڻپور لکڻ جو هڪ ٻيو طريقو آهي

هن کان اڳ واري يونٽ ۾ اسان عام اڻپور جي باري ۾ ڪافي ڪجهه سڳي آيا آهيون. عام اڻپور کي لکڻ جو هڪ ٻيو به طريقو ٿئي ٿو، جنهن کي ڏهائي اڻپور يا ڏهائي عدد چئجي ٿو.

اچو ته ڏهائي عدد جي باري ۾ سکون.

ڏهائي عدد جي وصف بيان ڪرڻ ته اهو هڪ عام اڻپور آهي، جنهن جو چيد 10 يا 10 جي سگهه ٿئي ٿو.

ڏهائي عدد هڪ خاص قسم جو اڻپور ٿئي ٿو، جنهن جو چيد 10 يا 10 جي سگهه آهي يعني 10، 100، 1000 وغيره.

هيٺين تصوير کي ڏسو!



اهو هڪ سڳي کي ظاهر ڪري ٿو، جنهن جا 10 هڪ جيترا حصا ٿيل آهن ۽ ان مان هڪ حصي کي رنگين ڪيل آهي.

عام اڻپور جي طريقي ۾ ان رنگين ٿيل حصي کي  $\frac{1}{10}$  لکبو ۽ پڙهيو هڪ ڏهين پٽي. ساڳي طرح ڏهائي اڻپور جي طريقي ۾ رنگين ٿيل حصي کي 0.1 لکون ٿا ۽ هڪ ڏهين پٽي يا ”ٻڙي ڏهائي هڪ“ پڙهون ٿا.

جيڪڏهن هڪ سڳي کي 10 هڪ جيترن حصن ۾ ورهايو وڃي


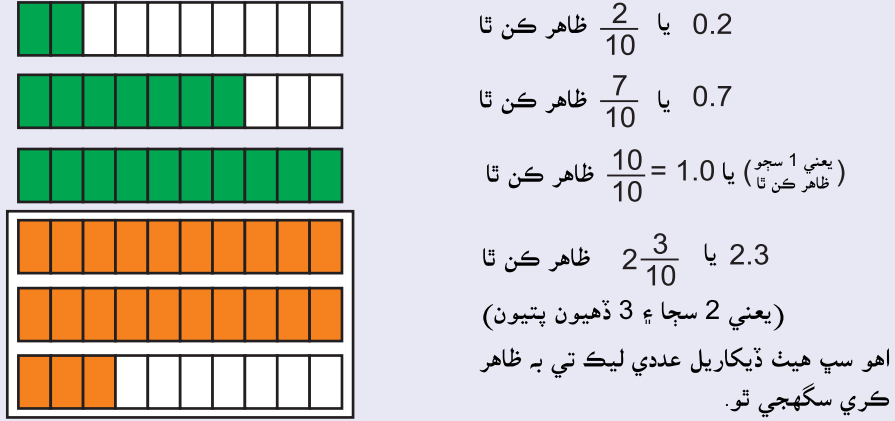
ته ڏهائي کان پوءِ هڪ انگ ملندو.

اڻپور حصو → 0.1 ← سڳو عدد

ڏهائي جو نشان

هتي ٽيڪي جي نشان (.) کي ڏهائيءَ جو نشان چئجي ٿو. اهو نشان سڳي حصي کي، اڻپور کان ڌار ڪري ٿو.

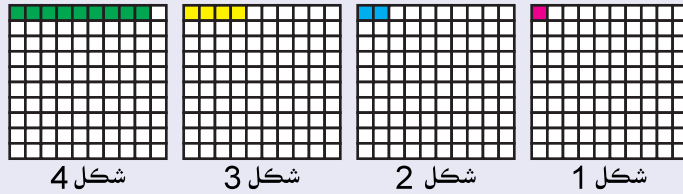
مٿي طريقيءَ جا موجب، هيٺين شڪلين جا رنگين ٿيل حصا:



تپڪو A،  $\frac{2}{10}$  يا 0.2 ظاهر ڪري ٿو، تپڪو B  $\frac{7}{10}$  يا 0.7 ظاهر ڪري ٿو.

جڏهن ته تپڪو C  $\frac{10}{10}$  يا 1.0 ظاهر ڪري ٿو ۽ تپڪو D  $2\frac{3}{10}$  يا 2.3 ظاهر ڪري ٿو.

هيٺ ڏيکاريل هر هڪ تصوير کي هڪ جيترو 100 حصن ۾ ورهائيو ويو آهي. انهن شڪلين جا رنگين ٿيل حصا ظاهر ڪن ٿا.




**شڪل 1:** رنگين ڀاڱو ظاهر ڪري ٿو: هڪ سوين پٽي  $0.01 = \frac{1}{100}$  جنهن کي پڙهون ٿا ”ٻڙي ڏهاڻي ٻڙي هڪ“

**شڪل 2:** رنگين ٿيل ڀاڱو ظاهر ڪري ٿو: ٻه سوِون پٽيون  $0.02 = \frac{2}{100}$  جنهن کي پڙهون ٿا ”ٻڙي ڏهاڻي ٻڙي ٻه“

**شڪل 3:** رنگين ٿيل ڀاڱو ظاهر ڪري ٿو: چار سوِون پٽيون  $0.04 = \frac{4}{100}$  جنهن کي پڙهون ٿا ”ٻڙي ڏهاڻي ٻڙي چار نو“

**شڪل 4:** رنگين ٿيل ڀاڱو ظاهر ڪري ٿو: نو سوِون پٽيون  $0.09 = \frac{9}{100}$  جنهن کي پڙهون ٿا ”ٻڙي ڏهاڻي ٻڙي نو“

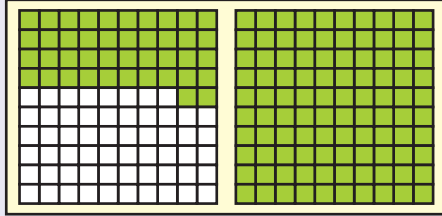
مثال 1: هڪ سڄي کي 100 هڪ جيترن حصن ۾ ورهايو. ان ۾ 31 حصن کي رنگ ڪريو، پوءِ ان کي ڏهاڙي اڻپور ۾ لکو.



عام اڻپور ۾ ان کي لکبو  $\frac{31}{100}$  ۽ پڙهيو: ”31 سويون پتيون“  
جڏهن ته ڏهاڙي اڻپور ۾ ان کي لکبو 0.31

0.31 کي پڙهيو  
”ٻڙي ڏهاڙي تي هڪ“

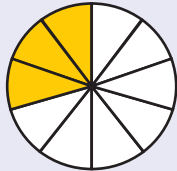
اها ڳالهه ڌيان ۾ رکندا ته جيڪڏهن هڪ سڄي کي 100 هڪ جيترن حصن ۾ ورهائبو ته ڏهاڙيءَ کان پوءِ ٻه انگ ملندا.



ساڳي طرح سامهون ڏنل تصوير ۾ رنگين ٿيل حصو ظاهر ڪري ٿو

$1\frac{42}{100}$  يا 1.42 جنهن کي پڙهيو  
هڪ ڏهاڙي چار به.

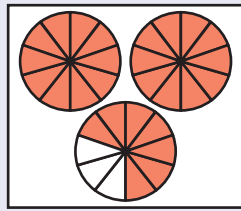
هيٺ ڏنل تصويرن ۾ رنگين ٿيل حصن کي عام اڻپور ۽ ڏهاڙي اڻپور ۾ ظاهر ڪيو.



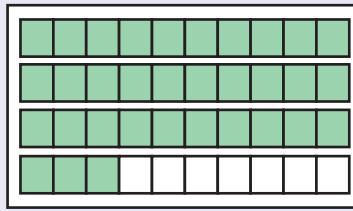
عام اڻپور =  
ڏهاڙي اڻپور =



عام اڻپور =  $\frac{4}{10}$   
ڏهاڙي اڻپور = 0.4



عام اڻپور =  
ڏهاڙي اڻپور =



عام اڻپور =  
ڏهاڙي اڻپور =

ڏهاڻيءَ جون جايون يعني ڏهاڻيءَ کان پوءِ انگن جي والاريل جڳهه جي ڄاڻ ڏهاڻي کان پوءِ انگن جي تعداد کي ”ڏهاڻيءَ جون جايون“ چيو وڃي ٿو. هيٺين مثالن کي ڏسو.

يعني اڻپور حصي جو چيد 10 آهي.

**مثال 1:** ڏهاڻي عدد 3.2 ظاهر ڪري ٿو ڏهاڻي اڻپور، ڏهاڻيءَ جي هڪ جڳهه تائين، ڇاڪاڻ ته ان ۾ ڏهاڻيءَ کان پوءِ فقط هڪ انگ آهي.

يعني اڻپور حصي جو چيد 100 آهي.

**مثال 2:** ڏهاڻي عدد 1.43 ظاهر ڪري ٿو اڻپور، ڏهاڻيءَ جي ٻن جڳهن تائين، ڇاڪاڻ ته ان ۾ ڏهاڻيءَ کان پوءِ فقط ٻه انگ آهن.

يعني اڻپور حصي جو چيد 1000 آهي.

**مثال 3:** ڏهاڻي عدد 1.324 ظاهر ڪري ٿو ڏهاڻي اڻپور، ڏهاڻيءَ جي ٽن جڳهن تائين، ڇاڪاڻ ته ان ۾ ڏهاڻيءَ کان پوءِ فقط ٽي انگ آهن.

هيٺ چارٽ ۾ ڏنل هر هڪ ڏهاڻي عدد جي اڻپور جو چيد ۽ ڏهاڻيءَ جي جايون جو تعداد خالي خانن ۾ لکو.



ڏهاڻيءَ جي جايون جو تعداد	اڻپور چيد	ڏهاڻي عدد
هڪ	10	0.3
		13.5
		0.84
		732.52
		0.324
		583.123

ڏهاڻيءَ جي جايون جو تعداد، هميشه اڻپور جي چيد ۾ ٻڙين جي تعداد جي برابر ٿئي ٿو.

ڏهاڻي عدد ۾ ڪنهن به انگ جي مڪاني مُلھ جي سڃاڻپ

جيئن سڄن عددن ۾ مڪاني ملھ جي شروعات ايڪن کان ٿئي ٿي ۽ ڏهوڻو مُلھ ڪاٻي طرف ڏاڪو به ڏاڪو وڌندو وڃي ٿو. تهڙيءَ طرح ڏهاڻي اڻپور ۾ ڏهاڻيءَ کان پوءِ انگن جو مڪاني مُلھ به ڏاڪو به ڏاڪو ڏهوڻو گهٽجندو وڃي ٿو.

هيٺين چارٽ کي ڏسو ۽ ڏنل اڻپور ۾ ڏهاڻيءَ جي جاين جو تعداد سمجهو.

اڻپور	ايڪا ڏهاڪا سو	.	ڏهين پتي	سوين پتي	هزارين پتي
$\frac{1}{10}$	0	.	1		
$\frac{1}{100}$	0	.	0	1	
$\frac{1}{1000}$	0	.	0	0	1

- ڏهاڻيءَ جي ٽيڪن کان پوءِ پهرين انگ جو مڪاني مُلھ هڪ ڏهين پتي يا 0.1 آهي. اها ڏهاڻي عدد ۾ ڏهاڻيءَ کان پوءِ پهرين جاءِ آهي.
- ڏهاڻيءَ جي ٽيڪي کان پوءِ ٻئي انگ جو مڪاني مُلھ هڪ سوين پتي يا 0.01 آهي. اها ڏهاڻي عدد ۾ ڏهاڻيءَ کان پوءِ ٻي جاءِ آهي.
- ڏهاڻيءَ جي ٽيڪي کان پوءِ ٽئين انگ جو مڪاني مُلھ هڪ هزارين پتي يا 0.001 آهي. اها ڏهاڻي عدد ۾ ڏهاڻيءَ کان پوءِ ٽين جاءِ آهي.

مثال 1: هيٺين عددن ۾ گول ۾ ڏنل انگ جو مڪاني مُلھ لکو.

- 5 ڏهين پتيون يا  $\frac{5}{10}$  يا 0.5      79 (5) 53 (1)
- 3 سوين پتيون يا  $\frac{3}{100}$  يا 0.3      2 (3) 1.0 (2)
- هڪ سوين پتي يا  $\frac{1}{100}$  يا 0.01      37 (1) 2.1 (3)
- 3 هزاريون پتيون يا  $\frac{3}{1000}$  يا 0.003      123.87 (3) (4)

مثال 2: مليل ڏهاڻي عدد 23.416 ۾ هر هڪ انگ جو مڪاني مُلھ سڃاڻو. پھريائين مليل ڏهاڻي عدد کي مڪاني مُلھ واري چارٽ ۾ لکون ٿا.

	ڏهاڪا	ايڪا	.	ڏھين پتي	سَوِين پتي	ھزارين پتي
2 ڏهاڪا	2	3	.	4	1	6
يا 20						6 ھزار پتيون
						يا 0.006
		3 ايڪا		4 ڏھ پتيون	1 سوِين پتي	
		يا 3		يا 0.4	يا 0.01	

$$20 = 2 \times 10 = \text{2 جو مڪاني مُلھ = 2 ڏهاڪا}$$

$$3 = 3 \times 1 = \text{3 جو مڪاني مُلھ = 3 ايڪا}$$

$$0.4 = \frac{4}{10} = \text{4 جو مڪاني مُلھ = 4 ڏھيون پتيون}$$

$$0.01 = \frac{1}{100} = \text{1 جو مڪاني مُلھ = 1 سوِين پتي}$$

$$0.006 = \frac{6}{1000} = \text{6 جو مڪاني مُلھ = 6 ھزاريون پتيون}$$

#### مشق 4.1

1. هيٺ ڏنل هر هڪ ڏهاڻي اڻڀور مطابق شڪل بڻايو.

- |          |          |           |
|----------|----------|-----------|
| (i) 0.3  | (ii) 0.8 | (iii) 1.3 |
| (iv) 1.7 | (v) 0.34 | (vi) 1.5  |

2. هيٺ ڏنل هر هڪ ڏهاڻي عدد ۾ ڏهاڻيءَ واريون جايون لکو.

- |             |             |            |
|-------------|-------------|------------|
| (i) 123.1   | (ii) 57.322 | (iii) 0.87 |
| (iv) 139.45 | (v) 59.552  | (vi) 735.9 |

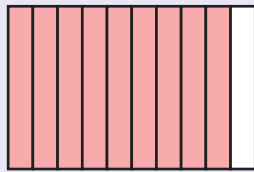
3. هيٺ گول ۾ ڏنل هر هڪ انگ جو مڪاني مُلھ لھو.

- |                   |                 |                  |
|-------------------|-----------------|------------------|
| (i) 725.0 (4)     | (ii) 135. (8) 5 | (iii) 5.09 (2)   |
| (iv) (1) 24.3 (2) | (v) (4) 3.5 (9) | (vi) (3) 4.6 (7) |


4. هيٺ ڏنل هر هڪ ڏهاڻي عدد ۾ استعمال ٿيل انگن جو مڪاني مُل هه لکو.

- (i) 575.1                      (ii) 0.534                      (iii) 18.97  
(iv) 9.02                        (v) 75.84                        (vi) 51.15

5. هيٺ ڏنل هر هڪ تصوير جي رنگين حصي سان بڻيل ڏهاڻي اڻپور کي تصوير سان ملايو.



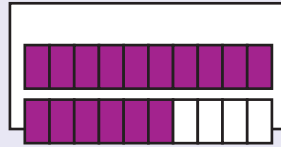
1.4



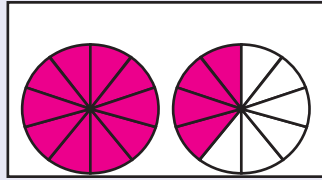
0.23




0.07



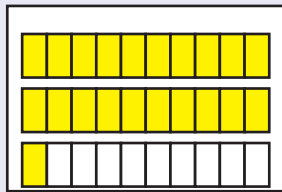
2.1



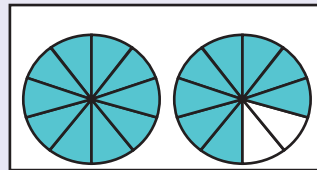
1.8




2.2



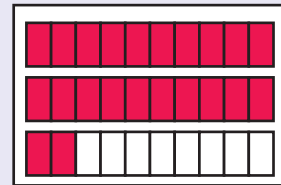
0.9



0.55



1.6



0.7

4.2 اڻپور کي ڏهاڻي عدد ۾ تبديل ڪرڻ

مليل اڻپور کي ڏهاڻي عدد ۾ تبديل ڪرڻ

(I) جڏهن اڻپور جو چيد 10 يا 10 جي سگهه آهي.

اهو سمجهڻ خاطر ته ڪيئن اڻپور کي ڏهاڻي عدد ۾ تبديل ڪجي، جڏهن اڻپور جو چيد 10، 100 يا 1000 هجي.

هينين مثالن تي غور ڪريو.

مثال 1:  $\frac{3}{10}$  کي ڏهاڻي عدد ۾ تبديل ڪريو.

حل:  $3 = \frac{3}{10}$  3 ڏهون پتيون

$$\frac{3}{10} = 0.3 \text{ تنهنڪري}$$

مثال 2:  $\frac{3}{100}$  کي ڏهاڻي عدد ۾ تبديل ڪريو.

حل:  $3 = \frac{3}{100}$  3 سويون پتيون

چاڪاڻ ته اتي ڪابه ڏهين پتي نه آهي.

$$0.03 = \frac{3}{100} \text{ تنهنڪري}$$

ان ڪري ٻڙي ڏني آهي پر جيڪڏهن اسان  $\frac{13}{100}$

کي ڏهاڻي عدد ۾ تبديل ڪنداسين ته اسان کي 0.13 ملندو.

مثال 3:  $\frac{23}{10}$  کي ڏهاڻي عدد ۾ تبديل ڪريو.

حل: جيئن ته اهو غير واجب اڻپور آهي. تنهنڪري پهريائين ان کي گڏيل اڻپور ۾ تبديل ڪنداسين.

$$\frac{23}{10} = 2 \frac{3}{10}$$

هاڻي  $2 \frac{3}{10}$  جو مطلب آهي 2 سجا ۽ 3 ڏهون پتيون يعني 2.3

$$\frac{23}{10} = 2.3 \rightarrow \text{اڻپورو حصو}$$

تنهنڪري

سڄي عدد جو حصو

چئبو ته 2.3 ۾ 2 سڄو عدد آهي ۽ 3 يا  $\frac{3}{10}$  اڻپور آهي.

مثال 4:  $\frac{32}{1000}$  کي ڏهاڙي عدد ۾ تبديل ڪريو.

حل:  $\frac{32}{1000} =$  جو مطلب آهي 32 هزاريون پتيون.

$$\frac{32}{1000} = 0.032 \quad \text{تنهنڪري}$$

(II) اڻپورن کي ڏهاڙي عددن ۾ تبديل ڪرڻ جڏهن چيد 10، 100 يا 1000 نه هجي.

مثال 1: اڻپور  $\frac{1}{2}$  کي ڏهاڙي عدد ۾ تبديل ڪريو.

حل: هتي چيد 10 يا 10 جي سگهه نه آهي. پر مليل چيد کي 10 يا 10 جي سگهه ۾ تبديل ڪري سگهجي ٿو.

$$\frac{1}{2} = \frac{1}{2} \times \frac{5}{5} \quad \text{هاڻي}$$

▪ چيد کي 10 جي ضرب يا 10 جي سگهه ۾ يا آڻڻ.

$$\frac{1}{2} \text{ ۽ } \frac{5}{10} \text{ هڪ جيترا اڻپور آهن.}$$

$$5 = 0.5 \quad \text{ڏهيون پتيون}$$

$$\frac{1}{2} = 0.5 \quad \text{تنهنڪري}$$

مثال 2: اڻپور  $\frac{13}{4}$  کي ڏهاڙي عدد ۾ تبديل ڪريو.

$$\frac{13}{4} = 3\frac{1}{4} \quad \text{حل: [گڏيل اڻپور]}$$

$$= 3 + \frac{1}{4} \quad \text{[ 3 سڄا ۽ هڪ چوٿو ]}$$

$$= 3 + \frac{1}{4} \times \frac{25}{25} \quad \text{▪ اڻپور کي هڪ جيتري اڻپور ۾ تبديل ڪرڻ}$$

$$= 3 + \frac{25}{100}$$

$$= 3 + \frac{25}{100} \quad \text{▪ 3 سڄا ۽ 25 سَوِيون پتيون}$$

$$= 3.25$$

مثال 3: اڻپور  $\frac{11}{25}$  کي ڏهاڙي عدد ۾ تبديل ڪريو.

حل: پهريائين مليل اڻپور جي چيد 25 کي 10 جي ضرب ۾ يا 10 جي سگهه ۾ آڻيون ٿا.

$$\begin{aligned} \frac{11}{25} &= \frac{11}{25} \times \frac{4}{4} \\ &= \frac{44}{100} = 0.44 \end{aligned}$$

مليل اڻپور کي ڏهاڙي عدد ۾ تبديل ڪرڻ (ڏهاڙي جي ٽن جاين تائين)

اسان کي اڃان ڏهاڙي جي انگن جي مڪاني ملهه لاءِ سٺي ڄاڻ جي ضرورت آهي. ان لاءِ اسين پهريائين ڏهاڙي عددن کي اڻپورن ۾ تبديل ڪرڻ سکون ٿا. هاڻي هيٺين حل ٿيل مثالن تي غور ڪريو.

مثال 1: ڏهاڙي عدد 0.4 کي اڻپور ۾ تبديل ڪريو.

حل:  $0.4 = 4$  ڏهون پتيون

مليل ڏهاڙي عدد ۾ ڏهاڙي جي نشان جي هيٺيان 1 لکو. باقي جيترا انگ ڏهاڙي جي نشان کان پوءِ رهن، انهن جي هر هڪ انگ لاءِ هڪ هڪ ٻُڙي لکو.

● (•) ڏهاڙي کان پوءِ پهرين جاءِ ڏهين پتي آهي.  $0.4 = \frac{4}{10}$

ان لاءِ اڻپور جو چيد فقط 10 ٿيندو.

$$= \frac{\cancel{4}^2}{\cancel{10}_5} = \frac{2}{5}$$

مثال 2: 0.32 کي اڻپور ۾ تبديل ڪريو.

حل: اسان کي ڄاڻ آهي ته: 32 سوِيون پتيون = 0.32

■ اڻپور جي چيد کي 100 سان ضرب ڪريون ٿا.  $0.32 = \frac{32}{100}$

■ جيئن ته ڏهاڙي کان پوءِ ٻي جاءِ جو مطلب به اهو آهي ته اڻپور جو چيد 100 آهي.

$$= \frac{\cancel{32}^{16}}{\cancel{100}^{50}}$$

$$= \frac{\cancel{8}^{16}}{\cancel{50}^{25}}$$

$$= \frac{8}{25}$$

مثال 3: 1.24 کي اڻپور ۾ تبديل ڪريو.

حل:  $1.24 = 1$  سڄو ۽ 24 سَوِيون پتيون آهن.

$$1.24 = 1 \frac{24}{100}$$

$$= 1 \frac{6 \cancel{24}}{\cancel{100}_{25}} = 1 \frac{6}{25}$$

مثال 4: 0.135 کي اڻپور ۾ تبديل ڪريو.

حل:  $0.135 = 135$  هزاريون پتيون

$$0.135 = \frac{135}{1000}$$

$$= \frac{\cancel{27} \cancel{135}}{\cancel{1000}_{200}} = \frac{27}{200}$$

■ 5 سان ونڊ ڪريو.

#### مشق 4.2

1. هيٺين اڻپورن کي ڏهاڙي عددن ۾ تبديل ڪريو.

(i) $\frac{1}{100}$	(ii) $\frac{5}{10}$	(iii) $\frac{23}{100}$	(iv) $\frac{431}{1000}$
(v) $\frac{231}{100}$	(vi) $\frac{17}{10}$	(vii) $\frac{29}{1000}$	(viii) $\frac{572}{100}$

2. هيٺين اڻپورن کي ڏهاڙي عددن ۾ تبديل ڪريو.

(i) $\frac{7}{25}$	(ii) $\frac{42}{4}$	(iii) $\frac{9}{2}$	(iv) $\frac{3}{4}$
(v) $\frac{13}{50}$	(vi) $\frac{3}{8}$	(vii) $\frac{19}{25}$	(viii) $\frac{30}{50}$

3. هيٺين ڏهاڙي عددن کي عام اڻپورن ۾ تبديل ڪريو ۽ پنهنجي جواب کي اڻپور جي سادي صورت ۾ آڻيو.

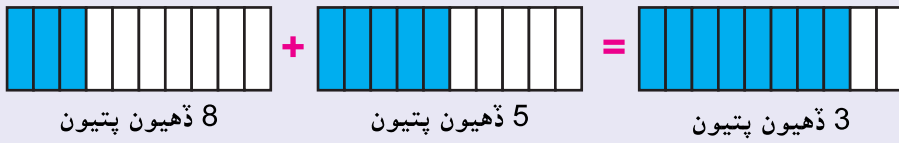
(i) 0.3	(ii) 1.35	(iii) 12.37	(iv) 0.432
(v) 25.5	(vi) 2.32	(vii) 0.45	(viii) 135.2

### 4.3 ڏهاڻي عددن ۾ بنيادي عمل

ڏهاڻي عددن جو جوڙ ۽ ڪٽ (ڏهاڻي جي ٽن جاين تائين)

هيٺين تصويري مثال تي غور ڪريو ۽ ڏهاڻي عددن ۾ جوڙ جي عمل کي سمجهو.

مثال 1:



اسان انهيءَ عمل کي هيئن به لکي سگهون ٿا.

$$\blacksquare \quad 0.3 \quad \text{ڏهاڻيءَ جي نشان کي سڌائيءَ ۾ رکو.}$$

$$\blacksquare \quad + 0.5 \quad \text{يعني ڏهاڻيءَ جو نشان هڪٻئي جي هيٺان بلڪل سڌائيءَ ۾ اچي.}$$

$$\blacksquare \quad \underline{\quad 0.8 \quad} \quad \text{جوڙ ڪرڻ جو عمل، گهٽ ۾ گهٽ واري مڪاني مُله کان شروع ڪريو.}$$

■ جوڙ جو عمل عام طريقي سان ٿئي ٿو.

■ جواب ۾ به ڏهاڻيءَ جي نشان کي ساڳي سڌائيءَ ۾ رکڻو آهي.

مثال 2: ڏهاڻي عدد ڪٽ ڪريو.



$$0.6 - 0.2 = 0.4$$

4 ڏهيون پتيون = 2 ڏهيون پتيون - 6 ڏهيون پتيون

$$\begin{array}{r} 0.6 \\ - 0.2 \\ \hline 0.4 \end{array}$$

مثال 3: هيٺيان ڪٽ ڪريو.

(i)  $3.57 - 2.34$

$$\begin{array}{r} 3.57 \\ - 2.34 \\ \hline 1.23 \end{array}$$

(ii)  $7.84 - 1.75$

$$\begin{array}{r} 7.84 \\ - 1.75 \\ \hline 6.09 \end{array}$$

## مشق 4.3

1. هيٺين ڏهاڻي عددن کي جوڙڻ ڪريو.

(i)  $0.35 + 0.42$

(ii)  $0.21 + 0.35 + 0.11$

(iii)  $1.27 + 3.49$

(iv)  $13.5 + 14.2 + 7.9$

(v)  $1.34 + 0.43$

(vi)  $25.32 + 15.75$

(vii)  $0.3 + 0.9 + 0.4$

(viii)  $1.5 + 3.9 + 17.2$

(ix)  $68.378 + 12.633$

(x)  $42.243 + 81.483$

2. هيٺين ڏهاڻي عددن ۾ ڪٽ جو عمل ڪريو.

(i)  $0.9 - 0.3$

(ii)  $0.84 - 0.61$

(iii)  $10.59 - 3.27$

(iv)  $13.54 - 12.87$

(v)  $15.39 - 12.41$

(vi)  $87.34 - 85.56$

(vii)  $19.31 - 10.32$

(viii)  $54.79 - 39.84$

(ix)  $49.243 - 17.157$

(x)  $76.919 - 64.883$

ڏهاڻي عددن جي 10، 100 ۽ 1000 سان ضرب

ڏهاڻي عددن جي 10، 100 يا 1000 سان ضرب، دراصل ڏهاڻيءَ جي نشان جي ساڄي طرف حرڪت ظاهر ڪري ٿي، جنهن جو دارومدار 10 جي سگهه تي آهي. يعني، جنهن سان اسان ضرب ڪريون پيا.

$$\begin{array}{r} 3.24 \\ \times 10 \\ \hline 0000 \\ 324 \times \\ \hline 32.40 \end{array}$$

جنهن ڏهاڻي عدد کي اسان ضرب ڪيون ٿا انهيءَ ۾ ڏهاڻيءَ جو نشان ٻن جاين کان پوءِ آهي. تنهنڪري ضرب اُپٽ ۾ انگ ساڄي کان کاٻي طرف گڏينداسين ۽ ٻن انگن کان پوءِ ڏهاڻيءَ جو نشان لڳائينداسين.

مثال 1: ضرب ڪريو.  $3.24 \times 10$ 

$$\begin{array}{r} 3.24 \\ \times 10 \\ \hline \end{array}$$

حل:

هتي ڏهاڻيءَ جو نشان هڪ جاءِ ساڄي طرف ڏانهن وڌي ٿو.

مثال 2: 0.325 کي 100 سان ضرب ڪريو.

انگن جو عدد مڪاني ملهه  
عددن کي ڏهاڪن ۾ وڌائي ٿو.

حل:

$$0.325 \times 100 = 32.5$$

ڏهاڙيءَ جو نشان ٻه جايون ساڄي طرف ڏانهن وڌي ٿو.

مثال 3: 1.834 کي 1000 سان ضرب ڪريو.

عدد جي آخر ۾ ڏهاڙيءَ جي نشان کان پوءِ  
ٻڙي (0) لڳائڻ جو ڪوبه ملهه نه آهي ۽ نه  
وري ڪو اڻپور حصو ملي ٿو.

حل:

$$1.834 \times 1000 = 1834.0 = 1834$$

ڏهاڙيءَ جو نشان ٽي جايون ساڄي طرف وڌي ٿو.

ڏهاڙي عدد کي هڪ ٻه انگي عدد سان ضرب

هيٺين مثالن تي غور ڪريو.

مثال 1: 13.5 کي 15 سان ضرب ڪريو.

$$13.5 \times 15$$

حل:

$$\begin{array}{r} 1 \quad 3.5 \\ \times 15 \\ \hline 675 \longrightarrow \\ 1350 \longrightarrow \\ \hline 202.5 \longrightarrow \end{array}$$

جيئن سڄن عددن جي ضرب ٿئي ٿي، انهيءَ ساڳيءَ نموني فقط ڏهاڙيءَ جي نشان کي ٿوري دير لاءِ نه ٿو مڃجي.

پهريائين ايڪن سان ضرب

ان کان پوءِ ڏهاڪن سان ضرب

جن ٻن عددن کي پاڻ ۾ ضرب ڪيو وڃي ٿو، انهن ٻنهي عددن ۾ ڏهاڙيءَ جي جايون جي ڪل تعداد کي ڳڻيو. اسان ڏسون ٿا ته انهن ٻنهي ۾ فقط هڪ جاءِ کان پوءِ ڏهاڙيءَ جو نشان آهي. تنهنڪري ضرب اُپت ۾ به فقط هڪ جاءِ کان پوءِ ڏهاڙيءَ جو نشان لڳائبو. ضرب اُپت جي ساڄي پاسي کان هڪ جاءِ کان پوءِ ڏهاڙيءَ جو نشان لڳائبو.

مطلب ته ضرب اُپت ۾ ڏهاڙيءَ جو نشان هڪ جاءِ کان پوءِ آهي.

$$13.5 \times 15 = 202.5 \quad \text{تنهنڪري}$$

مشق 4.4

1. هيٺيان ضرب جا عمل ڪريو.

- |                           |                             |                          |
|---------------------------|-----------------------------|--------------------------|
| (i) $6.3 \times 3$        | (ii) $0.25 \times 10$       | (iii) $1.732 \times 100$ |
| (iv) $0.327 \times 100$   | (v) $22.3542 \times 100$    | (vi) $1.265 \times 1000$ |
| (vii) $1.872 \times 1000$ | (viii) $0.8546 \times 1000$ | (ix) $0.85 \times 25$    |
| (x) $7.9 \times 13$       | (xi) $7.21 \times 33$       | (xii) $1.834 \times 11$  |
| (xiii) $5.42 \times 24$   | (xiv) $0.49 \times 71$      | (xv) $3.52 \times 45$    |

ڏهائي عدد کي هڪ انگي عدد سان ونڊ ڪرڻ (ڏهائيءَ جو نشان بن جابن تائين هجي)

هڪ ڏهائي عدد کي هڪ انگي عدد (سڄي عدد) سان ونڊ ڪرڻ جو عمل به ساڳيو عام سڄن عددن جي ونڊ وارو طريقو آهي. فقط اها ڳالهه ياد رکڻي آهي ته ڏهائيءَ جو نشان ونڊ اُپت ۾ ان وقت ڏيڻو آهي جنهن مهل ونڊ جي عمل دوران ونڊڻي ۾ ڏهائيءَ جو نشان اچي.

هاڻي ڪجهه مثالن تي غور ڪريو ۽ انهيءَ نظريي کي پوري طرح سمجهو.

مثال: ڏهائي عدد 27.5 کي 5 سان ونڊ ڪريو.

حل: ونڊ جي عمل جا ڏاڪا

$$\begin{array}{r}
 5.5 \\
 5 \overline{) 27.5} \\
 \underline{- 25} \phantom{0} \\
 25 \\
 \underline{- 25} \\
 00
 \end{array}$$

■ ونڊ جو عمل سڄن عددن کان شروع ڪريو.

■ سڄا عدد 27 آهن. 27 کي 5 سان ونڊ ڪريو.

■ جيئن ته  $5 \times 5 = 25$

■ هاڻي 2 ننڍو آهي ونڊيندڙ 5 کان.

■ تنهنڪري اڳلو عدد 5 هيٺ لاهيو. پر 5

کان پهريائين ڏهائيءَ جو نشان اچي ٿو.

■ ان ڪري ڏهائيءَ جو نشان ونڊ اُپت ۾

لڳائي پوءِ 5 جو عدد لاهيو.

[ ان ريت  $5 \times 5 = 25$  ]

تنهنڪري  $27.5 \div 5 = 5.5$

استاد شاگردن کي ڏهائي عدد کي هڪ انگي ۽ ٻه انگي عدد سان ونڊ جا ڪجهه وڌيڪ مثال حل ڪرائڻ ۾ شاگردن جي پرپور مدد ڪري.

استاد لاءِ هدايت:

## مشق 4.5

1. هيٺين ۾ ونڊ جو عمل ڪريو.

- |                       |                      |                      |
|-----------------------|----------------------|----------------------|
| (i) $17.1 \div 6$     | (ii) $1.8 \div 5$    | (iii) $9.36 \div 4$  |
| (iv) $9.66 \div 3$    | (v) $4.68 \div 9$    | (vi) $17.85 \div 7$  |
| (vii) $6.28 \div 4$   | (viii) $0.72 \div 2$ | (ix) $5.62 \div 2$   |
| (x) $34.23 \div 3$    | (xi) $67.25 \div 5$  | (xii) $32.34 \div 6$ |
| (xiii) $96.20 \div 2$ | (xiv) $10.11 \div 3$ | (xv) $40.05 \div 5$  |

عام زندگيءَ جا لکتني حساب ڏهاڻي عددن جي متعلق، ڏهاڻيءَ جي ٻن جاين تائين

مثال 1: ثنا 0.25 ڪلوگرام ڪير وارا چاڪليت، 10.50 ڪلوگرام اتو ۽ 2.50 ڪلوگرام کنڊ خريد ڪئي. ٻڌايو ته خريد ڪيل شين جو ڪل ڪيترو وزن ٿيو؟

حل: ڪير وارو چاڪليت	0 . 2 5 kg
اتو	1 0 . 5 0 kg
کنڊ	+ 2 . 5 0 kg
ڪل وزن	<u>1 3 . 2 5 kg</u>

مطلب ته ثنا ڪل 13.25 ڪلوگرام وزن جون شيون خريد ڪيون.

مثال 2: عليءَ جو قد 1.75 ميٽر آهي. اظهر جي اوچائي 1.27 ميٽر آهي. ٻڌايو ته علي اظهر کان ڪيترو وڌيڪ ڊگهو آهي؟

حل: اسان کي ٻنهي جي اوچاين ۾ فرق معلوم ڪرڻو آهي. ان لاءِ اسان ڪٽ جو عمل ڪيون ٿا.

علي جو قد	1 . <del>7</del> <sup>6</sup> 5
اظهر جو قد	- 1 . 2 7
	<u>0 . 4 8</u>

تنهنڪري علي اظهر کان 0.48 ميٽر ڊگهو آهي.

مثال 3: اتي جي هڪ ڪلوگرام جي قيمت 32.50 رپيا آهي. ٻڌايو ته 15 ڪلوگرام اتي جي قيمت ڪيتري ٿيندي؟

حل:

1 ڪلوگرام اتي جي قيمت = 32.5 رپيا

15 ڪلوگرام اتي جي قيمت = 32.50 x 15 =

$$\begin{array}{r} 32.50 \\ \times 15 \\ \hline 16250 \\ + 325 \times \times \\ \hline 487.50 \end{array}$$

ان ريت 15 ڪلوگرام اتي جي ڪل قيمت 487.50 رپيا آهي.

مثال 4:

مسز اسلم 3.36 ڪلوگرام منائي هڪجيتري پنهنجي چئن رشتيدارن ۾ ورهائڻ چاهي ٿي. ٻڌايو ته هر هڪ رشتيدار کي ڪيتري منائي ملندي؟

حل:

$$\begin{array}{r} 0.84 \\ 4 \overline{) 3.36} \\ \underline{- 32} \phantom{0} \\ 16 \\ \underline{- 16} \\ 00 \end{array}$$

33 کي ونڊ ڪرڻ کان پهريائين  
ڏهاڻيءَ جو نشان ونڊ اُپت ۾ لڳايو.

$$3.36 \div 4 = 0.84$$

مطلب ته هر هڪ رشتيدار کي 0.84 ڪلوگرام منائي ملندي.

## مشق 4.6

1. احمد هڪ شرت 325.80 رپين ۾ خريد ڪئي ۽ جينز 525.25 رپين ۾ خريد ڪئي. ٻڌايو ته هن ڪل گهڻو خرچ ڪيو؟
2. جويريا جو وزن 10.24 ڪلوگرام آهي ۽ هن جي پيٽ جو وزن 11.28 ڪلوگرام آهي. ٻڌايو ته ٻنهي پيٽن جو ڪل وزن ڪيترو آهي؟
3. اُنسا دوڪاندار کي هڪ پينسل جي پاڪيٽ ۽ رنگين پينسل جي باڪس جي ڪل قيمت 97.50 رپيا ڏنا. جيڪڏهن پينسل جي پاڪيٽ جي قيمت 30.25 رپيا آهي ته رنگين پينسل جي باڪس جي قيمت ڇو؟
4. هارون ۽ شفيق گڏجي 95.823 رپيا خرچ ڪيا. جيڪڏهن هارون جو خرچ 89.75 رپيا آهي ته شفيق جو خرچ ڇو؟
5. عليءَ کي 50.29 رپيا ڪيسي ۾ هئا. هن 15.45 رپيا پنهنجي پيٽ ناديم کي ڏنا ۽ 13.48 رپين جو ڪافيءَ جو هڪ ڪپ پيئو. ٻڌايو ته باقي ڪيتري رقم هن وٽ بچي؟
6. اسلم 65 ڪڪڙيون هڪ پنهنجي فارم لاءِ خريد ڪيون. هر هڪ ڪڪڙ جو وزن اٽڪل 2.72 ڪلوگرام آهي. ٻڌايو ته سڀني ڪڪڙين جو اٽڪل ڪل وزن ڪيترو ٿيندو؟
7. ڪتابن جي هڪ سيٽ جو وزن 3.75 ڪلوگرام آهي. ٻڌايو ته اهڙن 32 ڪتابن جي سيٽ جو وزن ڪيترو ٿيندو؟
8. يثري 13.75 ميٽر ڊگهي ربن کي هڪ جيترن پنجن ٽڪرن ۾ ڪٽي ٿي. ٻڌايو ته هر هڪ ٽڪري جي ڪيتري ڊيگهه آهي؟
9. اتي جي پنجن ٿيلهن جو ڪل وزن 58.75 ڪلوگرام آهي، ته ساڳي هڪ ٿيلهي جو وزن ڪيترو ٿيندو؟

## جائزي واري مشق 4

1. هيٺين ڏهاڙي عددن ۾ گول ۾ ڏنل انگ جو مڪاني مُل هه لهُو.

(i) 2.32 (5) (ii) 7. (1) 53 (iii) 37.8 (7)

2. هيٺ ڏنل هر هڪ اڻپور کي ڏهاڙي عدد ۾ تبديل ڪريو.

(i)  $\frac{321}{100}$  (ii)  $\frac{175}{1000}$  (iii)  $\frac{19}{4}$  (iv)  $\frac{27}{8}$

3. هيٺ ڏنل هر هڪ ڏهاڙي عدد کي اڻپور ۾ تبديل ڪريو.

(i) 1.54 (ii) 0.35 (iii) 13.7 (iv) 0.345

4. هيٺ ڏنل ڏهاڙي عددن ۾ جوڙ ۽ ڪٽ جا عمل ڪريو.

(i)  $1.57 + 3.42$  (ii)  $0.37 - 0.18$   
(iii)  $17.55 + 23.42$  (iv)  $1.94 - 0.89$

5. هيٺ ڏنل ڏهاڙي عددن ۾ ضرب جا عمل ڪريو.

(i)  $0.325 \times 100$  (ii)  $17.55 \times 10$   
(iii)  $3.5252 \times 1000$  (iv)  $2.57 \times 32$

6. هيٺ ڏنل ڏهاڙي عددن ۾ ونڊ جا عمل ڪريو.

(i)  $9.42 \div 6$  (ii)  $2.52 \div 7$  (iii)  $8.61 \div 3$

7. انس 110.25 ميٽر مفاصلو ڊوڙي ٿو. ايان 97.75 ميٽر ڊوڙي ٿو. ٻڌايو ته ٻنهي جو گڏ مفاصلو ڪيترو ٿيو ۽ انس جو مفاصلو، ايان کان ڪيترو وڌيڪ آهي؟

8. عبدالله روزانو 0.45 لٽر جوس پيئي ٿو. ٻڌايو ته 30 ڏينهن ۾ ڪل ڪيترو جوس پيتو؟

## پيمائش

## 5.1 ڊيگهه

اسان اڳ ۾ پڙهي آيا آهيون ته ننڍي ڊيگهه کي ميٽرن (m) ۽ سينٽي ميٽرن (cm) ۾ ماپيو آهي. جڏهن ته وڏي ڊيگهه يعني مفاصلي کي ڪلوميٽرن (km) ۾ ماپيون ٿا.

## 1. ڊيگهه جي ايڪن کي تبديل ڪرڻ

ڪلوميٽرن کي ميٽرن ۾، ميٽرن کي سينٽي ميٽرن ۽ سينٽي ميٽرن کي ملي ميٽرن ۾ تبديل ڪرڻ

## (i) ڪلوميٽرن کي ميٽرن ۾ تبديل ڪرڻ.

هڪ ڪلوميٽر ۾ 1000 ميٽر ٿين ٿا.

$$1 \text{ ڪلوميٽر (km)} = 1000 \text{ ميٽر (m)}$$

انهيءَ ڪري اسان ڪلوميٽرن جي تعداد کي 1000 سان ضرب ڪري، ميٽرن ۾ تبديل ڪريون ٿا.

مثال 1: 2 ڪلوميٽرن کي ميٽرن ۾ تبديل ڪريو.

حل: 2 ڪلوميٽر =  $2 \times 1000 = 2000$  ميٽر

مثال 2: 8 ڪلوميٽرن کي ميٽرن ۾ تبديل ڪريو.

حل: 8 ڪلوميٽر =  $8 \times 1000 = 8000$  ميٽر



ڪلوميٽرن کي ميٽرن ۾ تبديل ڪريو.

عملي ڪر

1	6 ڪلوميٽر = $6 \times 1000$ = _____ ميٽر	6000
2	9 ڪلوميٽر = _____ = _____ ميٽر	
3	12 ڪلوميٽر = _____ = _____ ميٽر	
4	25 ڪلوميٽر = _____ = _____ ميٽر	
5	50 ڪلوميٽر = _____ = _____ ميٽر	
6	75 ڪلوميٽر = _____ = _____ ميٽر	

استاد شاگردن کي 10، 100، 1000 سان ضرب ڏيڻ کي سمجهائي ڪري مختلف ايڪن ۾ تبديل ڪرڻ سکاري.

استاد لاءِ هدايت:

(ii) ميٽرن کي سينٽي ميٽرن ۾ تبديل ڪرڻ.  
هڪ ميٽر ۾ 100 سينٽي ميٽر ٿين ٿا.

$$1 \text{ ميٽر} = 100 \text{ سينٽي ميٽر}$$

ان لاءِ اسين ميٽرن جي تعداد کي 100 سان ضرب ڪري سينٽي ميٽرن ۾ تبديل ڪيون ٿا.

مثال 1: 6 ميٽرن کي سينٽي ميٽرن ۾ تبديل ڪريو.

حل:  $600 = 100 \times 6$  سينٽي ميٽر

مثال 2: 20 ميٽرن کي سينٽي ميٽرن ۾ تبديل ڪريو.

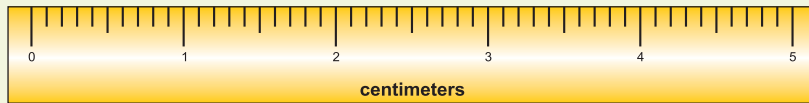
حل:  $2000 = 100 \times 20 = 20$  ميٽر



هيٺ چارٽ ۾ ڏنل ميٽرن کي سينٽي ميٽرن ۾ تبديل ڪريو. **عملي ڪرڻ 2**

1	5 ميٽر =	$5 \times 100$	=	500 سينٽي ميٽر
2	9 ميٽر =		=	سينٽي ميٽر
3	18 ميٽر =		=	سينٽي ميٽر
4	45 ميٽر =		=	سينٽي ميٽر
5	60 ميٽر =		=	سينٽي ميٽر
6	87 ميٽر =		=	سينٽي ميٽر

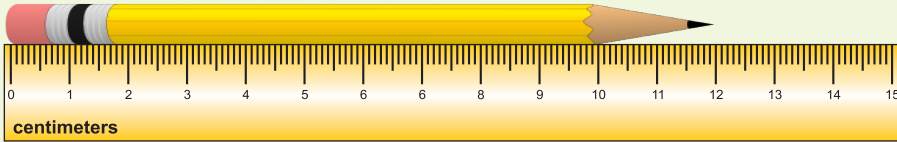
(iii) سينٽي ميٽرن کي ملي ميٽرن ۾ تبديل ڪرڻ.



هر هڪ سينٽي ميٽر جي ايڪي کي 10 ننڍن ايڪن ۾ ورهايو ويو آهي. هر هڪ ننڍي ايڪي کي ملي ميٽر (mm) چئجي ٿو. مطلب ته هڪ سينٽي ميٽر ۾ 10 ملي ميٽر ٿين ٿا.

$$1 \text{ سينٽي ميٽر} = 10 \text{ ملي ميٽر}$$

مثال 1: هيٺ ڏنل پينسل جي ماپ سينٽي ميٽرن ۾ ڪريو ۽ ان ماپ کي ملي ميٽرن ۾ تبديل ڪريو.



حل: ڏنل پينسل جي ماپ 12 سينٽي ميٽر آهي. انهيءَ ماپ کي ملي ميٽرن ۾ تبديل ڪرڻ لاءِ اسان سينٽي ميٽرن کي 10 سان ضرب ڪريون ٿا.

$$\text{ملي ميٽر } 120 = 12 \times 10 = 12 \text{ سينٽي ميٽر}$$

مطلب ته مليل پينسل جي ماپ 120 ملي ميٽر آهي.

مثال 2: 85 سينٽي ميٽرن ماپ کي ملي ميٽرن ۾ تبديل ڪريو.

حل: ملي ميٽر  $850 = 85 \times 10 = 85$  سينٽي ميٽر

هيٺ چارٽ ۾ ڏنل سينٽي ميٽرن کي ملي ميٽرن ۾ تبديل ڪريو.

عملي ڪر



1	7 سينٽي ميٽر = $7 \times 10$ =	_____ ملي ميٽر
2	10 سينٽي ميٽر =	_____ ملي ميٽر
3	11 سينٽي ميٽر =	_____ ملي ميٽر
4	31 سينٽي ميٽر =	_____ ملي ميٽر
5	49 سينٽي ميٽر =	_____ ملي ميٽر

هيٺ ڏنل چارٽ ۾ ڊيگهه جي ايڪن جو پاڻ ۾ لاڳاپو ڏيکاريل آهي.

10 ملي ميٽر =	1 سينٽي ميٽر
100 سينٽي ميٽر =	1 ميٽر
1000 ميٽر =	1 ڪلوميٽر
1 ميٽر =	1000 ملي ميٽر

مثال 3: هڪ چوڪري 2 ميٽر ڊگهي هڪ نوڙي خريد ڪئي. انهيءَ ماپ کي سينٽي ميٽرن ۽ ملي ميٽرن ۾ تبديل ڪريو.



حل: 2 ميٽر =  $100 \times 2 = 200$  سينٽي ميٽر  
وري 2 ميٽر =  $1000 \times 2 = 2000$  ملي ميٽر

## مشق 5.1

1 هينين ڪلوميٽرن کي ميٽرن ۾ تبديل ڪريو.

(i) 5 ڪلوميٽر	(ii) 14 ڪلوميٽر	(iii) 20 ڪلوميٽر
------------------	--------------------	---------------------

2 هينين ميٽرن کي سينٽي ميٽرن ۾ تبديل ڪريو.

(i) 17 ميٽر	(ii) 32 ميٽر	(iii) 54 ميٽر
----------------	-----------------	------------------

3 هينين سينٽي ميٽرن کي ملي ميٽرن ۾ تبديل ڪريو.

(i) 15 سينٽي ميٽر	(ii) 19 سينٽي ميٽر	(iii) 30 سينٽي ميٽر
----------------------	-----------------------	------------------------

4 هينين کي سينٽي ميٽرن ۽ ملي ميٽرن ۾ تبديل ڪريو.

(i) 4 ميٽر	(ii) 10 ميٽر	(iii) 35 ميٽر
---------------	-----------------	------------------

(iv) 64 ميٽر	(v) 83 ميٽر	(vi) 98 ميٽر
-----------------	----------------	-----------------

## 2. ديگه جي ايڪن جو جوڙ ۽ ڪٽ

ديگه جي ساڳين ايڪن جي اظهارن جو جوڙ ۽ ڪٽ

جيئن ته ميٽرن ۾ ميٽر جوڙ ٿين ٿا ۽ ڪلوميٽرن ۾ ڪلوميٽر جوڙ ٿين ٿا، تنهنڪري ساڳين ايڪن جو ئي جوڙ ۽ ڪٽ ٿيندو آهي.

مثال 1: 24 ڪلوميٽر ۽ 233 ميٽرن ۾ ويهه ڪلوميٽر ۽ 446 ميٽر جوڙ ڪريو.

ڪلوميٽر	ميٽر	حل:
24	233	
+ 20	446	
44	679	

مطلب ته جوڙ اُپت 44 ڪلوميٽر ۽ 679 ميٽر آهي.

مثال 2: 42 ميٽر ۽ 75 سينٽي ميٽرن ۾ 28 ميٽر ۽ 90 سينٽي ميٽر جوڙ ڪريو.

ميٽر	سينٽي ميٽر	حل:
42	75	
+ 28	90	
71	65	

مطلب ته جوڙ اُپت 71 ميٽر ۽ 65 سينٽي ميٽر آهي.

مثال 3: 78 ڪلو ميٽر ۽ 86 ميٽرن مان 34 ڪلوميٽر ۽ 23 ميٽر ڪٽ ڪريو.

ڪلوميٽر	ميٽر	حل:
78	86	
- 34	23	
44	63	

مطلب ته ڪٽ اُپت 44 ڪلوميٽر ۽ 63 ميٽر آهي.

مثال 4: 47 ميٽر ۽ 23 سينٽي ميٽرن مان 25 ميٽر ۽ 56 سينٽي ميٽر ڪٽ ڪريو.

ميٽر	سينٽي ميٽر	حل:
47	23	
- 25	56	
21	67	

مطلب ته ڪٽ اُپت 21 ميٽر ۽ 67 سينٽي ميٽر آهي.

## مشق 5.2

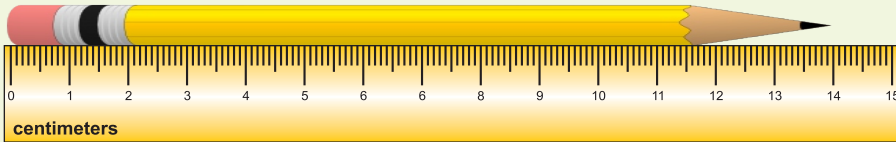
(1) جوڙ ڪريو.

- (i) 4200 ميٽر ۽ 9600 ميٽر  
(ii) 25 ڪلو ميٽر 520 ميٽر ۽ 12 ڪلوميٽر 840 ميٽر  
(iii) 49 ڪلوميٽر 719 ميٽر ۽ 32 ڪلوميٽر 103 ميٽر  
(iv) 30 ڪلوميٽر 60 ميٽر ۽ 29 ڪلوميٽر 29 ميٽر  
(v) 69 ميٽر 17 سينٽي ميٽر ۽ 99 ميٽر 32 سينٽي ميٽر  
(vi) 42 سينٽي ميٽر 3 ملي ميٽر ۽ 68 سينٽي ميٽر 5 ملي ميٽر  
(vii) 13 ميٽر 25 سينٽي ميٽر، 40 ميٽر ۽ 65 ميٽر 5 سينٽي ميٽر  
(viii) 90 ڪلوميٽر 820 ميٽر، 75 ڪلوميٽر 500 ميٽر ۽ 110 ڪلوميٽر 175 ميٽر  
(ix) 45 ڪلوميٽر 840 ميٽر، 82 ڪلوميٽر 399 ميٽر ۽ 230 ڪلوميٽر 180 ميٽر

(2) ڪٽ ڪريو.

- (i) 7000 ميٽرن مان 5050 ميٽر  
(ii) 6 ميٽر 35 سينٽي ميٽرن مان 2 ميٽر 76 سينٽي ميٽر  
(iii) 36 ميٽر 80 سينٽي ميٽرن مان 34 ميٽر 20 سينٽي ميٽر  
(iv) 862 ميٽر 60 سينٽي ميٽرن مان 305 ميٽر 20 سينٽي ميٽر  
(v) 87 ڪلوميٽر ۽ 250 ميٽرن مان 36 ڪلو ميٽر 500 ميٽر  
(vi) 70 ڪلوميٽر 100 ميٽرن مان 18 ڪلوميٽر 352 ميٽر  
(vii) 300 ميٽر 29 سينٽي ميٽرن مان 106 ميٽر 18 سينٽي ميٽر  
(viii) 74 سينٽي ميٽر 7 ملي ميٽرن مان 27 سينٽي ميٽر 8 ملي ميٽر  
(ix) 64 سينٽي ميٽر 3 ملي ميٽرن مان 37 سينٽي ميٽر 5 ملي ميٽر

مناسب ايڪا استعمال ڪري مختلف شين جي ڊيگهه معلوم ڪرڻ  
اسان پينسل جي ڊيگهه سينٽي ميٽرن ۾ ماپيون ٿا.



پينسل جي ڊيگهه 14 سينٽي ميٽر آهي.

اسان ڪتاب جي ڊيگهه سينٽي ميٽرن ۾ ماپيون ٿا.

اسان ميز، ڪمري ۽ راند جي ميدان جي ڊيگهه ميٽرن ۾ ماپيون ٿا.

اسان ٻن شهرن جي وچ ۾ مفاصلي کي ڪلوميٽرن ۾ ماپيون ٿا.

هيٺ ڏنل هر هڪ خاني ۾ صحيح ايڪو سينٽي ميٽر، ميٽر يا ڪلوميٽر لکو.

عملي ڪم



اسين ماپيون ٿا:

سينٽي ميٽرن ۾
۾
۾
۾
۾

1 پين جي ڊيگهه کي

2 بستري جي ڊيگهه کي

3 هاڪي راند جي ميدان جي ڊيگهه کي

4 اوهان جي جاميٽري باڪس جي ويڪر کي

5 ڪراچيءَ کان لاڙڪاڻي تائين مفاصلي کي

مثال: پاسي واري ٽيبل جي ڊيگهه ماپڻ لاءِ استعمال ٿيل صحيح ايڪي تي نشان



(✓) لڳايو.

(الف) 45 ملي ميٽر (ب) 45 سينٽي ميٽر

(ج) 45 ميٽر (د) 45 ڪلو ميٽر

عام زندگيءَ جا عبارتي حساب جنهن ۾ ڊيگهه جي ايڪن کي تبديل ڪرڻ، جوڙ ڪرڻ ۽ ڪٽ ڪرڻ جو عمل شامل آهي

مثال 1: فرحان 1 ميٽر، 30 سينٽي ميٽر ڊگهو آهي. هي هڪ استول تي بيٺو آهي،

جنهنجي اوچائي 70 سينٽي ميٽر آهي. ٻڌايو ته زمين کان هن جي مٿي تائين

ڪل ڪيتري اوچائي آهي؟

سينٽي ميٽر

30

فرحان جي پنهنجي اوچائي آهي

(30 + 70 = 100)

1

70

استول جي اوچائي آهي

(1 ميٽر = 100 سينٽي ميٽر)

+

00

ٻنهي جي گڏ ڪل اوچائي آهي

(ان ڪري 1 ميٽر کي ميٽرن ۾ جمع ڪبو)

2

00

مطلب ته فرحان جي مٿي کان زمين تائين ڪل ڊيگهه 2 ميٽر آهي.

مثال 2: ڪاٺ جي هڪ ٻنڊ جا ٻه ٽڪر ٿيل آهن. جنهن مان هڪ ٽڪر جي ڊيگهه 5 ميٽر ۽ 28

سينٽي ميٽر آهي. ٻئي ٽڪر جي ڊيگهه 3 ميٽر ۽ 55 سينٽي ميٽر آهي.

ٻڌايو ته ٻنهي ٽڪرن جي ڊيگهه ۾ ڇا فرق آهي؟

سينٽي ميٽر

28

ڪاٺ جي هڪ ٽڪر جي ڊيگهه آهي

5

- 3

ڪاٺ جي ٻئي ٽڪر جي ڊيگهه آهي

73

ٻنهي جي ڊيگهه ۾ فرق آهي

مطلب ته ڪاٺ جي ٻنهي ٽڪرن جي ڊيگهه ۾

فرق 1 ميٽر ۽ 73 سينٽي ميٽر آهي.


## مشق 5.3

1 هيٺين شين کي ماپڻ لاءِ بهترين مفيد ديگه جو ايڪو چونڊيو.

(i) رٻڙ جي ٽولھ آھي



- (الف) 2 ملي ميٽر (ب) 2 سينٽي ميٽر  
(ج) 2 ميٽر (د) 2 ڪلوميٽر



(ii) فٽ بال جي ميدان جي ديگه آھي

- (الف) 30 ملي ميٽر (ب) 30 سينٽي ميٽر  
(ج) 30 ميٽر (د) 30 ڪلوميٽر

(iii) ڪراچي ۽ حيدرآباد جي وچ ۾ رستي جو مفاصلو آھي.



ڪراچي



حيدرآباد

- (الف) 165 ملي ميٽر  
(ب) 165 سينٽي ميٽر  
(ج) 165 ميٽر  
(د) 165 ڪلوميٽر

2 لوھ جي ھڪ لٽ 2 ميٽر ۽ 86 سينٽي ميٽر ڊگھي آھي. ٻڌايو ته ان مان 1 ميٽر ۽ 38 سينٽي ميٽر جو ٽڪرو ڪٽڻ کانپوءِ، ڪيتري ماپ جو ٽڪرو بچندو؟

3 علي پنهنجي گھر کان جامع مسجد تائين 789 ميٽر فاصلو ڪيو. ان کان پوءِ جامع مسجد کان اسڪول تائين 368 ميٽر فاصلو طئي ڪري ٿو. ٻڌايو ته هن ڪل ڪيترو فاصلو ڪيو؟

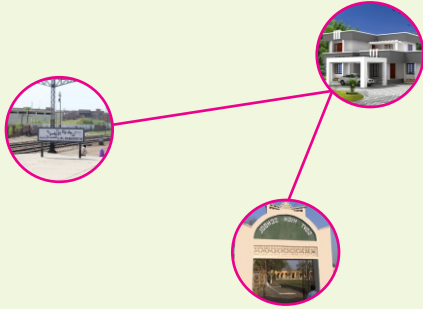
4 هڪ ڪار 1 ميٽر ۽ 62 سينٽي ميٽر ويڪري آهي. سندس گيريج 2 ميٽر ۽ 41 سينٽي ميٽر ويڪري آهي. ٻڌايو ته ڪيتري ماپ جي جڳهه بچندي، جڏهن ڪار گيريج ۾ بيٺي آهي؟

5 هڪ رنگين پينسل جو ڳاڙهو پاسو 65 ملي ميٽر ۽ نيرو پاسو 52 ملي ميٽر آهي. سڄي پينسل جي ديگهه ملي ميٽرن ۽ سينٽي ميٽرن ۾ ٻڌايو؟

6 هڪ ڊوڙ جي مقابلي ۾، ڪنهن مخصوص وقت ۾ طارق 9 ڪلوميٽر ۽ 200 ميٽر فاصلي جي ڊوڙ، ڊوڙي ٿو. جڏهن ته سجاد ساڳي وقت ۾ فقط 8 ڪلوميٽر ۽ 850 ميٽر ڊوڙ ڊوڙي ٿو. ٻڌايو ته طارق، سجاد کان ڪيترو فاصلو اڳتي آهي؟

7 10 ڪلوميٽر ڊوڙ جي مقابلي ۾، هڪ گهوڙو منزل کي پار ڪرڻ کان 245 ميٽر پهرين ڪري پوي ٿو. ٻڌايو ته گهوڙي ڪرڻ کان پهرين ڪيترو فاصلو طئي ڪيو؟


8 ناصر 142 سينٽي ميٽر ڊگهو آهي. جڏهن ته هن جو دوست ناصر کان 8 سينٽي ميٽر وڌيڪ ڊگهو آهي. ٻڌايو ته ناصر جو دوست ڪيترو ڊگهو آهي؟



9 صبا جو گهر 375 ميٽر اسڪول کان پري آهي. جڏهن ته هن جو گهر، ريلوي اسٽيشن کان 505 ميٽرن جي فاصلي تي آهي. ٻڌايو ته صبا جي گهر کان اسڪول ۽ ريلوي اسٽيشن جي وچ ۾ ڪيترو فرق آهي ۽ ٻنهي مفاصلن مان ڪهڙو فاصلو وڌيڪ آهي ۽ ڪيترو وڌيڪ آهي؟

### 5.2 مايو / وزن

مايي جو ايڪو گرام (g) آهي. گريون شيون ٽورڻ لاءِ ڪلوگرام (kg) استعمال ڪيون ٿا. جڏهن ته هلڪين شيون ٽورڻ ۾ گرام استعمال ٿئي ٿو.



ڪلوگرامن کي گرامن ۾ تبديل ڪرڻ.

هڪ ڪلوگرام ۾ 1000 گرام ٿين ٿا.

$$1 \text{ ڪلوگرام (Kg)} = 1000 \text{ گرام (g)}$$

تنهنڪري ڪلوگرامن کي گرامن ۾ تبديل ڪرڻ لاءِ، ڪلوگرامن جي تعداد کي 1000 سان ضرب ڪيون ٿا.

مثال 1: 15 ڪلوگرامن کي گرامن ۾ تبديل ڪريو.

$$15 \text{ kg} = 15 \times 1000 = 15000 \text{ g}$$

مثال 2: 2 ڪلوگرام 250 گرامن کي گرامن ۾ تبديل ڪريو.

$$2 \text{ kg } 250 \text{ g} = 2 \times 1000 \text{ g} + 250 \text{ g}$$

$$= 2000 \text{ g} + 250 \text{ g} = 2250 \text{ g}$$

استاد کي گهرجي ته شاگردن کي سمجهائي ته ڪلوگرامن جي مختلف تعداد کي گرامن ۾ تبديل ڪرڻ لاءِ 1000 سان ضرب ڪيون ٿا.

استاد لاءِ هدايت:

## عملي ڪر



هينين کي گرامن ۾ تبديل ڪريو.

- (1) 18 ڪلوگرام =  $18 \times 1000$  = 18000 گرام
- (2) 25 ڪلوگرام = \_\_\_\_\_ = \_\_\_\_\_ گرام
- (3) 4 ڪلوگرام 80 گرام = \_\_\_\_\_ = \_\_\_\_\_ گرام
- (4) 5 ڪلوگرام 125 گرام = \_\_\_\_\_ = \_\_\_\_\_ گرام

2. مائي/وزن جي ايڪن جو جوڙ ۽ ڪٽ

مائي/وزن جي ساڳين ايڪن جي اظهارن جو جوڙ ۽ ڪٽ

مثال 1: 3 ڪلوگرام، 65 گرام ۽ 5 ڪلوگرام، 30 گرام جوڙ ڪريو.

مثال 2: 9 ڪلوگرام، 650 گرام مان 7 ڪلوگرام، 500 گرام ڪٽ ڪريو.

ڪلوگرام	گرام
8	14 10
9	500
- 7	650
1	850

حل:

ڪلوگرام	گرام
3	65
+ 5	30
8	95

حل:

مطلب ته

مطلب ته

ڪٽ اُڀت = 2 ڪلوگرام ۽ 150 گرام آهي.

ڪل وزن = 8 ڪلوگرام ۽ 95 گرام آهي.

## مشق 5.4

1 هينين اظهارن جو جوڙ ڪريو.

- (i) 3705 گرام، 8536 گرام ۽ 4000 گرام
- (ii) 4 ڪلوگرام 485 گرام، 2 ڪلوگرام 390 گرام ۽ 4 ڪلوگرام 425 گرام
- (iii) 8 ڪلوگرام، 75 گرام ۽ 9 ڪلوگرام، 46 گرام
- (iv) 4 ڪلوگرام 32 گرام ۽ 3 ڪلوگرام ۽ 85 گرام
- (v) 16 ڪلوگرام، 860 گرام ۽ 23 ڪلوگرام، 545 گرام ۽ 49 ڪلوگرام، 360 گرام

2 هينين اظهارن جي ڪٽ ڪريو.

- (i) 5 ڪلوگرامن مان 1 ڪلوگرام، 250 گرام (ii) 6 ڪلوگرام، 86 گرامن مان 3 ڪلوگرام، 33 گرام
- (iii) 9007 گرامن مان 4505 گرام (iv) 59 ڪلوگرام، 960 گرامن مان 36 ڪلوگرام، 740 گرام
- (v) 20 ڪلوگرام، 40 گرامن مان 14 ڪلوگرام، 72 گرام

مناسب ايڪن جي استعمال سان مختلف شين جي مايي/ وزن جي پيمائش ڪريو

- گرين شين کي تورڻ لاءِ اسين ڪلوگرام استعمال ڪيون ٿا.
- هلڪين شين کي تورڻ لاءِ اسين گرام استعمال ڪيون ٿا.

مثال طور

ماڪي ۽ مٺاڻ جي پيمائش گرامن ۽ ڪلوگرامن ۾ ڪيون ٿا. ڪنڊ، ڪٽڪ، چانور ۽ اٽي جي پورين جي پيمائش ڪلوگرامن ۾ ڪريون ٿا. چانهه جي ننڍن پيڪيٽن جي پيمائش گرامن ۾ ڪريون ٿا. سون ۽ چانديءَ جي پيمائش گرامن ۾ ڪيون ٿا.

عملي ڪم

ڪلوگرام (kg) يا گرام (g) جي استعمال سان خال پريو.



- 1 توت پيسٽ جي وزن جي پيمائش \_\_\_\_\_ گرامن ۾ ڪريون ٿا.
- 2 صابن جي هڪ چڪيءَ جي وزن جي پيمائش \_\_\_\_\_ ۾ ڪريون ٿا.
- 3 ڪنڊ جي پوريءَ جي وزن جي پيمائش \_\_\_\_\_ ۾ ڪريون ٿا.
- 4 ڪاغذ جي هڪ صفحي جي وزن جي پيمائش \_\_\_\_\_ ۾ ڪريون ٿا.
- 5 اٽي جي پورين جي وزن جي پيمائش \_\_\_\_\_ ۾ ڪريون ٿا.
- 6 بصرن ۽ پٿارن جي وزن جي پيمائش \_\_\_\_\_ ۾ ڪريون ٿا.
- 7 لوڻ جي ٿيلهين جي وزن جي پيمائش \_\_\_\_\_ ۾ ڪريون ٿا.
- 8 بناسپتي گيهه جي وزن جي پيمائش \_\_\_\_\_ ۾ ڪريون ٿا.

عام زندگيءَ جا عبارتي حساب جنهن ۾ مايي/ وزن جي ايڪن جي تبديل، جوڙ ۽ ڪٽ جي عمل جو استعمال ٿئي

مثال 1: چانورن جي هڪ دوڪاندار 168 ڪلوگرام ۽ 750 گرام چانور وڪيائين، پراجان به ڪيس 57 ڪلوگرام ۽ 650 گرام چانور بچيل آهن. ٻڌايو ته دوڪاندار وٽ شروعات ۾ چانورن جو ڪيترو وزن موجود هيو؟

گرام ڪلوگرام

$$\begin{array}{r}
 168 \quad 750 \quad \text{وڪيل چانورن جو وزن} \\
 + \quad 57 \quad 650 \quad \text{بچيل چانورن جو وزن} \\
 \hline
 226 \quad 400 \quad \text{چانورن جو ڪل وزن}
 \end{array}$$

حل:

مطلب ته دوڪاندار وٽ شروعات ۾ 226 ڪلوگرام 400 گرام چانور موجود هئا.

مثال 2: هڪ ڪڪڙ جو وزن 2 ڪلوگرام 720 گرام آهي، هڪ بدڪ جو وزن 4 ڪلوگرام 240 گرام آهي. ٻڌايو ته بدڪ، مرغيءَ کان ڪيتري وڌيڪ گهري آهي؟

گرام ڪلوگرام

$$\begin{array}{r} 4 \quad 240 \\ - 2 \quad 720 \\ \hline 1 \quad 520 \end{array}$$

حل:

بدڪ جو وزن آهي  
ڪڪڙ جو وزن آهي

ٻنهي جي وزن ۾ فرق آهي

مطلب ته بدڪ، ڪڪڙ کان 1 ڪلوگرام ۽ 520 گرام وزن ۾ وڌيڪ آهي

### مشق 5.5

1 هينين شين جي وزن ڪرڻ لاءِ وڌيڪ صحيح ايڪو ٻڌايو/ چونديو.

1

(i) پيپرڪلپ جو وزن.

(الف) 1 گرام (ب) هڪ ڪلوگرام (ج) 100 گرام (د) 100 ڪلوگرام

(ii) 13 سالن جي چوڪري جو وزن.

(الف) 4 گرام (ب) 4 ڪلوگرام (ج) 40 ڪلوگرام (د) 400 گرام

(iii) چانهه جي هڪ دٻي جو وزن.

(الف) 40 گرام (ب) 400 گرام (ج) 4 ڪلوگرام (د) 4 ڪلوگرام

(iv) هندائي (چاهين) جو وزن.

(الف) 5 ڪلوگرام (ب) 50 گرام (ج) 50 ڪلوگرام (د) 500 گرام

2 رٻڙ جي هڪ سليب جو وزن 75 ڪلوگرام ۽ 700 گرام آهي، ساڳي قسم جي ٻئي سليب جو وزن 86 ڪلوگرام ۽ 400 گرام آهي ٻڌايو ته ٻنهي جو گڏوگڏ وزن ڪيترو آهي؟

3 حسين جو وزن 28 ڪلوگرام ۽ 750 گرام آهي، هن جي پيءُ جو وزن 63 ڪلوگرام ۽ 500 گرام آهي. ٻڌايو ته حسين پنهنجي پيءُ کان ڪيترو وڌيڪ هلڪو آهي؟

4 فوزيه هڪ دوڪان تان 21 ڪلوگرام ۽ 350 گرام منائي خريد ڪئي، هڪ ٻي دوڪان تان 1 ڪلوگرام ۽ 200 گرام منائي خريد ڪئي. ٻڌايو ته هن ٻنهي دوڪانن تان ڪُل گهڻي منائي خريد ڪئي؟

5 هڪ اناج جي واپاريءَ وٽ 3000 ڪلوگرام مٽر موجود آهن، هي انهن مان 1856 ڪلوگرام ۽ 750 گرام وڪرو ڪري ٿو. ٻڌايو ته باقي ڪيترو وزن مٽر هن وٽ موجود آهي؟

5.3 مقدار / گنجائش

(1) گنجائش يعني مقدار جي ايڪن کي تبديل ڪرڻ

گنجائش يعني مقدار ماپڻ جو معياري ايڪو لٽر (l) آهي.  
گنجائش يعني مقدار ماپڻ جو ننڍو ايڪو ملي لٽر (ml) آهي.

لٽرن کي ملي لٽرن ۾ تبديل ڪرڻ  
هڪ لٽر ۾ 1000 ملي لٽر ٿين ٿا.

$$1 \text{ لٽر } (l) = 1000 \text{ ملي لٽر } (ml)$$

جڏهن لٽرن کي ملي لٽرن ۾ تبديل ڪريون ٿا ته اسان لٽرن جي تعداد کي 1000 سان ضرب ڪيون ٿا.

مثال 1: 8 لٽرن کي ملي لٽرن ۾ تبديل ڪريو.

حل: ملي لٽر  $8 \times 1000 = 8000$  = 8 لٽر

هيٺين کي ملي لٽرن ۾ تبديل ڪريو.

عملي ڪم



- (1) 15 لٽر =  $15 \times 1000$  = \_\_\_\_\_ ملي لٽر **15000**
- (2) 40 لٽر = \_\_\_\_\_ = \_\_\_\_\_ ملي لٽر
- (3) 75 لٽر = \_\_\_\_\_ = \_\_\_\_\_ ملي لٽر
- (4) 66 لٽر = \_\_\_\_\_ = \_\_\_\_\_ ملي لٽر

(2) گنجائش يعني مقدار جي ايڪن ۾ جوڙڻ ۽ ڪٽ  
گنجائش يعني مقدار جي ايڪن جي اظهارن جو جوڙڻ ۽ ڪٽ

مثال 1: 9 لٽر ۽ 800 ملي لٽرن ۾ 2 لٽر ۽ 300 ملي لٽر جوڙڻ ڪريو.

حل:

لٽر	ملي لٽر	
9	800	
+ 2	300	
<u>12</u>	<u>100</u>	

مطلب ته ڪل مقدار 12 لٽر ۽ 100 ملي لٽر آهي.

استاد شاگردن کي مثال ڏيئي سمجهائي ته لٽرن کي ملي لٽرن ۾ تبديل ڪرڻ لاءِ 1000 سان ضرب ڪريون ٿا.

استاد لاءِ هدايت:

## مشق 5.6

(الف) جوڙ ڪريو.

- (i) 7 لٽر 420 ملي لٽر ۽ 10 لٽر 500 ملي لٽر  
(ii) 2100 ملي لٽر، 4960 ملي لٽر ۽ 3755 ملي لٽر  
(iii) 7 لٽر 25 ملي لٽر، 16 لٽر 400 ملي لٽر ۽ 31 لٽر 251 ملي لٽر  
(iv) 705 ملي لٽر، 820 ملي لٽر ۽ 695 ملي لٽر  
(v) 14 لٽر 782 ملي لٽر، 17 لٽر 300 ملي لٽر ۽ 26 لٽر 450 ملي لٽر

(ب) ڪٽ ڪريو.

- (i) 825 لٽرن مان 719 لٽر  
(ii) 60 لٽر 600 ملي لٽرن مان 16 لٽر 415 ملي لٽر  
(iii) 905 ملي لٽرن مان 640 ملي لٽر  
(iv) 11 لٽر 150 ملي لٽرن مان 8 لٽر 205 ملي لٽر  
(v) 97 لٽر 660 ملي لٽرن مان 76 لٽر 223 ملي لٽر

مختلف شين (ٿانون) جي گنجائش يعني مقدار جي ايڪن جي پيمائش ڪرڻ



★ بيڪر جي گنجائش يعني مقدار

★  $\frac{1}{2}$  لٽر يا 500 ملي لٽر آهي.

★ ٻئي وڏي بيڪر جي گنجائش يعني

★ مقدار 1 لٽر آهي يا 1000 ملي لٽر آهي.

★ پاڻيءَ جي بوتل جي گنجائش يعني مقدار 1 لٽر آهي.




★ بالٽيءَ جي گنجائش يعني مقدار 5 لٽر

★ يا 5000 ملي لٽر آهي.



★ پيالين جي گنجائش يعني مقدار

★ 250 ملي لٽر، 500 ملي لٽر ۽ 750 ملي لٽر آهي.



عملي ڪر



هيٺ ڏنل شين جي صحيح گنجائش يا مقدار جي ماپ لکو.



1

25 ملي لٽر  
 250 ملي لٽر ✓  
 2500 ملي لٽر



2

36 ملي لٽر  
 360 ملي لٽر  
 3600 ملي لٽر



3

1 لٽر  
 10 لٽر  
 100 لٽر

عام زندگيءَ جا عبارتي حساب جنهن ۾ پائياڻ جي گنجائش يعني مقدار جي ايڪن جي تبديل ڪرڻ، جوڙ ۽ ڪٽ شامل هجن

مثال 1: هڪ پلاسٽڪ جي ٽانڪيءَ ۾ 18 لٽر پاڻي موجود آهي. ان ٽانڪيءَ ۾ علي پيو 16 لٽر پاڻي وجهي ٿو. ٻڌايو ته هاڻي ٽانڪيءَ ۾ ڪل پاڻي ڪيترو آهي؟

$$\begin{array}{r}
 18 \text{ تانڪيءَ ۾ پهرين پاڻي موجود آهي} \\
 + 16 \text{ علي ان ٽانڪيءَ ۾ پيو پاڻي وڌو} \\
 \hline
 34 \text{ ڪل پاڻي ٿيو}
 \end{array}$$

حل:

مطلب ته هاڻي ٽانڪيءَ ۾ ڪل پاڻي 34 لٽر موجود آهي.

مثال 2: ٻن بوتلن ۾ گڏ 200 لٽر جوس موجود آهي. جيڪڏهن هڪ بوتل جي گنجائش يعني مقدار 98 لٽر آهي، ته ٻي بوتل جي گنجائش يعني مقدار ڇهون.

$$\begin{array}{r}
 200 \text{ لٽر} \\
 - 98 \text{ بوتل} \\
 \hline
 102 \text{ حل:}
 \end{array}$$

ٻن بوتلن ۾ ڪل جوس موجود آهي  
 هڪ بوتل ۾ جوس موجود آهي  
 ٻي بوتل ۾ جوس موجود هوندو

مطلب ته ٻنهي بوتلن جي گنجائش يعني مقدار 102 لٽر آهي.

## مشق 5.7

(1) هيٺين شين جي گنجائش يعني مقدار کي ماپڻ جو صحيح ايڪو چونڊيو.

i



4 l, 400 l, 40 l

ii



iii



500 l, 500 ml, 800 ml

iv



4 l, 4 ml

v



140 l, 140 ml

vi



5 l, 5 ml

2 هڪ بوتل جنهن ۾ 28 ملي لٽر پاڻي موجود آهي. ان مان 19 ملي لٽر پاڻي ڪڍيو وڃي ٿو. ٻڌايو ته باقي ڪيترو پاڻي بچندو؟

3 ساره جي گهر ۾ هڪ باٽ تب کي مڪمل ڀرڻ لاءِ 850 لٽر پاڻي گهربل آهي. هن وقت باٽ تب ۾ 552 لٽر پاڻي موجود آهي. ٻڌايو ته باقي ڪيترو پاڻي گهرجي جو باٽ تب پاڻيءَ سان مڪمل ڀرجي وڃي؟

4 هڪ تيل جي ٽانڪيءَ ۾ هن وقت 98 لٽر ۽ 300 ملي لٽر تيل موجود آهي. انهيءَ تيل جي ٽانڪيءَ ۾ 51 لٽر ۽ 700 ملي لٽر تيل وڌيڪ گڏيو وڃي ٿو. ٻڌايو ته ٽانڪيءَ ۾ ڪل تيل گهڻو ٿيندو؟

5 هڪ وين 272 لٽر ڪير ڪڍي پئي وئي ته اوچتو حادثي جي ڪري 35 لٽر ۽ 875 ملي لٽر ڪير هارجي پيو. ٻڌايو ته باقي ڪيترو ڪير بچيو؟

6 پاڻيءَ جي هڪ ڊرم ۾ 500 لٽر پاڻي موجود آهي. گلن کي پاڻي ڏيڻ کان پوءِ، 260 ملي لٽر پاڻي بچيو آهي. ٻڌايو ته گلن کي پاڻي ڏيڻ ۾ ڪيترو پاڻي استعمال ٿيو آهي؟

7 هڪ بوتل ۾ 1 لٽر ۽ 10 ملي لٽر شربت موجود آهي. جڏهن ته ٻي بوتل ۾ 2 لٽر ۽ 75 ملي لٽر آهي. ٻڌايو ته ٻنهي بوتلن ۾ ڪل ڪيترو شربت موجود هوندو؟

8 امين 752 ملي لٽر ڪاٺ واري تيل مختلف قسم جي ڪاٺن تيار ڪرڻ ۾ استعمال ڪري ٿو. جڏهن ته سعد ساڳيو 448 ملي لٽر تيل هڪ هفتي ۾ استعمال ڪري ٿو. ٻڌايو ته ٻنهي گڏجي ڪل گهڻو تيل استعمال ڪيو؟

## 5.4 وقت



سامهون ڏيکاريل واچ ۾ ٽي سٺيون آهن. ننڍي سٺيءَ کي ڪلاڪ سٺي چئبو آهي. وڏي سٺيءَ کي منٽ سٺي چئجي ٿو. ٽين سٺ کان سنهي سٺيءَ کي سيڪنڊ سٺي چئجي ٿو. ڪلاڪ سٺي هڪ ڏينهن ۾ ٻه دفعا چڪر پورو ڪري ٿي. منٽ سٺي هڪ ڏينهن ۾ 24 دفعا گول چڪر پورو ڪري ٿي. سيڪنڊ سٺي، هڪ منٽ ۾ 60 ننڍڙا جهٽڪا ڏيندي واچ جو هڪ گول چڪر پورو ڪري ٿي.

اسان اڳ ۾ وقت جي پيمائش سڪي آيا آهيون ته:

مئي 2014						
آچر	ڇنڇر	ڇنڇر	اربع	اربع	اربع	اربع
*	*	*	1	2	3	4
5	6	7	8	9	10	11
12	13	14	15	16	17	18
19	20	21	22	23	24	25
26	27	28	29	30	31	*



## وقت جي پيمائش

منٽ	60	=	ڪلاڪ	1
ڪلاڪ	24	=	ڏينهن	1
ڏينهن	7	=	هفتو	1
سال	1	=	هفتا	52
مهينا	12	=	سال	1

## 5.4.1 وقت جي ايڪن جي تبديلي

وقت ڪلاڪن ۾، منٽن ۾ ۽ سيڪنڊن ۾ پڙهڻ

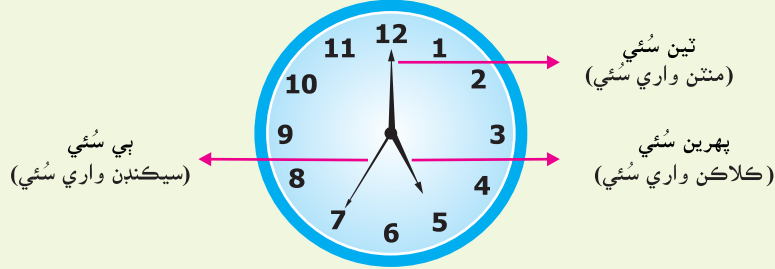
اسان پڙهي آيا آهيون ته هڪ ڏينهن ۾ 24 ڪلاڪ ٿين ٿا. هڪ ڏينهن، آڏي رات جو 12 بجي پورو ٿئي ٿو ۽ ٻئي ڏينهن جي شروعات ساڳي وقت رات جو 12 بجي کان پوءِ ٿئي ٿي.

- آڏي رات جو 12 بجي کان وٺي منجهند جو 12 بجي تائين a.m سان ظاهر ڪيون ٿا، يعني رات جو دير کان صبح تائين.

استاد شاگردن ۾ مختلف وقت جي پيمائشن جو دؤر ڪرائي.

استاد لاءِ هدايت:

- ساڳي طرح منجهند 12 بجي کان آڏي رات جو 12 بجي تائين جو وقت p.m. سان ظاهر ڪيون ٿا. يعني منجهند کان پوءِ وارو، شام وارو ۽ رات وارو وقت. هيٺ ڏنل واچ کي ڏسو، انهيءَ کي ٽي سٽيون آهن.



ٽين سٽي ڊگهي ۽ سنهي ٿئي ٿي، اها باقي ٻنهي سٽين کان تيز هلي ٿي. اها ننڍڙا جهٽڪا ڏئي اڳتي هلندي رهي ٿي. انهيءَ سٽيءَ جو هڪ جهٽڪو هڪ سيڪنڊ وقت پورو ٿيڻ پڌائڻي ٿو. ان طرح سيڪنڊ وقت جو ننڍي ۾ ننڍو ايڪو آهي.

مطلب ته هڪ منٽ ۾ 60 سيڪنڊ ٿين ٿا.  $60 \text{ سيڪنڊ} = 1 \text{ منٽ}$

سيڪنڊن واري سٽي 60 ننڍڙا جهٽڪا ڏيندي، گهڙيال تي هڪ پورو چڪر ڪري ٿي يعني جڏهن 60 سيڪنڊ پورا ٿين ٿا ته هڪ منٽ گذري ٿو.

پڌايو ته سيڪنڊن واري سٽي هڪ ڪلاڪ ۾ ڪيترا ننڍڙا جهٽڪا ڏيندي؟

$$60 \times 60 = 3600 \text{ سيڪنڊ}$$

يا

$$3600 \text{ سيڪنڊ} = 1 \text{ ڪلاڪ}$$

a.m يا p.m استعمال ڪريو.

عملي ڪر



- صبح جي 8 بجي کي \_\_\_\_\_ سان ظاهر ڪريون ٿا.
- شام جي 5 بجي کي \_\_\_\_\_ سان ظاهر ڪريون ٿا.
- صبح جي 1 بجي کي \_\_\_\_\_ سان ظاهر ڪريون ٿا.
- رات جي 9 بجي کي \_\_\_\_\_ سان ظاهر ڪريون ٿا.
- ٻه ڪلاڪ پهريائين اڌ رات جي وقت کي \_\_\_\_\_ سان ظاهر ڪريون ٿا.

a.m رات جو 12 بجي کان منجهند جو 12 بجي تائين وقت کي ظاهر ڪري ٿو. **نوٽ:** p.m منجهند جو 12 بجي کان رات جو 12 بجي تائين وقت کي ظاهر ڪري ٿو.

هيٺ ڏنل واچ جي منهن کي ڏسو! اسان ان کي بن حصن ۾ ورهايون ٿا.

جيڪڏهن منٽن واري سئي  
کاٻي پاسي آهي ته اسين چوندا سين  
ڪلاڪ ٽيڻ ۾ منٽ پيا آهن.



جيڪڏهن منٽن واري سئي  
ساڄي پاسي آهي ته اسين چوندا سين  
ڪلاڪ وڃي منٽ ٿيا آهن.



پوڻا 12

11:45



سوا 12

12:15



4 ٽيڻ ۾ 5 منٽ پيا آهن

3:55




6 وڃي 10 منٽ ٿيا آهن

6:10

هيٺين واچن ۾ ڏيکاريل وقت کي اکرن ۽ انگن ۾ لکو.




(i)



3 ٽيڻ ۾ 5 منٽ پيا آهن


2:55

(ii)




8 وڃي 10 منٽ ٿيا آهن.


(iii)




(iv)



(v)



(vi)



ڪلاڪن کي منٽن ۾ ۽ منٽن کي سيڪنڊن ۾ تبديل ڪرڻ

(الف) ڪلاڪن کي منٽن ۾ تبديل ڪرڻ

ڪلاڪن کي منٽن ۾ تبديل ڪرڻ لاءِ اسان ڪلاڪن جي تعداد کي 60 سان ضرب ڪيون ٿا.

مثال 1: 3 ڪلاڪ ۽ 15 منٽن کي منٽن ۾ تبديل ڪريو.

حل: 3 ڪلاڪ = 15 منٽ = 3 ڪلاڪ ۽ 15 منٽ

$$\text{منٽ } 195 = 15 + 180 = 3 \times 60 + 15$$

مطلب ته 3 ڪلاڪ ۽ 15 منٽن جا ڪل 195 منٽ بڻجن ٿا.

هيٺين کي منٽن ۾ تبديل ڪريو.

عملي ڪر 1



(1) 2 ڪلاڪ 10 منٽ =  $2 \times 60 + 10$  = 130 منٽ

(2) 3 ڪلاڪ 32 منٽ = \_\_\_\_\_ = \_\_\_\_\_ منٽ

(3) 1 ڪلاڪ 45 منٽ = \_\_\_\_\_ = \_\_\_\_\_ منٽ

(4) 5 ڪلاڪ = \_\_\_\_\_ = \_\_\_\_\_ منٽ

(ب) منٽن کي سيڪنڊن ۾ تبديل ڪرڻ

منٽن کي سيڪنڊن ۾ تبديل ڪرڻ لاءِ اسان منٽن جي تعداد کي 60 سان ضرب ڪيون ٿا.

مثال 1: 4 منٽن کي سيڪنڊن ۾ تبديل ڪريو.

حل: سيڪنڊ 240 =  $4 \times 60 = 4$  منٽ

مطلب ته 4 منٽن جا ڪل 240 سيڪنڊ ٿين ٿا.

مثال 2: 3 منٽ ۽ 20 سيڪنڊن کي سيڪنڊن ۾ تبديل ڪريو.

حل: سيڪنڊ 200 =  $180 + 20 = 3 \times 60 + 20$

مطلب ته 3 منٽ ۽ 20 سيڪنڊن جا ڪل 200 سيڪنڊ بڻجن ٿا.

هيٺين کي سيڪنڊن ۾ تبديل ڪريو.

عملي ڪر 2



(1) 47 منٽ =  $47 \times 60$  = 2820 سيڪنڊ

(2) 1 منٽ 5 سيڪنڊ = \_\_\_\_\_ = \_\_\_\_\_ سيڪنڊ

(3) 12 منٽ 15 سيڪنڊ = \_\_\_\_\_ = \_\_\_\_\_ سيڪنڊ

(4) 45 منٽ 10 سيڪنڊ = \_\_\_\_\_ = \_\_\_\_\_ سيڪنڊ

(5) 55 منٽ 20 سيڪنڊ = \_\_\_\_\_ = \_\_\_\_\_ سيڪنڊ

استاد شاگردن کي سمجهائي ته ڪلاڪن کي منٽن ۾ ۽ منٽن کي سيڪنڊن ۾ تبديل ڪرڻ لاءِ 60 سان ضرب ڪيون ٿا.

استاد لاءِ هدايت:

سالن کي مهينن ۾، مهينن کي ڏينهن ۾ ۽ ڏينهن کي هفتن ۾ تبديل ڪرڻ.

(الف) سالن کي مهينن ۾ تبديل ڪرڻ

ان ڪري سالن کي مهينن ۾ تبديل ڪرڻ لاءِ، سالن جي تعداد کي 12 سان ضرب ڪيون ٿا.

مثال 1:

3 سالن کي مهينن ۾ تبديل ڪريو.

حل:

اسان کي خبر آهي ته هڪ سال ۾ ٻارهن مهينا ٿين ٿا.

تنهنڪري 36 مهينا = مهينا (3 X 12) = 3 سال

مثال 2:

4 سال ۽ 8 مهينن کي مهينن ۾ تبديل ڪريو.

حل:

8 مهينا + مهينا (4 X 12) = 4 سال ۽ 8 مهينا

56 مهينا = 8 مهينا + مهينا 48

هيٺين کي مهينن ۾ تبديل ڪريو.

عملي ڪر



(1) 2 سال مهينا  $\underline{\quad\quad}$  =  $\underline{2 \times 12}$  = 24 مهينا

(2) 5 سال 2 مهينا  $\underline{\quad\quad}$  =  $\underline{\quad\quad}$  = مهينا

(3) 10 سال 8 مهينا  $\underline{\quad\quad}$  =  $\underline{\quad\quad}$  = مهينا

(4) 7 سال ڇهه مهينا  $\underline{\quad\quad}$  =  $\underline{\quad\quad}$  = مهينا

(ب) مهينن جي ڏينهن ۾ تبديلي

مهينن کي ڏينهن ۾ تبديل ڪرڻ لاءِ مهينن جي تعداد کي 30 سان ضرب ڪيون ٿا.

مثال 1:

5 مهينن کي ڏينهن ۾ تبديل ڪريو.

حل:

5 مهينا = ڏينهن (5 x 30) = 150 ڏينهن

مثال 2:

2 مهينا ۽ 20 ڏينهن کي ڏينهن ۾ تبديل ڪريو.

حل:

ڏينهن 20 + ڏينهن (2 x 30) = 2 مهينا - 20 ڏينهن

ڏينهن 20 + ڏينهن 60 = 80 ڏينهن

هيٺين کي ڏينهن ۾ تبديل ڪريو.

عملي ڪر



(1) 4 مهينا 10 ڏينهن  $\underline{\quad\quad}$  =  $\underline{4 \times 30 + 10}$  = 130 ڏينهن

(2) 6 مهينا 4 ڏينهن  $\underline{\quad\quad}$  =  $\underline{\quad\quad}$  = ڏينهن

(3) 9 مهينا 20 ڏينهن  $\underline{\quad\quad}$  =  $\underline{\quad\quad}$  = ڏينهن

(4) 18 مهينا 15 ڏينهن  $\underline{\quad\quad}$  =  $\underline{\quad\quad}$  = ڏينهن

(ج) هفتن جي ڏينهن ۾ تبديلي

هفتن کي ڏينهن ۾ تبديل ڪرڻ لاءِ اسان هفتن جي تعداد کي 7 سان ضرب ڪريون ٿا.

مثال 1: 5 هفتن کي ڏينهن ۾ تبديل ڪريو.

حل: 5 هفتا =  $(7 \times 5) = 35$  ڏينهن

مثال 2: ٻن هفتن ۽ 4 ڏينهن کي ڏينهن ۾ تبديل ڪريو.

حل: 2 هفتا 4 ڏينهن =  $(2 \times 7) = 14$  ڏينهن + 4 ڏينهن = 18 ڏينهن

## مشق 5.8

(1) هيٺين کي مهينن ۾ تبديل ڪريو.

- (i) 5 سال      (ii) 8 سال 6 مهينا      (iii) 4 سال 9 مهينا  
(iv) 10 سال ٻه مهينا      (v) 15 سال 8 مهينا      (vi) 20 سال 10 مهينا

(2) هيٺين کي ڏينهن ۾ تبديل ڪريو.

- (i) 3 مهينا      (ii) 3 مهينا 12 ڏينهن  
(iii) 8 مهينا 20 ڏينهن      (iv) 4 مهينا 25 ڏينهن  
(v) 10 مهينا 28 ڏينهن      (vi) 2 مهينا 15 ڏينهن

(3) هيٺين کي ڏينهن ۾ تبديل ڪريو.

- (i) 8 هفتا      (ii) 25 هفتا 3 ڏينهن  
(iii) 17 هفتا 6 ڏينهن      (iv) 30 هفتا  
(v) 35 هفتا 5 ڏينهن      (vi) 41 هفتا 2 ڏينهن

2. وقت جي ايڪن جو جوڙ ۽ ڪٽ

وقت جي ايڪن جو جوڙ ۽ ڪٽ ٽپائڻ/ اڏاري وٺڻ کان سواءِ

مثال 1: 15 منٽ 35 سيڪنڊ ۽ 30 منٽ 20 سيڪنڊ جوڙ ڪريو.

منٽ	سيڪنڊ	حل:
1 5	3 5	
+ 3 0	2 0	
<hr/>	<hr/>	
4 5	5 5	

مطلب ته مليل ٻن وقتن جي گهربل جوڙ اُپٽ 45 منٽ 55 سيڪنڊ آهي

مثال 2: 46 منٽ 48 سيڪنڊن مان 25 منٽ 32 سيڪنڊ ڪٽ ڪريو.  
حل:

منٽ	سيڪنڊ
4 6	4 8
- 2 5	3 2
2 1	1 6

مطلب ته مليل ٻنهي وقتن جي گهربل ڪٽ اُپٽ 21 منٽ 16 سيڪنڊ آهي.

### مشق 5.9

(الف) جوڙ ڪريو.

- (i) 45 منٽ، 38 سيڪنڊ ۽ 30 منٽ، 40 سيڪنڊ
- (ii) 48 منٽ، 39 سيڪنڊ ۽ 37 منٽ، 20 سيڪنڊ
- (iii) 28 ڪلاڪ، 10 منٽ ۽ 31 ڪلاڪ، 20 منٽ
- (iv) 25 ڪلاڪ، 20 منٽ ۽ 34 ڪلاڪ، 15 منٽ

(ب) ڪٽ ڪريو.

- (i) 59 منٽ 49 سيڪنڊن مان 48 منٽ 39 سيڪنڊ
- (ii) 55 منٽ 35 سيڪنڊن مان 35 منٽ 25 سيڪنڊ
- (iii) 45 ڪلاڪ 46 منٽن مان 32 ڪلاڪ 12 منٽ
- (iv) 54 ڪلاڪ 30 منٽن مان 23 ڪلاڪ 10 منٽ

عام زندگيءَ جا عبارتي حساب جنهن ۾ وقت جي ايڪن جي تبديلي، جوڙ ۽ ڪٽ جا عمل شامل آهن

مثال 1: نازيه 1 ڪلاڪ 15 منٽ رياضيءَ جي گهرو ڪم ڪري پوري ڪرڻ ۾ لڳايا. هن انگريزيءَ جي گهرو ڪم ڪري پوري ڪرڻ ۾ هڪ ڪلاڪ ورتو. ٻڌايو ته هن ٻنهي گهرو ڪمن کي پوري ڪرڻ ۾ ڪل ڪيترو وقت ورتو؟

منٽ	ڪلاڪ	
1	15	رياضيءَ جي گهرو ڪم ڪري پوري ڪرڻ ۾ وقت ورتو
+ 1	00	انگريزيءَ جي گهرو ڪم ڪري پوري ڪرڻ ۾ وقت ورتو
2	15	ٻنهي گهرو ڪمن کي پوري ڪرڻ ۾ ڪل وقت ورتو

چئبو ته نازيه ٻنهي گهرو ڪمن کي پوري ڪرڻ ۾ 2 ڪلاڪ 15 منٽ وقت ورتو.

**مثال 2:** همدان 1 ڪلاڪ 30 منٽ ڪرڪيٽ راند کيڏي. جڏهن ته هن جي ڀاءُ حماد 1 ڪلاڪ 15 منٽ ڪرڪيٽ راند کيڏي. ٻڌايو ته همدان ڪيترو وڌيڪ وقت ڪرڪيٽ راند کيڏي؟

ڪلاڪ	منٽ	
1	30	همدان ڪرڪيٽ راند کيڏڻ ۾ وقت ورتو
- 1	15	حماد ڪرڪيٽ راند کيڏڻ ۾ وقت ورتو
<u>0</u>	<u>15</u>	فرق

مطلب ته همدان ڪرڪيٽ راند کيڏڻ ۾ 15 منٽ وڌيڪ وقت ورتو آهي.

### مشق 5.10

- 1 رفيق 25 منٽ 30 سيڪنڊ وقت اسڪول پهچڻ ۾ ورتو. جڏهن ته هن اسڪول کان واپسيءَ ۾ وقت 23 منٽ 25 سيڪنڊ ورتا آهن. ٻڌايو ته هن اسڪول وڃڻ ۽ واپس اچڻ ۾ ڪل گهڻو وقت ورتو؟
- 2 پاڪستاني ڪرڪيٽ ٽيم 4 ڪلاڪ 25 منٽ وقت پنهنجي انگريزي پوري ڪرڻ لاءِ لڳايا. جڏهن ته انڊيا جي ڪرڪيٽ ٽيم 3 ڪلاڪ 20 منٽ وقت پنهنجي انگريزي پوري ڪرڻ ۾ ورتو. ٻڌايو ته ٻنهي ٽيمن ڪل ڪيترو وقت ڪرڪيٽ راند کيڏي؟
- 3 احسن هڪ ڪم پوري ڪرڻ ۾ 42 منٽ ۽ 54 سيڪنڊ لڳايا. هن جي دوست ساڳي ڪم کي پوري ڪرڻ لاءِ 32 منٽ ۽ 12 سيڪنڊ وقت ورتو. ٻڌايو ته احسن ڪم پوري ڪرڻ ۾ ڪيترو وڌيڪ وقت ورتو؟
- 4 هڪ ريل لاهور کان ڪراچيءَ تائين پهچڻ ۾ 19 ڪلاڪ ۽ 48 منٽ وٺي ٿي، جڏهن ته ٻي ريل 17 ڪلاڪ ۽ 23 منٽ وٺي ٿي. ٻڌايو ته ٻنهي ريل گاڏين جي لڳايل وقت ۾ ڪيترو فرق آهي؟
- 5 مومل 53 منٽ ۽ 47 سيڪنڊ ٽيليويزن ڏٺي. جڏهن ته زاهد 39 منٽ ۽ 23 سيڪنڊ ٽيليويزن ڏٺي. ٻڌايو ته ٻنهي جي وقت ۾ ڪيترو فرق آهي؟

استاد شاگردن کي ڪجهه وڌيڪ مثال عبارتي حسابن جا حل ڪرائي.

استاد لاءِ هدايت:

## جائزي واري مشق 5

1 صحيح جواب کي نشان (✓) لڳايو.

- (i) 1 سينٽي ميٽر برابر آهي  
(الف) 100 ملي ميٽر (ب) 10 ملي ميٽر (ج) 1000 ملي ميٽر
- (ii) 1 ڪلوميٽر برابر آهي  
(الف) 1000 ميٽر (ب) 100 ميٽر (ج) 10 ميٽر
- (iii) 1 لٽر برابر آهي  
(الف) 100 ملي لٽر (ب) 10 ملي لٽر (ج) 1000 ملي لٽر
- (iv) هڪ ڏينهن ۾ ڪلاڪ ٽين ٿا  
(الف) 12 (ب) 24 (ج) 30

2 چار اظهار ڏيگهه ماپ جا لکو، جنهن ۾ ڪلوميٽر استعمال ٿئي.

- (i) ٻن مينارن جو مفاصلو \_\_\_\_\_ (ii) \_\_\_\_\_
- (iii) \_\_\_\_\_ (vi) \_\_\_\_\_

3 هيٺين ڏيگهه ماپ کي ڪلوميٽرن ۾ تبديل ڪريو.

- (i) 6000 ميٽر = \_\_\_\_\_ (ii) 3500 ميٽر = \_\_\_\_\_

4 هيٺين ڏيگهه ماپ کي ميٽرن ۾ تبديل ڪريو.

- (i) 15 ڪلوميٽر = \_\_\_\_\_ (ii) 3 ڪلوميٽر = \_\_\_\_\_

5 هيٺيان جوڙ ڪريو.

- (i) 30 ڪلوميٽر، 43 ميٽر ۽ 18 ڪلوميٽر، 84 ميٽر  
(ii) 48 ميٽر، 50 سينٽي ميٽر ۽ 38 ميٽر، 76 سينٽي ميٽر  
(iii) 13 لٽر، 800 ملي لٽر ۽ 12 لٽر، 700 ملي لٽر  
(iv) 44 ڪلوگرام، 380 گرام ۽ 38 ڪلوگرام، 960 گرام

6 ڪٽ ڪريو.

- (i) 76 ڪلو ميٽر، 72 ميٽرن مان 40 ڪلوميٽر 65 ميٽر  
(ii) 72 ميٽر، 34 سينٽي ميٽرن مان 43 ميٽر، 81 سينٽي ميٽر  
(iii) 12 لٽر، 250 ملي لٽرن مان 4 لٽر  
(iv) 86 ڪلوگرام، 638 گرامن مان 45 ڪلوگرام، 325 گرام

## جاميٽري



## 6.1 جاميٽري باڪس

جاميٽري باڪس ۾ مختلف قسم جا اوزار ٿين ٿا. انهن اوزارن جي مدد سان جاميٽري جي شڪلين جي ماپ ڪري سگهون ٿا ۽ جاميٽريءَ جون شڪليون پڻ ٺاهيون ٿا.

جاميٽري باڪس جي اوزارن جي ڄاڻ مثلاً

پينسل، اسڪيل، پلڪار، ونڊڻي پلڪار، سيٽ اسڪوائرز ۽ ڪنڊ ماپ

هڪ جاميٽري باڪس ۾ هيٺيان اوزار ٿين ٿا.

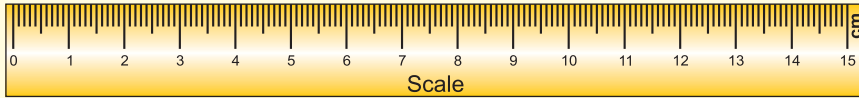
## (1) پينسل ۽ ربڙ



پينسل شڪلين ٺاهڻ ۾ استعمال ٿئي ٿي، جهڙوڪ ليڪون، قوس، ڪنڊون وغيره. جڏهن ته ربڙ کي تصوير جي درستي يا تصوير جي ڪنهن حصي کي ختم ڪرڻ لاءِ استعمال ڪيون ٿا.

## (2) اسڪيل

اسڪيل جي مدد سان ليڪ ٽڪر جي ڊيگهه ماپيون ٿا. اسڪيل جي مدد سان گهربل ماپ جا ليڪ ٽڪر پڻ بڻايون ٿا.

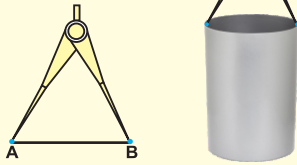


## (3) پلڪار



پلڪار جي مدد سان قوس ۽ گول ٺاهيون ٿا. مختلف فاصلن جا نشان پڻ پلڪار سان لڳايون ٿا.

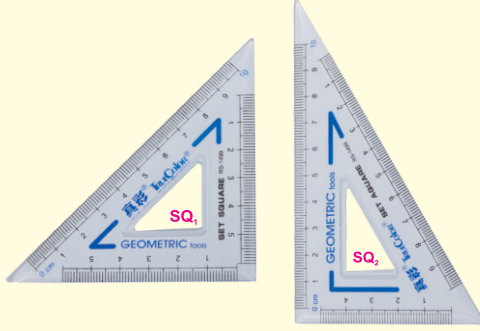
## (4) ونڊڻي پلڪار



ونڊڻي پلڪار جي مدد سان ليڪ ٽڪر جي ماپ ڪيون ٿا. ان سان کليل منهن واري سلينڊر جو قطر پڻ ماپيون ٿا.

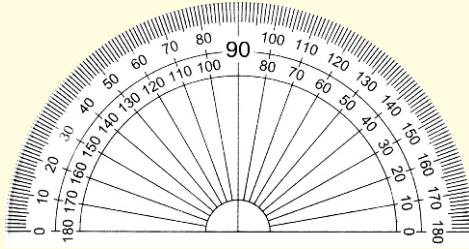
استاد شاگردن کي جاميٽري باڪس ۽ ان جا اوزار ڪلاس ۾ ڏيکاري.

استاد لاءِ هدايت:



(5) سيٽ اسڪوائرز

سيٽ اسڪوائرز جي استعمال سان پوروچوٽ ليڪون ٺاهيون ٿا، يا ڪنهن مليل ليڪ تي عمود پڻ ٺاهيون ٿا. ان جي مدد سان  $30^\circ$ ,  $45^\circ$ ,  $60^\circ$  ۽  $90^\circ$  جون ڪنڊون ٺاهي سگهجن ٿيون.



(6) ڪنڊ ماپ

ڪنڊ ماپ سان ڪنڊون ماپيون ٿا. ڪنڊ ماپ جي مدد سان  $0^\circ$  ۽  $180^\circ$  جي وچ ۾ گهربل ماپ جون ڪنڊون پڻ ٺاهيون ٿا.

H ۽ HB گريڊ جي پينسلن استعمال جي جاڻ

(ii) HB گريڊ جي پينسل HB معنيٰ ڪارنهن واري



HB گريڊ واري پينسل

ليڪ ٿلهي ٿئي ٿي. هن پينسل جو گورو گهاتو ڪارونشان ڏئي ٿو.

(i) H گريڊ جي پينسل H معنيٰ سختي واري

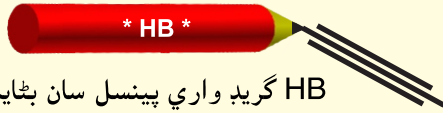


H گريڊ واري پينسل

ليڪ، گهڻي سنهي ٿئي ٿي. هن پينسل جو گورو ڪاري رنگ جو هلڪو نشان ڏئي ٿو.

H ۽ HB گريڊ جي پينسلن سان مختلف ليڪون ٺاهڻ ۽ انهن جو مشاهدو ڪرڻ

هيٺ ڏنل پينسلون ڏسو.



HB گريڊ واري پينسل سان بڻايل ليڪون ٿلهيون ٿين ٿيون.



H گريڊ واري پينسل سان بڻايل ليڪون تمام گهڻيون سنهيون ٿين ٿيون.

H ۽ HB گريڊ وارين پينسلن سان هيٺيون شڪليون پنهنجي ڪاپي ۾ ٺاهيو.

عملي ڪر 1



(i) ليڪ ٽڪر (ii) چورس (iii) گول

پنهنجي ڪاپي ۾ ٽپڪو A وٺو. ٽپڪي A مان  $\overline{AB}$  اسڪيل جي مدد سان ٺاهيو. ٽپڪي A مان هڪ ٻئي  $\overline{AC}$  ٺاهيو. ٻڌايو ته هڪ ٽپڪي مان ڪيتريون ليڪون ڪڍي سگهون ٿا؟

عملي ڪر 2




هڪ ونڊڻي پلڪار کڻو. ان سان پنهنجي ڪاپي ۾ ٻه نشان A ۽ B ڏيو. ٽپڪن A ۽ B کي ملائڻ واريون ليڪون ٺاهيو جيڪي ٻنهي ٽپڪن مان گذرن.

عملي ڪر 3



### 6.2 ليڪ

اڳين ڪلاس ۾ اسان پڙهي آيا آهيون ته ليڪ بيشمار ۽ لاتعداد ٽپڪن جو سيٽ آهي ۽ ان جي ڪا به پڇڙي نه آهي.



اها هڪ ليڪ آهي جيڪا لاتعداد ٽپڪا ڏيکاري ٿي.

ليڪ جي ڊيگهه کي اسڪيل ۽ ونڊڻي پلڪار جي مدد سان سينٽي ميٽرن ۽ ملي ميٽرن ۾ ماپڻ


اسڪيل جي مدد سان ليڪ ٽڪر پنهنجي ڪاپي ۾ ٺاهيو.

عملي ڪر 1



ڏاکو 1: ڪي ٻه ٽپڪا A ۽ B وٺو.

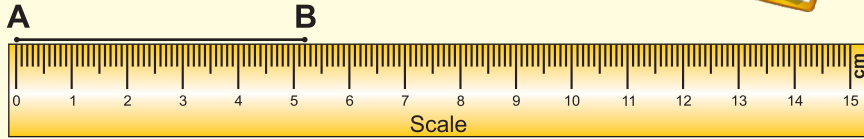
ڏاکو 2: اسڪيل ۽ پينسل جي مدد سان ٽپڪي A ۽ B کي ملائي، ليڪ ٽڪر AB ٺاهيو.



ڏاکو 3: ان ريت اسان کي هڪ ليڪ ٽڪر ملندو، جنهن کي ٻه پڇڙين وارا ٽپڪا آهن.

ملي لڪ ٽڪر جي ڊيگهه جي ماپ اسڪيل سان ڪريو.

عملي ڪم 2



ڏاکو 1: ملي لڪ ٽڪر AB تي اسڪيل اهڙي طرح رکو، جيئن ٽڪر A اسڪيل جي ٻڙيءَ (0) سان سامهون رهي.

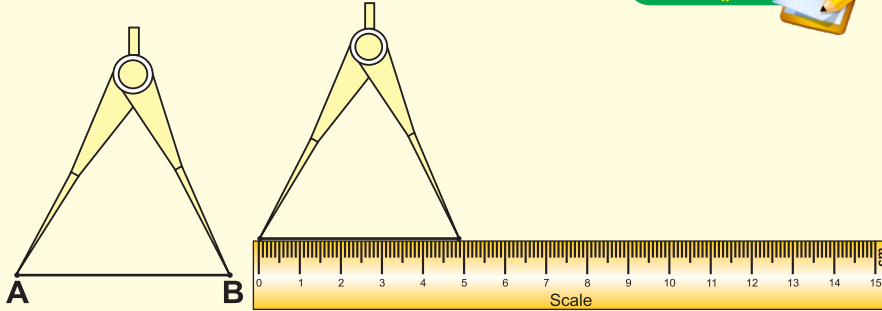
ڏاکو 2: اسڪيل تي ٽڪر B جي سامهون وارو نشان پڙهو.

ڏاکو 3: اهو نشان اسان کي لڪ ٽڪر AB جي ڊيگهه ٻڌائي ٿو.

ان ريت لڪ ٽڪر AB جي ڊيگهه 5 سينٽي ميٽر ۽ 2 ملي ميٽر آهي يا 5.2 سينٽي ميٽر آهي. علامت ۾ لکنداسين  $m \overline{AB} = 5.2 \text{ cm}$

ملي لڪ ٽڪر جي ڊيگهه ونڊڻي پلڪار سان ماپيو.

عملي ڪم 3



ڏاکو 1: ونڊڻي پلڪار کوليو، لڪ ٽڪر AB جي هڪ چيڙي واري ٽڪر A تي پلڪار جي هڪ ٻانهن رکو ۽ ٻي ٻانهن ٽڪر B تي رکو.

ڏاکو 2: ونڊڻي پلڪار جي ٻنهي ٻانهن کي بنا گهٽ وڌ ڪرڻ جي اسڪيل تي رکو، جيئن هڪ ٻانهن اسڪيل جي ٻڙيءَ (0) تي بيهي.

ڏاکو 3: اهڙي طرح ونڊڻي پلڪار جي ٻي ٻانهن، اسڪيل جي جنهن ٽڪر تي بيهي، ان نشان کي پڙهو.

ڏاکو 4: ان ريت اسان کي لڪ ٽڪر  $\overline{AB}$  جي ڊيگهه معلوم ٿيندي ته اها 4.9 سينٽي ميٽر آهي. يعني  $m \overline{AB} = 4.9 \text{ cm}$

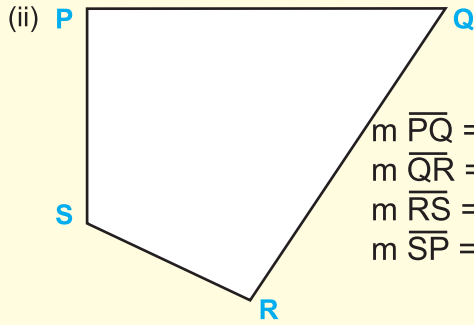
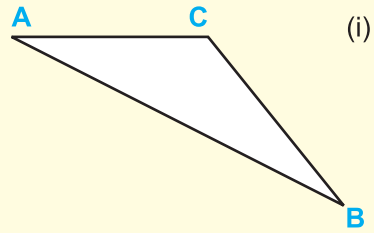
استاد کي گهرجي ته مختلف عملي ڪم شاگردن کان لڪ ٽڪر جي ڊيگهه ماپڻ سيکاري ڪري، انهن جي ڪاپيءَ تي مشق ڪرائي.

استاد لاءِ هدايت:

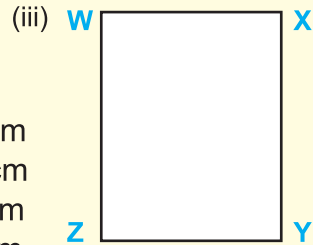
مشق 6.1

1. هيٺ ڏنل تصويرن جي پاسن جي ڊيگهه اسڪيل سان ماپيو ۽ لکو.

$$\begin{aligned} m \overline{AC} &= \underline{\hspace{2cm}} \text{ cm} \\ m \overline{AB} &= \underline{\hspace{2cm}} \text{ cm} \\ m \overline{CB} &= \underline{\hspace{2cm}} \text{ cm} \\ m \overline{BC} &= \underline{\hspace{2cm}} \text{ cm} \end{aligned}$$



$$\begin{aligned} m \overline{PQ} &= \underline{\hspace{2cm}} \text{ cm} \\ m \overline{QR} &= \underline{\hspace{2cm}} \text{ cm} \\ m \overline{RS} &= \underline{\hspace{2cm}} \text{ cm} \\ m \overline{SP} &= \underline{\hspace{2cm}} \text{ cm} \end{aligned}$$



$$\begin{aligned} m \overline{WX} &= \underline{\hspace{2cm}} = m \overline{YZ} = \underline{\hspace{2cm}} \\ m \overline{XY} &= \underline{\hspace{2cm}} = m \overline{ZW} = \underline{\hspace{2cm}} \end{aligned}$$

2. هيٺ ڏنل ٽيڪن جي جوڙن کي ملائي ليڪ ٽڪر ٺاهيو. تنهن کان پوءِ ٺهندڙ هر هڪ ليڪ ٽڪر جي ڊيگهه، اسڪيل سان ماپيو ۽ لکو. ان جي تصديق ونڊڻي پلڪار جي ذريعي ماپ وٺي ڪريو.

(i)	P	.....	Q
	<div style="border: 1px solid black; padding: 5px; text-align: center;"> <math>\overline{PQ}</math> جي ڊيگهه 8.5 سينٽي ميٽر آهي.                 </div>		
(ii)	S	.....	T
	<div style="border: 1px solid black; padding: 5px; text-align: center;"> <math>\overline{ST}</math> جي ڊيگهه _____ سينٽي ميٽر آهي.                 </div>		
(iii)	F	.....	G
	<div style="border: 1px solid black; padding: 5px; text-align: center;"> <math>\overline{FG}</math> جي ڊيگهه _____ سينٽي ميٽر آهي.                 </div>		
(iv)	Y	.....	Z
	<div style="border: 1px solid black; padding: 5px; text-align: center;"> <math>\overline{YZ}</math> جي ڊيگهه _____ سينٽي ميٽر آهي.                 </div>		
(v)	M	.....	N
	<div style="border: 1px solid black; padding: 5px; text-align: center;"> <math>\overline{MN}</math> جي ڊيگهه _____ سينٽي ميٽر آهي.                 </div>		

مليل ڊيگهه جي هڪ سڌي ليڪ اسڪيل ۽ ونڊڻي پلڪار جي مدد سان بڻائڻ

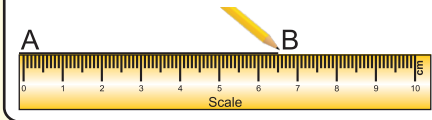
اڇو ته 6.5 سينٽي ميٽر ڊگهو ليڪ تڪر اسڪيل جي مدد سان بڻايون.

عملي ڪم 1



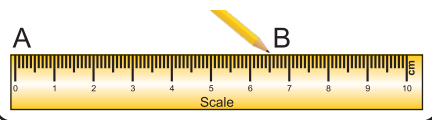
ڏاڪو 2:

(i) اسڪيل جي مدد سان ٽيڪن A ۽ B کي ملايو.



ڏاڪو 1:

(i) هڪ ٽيڪو A وٺو.  
(ii) اسڪيل جو 0 (زيرو) ٽيڪي A تي آڻيو.  
(iii) اسڪيل سان 6.5 سينٽي ميٽر مفاصلي تي نشان B لڳايو.



ان ريت هڪ سڌو ليڪ تڪر ٺهي پوي ٿو، جنهن جي ڊيگهه 6.5 سينٽي ميٽر آهي.

هڪ سڌو ليڪ تڪر 8.5 سينٽي ميٽر ڊگهو، ونڊڻي پلڪار جي مدد سان ٺاهيو.

عملي ڪم 2



ڏاڪو 1: پنهنجي ڪاپيءَ جي هڪ ڀيڻ تي ٽيڪو A وٺو.

ڏاڪو 2: ونڊڻي پلڪار جي هڪ ٻانهن اسڪيل جي 0 (زيرو) نشان تي رکو.

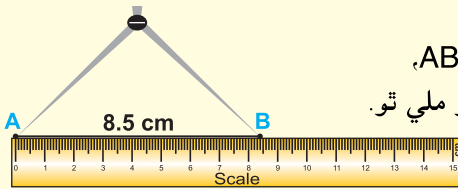
ڏاڪو 3: هاڻي ونڊڻي پلڪار کي کوليو، جيئن ان جي ٻي ٻانهن اسڪيل جي 8.5 سينٽي ميٽر نشان تي بيهي.

ڏاڪو 4: ونڊڻي پلڪار جي هڪ ٻانهن ڀيڻ جي ٽيڪي A تي رکو ۽ ٻي ٻانهن سان بڻايل ٽيڪي کي B نالو ڏيو.

ڏاڪو 5: ٽيڪن A ۽ B کي ملايو.

ڏاڪو 6: ان ريت اسان کي هڪ ليڪ تڪر AB،

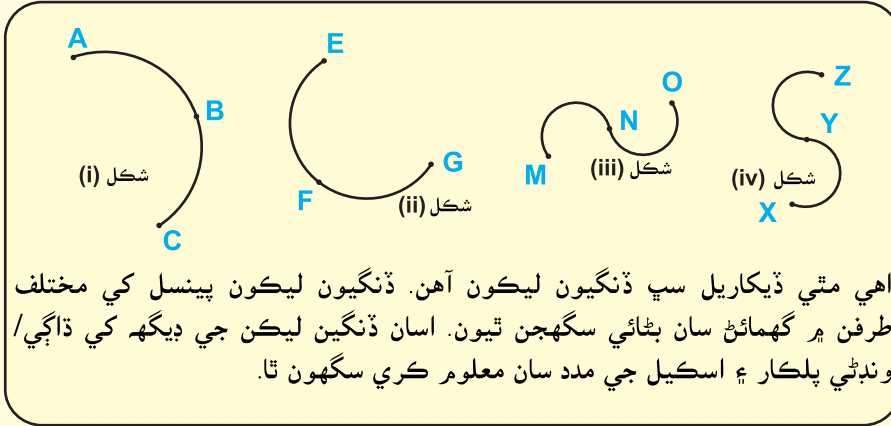
گهريل ڊيگهه 8.5 سينٽي ميٽر جو ملي ٿو.



استاد کي گهرجي ته شاگردن کان مختلف ڊيگهه جا ليڪ تڪر سندن ڪاپيءَ ۾ ٺهرائي.

استاد لاءِ هدايت:

ڏنگي ليڪ ڪيڏ ۽ ان جي ڊيگهه ڏاڳي/ونڊڻي پلڪار ۽ اسڪيل جي مدد سان ماپڻ



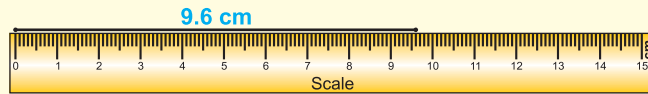
اهي مٿي ڏيکاريل سڀ ڏنگيون ليڪون آهن. ڏنگيون ليڪون پينسل کي مختلف طرفن ۾ گهمائڻ سان بڻائي سگهجن ٿيون. اسان ڏنگين ليڪن جي ڊيگهه کي ڏاڳي/ونڊڻي پلڪار ۽ اسڪيل جي مدد سان معلوم ڪري سگهون ٿا.

شڪل (i) ۾ ڏيکاريل ڏنگي ليڪ جي ڊيگهه کي ڏاڳي ۽ اسڪيل جي مدد سان ماپيو.

عملي ڪر 1



- ڏاڪو 1: ڏاڳي جو ٽڪر ڪڍو.
- ڏاڪو 2: ڏاڳي جي هڪ پچڙي ٽپڪي A تي رکو.
- ڏاڪو 3: ڏاڳي کي ڏنگي ليڪ جي مٿان رکي، ٽپڪي A کان B ۽ پوءِ ٽپڪي B کان C واري طرف ۾ ڦهلايو.
- ڏاڪو 4: اهڙي طرح ڏاڳي تي نشان لڳايو يا ان ڏاڳي ٽڪر کي ڦيرائي سان ڪٽيو.



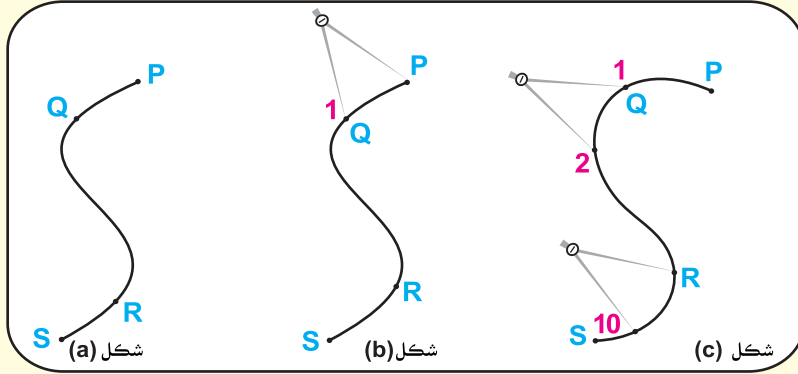
- ڏاڪو 5: هاڻي ڏاڳي جي ٽڪر کي اسڪيل جي مدد سان ماپيو. اها ماپ 9 سينٽي ميٽر ۽ 6 ملي ميٽر يعني 9.6 سينٽي ميٽر آهي.
- ڏاڪو 6: ان ريت مليل ڏنگي ليڪ ABC جي ڊيگهه 9.6 سينٽي ميٽر آهي.

استاد شاگردن کان مٿيون شڪل واريون ڏنگيون ليڪون، انهن جي ڪاپين ۾ ٺهرائي ۽ انهن ڏنگين ليڪن جي ڊيگهه ڏاڳي ۽ اسڪيل جي مدد سان ماپ ڪرڻ ۾ مدد ڪري.

استاد لاءِ هدايت:

هيٺ ڏيکاريل شڪل (A) ۾ ڏنگي ليڪ PQRS جي ڊيگهه اسڪيل ۽ ونڊڻي پلڪار سان معلوم ڪريو.

عملي ڪر 2



- ڏاڪو 1:** ونڊڻي پلڪار جي بانهن کي 1 سينٽي ميٽر ماپ جيترو ڪوليو.
- ڏاڪو 2:** ونڊڻي پلڪار جي هڪ بانهن تي ڪي P تي اهڙي طرح رکو، جيئن ونڊڻي پلڪار جي ٻي بانهن عدد 1 تي پهچي (ڏسو شڪل B).
- ڏاڪو 3:** ونڊڻي پلڪار کي ٽيڪي 1 تي مضبوط جهلي گهمايو ته جيئن ونڊڻي پلڪار جي ٻي بانهن عدد 2 تي پهچي (ڏسو شڪل C).
- ڏاڪو 4:** مٿي ٻڌايل طريقو وار وار ڏهرائيندا رهو، جيستائين عدد 10 تي پهچو (ڏسو شڪل C).
- ڏاڪو 5:** جيئن ته مليل ڏنگي ليڪ جو رهيل حصو مڪمل يونٽ نه آهي، تنهنڪري ونڊڻي پلڪار جي هڪ بانهن کي ٽيڪي S تي رکي، ٻي بانهن کي ايترو ڪوليو جو ٻي بانهن عدد 10 تي بيهي. هاڻي ونڊڻي پلڪار اتان ڪڍي، اسڪيل تي اهڙي طرح رکو جيئن هڪ بانهن اسڪيل جي زيرو تي رهي ۽ ٻي بانهن اسڪيل جي جنهن نشان تي اچي، ان کي پڙهو. سمجهو ته اهو نشان 5 ملي ميٽر کي ڏيکاري ٿو. تنهنڪري مليل ڏنگي ليڪ PQRS جي ڊيگهه 10.5 سينٽي ميٽر آهي.

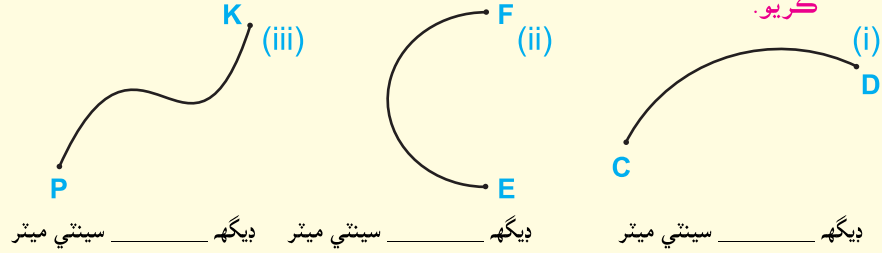
### مشق 6.2

1. هيٺ ڏنل ماپ جا ليڪ تڪر ٺاهيو:

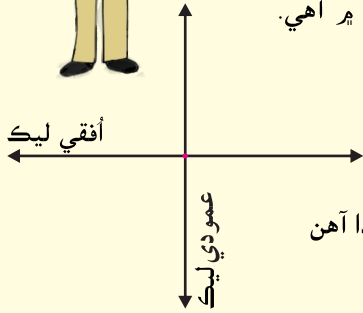

(الف) اسڪيل جي مدد سان (ب) اسڪيل ۽ ونڊڻي پلڪار جي مدد سان.

- (i)  $m\overline{AB} = 7.4 \text{ cm}$  (ii)  $m\overline{BC} = 6.6 \text{ cm}$  (iii)  $m\overline{CD} = 5.7 \text{ cm}$   
 (iv)  $m\overline{DE} = 3.8 \text{ cm}$  (v)  $m\overline{EF} = 4.9 \text{ cm}$  (vi)  $m\overline{PQ} = 6.0 \text{ cm}$

2. هيٺ ڏنل ڏنگين ليڪن جي ڊيگهه ونڊڻي پلڪار ۽ اسڪيل جي مدد سان معلوم ڪريو.



### أفقي ۽ عمودي ليڪون سڃاڻڻ



سامهون شڪل ۾ چوڪري کي ڏسو، جيڪو ٻاهون پڪيڙي سڌيون ڪري بيٺو آهي. ان حالت ۾ ٻانهون هڪ ليڪ کي ظاهر ڪن ٿيون، جيڪا زمين أفقي حالت ۾ آهي. چوڪري جو جسم زمين ۽ ٻانهن سان عمودي حالت ۾ آهي. ان طرح اسان کي أفقي ليڪ  $\leftarrow$  ۽ عمودي ليڪ  $\updownarrow$  ملي ٿي. اهي ٻئي ليڪون هڪ ٻئي کي هڪ ٽڪي تي ڪپين ٿيون. نوٽ: أفقي ۽ عمودي ليڪن ۾ تيرن جا نشان هوندا آهن جيڪي انهن جي طرفن کي ظاهر ڪن ٿا.

### مشق 6.3

سامهون أفقي ۽ عمودي ليڪن ۾ ڏيکاريل طرفن اتر، ڏکڻ، اوڀر ۽ اولهه کي ڏيان ۾ رکي هيٺيان خال ڀريو.

- (1) أفقي ليڪ \_\_\_\_\_ طرف ڏيکاري ٿي.
- (2) عمودي ليڪ \_\_\_\_\_ طرف ڏيکاري ٿي.
- (3) اتر کان ڏکڻ طرف \_\_\_\_\_ ليڪ کي ظاهر ڪري ٿو.
- (4) اولهه کان اوڀر طرف \_\_\_\_\_ ليڪ کي ظاهر ڪري ٿو.

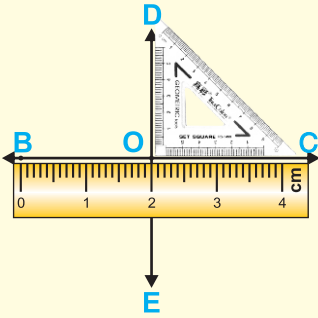
استاد کي گهرجي ته شاگردن کي أفقي ۽ عمودي ليڪون مثالن ذريعي سمجهائي. جيئن ڪرسيءَ جي پني، دريءَ ۾ لڳل شيشو، ميز جا پاسا، بليڪ بورڊ، ڪتاب جون ڪنڊون، گهڙيال جا پني ڪاٽا 6 بجي ۽ سوا نو وڳي عمودي ۽ أفقي ليڪن کي ظاهر ڪن ٿا.

استاد لاءِ هدايت:

سيٽ اسڪوائر جي استعمال سان مليل افقي ليڪ تي عمودي ليڪ ٺاهيو

**عملي ڪر** مليل افقي ليڪ BC تي هڪ عمودي ليڪ DE ٺاهيو.

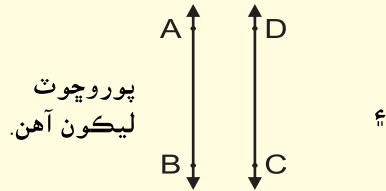
- ڏاڪو 1:** هڪ افقي ليڪ BC ٺاهيو.
- ڏاڪو 2:** اسڪيل کي سُمهيل حالت ۾ BC سان ملائي رکو.
- ڏاڪو 3:** اسڪيل جي مٿين پاسي سيٽ اسڪوائر رکو. هاڻي سيٽ اسڪوائر کي اسڪيل تي گهمايو، جيستائين چورس ڪنڊ ٽپڪي O سان اچي ملي، جتان عمودي ليڪ ٺاهڻي آهي.



- ڏاڪو 4:** DO ٺاهيو، جيئن تصوير ۾ ڏيکاريل آهي. ان کان پوءِ DO کي ٽپڪي E طرف وڌايو. ان طرح اسان کي عمودي ليڪ DE ملندي، جيڪا افقي ليڪ BC تي بيٺل آهي.

پوروچوٽ ليڪون ۽ اڻ پوروچوٽ ليڪون سڃاڻڻ


هيٺين شڪلين کي ڏسو.



پوروچوٽ  
ليڪون آهن.



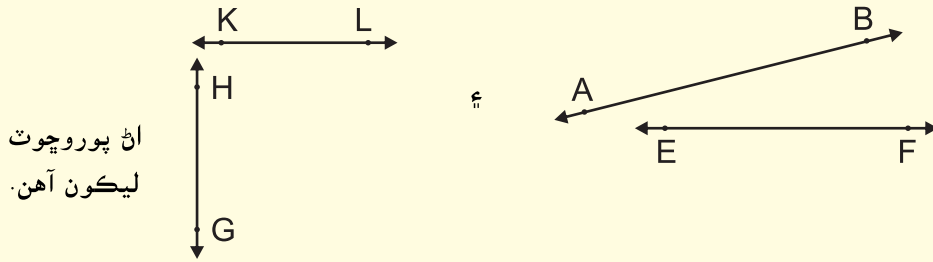
بليڪ بورڊ جا آمهون سامهون وارا پاسا:



استاد کي گهرجي ته شاگردن کي سيٽ اسڪوائر جي استعمال سان مليل عمودي ليڪ تي افقي ليڪ ٺاهڻ پڻ سيکاري.

استاد لاءِ هدايت:

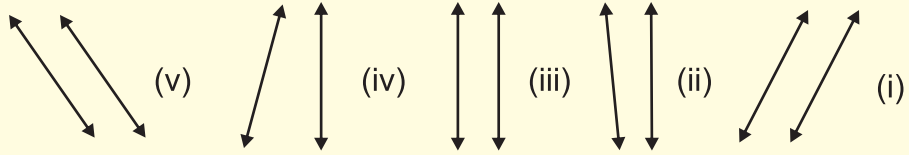
شڪل ۾  $\overleftrightarrow{AD}$  پوروچوٽ آهي  $\overleftrightarrow{BC}$  جي ۽  $\overleftrightarrow{AB}$  پوروچوٽ آهي  $\overleftrightarrow{DC}$  جي. ساڳي طرح ٻه ليڪون جيڪي ريل جي رستي کي ظاهر ڪن ٿيون، اُهي به پوروچوٽ ليڪون آهن. ان جي برعڪس، هيٺ ڏيکاريل ليڪن جا جوڙا اڻ پوروچوٽ ليڪون آهن، ڇاڪاڻ ته اهي پاڻ ۾ ملن ٿيون يا هڪ ٻئي کي ڪپين ٿيون، جڏهن انهن کي وڌايو وڃي ٿو.



ان ريت پوروچوٽ ليڪون، اهي ليڪون آهن، جيڪي پاڻ ۾ ڪڏهن به نه ٿيون ملن، ٻئي انهن کي ڪيترو به وڌايو وڃي.

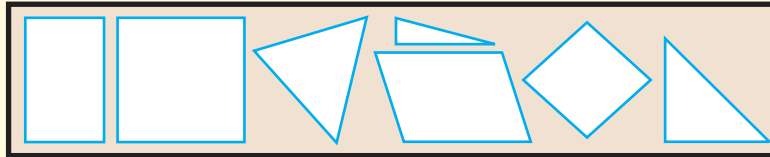
ملايل ليڪن جي سڃاڻپ مان، پوروچوٽ ليڪن جا جوڙا ۽ اڻ پوروچوٽ ليڪن جا جوڙا سڃاڻڻ

مثال: هيٺين مان پوروچوٽ ليڪن جا جوڙا ۽ اڻ پوروچوٽ ليڪن جا جوڙا سڃاڻي ڌار ڪريو.



هتي (i)، (iii) ۽ (v) اهي سڀ پوروچوٽ ليڪن جا جوڙا آهن. پر (ii) ۽ (iv) اهي اڻ پوروچوٽ ليڪن جا جوڙا آهن.

اهي شڪليون جنهن ۾ پوروچوٽ ليڪون آهن، انهن کي نشان (X) لڳايو. اهي شڪليون جنهن ۾ اڻ پوروچوٽ ليڪون آهن، انهن کي نشان (✓) لڳايو.



استاد کي گهرجي ته شاگردن کي پوروچوٽ ليڪون ۽ اڻ پوروچوٽ ليڪون سمجهائڻ لاءِ روزمره جي عام زندگي مان ڪجهه مثال ڏيئي، تصور کي پڪو ڪرائي.

استاد لاءِ هدايت:

عملي ڪم 2

هيٺين خانن ۾ ڪجهه اهڙا جوڙا لکو، جيڪي:

پوروچوٽ ليڪون آهن	اڻ پوروچوٽ ليڪون آهن
1. بليڪ بورڊ جا آمهون سامهون وارا پاسا	1. ٽڪنڊي جا پاسا
2.	2.
3.	3.
4.	4.
5.	5.

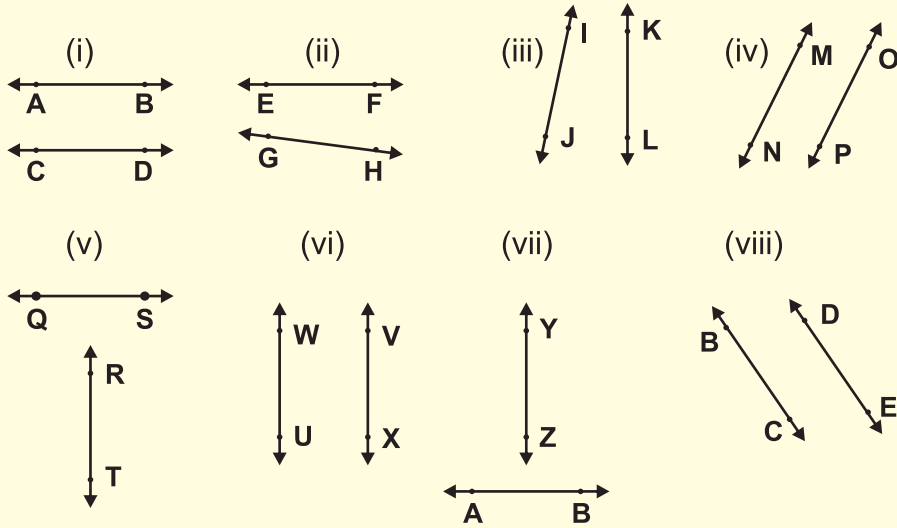
مشاهدا:

(1) پوروچوٽ ليڪن جا جوڙا پاڻ ۾ ڪڏهن به نه ٿا ملن، انهن کي ڪيترو به وڌايو چونه وڃي.

(2) اڻ پوروچوٽ ليڪن جا جوڙا پاڻ ۾ ضرور ملن ٿا ۽ هڪ ٻئي کي ڪپين ٿا.

مشق 6.4

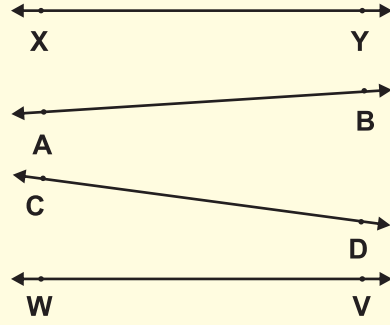
1. هيٺين مان پوروچوٽ ليڪن جا جوڙا ۽ اڻ پوروچوٽ ليڪن جا جوڙا سڃاڻو ۽ ڌار ڪري لکو.



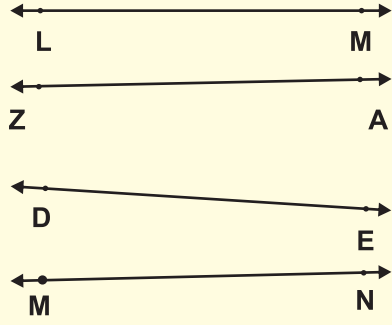
استاد شاگردن کي مٿي ڏنل مشاهدن جي تصديق ڪجهه ٻين مثالن سان سمجھائي ڪري انهن جي ڪاپين تي ڪرائي.

استاد لاءِ هدايت:

2. انهن ليڪن تي نشان (✓) لڳايو، جيڪي XY جي پوروچوٽ آهن.




3. انهن ليڪن تي نشان (x) لڳايو، جيڪي LM جي اڻ پوروچوٽ آهن.

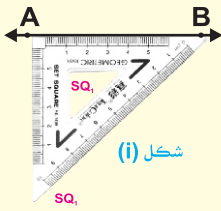


سيت اسڪوائر جي مدد سان ڏنل سڌي ليڪ سان پوروچوٽ ليڪ ٺاهڻ

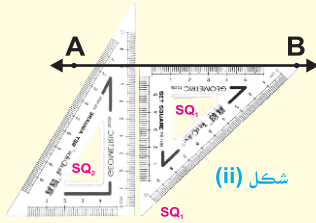
ملييل AB جي پوروچوٽ هڪ ليڪ (ليڪون) ٺاهيو.



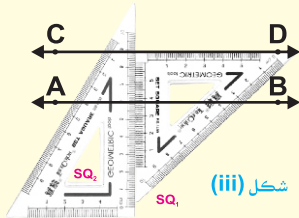
ڏاکو 1: ملييل AB ٺاهيو.



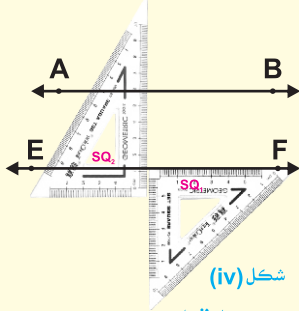
ڏاکو 2: هڪ سيت اسڪوائر (SQ1) کي ملييل AB تي اهڙي طرح رکو، جيئن شڪل (i) ۾ ڏيکاريل آهي.



ڏاکو 3: ٻئي سيت اسڪوائر (SQ2) کي، پهرين سيت اسڪوائر (SQ1) سان لڳولڳ اهڙي طرح رکو، جيئن شڪل (ii) ۾ ڏيکاريل آهي. هاڻي پهرين سيت اسڪوائر (SQ1)، سيت اسڪوائر (SQ2) تي هيٺ مٿي هلائي سگهجي ٿو.



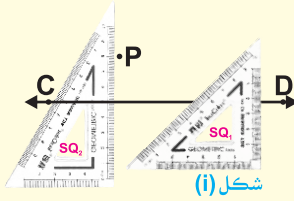
ڏاکو 4: سيت اسڪوائر (SQ2) کي مضبوط جهليو ۽ سيت اسڪوائر (SQ1) کي ٿورو مٿي هلائي، CD اهڙي طرح ٺاهيو، جيئن شڪل (iii) ۾ ڏيکاريل آهي. ان طرح AB پوروچوٽ آهي CD سان.



ڏاکو 5: سيٽ اسڪوائر (SQ<sub>2</sub>) کي مضبوط جهليندي، سيٽ اسڪوائر (SQ<sub>1</sub>) کي ٿورو هيٺ گهمايو ۽ EF اهڙي طرح ٺاهيو، جيئن شڪل (iv) ۾ ڏيکاريل آهي. ان طرح AB پوروچوٽ آهي EF سان.

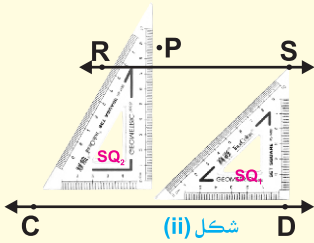
سيٽ اسڪوائر جي مدد سان هڪ ليڪ اهڙي طرح ٺاهيو، جيڪا ڏنل ٽپڪي مان گذري ۽ مليل ليڪ سان پوروچوٽ هجي

**عملي ڪم** هڪ ليڪ RS ٺاهيو، جيڪا مليل ليڪ CD سان پوروچوٽ هجي. ۽ ڏنل ٽپڪي P مان گذري.



ڏاکو 1: مليل ليڪ CD ٺاهيو ۽ هڪ ٽپڪو P مليل ليڪ کان ٻاهر وٺو ڏسو شڪل (i).

ڏاکو 2: ٻئي سيٽ اسڪوائر (SQ<sub>1</sub>) ۽ (SQ<sub>2</sub>) کڻو ۽ اهڙي طرح ٺاهي رکو جيئن اڳ ۾ سمجهيل آهي ڏسو شڪل (i).



ڏاکو 3: ٻئي نمبر سيٽ اسڪوائر (SQ<sub>2</sub>) کي مضبوط جهليو ۽ سيٽ اسڪوائر (SQ<sub>1</sub>) کي مٿين طرف هلايو، جيئن ٽپڪي P تي پهچي.

ڏاکو 4: هاڻي ليڪ RS اهڙي طرح ٺاهيو، جيئن ٽپڪي P مان گذري. ڏسو شڪل (ii)

ان طرح CD پوروچوٽ آهي RS جي جيڪا ٽپڪي P مان گذري رهي آهي.

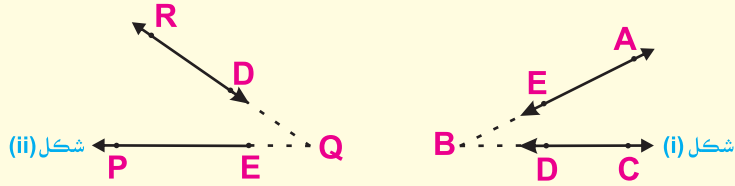
### مشق 6.5

1. سيٽ اسڪوائر جي مدد سان، مليل أفقي ليڪ XY تي هڪ عمودي ليڪ PQ ٺاهيو.
2. سيٽ اسڪوائر جي مدد سان مليل ليڪ PQ جي پوروچوٽ هڪ ليڪ YZ ٺاهيو.
3. سيٽ اسڪوائر جي مدد سان، هڪ ليڪ AB اهڙي طرح ٺاهيو جيڪا ڏنل ٽپڪي E مان گذري ۽ مليل ليڪ CD سان پوروچوٽ بڻجي.

6.3 ڪنڊ

ڪنڊ کي اڻ پورو چوٽ ليڪن ذريعي سڃاڻڻ

هيٺ ڏنل شڪل (i) ۾ اڻ پورو چوٽ ليڪن  $\overleftrightarrow{AE}$  ۽  $\overleftrightarrow{CD}$  ڏسو.



انهن ليڪن کي اهڙي طرح وڌايو وڃي ٿو، جيئن اُهي ٻئي ليڪن پاڻ ۾ هڪ ٽپڪي B تي ملي ڪري ڪنڊ ABC ٺاهين. ان طرح ٻن اڻپورو چوٽ ليڪن کي هڪ عام پُڇڙيءَ وارو ٽپڪو آهي. هتي عام پُڇڙيءَ وارو ٽپڪو B آهي.

هاڻي وري ٻن ٻين اڻ پورو چوٽ ليڪن  $\overleftrightarrow{PE}$  ۽  $\overleftrightarrow{RD}$  کي کڻون ٿا. ڏسو شڪل (ii). انهن ليڪن کي پڻ وڌايو وڃي ٿو، جيئن اُهي ٻئي ليڪن پاڻ ۾ هڪ ٽپڪي Q تي ملي ڪري ڪنڊ PQR ٺاهين.

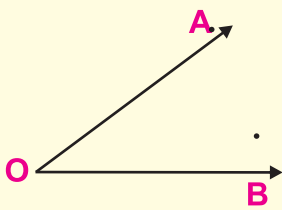
هتي ٽپڪو Q ليڪ  $\overleftrightarrow{RQ}$  ۽  $\overleftrightarrow{PQ}$  جو هڪ عام پُڇڙيءَ وارو ٽپڪو آهي.

ڪنڊ AOB، چوٽيءَ وارو ٽپڪو O ۽ پانھون (OA, OB)

سان ٺاهڻ ۽ ان مان اها ڄاڻ رکڻ ته علامت  $\angle AOB$ ، ڪنڊ AOB کي ظاهر ڪري ٿي.

هڪ ڪنڊ ٺاهيو.

عملي ڪم



ڏاکو 1: هڪ شعاع  $\overrightarrow{OB}$  ٺاهيو.

ڏاکو 2: هڪ ٻيو شعاع ٽپڪي O مان  $\overrightarrow{OA}$  اهڙي طرح

ٺاهيو، جيڪو  $\overrightarrow{OB}$  تي نه هجي. ان طرح ڪنڊ

AOB يا ڪنڊ BOA ٺهي ٿي، جيڪا سامهون

شڪل ۾ ڏيکاريل آهي.

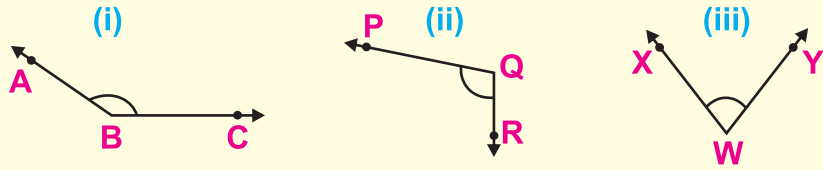
عام پُڇڙيءَ واري ٽپڪي O کي، ڪنڊ AOB جي چوٽي چئجي ٿو.

$\overrightarrow{OA}$  ۽  $\overrightarrow{OB}$  ڪنڊ AOB جون پانھون آهن. ڪنڊ جي علامت لاءِ  $\angle$  استعمال ڪيون ٿا.

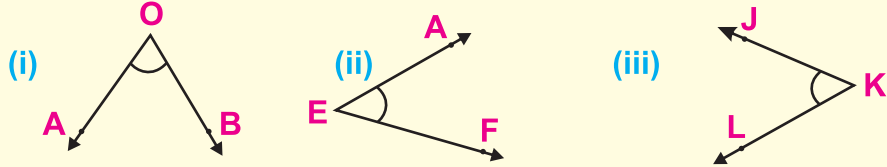
ان ڪري ڪنڊ AOB کي علامت ۾ لکبو  $\angle AOB$  يا  $\angle BOA$

مشق 6.6

1. هيٺ ڏنل هر هڪ ڪنڊ جي چوٽيءَ جو نالو ۽ ٻانهن جا نالا لکو.



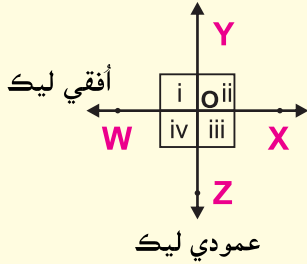
2. هيٺين ڪنڊن کي علامت ۾ لکو.



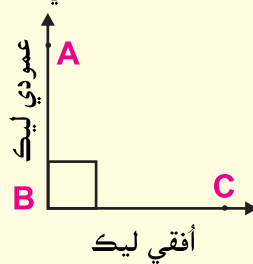
أفقي ۽ عمودي ليڪن ذريعي گوني ڪنڊ جي ڄاڻ

هيٺ ڏنل أفقي ۽ عمودي ليڪن جي جوڙن کي ڏسو.

جڏهن هڪ عمودي ۽ أفقي ليڪون پاڻ ۾ هڪ ٽپڪي تي ملن ٿيون ته اهي هڪ گوني ڪنڊ ٺاهن ٿيون. شڪل (i) ۾ ڪنڊ ABC هڪ گوني ڪنڊ آهي. جنهن کي علامت ۾  $\angle ABC$  لکنداسين.



شڪل (ii)



شڪل (i)

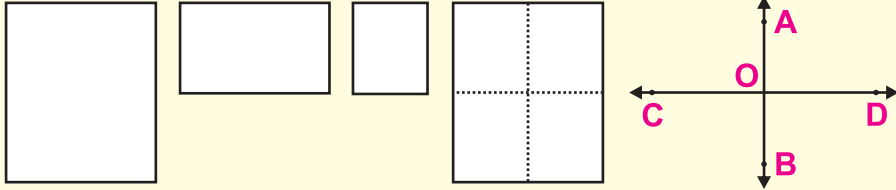
شڪل (ii) ۾ أفقي ۽ عمودي ليڪن جا جوڙا پاڻ ۾ هڪ ٽپڪي O تي ڪپين ٿا ۽ چار گونيون ڪنڊون ٺاهين ٿا.

ان ريت

- (i)  $\angle WOY$  هڪ گوني ڪنڊ آهي.
- (ii)  $\angle XOY$  هڪ گوني ڪنڊ آهي.
- (iii)  $\angle XOZ$  هڪ گوني ڪنڊ آهي.
- (iv)  $\angle ZOW$  هڪ گوني ڪنڊ آهي.

هڪ ڪاغذ جي پوري صفحي کي وڪوڙي ان مان چار گونيون ڪنڊون ٺاهڻ.

عملي ڪر 1



ڏاکو 1: ڪاغذ جو هڪ پورو صفحو کڻو. ان کي وڪوڙي ٻه اڌ بڻايو. ان کان پوءِ

وري ان کي وڪوڙي چار چوٽا بڻايو.

ڏاکو 2: ڪاغذ جي وڪوڙڻ سان بڻيل نشان يعني ڪريز تي ليڪون ٺاهيو.

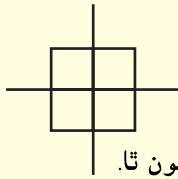
ڏاکو 3: أفقي ليڪ تي نالو CD لکو ۽ عمودي ليڪ تي نالو AB لکو. ٻئي ليڪون

هڪ ٻئي کي تڙڪي O تي ڪپين ٿيون.

ڏاکو 4: اهي چار گونيون ڪنڊون ٺاهين ٿيون.

ڏاکو 5: اسان انهن جا نالا علامتي طور لکون ٿا:

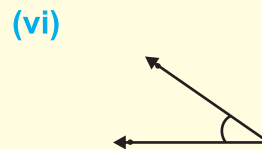
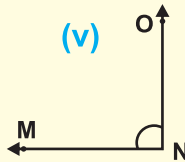
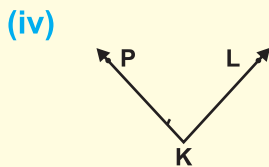
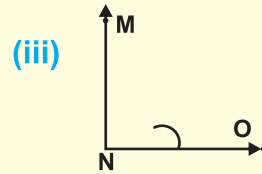
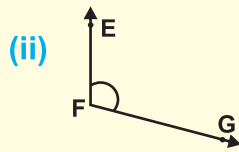
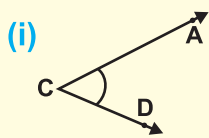
$\angle AOC$  ,  $\angle COB$  ,  $\angle BOD$  ,  $\angle DOA$



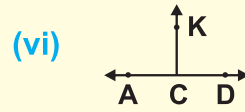
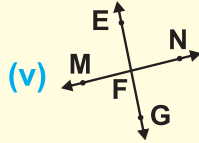
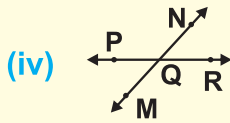
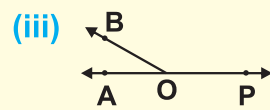
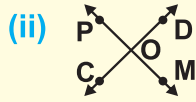
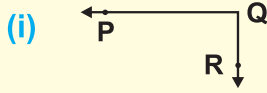
نوٽ: اسان هر هڪ گوني کي هڪ چورس، ڪنڊ جي چوٽيءَ تي ٺاهيون ٿا.

### مشق 6.7

1. هيٺين ڪنڊن کي ڏسو ۽ نشان (✓) انهن ڪنڊن کي لڳايو، جيڪي گونيون ڪنڊون آهن.



2. هيٺين مان ڪهڙين تصويرن ۾ گونيون ڪنڊون آهن؟



گوني ڪنڊ ذريعي سوڙهي ڪنڊ ۽ ويڪري ڪنڊ سمجھائڻ

عملي ڪر 1 هڪ گوني ڪنڊ ٺاهيو.



- ڏاکو 1: أفقي ليڪ  $\overrightarrow{AB}$  ٺاهيو.  
 ڏاکو 2: ٽپڪي A تي عمودي ليڪ  $\overrightarrow{AC}$  ٽپڪن واري ليڪ (dotted line) ٺاهيو.  
 ڏاکو 3: ان ريت  $\angle BAC$  هڪ گوني ڪنڊ آهي. ڏسو شڪل (i)

هڪ سوڙهي ڪنڊ ٺاهيو.

عملي ڪر 2



- ڏاکو 1: سڪيل ڪم مطابق پهريائين  $\angle BAC$  هڪ گوني ڪنڊ ٺاهيو، هاڻي ٽين ليڪ  $\overrightarrow{AD}$  اهڙي طرح ٺاهيو جيئن  $\overrightarrow{AB}$  ۽  $\overrightarrow{AC}$  جي وچ ۾ هجي، جيئن شڪل (ii) ۾ ڏيکاريل آهي.  
 ڏاکو 2: ان طرح اسان کي هڪ ٻي ڪنڊ BAD يا  $\angle BAD$  ملي ٿي.  
 ڏاکو 3:  $\angle BAD$  ننڍي ڪنڊ آهي  $\angle BAC$  کان، ڇاڪاڻ ته ڏنگو ( $\curvearrowright$ ) قوس جو نشان بيجهي وڃي ٿو ٻانهن AD تي ۽ اڳتي AC ڏانهن نه ٿو وڃي.  
 ڏاکو 4: ان طرح  $\angle BAD$ ، ننڍي آهي گوني ڪنڊ  $\angle BAC$  کان  
 ڏاکو 5: مطلب ته  $\angle BAD$  گهربل سوڙهي ڪنڊ آهي

اها ڪنڊ جنهن جي ماپ  $0^\circ$  ۽  $90^\circ$  جي وچ ۾ هجي ان کي سوڙهي ڪنڊ چئبو آهي.



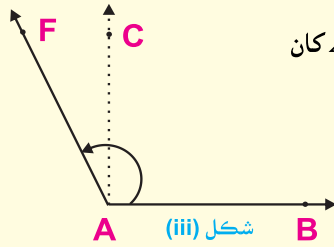
هڪ ويڪري ڪنڊ ٺاهيو. **عملي ڪريو 3**

**ڏاکو 1:** سڪيل ڪر مطابق پهريائين BAC هڪ گوني ڪنڊ ٺاهيو. هاڻي هڪ ليڪ AF گوني ڪنڊ BAC کان ٻاهر، اهڙي طرح ٺاهيو، جيئن اسان کي هڪ ٻي ڪنڊ BAF ملي ڏسو. **شڪل (iii).**

**ڏاکو 2:**  $\angle BAF$ ، وڏي آهي  $\angle BAC$  کان، ڇاڪاڻ ته ڏنگو ( $\uparrow$ ) بڻايل تير بانهن  $\overrightarrow{AC}$  کان ٽپي بانهن  $\overrightarrow{AF}$  تي پهچي ٿو.

**ڏاکو 3:** ان طرح چئبو ته  $\angle BAF$ ، وڏي آهي  $\angle BAC$  کان جيڪا گوني ڪنڊ آهي.

**ڏاکو 4:** مطلب ته  $\angle BAF$  گهربل ويڪري ڪنڊ آهي.

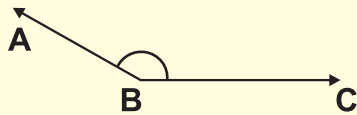


اها ڪنڊ جنهن جي ماپ  $90^\circ$  ۽  $180^\circ$  جي وچ ۾ هجي ان کي ويڪري ڪنڊ چئبو آهي.

### مشق 6.8

1. مٿي ڏيکاريل شڪل (i)، (ii) ۽ (iii) کي ڏسي هيٺيان جملا مڪمل ڪريو.

- (i)  $\angle BAC$  هڪ ڪنڊ آهي. (ii)  $\angle BAD$  هڪ ڪنڊ آهي.  
 (iii)  $\angle BAF$  هڪ ڪنڊ آهي. (iv)  $\angle DAB$  هڪ ڪنڊ آهي.  
 (v)  $\angle FAB$  هڪ ڪنڊ آهي. (vi)  $\angle CAB$  هڪ ڪنڊ آهي.



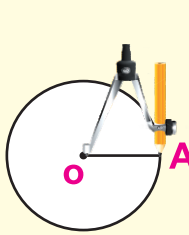
2. هيٺيون ڪنڊون ٺاهيو.

- (i)  $\angle ABC$  هڪ ويڪري ڪنڊ  
 (ii)  $\angle PQR$  هڪ سوڙهي ڪنڊ  
 (iii)  $\angle ABC$  هڪ گوني ڪنڊ  
 (iv)  $\angle DEF$  هڪ ويڪري ڪنڊ  
 (v)  $\angle WXY$  هڪ گوني ڪنڊ

سجائڻ ته ڪنڊ کي ماپڻ جو معياري ايڪو هڪ ڊگري ( $1^\circ$ ) آهي جيڪا هڪ مڪمل گول چڪر جو  $\frac{1}{360}$  حصو آهي

ڪنڊ کي ماپڻ جي معياري ايڪي جي وضاحت ڪريو.

عملي ڪر



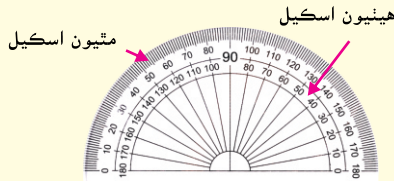
**ڏاکو 1:** ٽپڪي O کي مرڪز ۽  $\vec{OA}$  کي نيم قطر وٺي، پلڪار جي مدد سان هڪ مڪمل چڪر بڻايو ڏسو شڪل (i). پلڪار جي بڻايل ان چڪر کي گول چئجي ٿو.

**ڏاکو 2:** انهيءَ بڻايل گول کي 360 هڪ جيترو حصن ۾ ورهائيو. هر هڪ برابر حصي کي هڪ ڊگري چيو وڃي ٿو، جنهن کي نشاني طور ( $1^\circ$ ) لکجي ٿو.

**ڏاکو 3:** هڪ پوري چڪر ۾  $360^\circ$  ٽين ٿيون.

**ڏاکو 4:** اهڙي طرح هر هڪ ڊگري هڪ پوري چڪر جو  $\frac{1}{360}$  حصو آهي.

ڪنڊ ماپ جي استعمال سان ڪنڊن جو ماپڻ



ڪنڊ ماپ  $0^\circ$  کان  $180^\circ$  تائين ڪنڊن کي ماپڻ لاءِ استعمال ۾ ايندي آهي، ان ۾ ٻن قسمن جا اسڪيل ڏنل آهن. مٿين اسڪيل ۾ ڪنڊ جي ماپ کڻي کان سڄي طرف ماپبي آهي. هيٺين اسڪيل ۾ ڪنڊ جي ماپ سڄي کان کڻي طرف ماپبي آهي.

ملييل سوڙهي ڪنڊ  $\angle PQR$  کي ماپڻ.

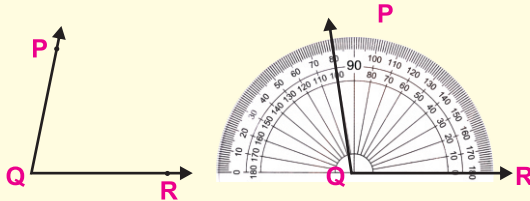
عملي ڪر 1



**ڏاکو 1:** ڪنڊ ماپ جو وچ ملييل سوڙهي ڪنڊ  $\angle PQR$  جي چوٽي Q ٽپڪي تي رکو.

**ڏاکو 2:** ڪنڊ ماپ جي تري واري ليڪ کي ملييل ڪنڊ جي بانهن  $\vec{QR}$  سان ٺهڪايو.

**ڏاکو 3:** ڪنڊ ماپ جي هيٺين عددي قطار ۾ 0 جي نشان کان ڊگريون ساڄي کان کاڀي پڙهڻ شروع ڪريو.



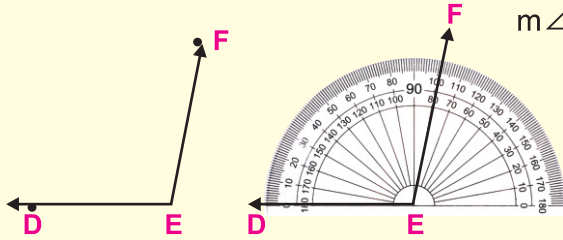
**ڏاکو 4:** ڊگريون پڙهڻ جو عمل ڪنڊ ماپ تي بانهن  $\vec{QP}$  جي نشان تائين جاري رکو.

**ڏاکو 5:** ان طرح  $m \angle PQR = 80^\circ$

عملي ڪم 2 مليل ويڪري ڪنڊ  $\angle DEF$  کي ماپڻ.

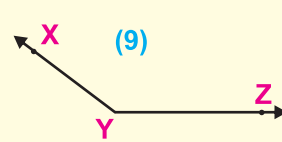
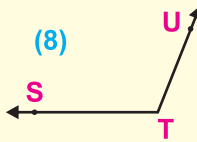
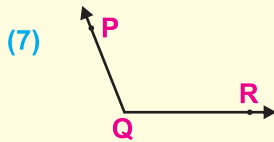
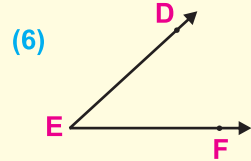
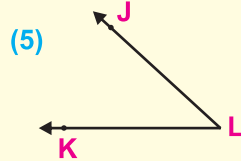
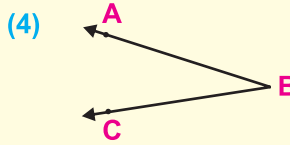
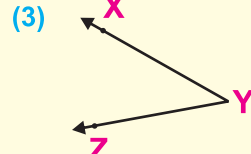
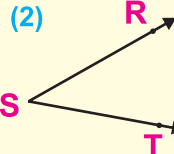
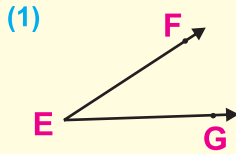


- ڏاکو 1: ڪنڊ ماپ جو وچ مليل ويڪري ڪنڊ  $\angle DEF$  جي چوٽي E تي رکي رکيو.  
 ڏاکو 2: ڪنڊ ماپ جي تري واري ليڪ کي مليل ويڪري ڪنڊ جي بانهن  $\overrightarrow{ED}$  سان ٺهڪايو.  
 ڏاکو 3: ڪنڊ ماپ جي مٿين عددي قطار ۾ 0 جي نشان کان ڊگريون ڪاٻي کان ساڄي پڙهڻ شروع ڪيو.  
 ڏاکو 4: ڊگريون پڙهڻ جو عمل ڪنڊ ماپ تي بانهن  $\overrightarrow{EF}$  جي نشان تائين جاري رکيو.



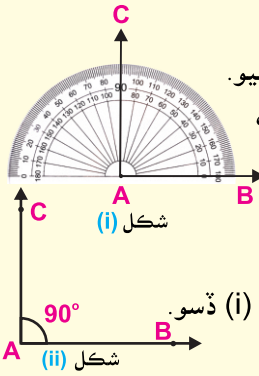
مشق 6.9

ڪنڊ ماپ جي استعمال سان هيٺين ڪنڊن جي ماپ لھو.



ڪنڊ ماپ جي استعمال سان گوني ڪنڊ ٺاهڻ.

هڪ ڪنڊ  $\angle BAC$ ،  $90^\circ$  جي ٺاهيو. **عملي ڪر**



ڏاڪو 1: ڪوبه ٽپڪو A وٺو. ٽپڪي A مان  $\overrightarrow{AB}$  افقي رخ ۾ ٺاهيو.

ڏاڪو 2: ڪنڊ ماپ کي  $\overrightarrow{AB}$  تي اهڙي طرح رکو، جيئن ڪنڊ ماپ

جي تري واري ليڪ جو اڌ يعني سينٽر پوائنٽ بلڪل

ٽپڪي A تي اچي.

ڏاڪو 3: ڪنڊ ماپ تي  $90^\circ$  وارو نشان ڏسو ۽ ان جي سامهون

هڪ ٽپڪو لڳايو ۽ ان کي نالو C ڏيو. سامهون شڪل (i) ڏسو.

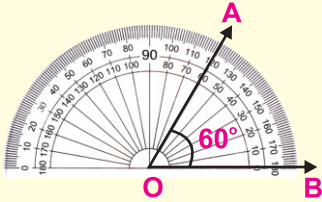
ڏاڪو 4: ٽپڪي C کي ٽپڪي A سان ملائي  $\overrightarrow{AC}$  ٺاهيو.

ڏاڪو 5: ان طرح اسان کي  $\angle BAC$  ملي ٿي جنهن جي ماپ  $90^\circ$  آهي ڏسو شڪل (ii).

ڏاڪو 6:  $\angle BAC$  گهربل ڪنڊ  $90^\circ$  جي ماپ جي آهي. ان کي گوني ڪنڊ چئبو آهي.

مختلف ماپ جون سوڙهيون ڪنڊون ۽ ويڪريون ڪنڊون، ڪنڊ ماپ جي مدد سان بڻايو.

هڪ سوڙهي ڪنڊ  $60^\circ$  جي ٺاهيو. **عملي ڪر 1**



ڏاڪو 1: ڪوبه ٽپڪو O وٺو ۽  $\overrightarrow{OB}$  ٺاهيو.

ڏاڪو 2: ڪنڊ ماپ جي تري واري ليڪ جو اڌ يعني سينٽر

پوائنٽ کي ٽپڪي O تي اهڙي طرح رکو جيئن ڪنڊ

ماپ جي تري واري ليڪ  $\overrightarrow{OB}$  جي بلڪل مٿان اچي.

ڏاڪو 3: ڪنڊ ماپ کي اهڙي طرح رکو، جيئن ٻڙيءَ جو نشان ساڄي پاسي  $\overrightarrow{OB}$  تي اچي.

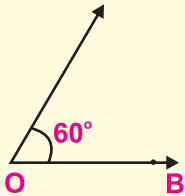
ڏاڪو 4: ضرورت مطابق  $\overrightarrow{OB}$  کي وڌايو.

ڏاڪو 5: ڪنڊ ماپ تي  $60^\circ$  جي نشان کي ڳوليو ۽ ان جي سامهون هڪ ٽپڪو لڳايو.

ڏاڪو 6: انهيءَ ٽپڪي کي نالو A ڏيو.

ڏاڪو 7:  $\overrightarrow{OA}$  ٺاهيو ۽ ضرورت مطابق وڌايو.

ڏاڪو 8:  $\angle AOB$  گهربل سوڙهي ڪنڊ آهي، جنهن جي ماپ  $60^\circ$  آهي.



هڪ ويڪري ڪنڊ  $130^\circ$  جي ٺاهيو.

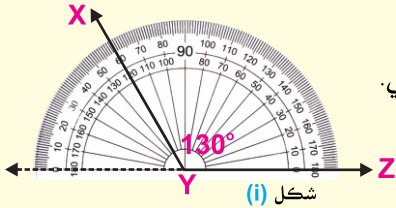
عملي ڪرو



ڏاڪو 1:  $\vec{YZ}$  ٺاهيو.

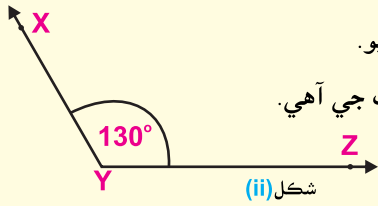
ڏاڪو 2: اسان کي  $130^\circ$  جي ڪنڊ، ٽپڪي Y تي ٺاهڻي آهي.

ڏاڪو 3: ڪنڊ ماپ جي تري واري ليڪ جو اڌ يعني سينٽر پوائنٽ ٽپڪي Y تي رکو.



ڏاڪو 4: ڪنڊ ماپ جي سڄي پاسي واري ٻڙيءَ جي نشان کي بلڪل  $\vec{YZ}$  تي رکو.

ڏاڪو 5: ڪنڊ ماپ تي  $130^\circ$  جو نشان ڏسو ۽ انجي سامهون ڪنڊ ماپ تي ٽپڪو لڳايو. ڏسو شڪل (i)

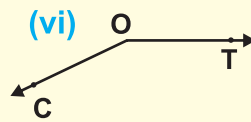
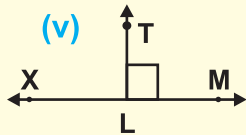
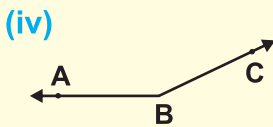
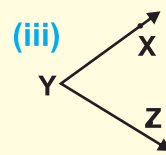
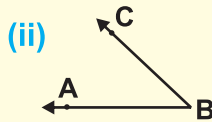
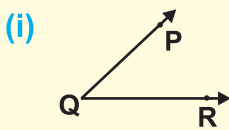


ڏاڪو 6: ٽپڪا X ۽ Y ملائي  $\vec{YX}$  ٺاهيو ۽ ٿورو وڌايو.

ان ريت  $\angle XYZ$  گهربل ويڪري ڪنڊ  $130^\circ$  جي ماپ جي آهي. ڏسو شڪل (ii)

### مشق 6.10

(1) هيٺ ڏنل هر هڪ ڪنڊ کي ڪنڊ ماپ سان ماپيو ۽ ٻڌايو ته اها ڪهڙي قسم جي ڪنڊ آهي.



(2) ڪنڊ ماپ جي مدد سان هيٺ ڏنل ماپ جون ڪنڊون ٺاهيو.

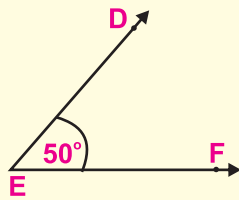
- |                 |                  |                    |                  |                |
|-----------------|------------------|--------------------|------------------|----------------|
| (i) $10^\circ$  | (ii) $40^\circ$  | (iii) $20^\circ$   | (iv) $60^\circ$  | (v) $30^\circ$ |
| (vi) $80^\circ$ | (vii) $90^\circ$ | (viii) $120^\circ$ | (ix) $145^\circ$ | (x) $45^\circ$ |

ڪنڊ ماپ جي مدد سان هڪ ڪنڊ ٺاهڻ

اسان اڳ ۾ سکي آيا آهيون ته ڪنڊ ماپ جي مدد سان، ڪنهن به ماپ جي ڪنڊ ڪيئن ٺاهجي. اسان اهو به سکيو آهي ته ڪنڊ ماپ جي مدد سان ڪنهن به مليل ڪنڊ جي ماپ، ڪيئن معلوم ڪجي.

(الف) هڪ ڪنڊ ٺاهيو جيڪا مليل ڪنڊ جيتري هجي.

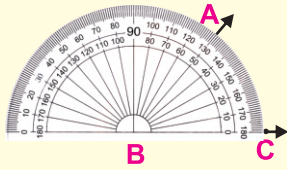
جوڙ جڪ جا ڏاڪا:



**ڏاڪو 1:** ڪنڊ ماپ جي مدد سان، مليل  $\angle DEF$  جي ماپ لھو. اھو معلوم ٿيو ته مليل  $\angle DEF$  جي ماپ  $m\angle DEF = 50^\circ$  آھي.

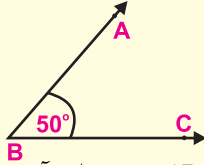
**ڏاڪو 2:** اسان کي بي هڪ ڪنڊ  $\angle ABC$  اهڙي طرح ٺاهڻي آهي جو  $m\angle ABC = m\angle DEF = 50^\circ$

**ڏاڪو 3:** ٽپڪي B کان  $\overrightarrow{BC}$  افقي رخ ۾ ٺاهيو.



**ڏاڪو 4:** ڪنڊ ماپ جي تري واري ليڪ جو اڌ يعني سينٽر پوائنٽ، ٽپڪي B تي رکو ۽ ساڄي طرف واري ٻُڙيءَ واري نشان کي  $\overrightarrow{BC}$  تي آڻيو. ان طرح  $\overrightarrow{BC}$  ۽ ڪنڊ ماپ جي تري واري ليڪ، هڪ ٻئي سان ٺهڪنديون.

**ڏاڪو 5:** هاڻي ڪنڊ ماپ جي هيٺين اسڪيل تي 0 کان پڙهڻ شروع ڪريو  $50^\circ$  تائين.



**ڏاڪو 6:** ڪنڊ ماپ تي  $50^\circ$  جي نشان جي سامهون هڪ ٽپڪو لڳائي، نالو A رکو.

**ڏاڪو 7:** ڪنڊ ماپ هٽايو ۽  $\overrightarrow{BA}$  ٺاهيو.

ان طرح  $\angle ABC$  ملندي جنهنجي ماپ  $50^\circ$  آهي ۽ مليل  $\angle DEF$  جي برابر آهي.

$$m\angle ABC = m\angle DEF = 50^\circ \text{ يعني}$$

(ب) هڪ ڪنڊ ٺاهيو جيڪا مليل ڪنڊ کان ماپ ۾ ٻيڻي هجي.

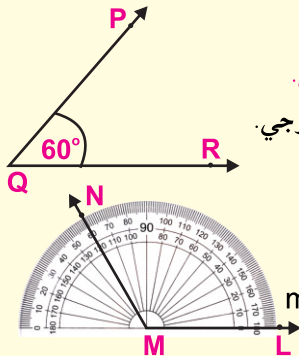
سڀ کان پهريائين اسان کي مليل  $\angle PQR$  جي ماپ ڪرڻ گهرجي.

فرض ڪيو ته مليل  $\angle PQR$  جي ماپ  $60^\circ$  آهي. يعني

$$m\angle PQR = 60^\circ \text{ تنهنڪري جيڪا}$$

ڪنڊ اسان کي ٺاهڻي آهي، ان جي ماپ ٿيندي:  $2 \times 60^\circ = 120^\circ$

يعني  $m\angle LMN$  (مليل ڪنڊ) =  $2\angle PQR$  (گهربل ڪنڊ) =  $120^\circ$



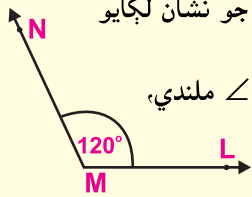
جوڙ جڪ جا ڏاڪا:

ڏاڪو 1: ٽپڪي M مان  $\vec{ML}$  آفقي رُخ ۾ ٺاهيو.

ڏاڪو 2: ڪنڊ ماپ جي وچين نشان کي، ٽپڪي M تي رکو. ڪنڊ ماپ جي تري واري ليڪ کي،  $\vec{ML}$  سان اهڙي طرح ملايو جو ٻئي هڪ ٻئي تي ٺهڪي اچن.

ڏاڪو 3: هاڻي ڪنڊ ماپ جي هيٺين اسڪيل تي ٻڙي (0) کان 120 تائين پڙهڻ شروع ڪريو.

ڏاڪو 4: ڪنڊ ماپ تي 120 جي نشان جي سامهون هڪ ٽپڪي جو نشان لڳايو ۽ نالو N رکو.



ڏاڪو 5: ڪنڊ ماپ هٽايو ۽ MN ٺاهيو. ان طرح اسان کي  $\angle LMN$  ملندي، جنهنجي ماپ مليل  $\angle PQR$  کان ٻيڻي آهي.

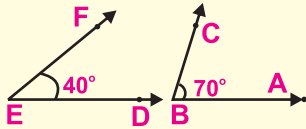
$$m\angle LMN = 2 \times (m \angle PQR) = 2 \times 60 = 120^\circ \text{ يعني}$$

(ج) هڪ ڪنڊ ٺاهيو جيڪا مليل ٻن ڪنڊن جي جوڙ جي برابر هجي.

سڀ کان پهريائين اسان کي مليل ٻنهي ڪنڊن

$\angle ABC$  ۽  $\angle DEF$  جي ڪنڊ ماپ جي ذريعي

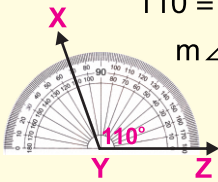
ماپ ڪرڻ گهرجي.



$$\text{فرض ڪيو } m\angle ABC = 70^\circ \text{ ۽ } m\angle DEF = 40^\circ$$

مليل ٻنهي ڪنڊن  $\angle ABC$  ۽  $\angle DEF$  جي ماپ جو جوڙ  $110^\circ = 40 + 70$

هاڻي اسان کي  $\angle XYZ$  اهڙي طرح ٺاهڻي آهي جو  $m\angle XYZ = 110^\circ$



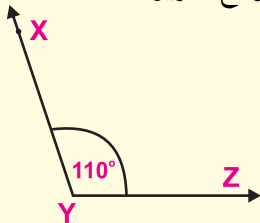
جوڙ جڪ جا ڏاڪا:

ڏاڪو 1: شروعاتي ٽپڪي Y مان آفقي رُخ ۾  $\vec{YZ}$  ٺاهيو.

ڏاڪو 2: ڪنڊ ماپ جي وچين نشان کي ٽپڪي Y تي رکو.

ڪنڊ ماپ جي تري واري ليڪ کي  $\vec{YZ}$  سان اهڙي طرح ملايو جو ٻئي هڪ ٻئي تي ٺهڪي اچن.

ڏاڪو 3: ڪنڊ ماپ جي هيٺين اسڪيل تي 0 جي نشان کان پڙهڻ شروع ڪريو، 110 جي نشان تائين



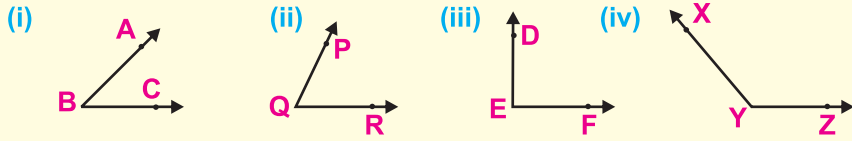
ڏاڪو 4: ڪنڊ ماپ تي 110 جي نشان جي سامهون هڪ ٽپڪي جو نشان لڳايو ۽ نالو X ڏيو.

ڏاڪو 5: ڪنڊ ماپ هٽايو، ٽپڪن X ۽ Y کي ملائي  $\vec{YX}$  ٺاهيو. ان طرح اسان کي  $\angle XYZ$  ملندي.

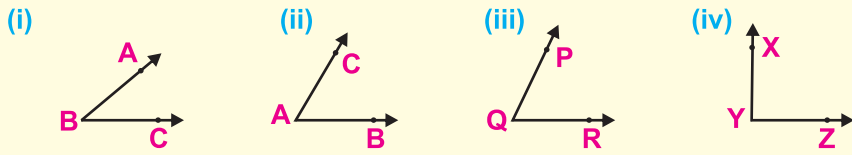
$$\text{يعني } m\angle XYZ = m\angle DEF + m\angle ABC = 110^\circ$$

مشق 6.11

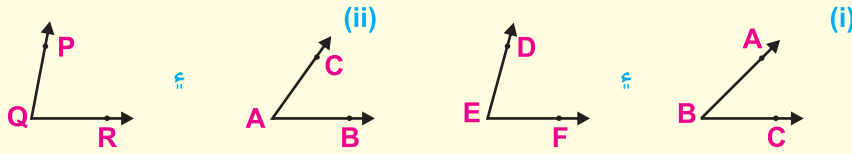
(1) ڪنڊ ماپ جي مدد سان هيٺ ڏنل هر هڪ ڪنڊ جيتري ڪنڊ ٺاهيو.



(2) ڪنڊ ماپ جي مدد سان هيٺ ڏنل هر هڪ ڪنڊ کان ٻيئي ماپ جي ڪنڊ ٺاهيو.



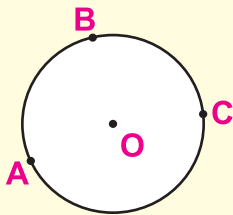
(3) ڪنڊ ماپ جي مدد سان هيٺ ڏنل ٻن ڪنڊن جي جوڙ آڀت جيتري ماپ جي هڪ ڪنڊ ٺاهيو.



6.4 گول

سامهون تصوير کي ڏسو. اها هڪ گول جي شڪل آهي. انهيءَ گول تي ٽي ٽپڪا A, B ۽ C آهن. انهيءَ گول جو مرڪز O آهي. ٽپڪا A, B ۽ C ٽپڪي O يعني مرڪز کان هڪ جيتري فاصلي تي آهن.

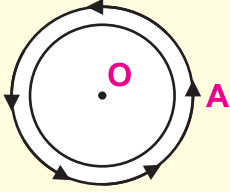
گول جي مرڪز، نيم قطر، قطر ۽ گهيري جي سڃاڻپ



(i) **مرڪز:** گول تي جيڪي به ٽپڪا آهن اهي گول جي هڪ مقرر ڪيل ٽپڪي کان هڪ جيتري فاصلي تي آهن. انهيءَ مقرر ڪيل ٽپڪي کي گول جو مرڪز چئجي ٿو.

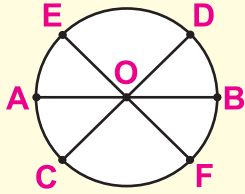
**مثال:** گول تي ڏيکاريل ٽپڪا A, B ۽ C گول جي مرڪز O کان هڪ جيتري فاصلي تي آهن.

(ii) گھيرو: گول جي چوڌاري ڏيکھه ڪي، گول جو گھيرو چئجي ٿو. يعني اهو مفاصلو جيڪو اسان گول جي چوڌاري هڪ ڦيرو پورو ڪرڻ ۾ ڪيون ٿا.



مثال: گول تي ٽپڪي A کان هلڻ شروع ڪجي ٿو ۽ چوڌاري ڦيرو پورو ڪري، وري ٽپڪي A تي اچي پهچجي ٿو. اهو فاصلو يا ڏيکھه گول جو گھيرو آهي.

(iii) قطر: اهو ليڪ ٽڪر جيڪو مرڪز مان گذري گول کي ٻن ٽپڪن تي ڇڏي، ان کي گول جو قطر چئجي ٿو.



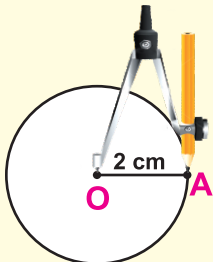
مثال: سامهون گول جي شڪل ۾  $\overline{AB}$ ,  $\overline{CD}$ ,  $\overline{EF}$  گول جا قطر آهن.

(iv) نيم قطر: گول جي قطر جي اڌ کي نيم قطر چئبو آهي.

$$\text{گول جو نيم قطر} = \frac{\text{گول جي قطر جي ڏيکھه}}{2}$$

ياد رکيو:

پلڪار ۽ اسڪيل جي مدد سان هڪ گول کڻو جنهن جو نيم قطر مليل آهي



شڪل (i)

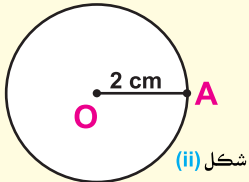
پلڪار جي مدد سان هڪ گول کڻو جنهن جو نيم قطر 2 سينٽي ميٽر آهي.



ڏاڪو 1: هڪ ليڪ ٽڪر  $\overline{OA}$ ، 2 سينٽي ميٽر ماپ جو، اسڪيل سان بڻايو.

ڏاڪو 2: O کي مرڪز مڃو، نيم قطر  $\overline{OA}$  وٺو ۽ پلڪار جي مدد سان هڪ پورو چڪر بڻايو، جيئن شڪل (i) ۾ ڏيکاريل آهي.

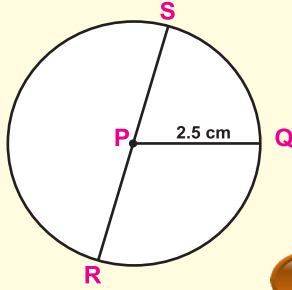
ڏاڪو 3: اهو گهربل گول آهي ڏسو شڪل (ii).



شڪل (ii)

پلڪار جي مدد سان هڪ گول ٺاهيو جنهنجي  
نيم قطر جي ماپ 2.5 سينٽي ميٽر آهي.

عملي ڪم 2



2.5 سينٽي ميٽر = نيم قطر =  $m\overline{PQ}$

2.5 سينٽي ميٽر =  $m\overline{PQ}$

نيم قطر جو ٻيڻو = قطر =  $m\overline{SR}$   
=  $2 \times 2.5 = 5.0$  سينٽي ميٽر

5 سينٽي ميٽر =  $mSR$

مشق 6.12

پلڪار ۽ اسڪيل سان هيٺ ڏنل نيم قطر جا گول ٺاهيو.

(3) 4.4 سينٽي ميٽر

(2) 4.1 سينٽي ميٽر

(1) 3.2 سينٽي ميٽر

(6) 4.8 سينٽي ميٽر

(5) 6 سينٽي ميٽر

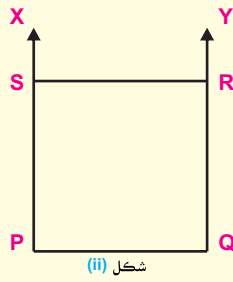
(4) 5.5 سينٽي ميٽر

6.5 چوڪنڊو

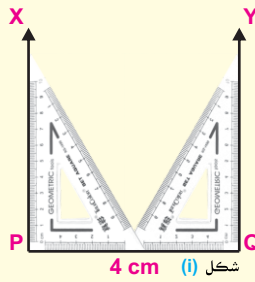
ڪنڊ ماپ، سيٽ اسڪوائر ۽ اسڪيل جي مدد سان چورس ۽ مستطيل ٺاهڻ جڏهن انهن جي پاسن جي ماپ مليل آهي

هڪ چورس سيٽ اسڪوائر ۽ اسڪيل جي استعمال سان ٺاهيو، جڏهن  
چورس جي هر هڪ پاسي جي ماپ 4 سينٽي ميٽر آهي.

عملي ڪم 1



شکل (ii)



شکل (i) 4 cm

جوڙ جڪ جا ڏاڪا:

ڏاڪو 1:  $\overline{PQ}$ , 4 سينٽي ميٽر ڊگهو ٺاهيو.

ڏاڪو 2: ٽپڪن P ۽ Q تي سيٽ اسڪوائر جي مدد سان گونيون ڪنڊون


$\angle QPX$  ۽  $\angle PQY$  ٺاهيو. ڏسو شکل (i)

ڏاڪو 3:  $\overline{PX}$  مان  $m\overline{PS} = 4\text{cm}$  ۽  $\overline{QY}$  مان  $m\overline{QR} = 4\text{cm}$  ٺاهيو. ٽپڪن R ۽ S

کي پاڻ ۾ ملايو. ان طرح اسان کي PQRS هڪ چورس ملندي. ڏسو شکل (ii).

ڪنڊ ماپ ۽ اسڪيل جي مدد سان هڪ مستطيل ٺاهيو، جنهن جا پاسا 6.2 سينٽي ميٽر ۽ 3.5 سينٽي ميٽر آهن.

عملي ڪر 2



ڏاڪو 1:  $\overline{AB}$ ، 6.2 سينٽي ميٽر ڊگهو ليڪ ٽڪر ٺاهيو.

ڏاڪو 2: ڪنڊ ماپ جي مدد سان، ٽيڪن A ۽ B مان گونيون ڪنڊون  $\angle BAF$  ۽  $\angle BAE$  ٺاهيو.

ڏاڪو 3: اسڪيل جي مدد سان،  $\overline{AE}$  مان  $\overline{AD} = 3.5$  سينٽي ميٽر ٺاهيو.  $\overline{BF}$  مان  $\overline{BC} = 3.5$  سينٽي ميٽر ٺاهيو.

ڏاڪو 4: ٽيڪا C ۽ D ملائي،  $\overline{CD}$  ٺاهيو. ان طرح ABCD هڪ گهربل مستطيل آهي.

### مشق 6.13

1. ڪنڊ ماپ يا سيٽ اسڪوائر جي مدد سان چورس ٺاهيو، جنهنجي پاسي جي ڊيگهه هيٺ ڏنل آهي.

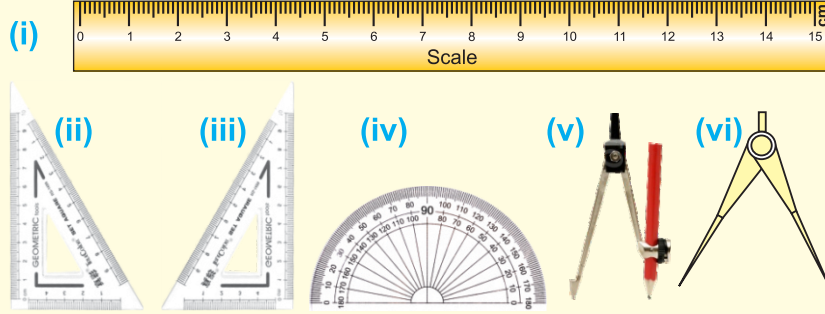
- (i) 6.5 سينٽي ميٽر (ii) 4.9 سينٽي ميٽر (iii) 5.8 سينٽي ميٽر (iv) 6.3 سينٽي ميٽر  
(v) 7.3 سينٽي ميٽر (vi) 4.1 سينٽي ميٽر (vii) 8.7 سينٽي ميٽر (viii) 8.5 سينٽي ميٽر

2. ڪنڊ ماپ يا سيٽ اسڪوائر جي مدد سان مستطيل ٺاهيو جنهن جي پاسن جي ماپ هيٺ ڏنل آهي.

- (i) 8 سينٽي ميٽر ۽ 7 سينٽي ميٽر (ii) 9.5 سينٽي ميٽر ۽ 4.7 سينٽي ميٽر  
(iii) 12.3 سينٽي ميٽر ۽ 5.2 سينٽي ميٽر (iv) 9.6 سينٽي ميٽر ۽ 3.7 سينٽي ميٽر  
(v) 6.1 سينٽي ميٽر ۽ 2.9 سينٽي ميٽر (vi) 2.9 سينٽي ميٽر ۽ 7.6 سينٽي ميٽر

جائزي واري مشق 6

1. هيٺين اوزارن جا نالا لکو.



2. جيڪڏهن توهان کي سنهو ليڪ ٽڪر ٺاهڻو هجي ته اوهان ڪهڙي گريڊ واري پينسل استعمال ڪندا؟

3. اسڪيل جي مدد سان هيٺين شين جي ماپ ملي ميٽرن ۾ ڪريو.

(i) پوسٽ ڪارڊ (ii) رياضيءَ جي ڪتاب جو جُلد (iii) جاميٽري باڪس

4. هيٺيان جوڙا ٺاهيو.

(a) پوروچوٽ ۽ اڻ پوروچوٽ ليڪون

(b) أفقي ۽ عمودي ليڪون

5. هڪ ڏنگي ليڪ ٺاهيو ۽ ان جي ڊيگهه ڏاڳي ۽ اسڪيل جي مدد سان ماپيو.

6. سيٽ اسڪوائر جي مدد سان، هڪ ليڪ اهڙي طرح ٺاهيو، جيڪا مليل ٽپڪي مان گذري ۽ ڏنل ليڪ سان پوروچوٽ هجي.

7. هيٺ ڏنل هر هڪ جُملي مطابق تصوير ٺاهيو.

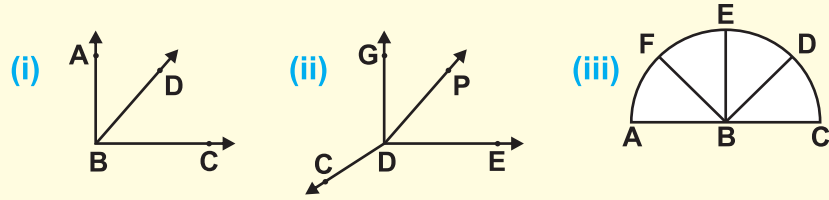
(i)  $\overleftrightarrow{PQ}$  ۽  $\overleftrightarrow{RS}$  ٻه پوروچوٽ ليڪون آهن.

(ii)  $\overleftrightarrow{PQ}$  ۽  $\overleftrightarrow{UV}$  هڪٻئي کي ٽپڪي A تي ڪپين ٿيون.

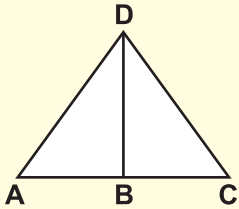
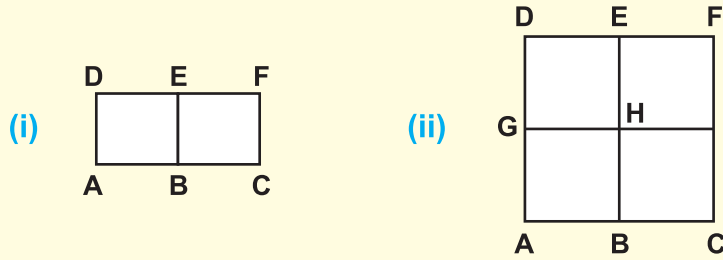
(iii)  $\overleftrightarrow{RS}$  ۽  $\overleftrightarrow{UV}$  هڪٻئي کي ٽپڪي B تي ڪپين ٿيون.

8. پنهنجي ڪلاس جي اهڙين ڪجهه شين جي لسٽ ٺاهيو جيڪي گونيون ڪندون ظاهر ڪن.


9. هيٺ ڏنل هر هڪ شڪل ۾ ڪيتريون ڪنڊون آهن؟ انهن جا نالا ۽ قسمر به ٻڌايو.



10. هيٺ ڏنل هر هڪ شڪل ۾ چورس شڪلين جو تعداد لکو ۽ انهن جا نالا پڻ لکو.



11. سامهون شڪل ۾ ڪل گهڻا ٽڪنڊا آهن؟



12. سامهون ڏنل ڊزائين کي ڏسي، پلڪار جي مدد سان ڪجهه خوبصورت ڊزائينون ٺاهيو.

13. (i) هڪ گول ڪيو جنهن جو نيم قطر 25 ملي ميٽر آهي

(ii) انهيءَ گول جي مرڪز، نيم قطر، قطر ۽ گهيري جا نالا لکو.

(iii) انهيءَ گول جي گهيري جي ماپ ڏاڳي ۽ اسڪيل جي مدد سان ڪريو.

## معلومات سهيڙڻ

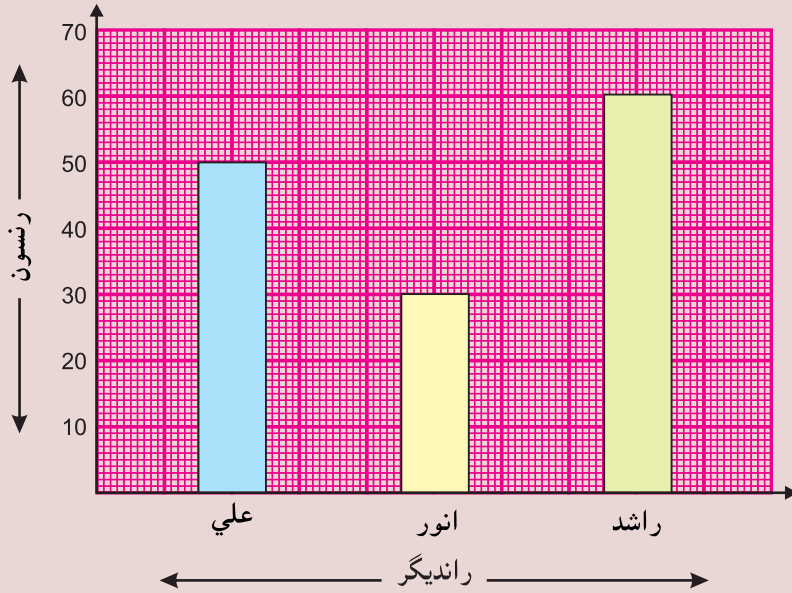
## 7.1 بار گراف

أفقي ۽ عمودي سادا بارگراف پڙهڻ ۽ انهن جو استعمال ڪرڻ

بارگراف ۾ اسان مستطيلي پٽيون هڪ جيتري وچوتيءَ واريون أفقي يا عمودي رُخ ۾ ٺاهيون ٿا. هر هڪ مستطيل پٽي يا بار فقط هڪڙي ئي مقدار کي ظاهر ڪري ٿي.

هيٺ ڏنل تصوير ۾ بار گراف ڏيکاريل آهي، جيڪو ڪرڪيٽ مئچ ۾ ٽن رانديگرن جو اسڪور ظاهر ڪري ٿو.

عملي ڪم



مٿين بار گراف مان اسان هيٺيون ڳالهيون سمجهي سگهون ٿا.

50

عليءَ جون ٺاهيل رنسون آهن.

انور جون ٺاهيل رنسون آهن.

راشد جون ٺاهيل رنسون آهن.

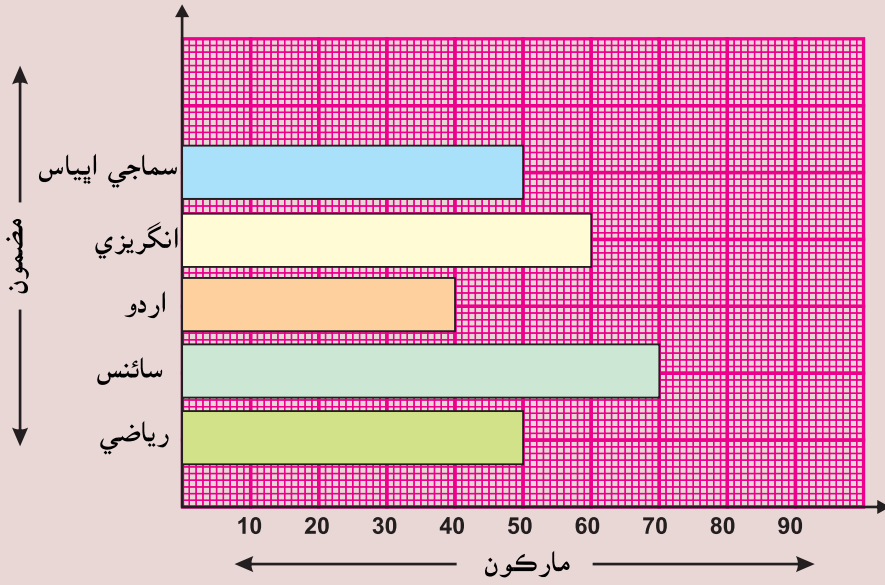
ڪنهن جون رنسون وڌ ۾ وڌ آهن؟

ڪنهن جو رنسون گهٽ ۾ گهٽ آهن؟



عملي ڪر

هيٺ ڏنل بار گراف پڙهو، جنهن ۾ صائم جون سالياني امتحان ۾ حاصل ڪيل مارڪون ڏيکاريل آهن.



هيٺ ڏنل خانن ۾ جواب لکو:

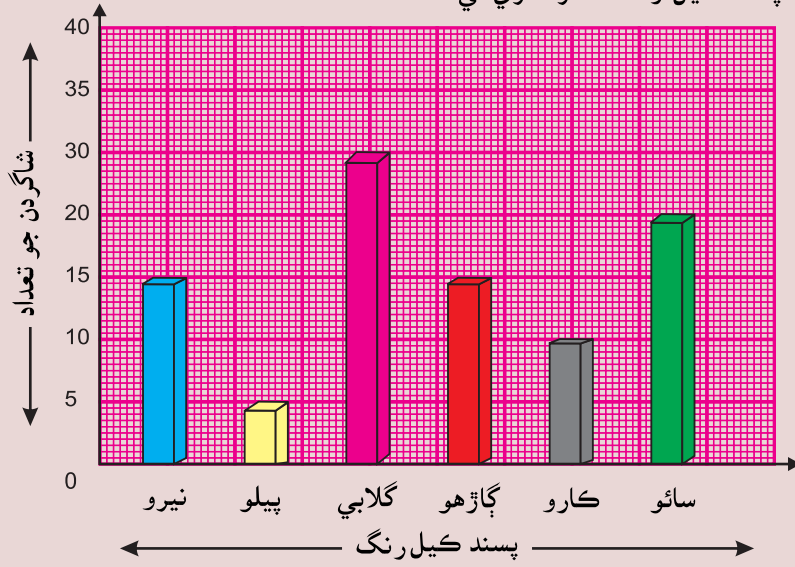
- 1 هن گهڻي ۾ گهڻيون مارڪون ڪهڙي مضمون ۾ حاصل ڪيون؟
- 2 هن گهٽ ۾ گهٽ مارڪون ڪهڙي مضمون ۾ حاصل ڪيون؟
- 3 ڪيترن مضمونن ۾ هوءَ امتحان ۾ ويٺي؟
- 4 ڪيترن مضمونن ۾ هن هڪ جيتريون مارڪون ڪيون؟
- 5 ڪهڙن مضمونن ۾ هن 60 کان وڌيڪ مارڪون ڪيون آهن؟
- 6 صائم ڪل ڪيتريون مارڪون حاصل ڪيون؟

## مشق 7.1

1

هيٺين بار گراف کي ڏسو.

هن گراف ۾ هڪ سروي ڪيل رپورٽ ڏيکاري ٿي آهي، جيڪا چوٿين ڪلاس جي شاگردن جا پسند ڪيل رنگ ظاهر ڪري ٿي.



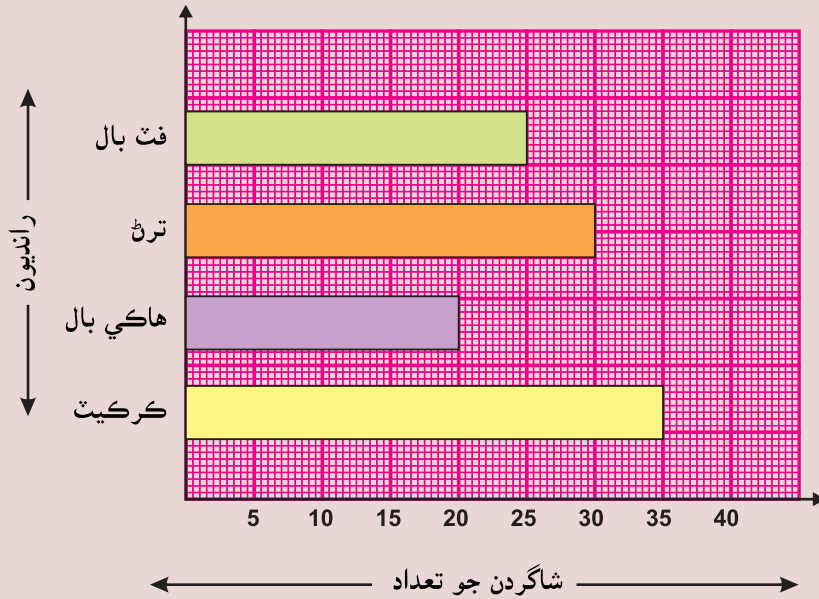
هيٺين سوالن جا جواب خاني ۾ لکو.


- (i) ڪيترا شاگرد پيلو رنگ پسند ڪن ٿا؟
- (ii) ڪهڙو رنگ سڀ کان وڌيڪ پسند ڪيو وڃي ٿو؟
- (iii) ڪهڙو رنگ سڀ کان گهٽ پسند ڪيو وڃي ٿو؟
- (iv) ڪيترا شاگرد سائو رنگ پسند ڪن ٿا؟
- (v) ڪيترا شاگرد گاڙهو رنگ پسند ڪن ٿا؟
- (vi) سروي رپورٽ ۾ ڪل ڪيترا رنگ شامل ڪيا ويا آهن؟
- (vii) ڪيترن شاگردن کان سروي ڪئي وئي؟

2 هيٺ ڏنل بارگراف کي پڙهو ۽ سوالن جا جواب خاني ۾ لکو:

چوٿين ڪلاس جي شاگردن جون پسند ٿيل رانديون.




(i) ڪيترا شاگرد هاڪي راند پسند ڪن ٿا؟

(ii) ڪهڙي راند سڀ کان وڌيڪ پسند ڪئي وڃي ٿي؟

(iii) ڪيترا شاگرد فٽ بال راند پسند ڪن ٿا؟

(iv) ڪيترن شاگردن راندين کي پسند ڪيو؟

(v) ڪهڙي راند گهٽ ۾ گهٽ پسند ڪئي وڃي ٿي؟

(vi) ڪيترا شاگرد ڪرڪيٽ راند پسند ڪن ٿا؟

(vii) ڪُل ڪيترن شاگردن راندين ۾ حصو ورتو آهي؟

7.2 ليڪ گراف

ليڪ گراف پڙهڻ ۽ ان کي استعمال ڪرڻ

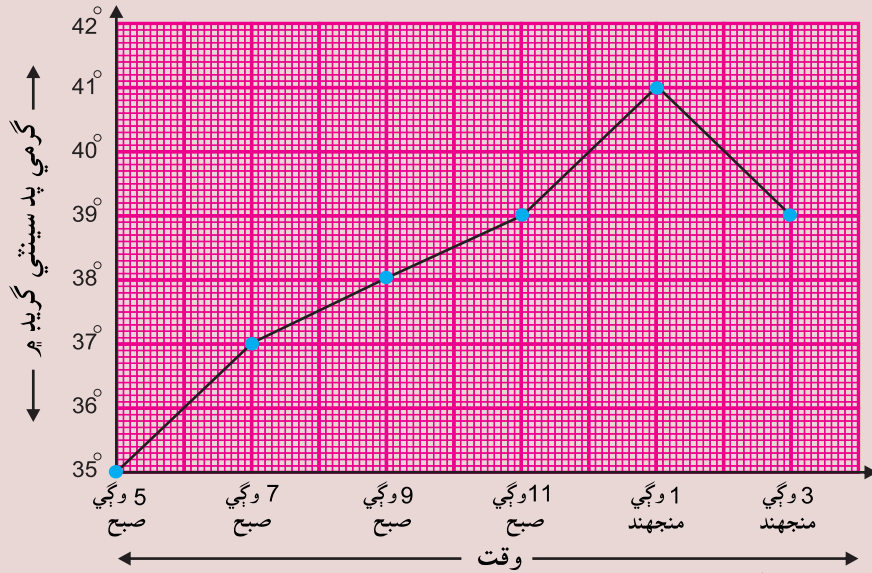
ليڪ گراف ۾ معلومات ٽيڪن جي صورت ۾ ڏيکاري ٿي. پوءِ انهن ٽيڪن کي پاڻ ۾ ملائي ليڪ ٽڪر ٺاهيا وڃن ٿا.

هيٺين ليڪ گراف ۾ جيڪب آباد شهر جي هڪ ڏينهن ۾ مختلف وقتن تي گرمي پد کي ڏيکاريو ويو آهي.

عملي ڪر



(وقت افقي محور تي ۽ گرمي پد عمودي محور تي ڏيکاريو ويو آهي)



مٿين ليڪ گراف کي ڏسو ۽ هيٺين سوالن جا جواب ڏيو.

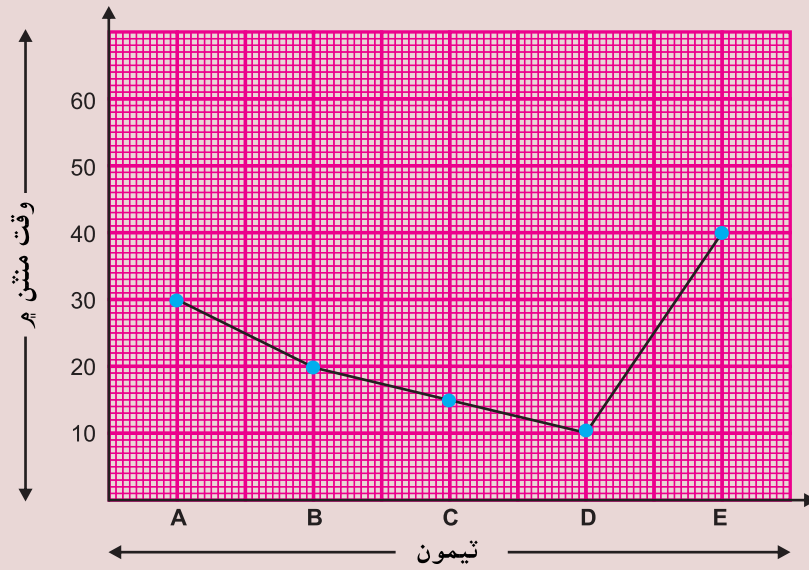
38°C

- 1 صبح جو 9 وڳي ڪيترو گرمي پد هيو؟
- 2 ڪهڙي وقت تي گرمي پد گهٽ ۾ گهٽ هيو؟
- 3 ڇا صبح جو 7 وڳي ۽ 3 وڳي ٻنپهرن جو گرمي پد ساڳيو هيو؟
- 4 1 وڳي منجهند جو ڪيترو گرمي پد هيو؟
- 5 گهٽ ۾ گهٽ گرمي پد ڪيترو هيو؟

## مشق 7.2

1 هيٺيون ليڪ گراف پنجن ٽيمن جي ڪارڪردگي ڏيکاري ٿو. انهن ٽيمن مختلف وقت (منٽن) ۾ ساڳيو ڪم پورو ڪري ڏيکاريو آهي.

گراف سڀني ٽيمن جي ڪم پوري ڪرڻ جو ٽائيمر ٽيبل ظاهر ڪري ٿو.



هاڻي هيٺين سوالن جا جواب ڏيو.

(i) ڪهڙي ٽيم پنهنجو ڪم پوري ڪرڻ ۾ گهٽ ۾ گهٽ وقت ورتو؟

(ii) ڪهڙي ٽيم پنهنجو ڪم پوري ڪرڻ ۾ سڀ کان وڌيڪ وقت ورتو؟

(iii) ڪهڙين ٽيمن پنهنجي ڪم پوري ڪرڻ ۾ هڪ جيترو وقت ورتو؟

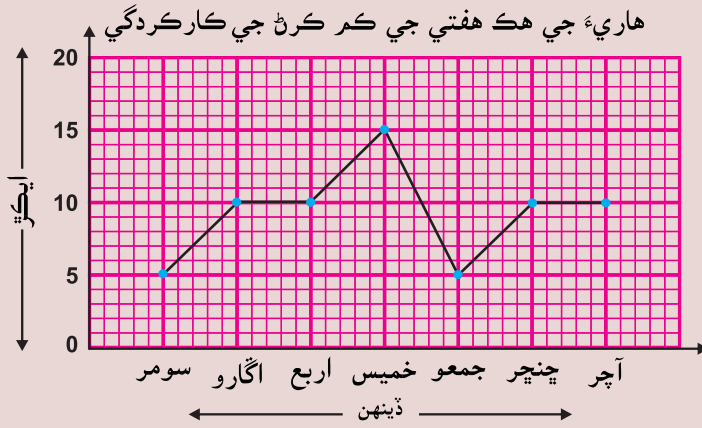
(iv) گهٽ ۾ گهٽ وقت ڪيترو رهيو؟

(v) سڀ کان وڌيڪ وقت ڪيترو رهيو؟

(vi) ٽيم C کي پنهنجو ڪم پوري ڪرڻ ۾ ڪيترو وقت لڳو؟

2 هڪ هاري پنهنجي زمين تي هرُ هلائڻ لاءِ ٽريڪٽر ڪرايي تي وٺي ٿو. هن جي هڪ هفتي جي ڪم پوري ڪرڻ جي ڪارڪردگي هيٺ گراف ۾ ڏيکاريل آهي.

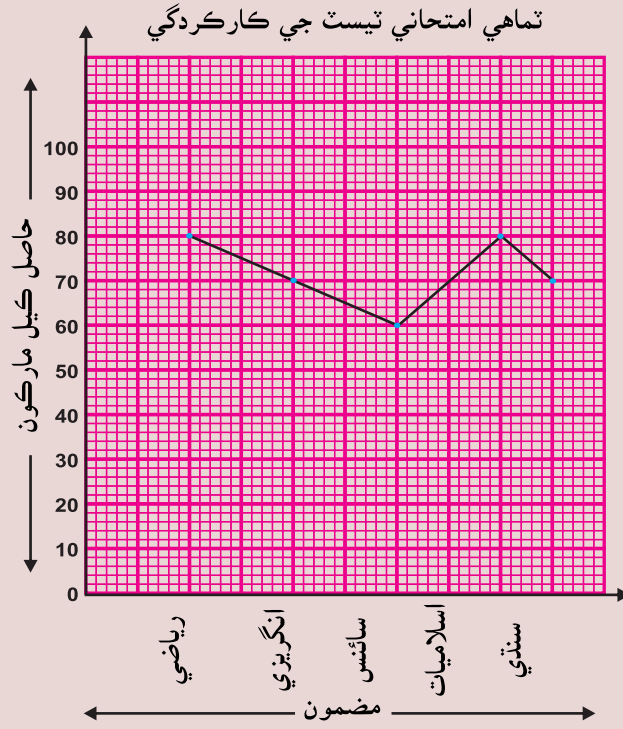
هفتي جا ڏينهن أفقي محور تي ۽ زمين جا ايڪڙ عمودي محور تي ڏيکاريل آهن



مٿين گراف کي ڏسو ۽ هيٺين سوالن جا جواب ڏيو.

- (i) ڪهڙي ڏينهن تي ٽريڪٽر وڌ ۾ وڌ ايڪڙ زمين کي هرُ ڏنو؟
- (ii) اربع جي ڏينهن ڪيترا ايڪڙ زمين کي هرُ ڏنو ويو؟
- (iii) ڪيترا ڏينهن زمين تي هرُ ڪاهيو ويو؟
- (iv) اڱاري ڏينهن هن جي ڪارڪردگي ڇا هئي؟
- (v) ڪهڙن ڏينهن تي گهٽ ۾ گهٽ هرُ هليو؟
- (vi) سڄي هفتي ۾ ڪل ڪيترا ايڪڙ زمين تي هرُ هليو؟
- (vii) خميس، جمعي ۽ ڇنڇر تي ڌار ڌار هر هڪ ڏينهن جي ڪارڪردگي لکو؟
- (viii) ڪهڙن ڏينهن تي ڪارڪردگي هڪ جيتري رهي؟

3 ٽمينه جي ٽماهي امتحاني ٽيسٽ ۾ حاصل ڪيل مارڪون هيٺين گراف ۾ ظاهر ڪيل آهن. مختلف مضمون افقي محور تي ۽ حاصل ڪيل مارڪون عمودي محوري تي ڏيکاريل آهن.



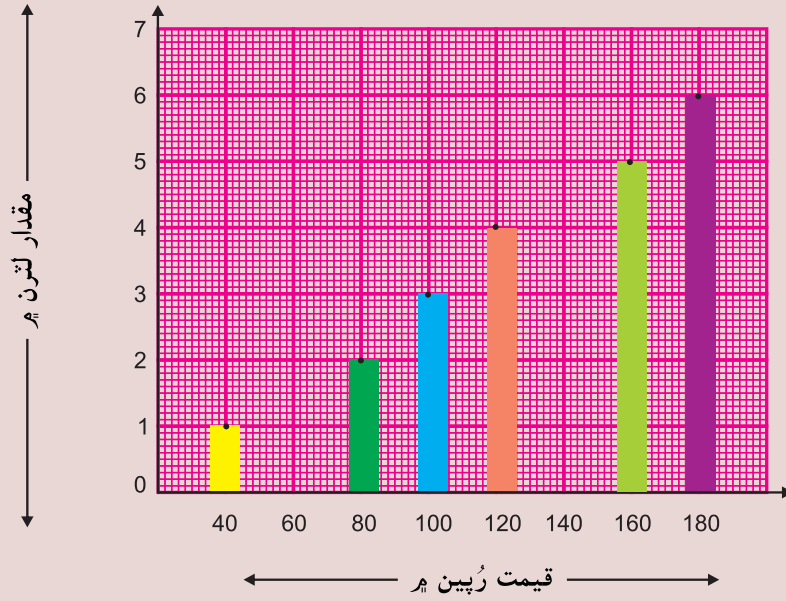
مٿين گراف کي ڏسو ۽ هيٺين سوالن جا جواب ڏيو.


- (i) ڪهڙي مضمون ۾ ٽمينه وڌ ۾ وڌ مارڪون حاصل ڪيون؟
- (ii) ٽمينه سڀني مضمونن ۾ ڪل ڪيتريون مارڪون حاصل ڪيون؟
- (iii) انگريزيءَ ۾ هن گهڻيون مارڪون حاصل ڪيون؟
- (iv) رياضيءَ ۾ هن گهڻيون مارڪون حاصل ڪيون؟
- (v) ڪهڙي مضمون ۾ هن گهٽ ۾ گهٽ مارڪون حاصل ڪيون؟
- (vi) هن سنڌيءَ ۾ ڪيتريون مارڪون حاصل ڪيون؟

جائزي واري مشق 7

(1) هيٺيون گراف انب جي جوس جي قيمت ڏيکاري ٿو.



مٿي ڏنل گراف کي پڙهو ۽ هيٺين سوالن جا جواب ڏيو.

(i) 2 لٽر انب جي جوس جي قيمت ڪيتري آهي؟

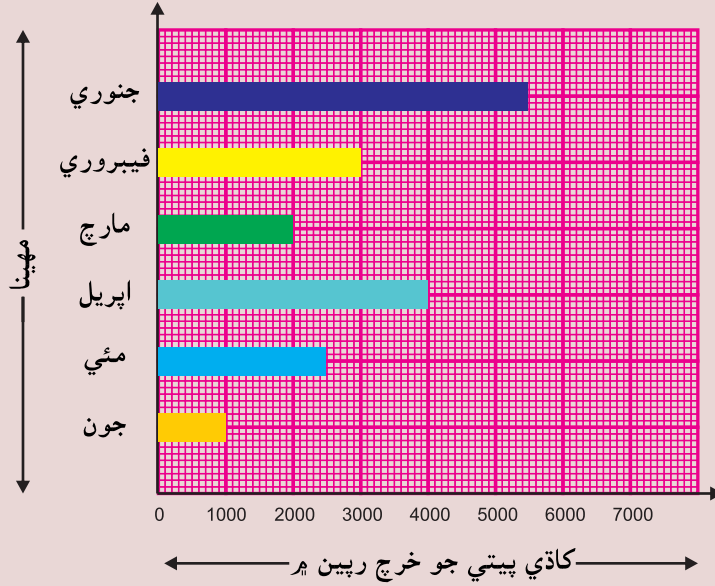
(ii) 4 لٽر انب جي جوس جي قيمت ڪيتري آهي؟

(iii) جيڪڏهن اسان کي 20 رپين جا ڇهه نوٽ آهن. ڇا اسان 6 لٽر انب جو جوس وٺي سگهون ٿا؟

(iv) جيڪڏهن اسان کي 100 رپين جو نوٽ آهي ۽ اسان 2 لٽر انب جو جوس خريد ڪيون ٿا ته اسان کي واپس ڪيتري رقم ملندي؟

(v) اسين 180 رپين ۾ ڪيترو جوس خريد ڪري سگهون ٿا؟

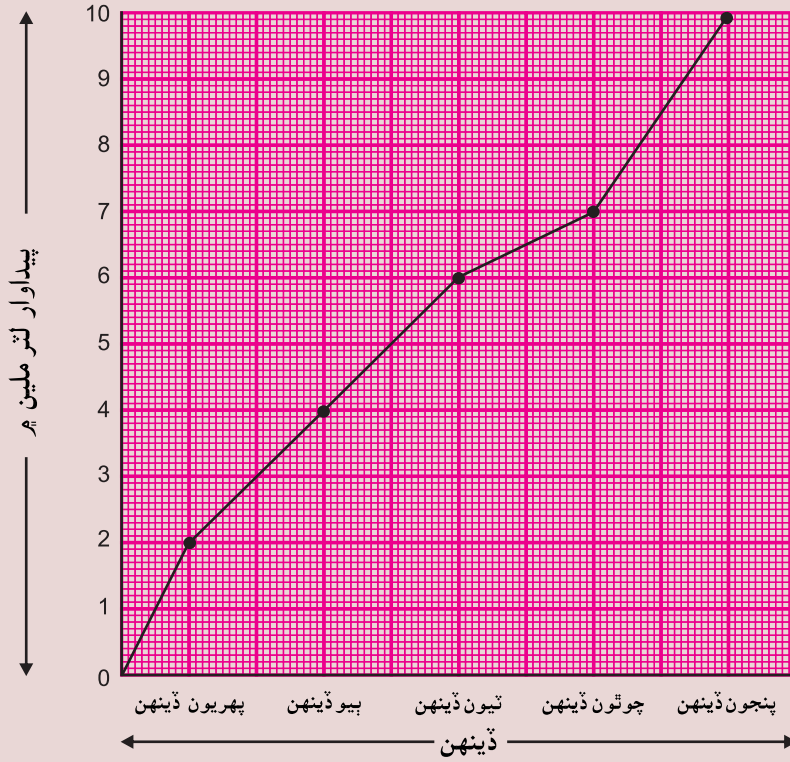
(2) هيٺ ڏنل بارگراف کي پڙهو، جنهن ۾ راشد جي گهر جي کاڌي پيٽي جي سامان جو خرچ ڇهن مهينن جو ڏيکاريل آهي.



گراف کي ڏسي هيٺين سوالن جا جواب ڏيو.

- (i) فيبروريءَ جي مهيني ۾ کاڌي پيٽي جي سامان تي ڪيترو خرچ ٿيو؟
- (ii) اپريل جي مهيني ۾ کاڌي پيٽي جي سامان تي ڪيترو خرچ ٿيو؟
- (iii) ڪهڙي مهيني ۾ کاڌي پيٽي جي سامان تي خرچ گهٽ ۾ گهٽ آيو؟
- (iv) ڪهڙي مهيني ۾ کاڌي پيٽي جي سامان تي خرچ وڌ ۾ وڌ آيو؟
- (v) جنوريءَ کان جون مهيني تائين کاڌي پيٽي جي سامان تي ڪل خرچ ڪيترو آيو؟
- (vi) اپريل ۽ مئي مهينن ۾ کاڌي پيٽي جي سامان تي آيل خرچ ۾ ڪيترو فرق آهي؟

(3) هيٺيون ليڪ گراف تيل جي ڪارخاني جي پنجن ڏينهن جي پيداوار کي ظاهر ڪري ٿو.



مٿين ليڪ گراف کي غور سان ڏسو ۽ هيٺين سوالن جا جواب ڏيو.

(i) تيل جي ڪارخاني جي پهرين ڏينهن جي پيداوار ڪيتري هئي؟

(ii) تيل جي ڪارخاني جي ٽئين ڏينهن جي پيداوار ڪيتري هئي؟

(iii) تيل جي ڪارخاني جي ٻئي ۽ ٽئين ڏينهن جي گڏ پيداوار ڪيتري ٿي؟

(iv) تيل جي ڪارخاني جي ٻئي ۽ پنجين ڏينهن جي وچ ۾ پيداوار ڪيتري ٿي؟

(v) ڪهڙي ڏينهن تيل جي پيداوار وڌ ۾ وڌ ٿي؟

(vi) ڪيترا ڀيرا تيل جي پيداوار ماڻي ويئي؟

## اصطلاح

اٺپور:	هڪ سڄي جو ڪو حصو
انس:	عام اٺپور جو مٿيون عدد
اڪي انگ:	اُهي عدد جنهن جي ايڪن وارو انگ 1، 3، 5، 7، 9 هجي.
ايڪو:	ڪنهن مقدار کي ماپڻ جي معياري ماپ
اڪائي اٺپور:	اُهو اٺپور جنهن ۾ انس ۽ چيد ٻئي برابر آهن.
اٺپور يا سو ٽڪڻو:	اهو ٽڪڻو جنهن جا ٽيئي پاسا مختلف ماپ جا هجن.
ٻڌي عدد:	اهي عدد جن جي ايڪن وارو انگ 0، 2، 4، 6، 8 هجي.
ٽپڪو:	مٿاڇري تي ڪنهن جاءِ جي بيهڪ ظاهر ڪندڙ نقطو
ٽڪڻو:	ٽن پاسن واري بند شڪل
پشسو:	پاڪستاني ڪرنسيءَ جو بنيادي ايڪو
پاڇي:	اهو عدد جيڪو هڪ عدد کي ٻئي عدد سان وٺڻ ڪرڻ کانپوءِ باقي بچي.
پاسو يا ڪنارو:	هڪ رُخي ليڪ ٽڪر جيڪو ٻن چوٽين کي پاڻ ۾ ملائي.
جوڙ جو عمل:	ٻن عددين يا مقدارن جي جوڙ اُپت معلوم ڪرڻ جو عمل.
جزا:	ڪنهن به عدد جا اُهي وٺيندڙ جن سان پاڇي ٻڙي اچي.
جزن جو عمل:	ڪنهن عدد جي جزن کي ضرب جي صورت ۾ ڏيکارڻ.
چوڪڻو:	چئن پاسن واري بند شڪل
چورس:	اُهو چوڪڻو جنهن جا چارئي پاسا برابر هجن ۽ ان کي چار گونيون ڪڍڻ هجن.
چوٽي:	ڪنهن به شڪل جي ڪنڊ وارو ٽپڪو
چيد:	عام اٺپور جو هيٺيون عدد.
ڏهائي اٺپور:	هڪ سڄي عدد وارو پاسو ۽ ٻيو اٺپور پاسو. ٻنهي پاسن جي وچ ۾ هڪ ٽپڪي يعني ڏهائيءَ جو نشان ٿئي ٿو.
رپيو:	پاڪستاني ڪرنسيءَ جو معياري ايڪو
سينٽي ميٽر:	ڊيگهه جو ايڪو جيڪو هڪ ميٽر جو $\frac{1}{100}$ حصو آهي.
سيڪنڊ:	وقت جو بنيادي ايڪو، هڪ منٽ جو $\frac{1}{60}$ حصو يا سئون حصو
سال:	وقت جو ايڪو 1 سال = 365 ڏينهن
سنگت واري خاصيت جوڙ جي لحاظ کان:	هن خاصيت مطابق جڏهن ڪن به ٽن عددين (اٺپورن) کي ڪنهن به ترتيب ۾ جوڙ ڪيو وڃي ته جوڙ اُپت هميشه ساڳي رهي ٿي.
سنگت واري خاصيت ضرب جي لحاظ کان:	هن خاصيت مطابق جڏهن ڪن به ٽن عددين (اٺپورن) کي ڪنهن به ترتيب ۾ ضرب ڪيو وڃي ته ضرب اُپت هميشه ساڳي رهي ٿي.
سوڙهي ڪنڊ:	اها ڪنڊ جنهن جي ماپ $90^\circ$ کان گهٽ هجي.
سوڙهي ڪنڊ ٽڪڻو:	اهو ٽڪڻو جنهن جون ٽيئي ڪنڊون سوڙهيون ڪنڊون هجن.
شعاع:	هڪ ليڪ ٽڪر جي هڪ چيٽي تي تير جو نشان لڳائڻ سان شعاع ملندو.
شمسي ڪئلينڊر:	هن ڪئلينڊر ۾ تاريخون سج جي چوڌاري زمين جي گردش يا بيهڪ ظاهر ڪنديون آهن (هڪ سال ۾ 365 ڏينهن هوندا آهن).

## اصطلاح

سڳڻي عدد کي وري وري جوڙ ڪرڻ جو عمل	ضرب جو عمل:
ضرب جي اها خاصيت جنهن مطابق کي به به عدد ڪهڙي به ترتيب ۾ ضرب ڪيا وڃن ته انهن جي ضرب اُپت هميشه ساڳي ٿئي ٿي.	ضرب جي مٿا سٺا واري خاصيت:
هڪ نشاني جيڪا ڪنهن عمل، جزو يا لاڳاپي لاءِ استعمال ٿي.	علامت:
اهي عام عدد جيڪي ٻن يا ٻن کان ضربيندڙ ۾ هجن.	عام ضربيندڙ:
اهي اڻپور جنهن جا چيد ساڳيا نه هجن.	غير هر چيد اڻپور:
اهڙو اڻپور جنهن جو انس، چيد کان وڏو هجي.	غير واجب اڻپور:
فاصلو معلوم ڪرڻ لاءِ هڪ سڌي پتي	فٽ پتي:
اڌ گول جو ليڪ ٽڪر جيڪو مرڪز مان گذري.	قطر:
سال جو اسلامي ڪئلينڊر. (قمری يا هجري ڪئلينڊر).	قمری ڪئلينڊر:
وقت جو ايڪو جيڪو هڪ ڏينهن جو چوويهون حصو آهي يعني 60 منتن جي برابر آهي.	ڪلاڪ:
مايي جو بنيادي ايڪو	ڪلوگرام:
علامت ”-“ ٻن عددين يا مقدارن جي وچ ۾ فرق معلوم ڪرڻ جو عمل.	ڪٽ جو عمل:
پاڻياڻ جي اها مقدار جيڪا ڪنهن ٿانءَ ۾ اچي سگهي.	گنجائش:
اهڙي گولائي واري بند شڪل جنهن جو هر هڪ ٽپڪو ڏنل مرڪزي ٽپڪي کان هڪ جيتري مفاصلي تي هجي.	گول:
مايي جو بنيادي ايڪو	گرام:
اها شڪل يا تصوير جيڪا گڏ ڪيل مواد ڏيکاري.	گراف:
اهو اڻپور جنهن ۾ سڄو عدد ۽ واجب اڻپور ٻئي هجن.	گڏيل اڻپور:
اها جنهنجي ماپ $90^\circ$ آهي	گوني ڪنڊ:
اهو ٽڪنڊو جنهنجي هڪ گوني ڪنڊ هجي يعني $90^\circ$ جي ماپ جي هجي.	گوني ڪنڊ ٽڪنڊو:
مقدار يا گنجائش جو ايڪو	لتر:
ٻن ٽپڪن جي وچ ۾ ننڍي ۾ ننڍو فاصلو	ليڪ ٽڪر:
اها شڪل ليڪ کي ظاهر ڪري ٿي.	ليڪ:
ڪنهن به شيءِ ۾ سمايل مادي جو مقدار	مايو:
هڪ لتر جو هزارون حصو	ملي لتر:
اها خاصيت جنهن ۾ ڪن به ٻن عددين (اڻپورن) کي ڪنهن به	مٿا سٺا واري خاصيت
ترتيب ۾ جوڙ ڪيو وڃي ته جوڙ اُپت هميشه ساڳي رهي.	جوڙ جي لحاظ کان:
اهي عدد جن جا جزا به يا ٻن کان وڌيڪ ٿي سگهن.	مرڪب عدد:

## اصطلاح

مفرد جزن جو عمل:	اهو جزن جو عمل جنهن ۾ هر هڪ جزو مفرد عدد هجي.
ملي ميٽر:	هڪ ميٽر جو هزارون حصو
منٽ:	ڪلاڪ جو $\frac{1}{60}$ حصو يا سٽون حصو
مهينو:	وقت جو ايڪو 1 مهينو = 30 ڏينهن
مستطيل:	هڪ چوڪنڊو جنهن جا آمهون سامهون وارا پاسا برابر هجن ۽ ان کي چار گونيون ڪنڊون هجن.
مڪاني ملهه:	عدد ۾ انگ جي جڳهه جي مطابق قيمت
ننڍي عام پيچ آپٽ:	ملييل عددن جو ننڍي ۾ ننڍو عام ضربيندڙ.
ناٿو:	پئسا ڪنهن به شڪل ۾
ڪنڊ ماپ:	جاميٽي باڪس جو اهو اوزار جنهن سان ڪنڊ $0^\circ$ کان $180^\circ$ تائين ماپي سگهجي ٿي.
قوس:	گول جو ٿورو حصو.
ونڊ جو عمل:	ورهاست جو عمل، علامت ” $\div$ “
ونڊ آپٽ:	ٻن مقدارن يا عددن مان وڊ آپٽ معلوم ڪرڻ جو عمل يا ڪنهن عدد مان ساڳي ئي عدد کي وري وري ڪٽ ڪرڻ.
ونڊجڻ:	اها وڊ جنهن ۾ هڪ عدد، ٻئي کي وڊ ڪري ته پاڇي ٻڙي اچي.
ونڊڻي:	اهو عدد جنهن کي ٻئي عدد سان وڊ ڪيو وڃي.
ونڊيندڙ:	اهو عدد جنهن سان ٻئي عدد کي وڊ ڪئي وڃي.
وڏو عام پورو:	ملييل عددن جو اهو وڏي ۾ وڏو جزو، جنهن سان انهن کي پوري طرح وڊي سگهجي.
ونڊيندڙ:	طرح وڊي سگهجي.
ويڪري ڪنڊ:	اها ڪنڊ جنهنجي ماپ $90^\circ$ کان وڌيڪ هجي
ويڪري ڪنڊ ٽڪنڊو:	اهو ٽڪنڊو جنهن ۾ هڪ ڪنڊ ويڪري ڪنڊ هجي.
هڪ جيترو اٿپور:	اهي اٿپور جنهن جا ٽي ملهه ساڳيا هجن.
هر چيد اٿپور:	اهي ٻه يا ٽي کان وڌيڪ اٿپور جن جو چيد ساڳيو هجي.
هفتو:	وقت جو هڪ ايڪو
	1 هفتو = 7 ڏينهن

## جواب

### مشق 1.1

- (1) (i) 4,692 (ii) 69,407 (iii) 456,926 (iv) 700,000  
 (v) 902,042 (vi) 729,006 (vii) 902,042 (viii) 729,006

- (2) (i) ٻه هزار پنج سؤ ايڪهٺ (ii) چوٽيه هزار پنج سؤ ايڪهٺ  
 (iii) چاونجاه هزار ايڪاسي (iv) بيانوي هزار  
 (v) ٻه سؤ پنجيتاليه هزار چيه سؤ ٻارهن (vi) ٽي سؤ اوڻونجاه هزار چيه سؤ پنجاه

### مشق 1.2

- (1) (i) 2 جو مڪاني ٺلهه 2 ملين آهي = 2,000,000  
 (ii) 8 جو مڪاني ٺلهه 8 ملين آهي = 8,000,000  
 (iii) 1 جو مڪاني ٺلهه 1 سؤ ملين آهي = 100,000,000  
 (iv) 9 جو مڪاني ٺلهه 9 سؤ هزار آهي = 900,000  
 (v) 5 ملين = 5,000,000 (vi) 9 ملين = 9,000,000  
 2 سؤ = 200 1 هزار = 1,000  
 (vii) 9 سؤ هزار = 900,000 7 ڏهه ملين = 70,000,000  
 8 هزار = 8,000 6 ملين = 6,000,000
- (2) (i) 9 ملين = 9,000,000 (ii) 5 ڏهه ملين = 50,000,000  
 2 سؤ هزار = 200,000 0 ملين = 0,000,000  
 3 ڏهه هزار = 30,000 1 سؤ هزار = 100,000  
 4 هزار = 4,000 2 ڏهه هزار = 20,000  
 5 سؤ = 500 0 هزار = 0,000  
 1 ڏهاڪو = 10 3 سؤ = 300  
 3 ايڪا = 3 0 ڏهاڪا = 00  
 6 ايڪا = 6
- (iii) 3 ملين = 3,000,000 (iv) 3 ڏهه ملين = 30,000,000  
 5 سؤ هزار = 500,000 6 ملين = 6,000,000  
 6 ڏهه هزار = 60,000 5 سؤ هزار = 500,000  
 7 هزار = 7,000 6 ڏهه هزار = 60,000  
 8 سؤ = 800 7 هزار = 7,000  
 9 ڏهاڪا = 90 8 سؤ = 800  
 9 ايڪا = 9 9 ڏهاڪا = 90  
 6 ايڪا = 6

## جواب

### مشق 1.3

1. (i) به سو ايکيتاليهه هزار نو سو پنجتيهه  
(ii) چار ملين تي سو بارهن هزار چه سو ستاسي.  
(iii) پنج ملين  
(iv) پنجويهه ملين هک سو چوتيهه هزار پنج سو چوهه  
(v) هک سو ملين  
(vi) نو ملين به سو چوهه هزار تي سو ستاسي  
(vii) پنجاهه ملين هک هزار  
(viii) چار ملين هک سو نو هزار به سو  
(ix) نوانوي ملين نو سو نوي هزار نوي
2. (i) 2,090,068 (ii) 30,600,045 (iii) 100,000,000  
(iv) 20,000,020 (v) 90,067,000
4. (i) 2,453,761, 2,454,761, 2,455,761  
(ii) 7,000,600, 7,000,700, 7,000,800  
(iii) 67,243,415, 67,253,415, 67,263,415

5.

سو ملين	ده ملين	ملين
100,000,000	22,233,341	2,456,178
	10,000,000	1,000,000
	20,001,010	2,561,000

### مشق 1.4

1. (i) > (ii) < (iii) < (iv) > (v) >
2. (i) ننڊ وڏائي  
3,076,005, 3,174,215, 3,741,512  
وڏ ننڊائي  
3,741,512, 3,174,215, 3,076,005
- (ii) ننڊ وڏائي  
95,113,417, 95,123,415, 95,312,415  
وڏ ننڊائي  
95,312,415, 95,123,415, 95,113,417
- (iii) ننڊ وڏائي  
52,111,222, 58,110,176, 59,178,215, 59,296,712  
وڏ ننڊائي  
59,296,712, 59,178,215, 58,110,176, 52,111,222

## جواب

(iv) نند وڈائي

13,100,219, 13,200,415, 14,111,920, 14,160,000  
وڈ نندائي  
14,160,000, 14,111,920, 13,200,415, 13,100,219

### مشق 1.5

1. (i) 66,676 (ii) 142,523 (iii) 405,253 (iv) 551,177  
(v) 1,393,289 (vi) 1,311,571
2. (i) 114,552 (ii) 317,981 (iii) 1,114,946 (iv) 1,533,612  
(v) 1,138,719 (vi) 1,334,462 (vii) 1,145,991 (viii) 1,791,275

### مشق 1.6

1. 928,117 2. شاگرد 47,842 3. رپيا 1,498,800  
4. ماڻهو 98,682 5. سائيڪلون 1,590,330 6. انب 796,310

### مشق 1.7

1. (i) 12,111 (ii) 562,051 (iii) 611,620 (iv) 608,819  
(v) 161,547 (vi) 46,952
2. (i) 55,555 (ii) 234,122 (iii) 1 (iv) 162,136  
(v) 188,750 (vi) 143,012 (vii) 90,100 (viii) 100,000  
(ix) 999 (x) 581,110 (xi) 37,908 (xii) 449,008

### مشق 1.8

1. رپيا 445,550 2. شاگرد 14,001 3. رپيا 272,920  
4. رپيا 180,001 5. ماڻهو 112 6. ڪڪڙيون 46,280

### مشق 1.9

1. (i) 37,536 (ii) 163,870 (iii) 328,328 (iv) 177,156  
(v) 28,880,618 (vi) 31,791,975 (vii) 20,578,868 (viii) 12,087,428
2. (i) 1,168,900 (ii) 2,579,880 (iii) 14,212,653 (iv) 4,886,040  
(v) 8,338,834 (vi) 1,518,435 (vii) 17,437,041 (viii) 35,974,913

## جواب

### مشق 1.10

1. 702,768 بوتلون  
2. 756,000 رپيا  
3. 1,1635,000 رپيا  
4. 17,316,000 آنا  
5. 40,083,820 لٽر  
6. 9,268,400 رپيا

### مشق 1.11

- (1) (i) 562 (ii) 253 (iii) 561 (iv) 782  
(v) 123 (vi) 452  
(2) (i) 156 = ونڊ اُپت (ii) 254 = ونڊ اُپت (iii) 158 = ونڊ اُپت  
(iv) 252 = ونڊ اُپت (v) 245 = ونڊ اُپت (vi) 369 = ونڊ اُپت  
(3) 0 = پاڇي، 145 = ونڊ اُپت (4) 0 = پاڇي، 356 = ونڊ اُپت  
(5) 3 = پاڇي، 2,586 = ونڊ اُپت (6) 12 = پاڇي، 617 = ونڊ اُپت

### مشق 1.12

- (1) 896 سوت  
(2) 586 رپيا  
(3) 225 رپيا  
(4) 281 ڪلوگرام  
(5) 123 رپيا  
(6) 156 ڪرپت

### مشق 1.13

- (1) 40 (2) 55 (3) 76 (4) 58  
(5) 354 (6) 411 (7) 852 (8) 490  
(9) 115 (10) 288 (11) 248 (12) 175  
(13) 82 (14) 103 (15) 823 (16) 10,358

### مشق 1.14

- (1) 1,378,640 رپيا (2) 205,501 رپيا (3) 210,320 ڪڪڙيون  
(4) 14,310,000 رپيا (5) 47,028,035 وڻ (6) 125 رپيا (7) 14 کاڌي جا پيڪيٽ

### جائزي واري مشق 1

- (1) (i) ج (ii) ب (iii) د  
(2) (i) ٻه ملين چار سؤ ٻارهن هزار ٽي سؤ سورهن  
(ii) چئيه ملين هڪ سؤ ٽيويهه هزار هڪ سؤ هڪ  
(iii) چيه سؤ هزار ٻه سؤ سورهن  
(3) (i) 20,000,000 (ii) 100,000,000

## جواب

- (4) (i) 1,128,857 (ii) 1,712,258  
 (5) (i) 749,007 (ii) 100,091 (iii) 167,778  
 (6) (i) 15,984,423 (ii) 2,590,560 (iii) 254 (iv) 159 (v) 74  
 (7) راحيل وت باقي رقم بچي = 54,560 رپيا.

### مشق 2.1

- (1) (i), (iii) ۽ (v) (2) (i), (iii) ۽ (v) (3) (i), (iii) ۽ (v)  
 (4) (i), (iii) ۽ (v) (5) (i), (iii) ۽ (v)

### مشق 2.2

- (1) (ii) , (vii) , (ix) (2) (i) , (iv) , (v) , (viii) , (ix) ۽ (x)  
 (3) مفرد عدد آهن: 41, 43, 47, 53, 59 ۽ باقي مرڪب عدد آهن  
 (4) 2, 3, 5, 7, 11, 13, 17, 19  
 (5) 12, 14, 15, 16, 18, 20, 21, 22, 24, 25, 26, 27, 28  
 (6) مفرد عدد آهن: 23, 29, 31, 37 مرڪب عدد: 21, 22, 24, 25, 26, 27, 28, 30  
 32, 33, 34, 35, 36, 38, 39

### مشق 2.3

- (1) 4 جون پيچ اڀتون آهن: 4, 8, 12, 16, 20, 24, 28, 32, 36, 40, 44, 48  
 7 جون پيچ اڀتون آهن: 7, 14, 21, 28, 35, 42, 49, 56, 63, 70, 77, 84  
 9 جون پيچ اڀتون آهن: 9, 18, 27, 36, 45, 54, 63, 72, 81, 90, 99, 108  
 (2) 16 جا جزا آهن: 1, 2, 4, 8, 16 ، 26 جا جزا آهن: 1, 2, 13, 26  
 45 جا جزا آهن: 1, 3, 5, 9, 15, 45 (3) 14, 28, 35, 56, 84  
 (4) 50 جا جزا آهن: 1, 2, 5, 10, 25, 50 (5) 24, 32, 40, 48, 56, 64, 72, 80, 88

### مشق 2.4

- (1) (i) 1, 2, 3, 4, 6, 12 (ii) 1, 2, 4, 5, 10, 20 (iii) 1, 5, 25  
 (iv) 1, 2, 4, 11, 22, 44 (v) 1, 2, 4, 8, 16, 32, 64 (vi) 1, 2, 4, 7, 14, 28  
 (2) (i)  $2 \times 2 \times 3 \times 3$  (ii)  $2 \times 3 \times 3 \times 3$  (iii)  $3 \times 3 \times 3$   
 (iv)  $5 \times 3 \times 3$  (v)  $2 \times 2 \times 2 \times 2 \times 2$  (vi)  $2 \times 41$   
 (3) (i)  $3 \times 3 \times 7$  (ii)  $3 \times 3 \times 5$  (iii)  $2 \times 2 \times 2 \times 3 \times 3$   
 (iv)  $2 \times 3 \times 3 \times 3$  (v)  $2 \times 19$  (vi)  $2 \times 3 \times 3 \times 5$

## جواب

### مشق 2.5

(1) (i)  $12 = 1, 2, 3, 4, 6, 12$  (ii)  $10 = 1, 2, 5, 10$   
 $18 = 1, 2, 3, 6, 9, 18$   $15 = 1, 3, 5, 15$

(iii)  $22 = 1, 2, 11, 22$  (iv)  $8 = 1, 2, 4, 8$   
 $44 = 1, 2, 4, 11, 22, 44$   $32 = 1, 2, 4, 8, 16, 32$

(v)  $36 = 1, 2, 3, 4, 6, 9, 12, 18, 36$   
 $30 = 1, 2, 3, 5, 6, 10, 15, 30$   
 $24 = 1, 2, 3, 4, 6, 8, 12, 24$

(2) (i) 6 (ii) 14 (iii) 15 (iv) 25 (v) 18  
(vi) 32 (vii) 30 (viii) 5  
(3) (i) 12 (ii) 9 (iii) 4 (iv) 12 (v) 2 (vi) 7

### مشق 2.6

(1) 12 شاگرد (2) 6 کتاب (3) 22 سينتي ميتر  
(4) 6 سينتي ميتر (5) 4 ٽوڪڙا (6) 16 لتر

### مشق 2.7

(1) (i) 75 (ii) 84 (iii) 20 (iv) 18 (v) 35  
(2) (i) 126 (ii) 180 (iii) 180 (iv) 105 (v) 240  
(vi) 216 (vii) 315 (viii) 90 (ix) 552 (x) 528

### مشق 2.8

(1) علي 4 ڏينهن ۽ ماريه 3 ڏينهن لڳائيندي. (2) 60 انچ (3) 8  
(4) 5 ڏينهن (5) 24 ڏينهن (6) 60 ڏينهن

### جائزي واري مشق 2

(1) (i) ب (ii) ب (iii) ج (iv) ج (v) الف  
(2) و.ع.پ. = 3، ن.ع.پ. = 3312 (3) و.ع.پ. = 1، ن.ع.پ. = 1,517  
(4) 15 شاگرد (5) 30 ساهيڙيون (دوست)

## جواب

### مشق 3.1

(1) (ii), (iv), (v) ۽ (vii) غير هم چيد اٿپور ۽ (i), (iii), (vi), (viii) ۽ (ix) هم چيد اٿپور

(2) (i) = (ii) > (iii) > (iv) < (v) > (vi) >

(3) ننڍو وڏائي ترتيب | وڏو ننڍائي ترتيب | ننڍو وڏائي ترتيب | وڏو ننڍائي ترتيب

(i) $\frac{5}{7}, \frac{6}{7}, \frac{9}{7}$	$\frac{9}{7}, \frac{6}{7}, \frac{5}{7}$	(ii) $\frac{5}{9}, \frac{2}{3}, \frac{5}{6}$	$\frac{5}{6}, \frac{2}{3}, \frac{5}{9}$
(iii) $\frac{4}{15}, \frac{1}{3}, \frac{2}{5}$	$\frac{2}{5}, \frac{1}{3}, \frac{4}{15}$	(iv) $\frac{1}{6}, \frac{5}{12}, \frac{4}{8}, \frac{3}{4}$	$\frac{3}{4}, \frac{4}{8}, \frac{5}{12}, \frac{1}{6}$
(v) $\frac{9}{8}, \frac{5}{4}, \frac{13}{6}, \frac{7}{2}$	$\frac{7}{2}, \frac{13}{6}, \frac{5}{4}, \frac{9}{8}$	(vi) $\frac{5}{12}, \frac{7}{6}, \frac{7}{4}, \frac{5}{2}$	$\frac{5}{2}, \frac{7}{4}, \frac{7}{6}, \frac{5}{12}$

(4) (i)  $\frac{3}{4}$  (ii)  $\frac{2}{3}$  (iii)  $\frac{3}{5}$  (iv)  $\frac{1}{3}$  (v)  $\frac{1}{2}$

### مشق 3.2

(1) ايڪي وارا اٿپور (i), (ii), (iv), (viii) ۽ (ix) ، واجب اٿپور (i), (ii), (iv), (v), (viii) ۽ (ix)

غير واجب اٿپور (iii) ۽ (vii) ، مرڪب اٿپور (vi) ۽ (x)

(2) (i)  $6\frac{1}{7}$  (ii)  $7\frac{1}{4}$  (iii)  $8\frac{2}{9}$  (iv)  $2\frac{2}{6}$  يا  $2\frac{1}{3}$

(v)  $5\frac{3}{5}$  (vi)  $22\frac{1}{3}$  (vii)  $7\frac{8}{11}$  (viii)  $17\frac{1}{5}$

(3) (i)  $\frac{43}{10}$  (ii)  $\frac{17}{3}$  (iii)  $\frac{13}{2}$  (iv)  $\frac{23}{7}$

(v)  $\frac{33}{4}$  (vi)  $\frac{24}{13}$  (vii)  $\frac{63}{8}$  (viii)  $\frac{20}{7}$

### مشق 3.3

(1) (i)  $1\frac{8}{9}$  (ii)  $1\frac{2}{3}$  (iii)  $1\frac{4}{5}$  (iv)  $1\frac{11}{12}$  (v)  $8\frac{5}{6}$

(vi)  $8\frac{1}{12}$  (vii)  $3\frac{11}{30}$  (viii)  $3\frac{24}{35}$

(2) (i)  $\frac{1}{3}$  (ii)  $\frac{1}{8}$  (iii)  $\frac{7}{15}$  (iv)  $2\frac{1}{20}$  (v)  $6\frac{3}{10}$

(vi)  $\frac{17}{30}$

(3) (i)  $\frac{7}{4}$  (ii)  $\frac{4}{7}, \frac{2}{9}$  (iii)  $\frac{1}{5}$  (iv)  $\frac{2}{7}, \frac{3}{10}$

## جواب

### مشق 3.1

(1) (vii) ۽ (v), (iv), (ii) غير هم چيد اٿپور ۽ (ix), (viii), (vi), (iii), (i) هم چيد اٿپور

(2) (i) = (ii) > (iii) > (iv) < (v) > (vi) >

(3) ننڍ وڏائي ترتيب | وڏ ننڍائي ترتيب | ننڍ وڏائي ترتيب | وڏ ننڍائي ترتيب

(i) $\frac{5}{7}, \frac{6}{7}, \frac{9}{7}$	$\frac{9}{7}, \frac{6}{7}, \frac{5}{7}$	(ii) $\frac{5}{9}, \frac{2}{3}, \frac{5}{6}$	$\frac{5}{6}, \frac{2}{3}, \frac{5}{9}$
(iii) $\frac{4}{15}, \frac{1}{3}, \frac{2}{5}$	$\frac{2}{5}, \frac{1}{3}, \frac{4}{15}$	(iv) $\frac{1}{6}, \frac{5}{12}, \frac{4}{8}, \frac{3}{4}$	$\frac{3}{4}, \frac{4}{8}, \frac{5}{12}, \frac{1}{6}$
(v) $\frac{9}{8}, \frac{5}{4}, \frac{13}{6}, \frac{7}{2}$	$\frac{7}{2}, \frac{13}{6}, \frac{5}{4}, \frac{9}{8}$	(vi) $\frac{5}{12}, \frac{7}{6}, \frac{7}{4}, \frac{5}{2}$	$\frac{5}{2}, \frac{7}{4}, \frac{7}{6}, \frac{5}{12}$

(4) (i)  $\frac{3}{4}$  (ii)  $\frac{2}{3}$  (iii)  $\frac{3}{5}$  (iv)  $\frac{1}{3}$  (v)  $\frac{1}{2}$

### مشق 3.2

(1) اٽڪي وارا اٿپور (i), (ii), (iv), (viii), (ix) ۽ واجب اٿپور (i), (ii), (v), (viii), (ix)

غير واجب اٿپور (iii) ۽ (vii) ۽ مرڪب اٿپور (vi) ۽ (x)

(2) (i)  $6\frac{1}{7}$  (ii)  $7\frac{1}{4}$  (iii)  $8\frac{2}{9}$  (iv)  $2\frac{2}{6}$  يا  $2\frac{1}{3}$

(v)  $5\frac{3}{5}$  (vi)  $22\frac{1}{3}$  (vii)  $7\frac{8}{11}$  (viii)  $17\frac{1}{5}$

(3) (i)  $\frac{43}{10}$  (ii)  $\frac{17}{3}$  (iii)  $\frac{13}{2}$  (iv)  $\frac{23}{7}$

(v)  $\frac{33}{4}$  (vi)  $\frac{24}{13}$  (vii)  $\frac{63}{8}$  (viii)  $\frac{20}{7}$

### مشق 3.3

(1) (i)  $1\frac{8}{9}$  (ii)  $1\frac{2}{3}$  (iii)  $1\frac{4}{5}$  (iv)  $1\frac{11}{12}$  (v)  $8\frac{5}{6}$

(vi)  $8\frac{1}{12}$  (vii)  $3\frac{11}{30}$  (viii)  $3\frac{24}{35}$

(2) (i)  $\frac{1}{3}$  (ii)  $\frac{1}{8}$  (iii)  $\frac{7}{15}$  (iv)  $2\frac{1}{20}$  (v)  $6\frac{3}{10}$

(vi)  $\frac{17}{30}$

(3) (i)  $\frac{7}{4}$  (ii)  $\frac{4}{7}, \frac{2}{9}$  (iii)  $\frac{1}{5}$  (iv)  $\frac{2}{7}, \frac{3}{10}$

## جواب

### مشق 3.4

- (1) (i)  $7\frac{1}{2}$  (ii) 3 (iii)  $9\frac{9}{14}$   
 (2) (i)  $\frac{1}{5}$  (ii)  $\frac{8}{9}$  (iii)  $\frac{5}{21}$  (iv)  $\frac{5}{12}$   
 (v)  $\frac{7}{16}$  (vi)  $\frac{3}{8}$  (vii) 24 (viii)  $27\frac{1}{2}$  (ix) 33

### مشق 3.5

- (i)  $\frac{1}{4}$  (ii) 3 (iii) 3 (iv)  $\frac{4}{7}$  (v)  $1\frac{1}{8}$   
 (vi)  $\frac{3}{5}$  (vii)  $2\frac{4}{7}$  (viii)  $\frac{3}{10}$  (ix)  $5\frac{5}{6}$  (x)  $4\frac{2}{3}$   
 (xi)  $4\frac{1}{5}$  (xii)  $\frac{170}{249}$  (xiii) 9 (xiv)  $\frac{1}{12}$  (xv)  $\frac{4}{15}$

### مشق 3.6

- (1)  $11\frac{3}{4}$  لٹر کیر (2)  $\frac{7}{30}$  سینٹی میٹر دگھو (3) 6 سال وڈو  
 (4)  $2\frac{2}{5}$  میٹر (5) 27 ٹکرا (6)  $37\frac{1}{2}$  تیلھیون

### جائزي واري مشق 3

- (1) (i)  $8\frac{2}{8}$  یا  $8\frac{1}{4}$  (ii)  $5\frac{2}{3}$  (iii)  $4\frac{3}{5}$  (iv) 8  
 (2) (i)  $\frac{44}{5}$  (ii)  $\frac{29}{8}$  (iii)  $\frac{52}{7}$  (iv)  $\frac{11}{2}$   
 (3) (i)  $\frac{3}{8}, \frac{5}{8}, \frac{9}{8}$  (ii)  $\frac{1}{4}, \frac{2}{3}, \frac{5}{6}$  (iii)  $\frac{7}{6}, \frac{6}{4}, \frac{5}{2}, \frac{8}{3}$   
 (iv)  $\frac{3}{11}, \frac{2}{7}, \frac{5}{11}, \frac{4}{5}$   
 (4) (i)  $\frac{13}{6}, \frac{11}{6}, \frac{7}{6}$  (ii)  $\frac{5}{6}, \frac{2}{3}, \frac{3}{5}$  (iii)  $\frac{4}{15}, \frac{3}{10}, \frac{9}{20}, \frac{4}{5}$   
 (iv)  $\frac{4}{3}, \frac{5}{7}, \frac{3}{5}, \frac{1}{3}$   
 (5) (i)  $\frac{5}{7}$  (ii)  $\frac{6}{11}$  (iii)  $\frac{5}{2}$  یا  $2\frac{1}{2}$  (iv)  $\frac{7}{2}$  یا  $3\frac{1}{2}$

## جواب

- (6) (i)  $1\frac{1}{10}$  (ii)  $2\frac{1}{9}$  (iii)  $1\frac{9}{10}$  (iv)  $5\frac{1}{6}$   
 (7) (i)  $\frac{1}{4}$  (ii)  $\frac{2}{5}$  (iii)  $1\frac{1}{6}$  (iv)  $\frac{1}{6}$   
 (8) (i) 6 (ii)  $3\frac{3}{4}$  (iii)  $\frac{336}{735}$  (iv)  $2\frac{2}{5}$   
 (9) (i)  $\frac{1}{30}$  (ii)  $1\frac{1}{5}$  (iii)  $4\frac{2}{5}$  (iv)  $4\frac{4}{5}$   
 (10)  $2\frac{5}{6}$  کلوميٽر (11) 8 ڦوڪڻا (12) 5 وڳا (13) 133 لٽر

### مشق 4.1

- (2) (i) هڪ (ii) ٽي (iii) ٻه (iv) ٻه (v) ٽي (vi) هڪ  
 (3) (i)  $4 = \frac{4}{100} = 0.04$  سؤيون پتيون (ii)  $8 = \frac{8}{10} = 0.08$  ڏهين پتيون  
 (iii)  $2 = \frac{2}{1000} = 0.002$  هزاريون پتيون (iv)  $1 = \frac{1}{100} = 0.01$  سؤ = 100  
 (v)  $4 = 40$  ڏهاڪا (vi)  $3 = 30$  ڏهاڪا  
 (4) (i) 5 جو مڪاني مُلھ = 5 سؤ = 500 (ii) 0 جو مڪاني مُلھ = 0 ايڪا = 0  
 7 جو مڪاني مُلھ = 70 ڏهاڪا = 70 (iii) 1 جو مڪاني مُلھ = 1 ڏهين پتي = 0.1  
 5 جو مڪاني مُلھ = 5 ايڪا = 5 (iv) 9 جو مڪاني مُلھ = 9 ايڪا = 9  
 1 جو مڪاني مُلھ = 1 ڏهين پتي = 0.1 (v) 7 جو مڪاني مُلھ = 7 ڏهاڪا = 70  
 8 جو مڪاني مُلھ = 8 ايڪا = 8 (vi) 5 جو مڪاني مُلھ = 5 ڏهاڪا = 50  
 9 جو مڪاني مُلھ = 9 ڏهين پتيون = 0.9 (vii) 2 جو مڪاني مُلھ = 2 سؤين پتيون = 0.02  
 7 جو مڪاني مُلھ = 7 سؤيون پتيون = 0.07 (viii) 9 جو مڪاني مُلھ = 9 ايڪا = 9  
 1 جو مڪاني مُلھ = 1 ڏهين پتي = 0.1 (ix) 2 جو مڪاني مُلھ = 2 سؤين پتيون = 0.02  
 7 جو مڪاني مُلھ = 7 ڏهاڪا = 70 (x) 5 جو مڪاني مُلھ = 5 ايڪا = 5  
 8 جو مڪاني مُلھ = 8 ڏهين پتيون = 0.8 (xi) 1 جو مڪاني مُلھ = 1 ڏهين پتي = 0.1  
 4 جو مڪاني مُلھ = 4 سؤيون پتيون = 0.04 (xii) 5 جو مڪاني مُلھ = 5 سؤيون پتيون = 0.05

### مشق 4.2

- (1) (i) 0.01 (ii) 0.5 (iii) 0.23 (iv) 0.431 (v) 2.31  
 (vi) 1.7 (vii) 0.029 (viii) 5.72

## جواب

- (2) (i) 0.28 (ii) 10.5 (iii) 4.5 (iv) 0.75 (v) 0.26  
 (vi) 0.375 (vii) 0.76 (viii) 0.6
- (3) (i)  $\frac{3}{10}$  (ii)  $1\frac{7}{20}$  (iii)  $12\frac{37}{100}$  (iv)  $\frac{54}{125}$  (v)  $25\frac{1}{2}$   
 (vi)  $2\frac{8}{25}$  (vii)  $\frac{9}{20}$  (viii)  $135\frac{1}{5}$

### مشق 4.3

- (1) (i) 0.77 (ii) 0.67 (iii) 4.76 (iv) 35.6 (v) 1.77  
 (vi) 41.07 (vii) 1.6 (viii) 22.6 (ix) 81.011 (x) 123.726
- (2) (i) 0.6 (ii) 0.23 (iii) 7.32 (iv) 0.67 (v) 2.98  
 (vi) 1.78 (vii) 8.99 (viii) 14.95 (ix) 32.086 (x) 12.036

### مشق 4.4

- (1) 63 (2) 2.5 (3) 173.2 (4) 32.7 (5) 2,235.42  
 (6) 1,265 (7) 1,2872 (8) 18.9 (9) 21.25 (10) 102.7  
 (11) 237.93 (12) 20.174 (13) 130.08 (14) 34.79 (15) 158.4

### مشق 4.5

- (1) 2.85 (2) 0.36 (3) 2.34 (4) 3.22 (5) 0.52  
 (6) 2.55 (7) 1.57 (8) 0.36 (9) 2.81 (10) 11.41  
 (11) 13.45 (12) 5.39 (13) 48.1 (14) 3.37 (15) 8.01

### مشق 4.6

- (1) 851.05 روپيا (2) 520 گرام يا 21.52 كلو گرام (3) 67.25 روپيا  
 (4) 6.07 روپيا (5) 21.3 روپيا (6) 176.8 كلو گرام  
 (7) 120 كلو گرام (8) 2.75 ميٽر (9) 11.75 كلو گرام

### جائزي واري مشق 4

- (1) (i)  $5 = \frac{5}{1000} = 0.005$  هزاريون پتيون (ii)  $9 = \frac{9}{10} = 0.9$  ڏهين پتيون  
 (iii)  $7 = \frac{7}{100} = 0.07$  سوڀون پتيون (iii)  $1 = 10$  ڏهاڪو

## جواب

- (2) (i) 3.21 (ii) 0.175 (iii) 4.75 (iv) 3.375  
 (3) (i)  $1\frac{27}{50}$  (ii)  $\frac{7}{20}$  (iii)  $13\frac{7}{10}$  (iv)  $\frac{69}{200}$   
 (4) (i) 4.99 (ii) 0.19 (iii) 40.97 (iv) 1.05  
 (5) (i) 32.5 (ii) 175.5 (iii) 3,525.2 (iv) 82.24  
 (6) (i) 1.57 (ii) 0.36 (iii) 2.87  
 (7) 208 ميتر 12.5% ميتر (8) 13.5 لتر

### مشق 5.1

- (1) (i) 5,000 ميتر (ii) 14,000 ميتر (iii) 20,000 ميتر  
 (2) (i) 1,700 سينتي ميتر (ii) 3,200 سينتي ميتر (iii) 5,400 سينتي ميتر  
 (3) (i) 150 ملي ميتر (ii) 190 ملي ميتر (iii) 300 ملي ميتر  
 (4) (i) 400 سينتي ميتر، 4,000 ملي ميتر (ii) 1,000 سينتي ميتر، 10,000 ملي ميتر  
 (iii) 3,500 سينتي ميتر، 35,000 ملي ميتر (iv) 6,400 سينتي ميتر، 64,000 ملي ميتر  
 (v) 8,300 سينتي ميتر، 8,300 ملي ميتر (vi) 9,800 سينتي ميتر، 98,000 ملي ميتر

### مشق 5.2

- (1) (i) 13,800 ميتر (ii) 38 كلوميتر 360 ميتر (iii) 81 كلوميتر 822 ميتر  
 (iv) 59 كلوميتر 89 ميتر (v) 168 ميتر 49 سينتي ميتر (vi) 110 سينتي ميتر 8 ملي ميتر  
 (vii) 118 ميتر 30 سينتي ميتر (viii) 276 كلوميتر 495 ميتر (ix) 357 كلوميتر 919 ميتر  
 (2) (i) 1,995 ميتر (ii) 3 ميتر 59 سينتي ميتر (iii) 2 ميتر 60 سينتي ميتر  
 (iv) 557 ميتر 40 سينتي ميتر (v) 50 كلوميتر 750 ميتر (vi) 51 كلوميتر 748 ميتر  
 (vii) 194 ميتر 11 سينتي ميتر (viii) 46 سينتي ميتر 9 ملي ميتر (ix) 26 ميتر 8 سينتي ميتر

### مشق 5.3

- (1) (i) 2 سينتي ميتر (ب) (ii) 30 ميتر (ج) (iii) 165 كلوميتر (د)  
 (2) 1 ميتر 48 سينتي ميتر (3) 1,157 ميتر (4) 79 سينتي ميتر (5) 11 سينتي ميتر 7 ملي ميتر  
 (6) 350 ميتر (7) 9,755 ميتر (8) 150 سينتي ميتر 1 ميتر 50 سينتي ميتر (9) 130 ميتر

### مشق 5.4

- (1) (i) 16,241 گرام (ii) 11 كلوگرام 300 گرام  
 (iii) 17 كلوگرام 121 گرام (iv) 7 كلوگرام 117 گرام (v) 89 كلوگرام 765 گرام  
 (2) (i) 3 كلوگرام 750 گرام (ii) 3 كلوگرام 53 گرام  
 (iii) 4,502 گرام (iv) 23 كلوگرام 220 گرام (v) 5 كلوگرام 968 گرام

## جواب

### مشق 5.5

- (1) (i) (الف) (ii) (ج) (iii) (ب) (iv) (الف)
- (2) 162 کلوگرام 100 گرام (3) 34 کلوگرام 750 گرام
- (4) 22 کلوگرام 550 گرام (5) 1,143 کلوگرام 250 گرام

### مشق 5.6

- (1) (i) 17 لٹر 920 ملي لٹر (ii) 10,815 ملي لٹر يا 10 لٹر 815 ملي لٹر
- (iii) 54 لٹر 676 ملي لٹر (iv) 2,220 ملي لٹر يا 2 لٹر 220 ملي لٹر (v) 58 لٹر 532 ملي لٹر
- (2) (i) 106 لٹر (ii) 44 لٹر 185 ملي لٹر (iii) 2 65 ملي لٹر
- (iv) 2 لٹر 945 ملي لٹر (v) 21 لٹر 437 ملي لٹر

### مشق 5.7

- (1) (i) 4 لٹر (ii) 1 لٹر (iii) 500 ملي لٹر
- (iv) 4 لٹر (v) 140 ملي لٹر (vi) 5 ملي لٹر
- (2) 9 ملي لٹر (3) 298 لٹر پاڻي گهربل آهي. (4) 150 لٹر
- (5) 236 لٹر 125 ملي لٹر (6) 499,740 ملي لٹر يا 499 لٹر 740 ملي لٹر (7) 3 لٹر 85 ملي لٹر
- (8) 1,200 ملي لٹر يا 1 لٹر 200 ملي لٹر

### مشق 5.8

- (1) (i) 60 مهينا (ii) 102 مهينا (iii) 57 مهينا
- (iv) 122 مهينا (v) 188 مهينا (vi) 250 مهينا
- (2) (i) 90 ڏينهن (ii) 102 ڏينهن (iii) 260 ڏينهن
- (iv) 145 ڏينهن (v) 328 ڏينهن (vi) 75 ڏينهن
- (3) (i) 56 ڏينهن (ii) 178 ڏينهن (iii) 125 ڏينهن
- (iv) 210 ڏينهن (v) 250 ڏينهن (vi) 289 ڏينهن

### مشق 5.9

- (1) (i) 76 منت 18 سيڪنڊ (ii) 85 منت 59 سيڪنڊ
- (iii) 59 ڪلاڪ 30 منت (iv) 59 ڪلاڪ 35 منت
- (2) (i) 11 منت 10 سيڪنڊ (ii) 20 منت 10 سيڪنڊ
- (iii) 13 ڪلاڪ 34 منت (iv) 31 ڪلاڪ 20 منت

## جواب

### مشق 5.10

- (1) 48 منٹ 55 سيڪنڊ (2) 7 ڪلاڪ 45 منٹ  
(3) 10 منٹ 42 سيڪنڊ (4) 2 ڪلاڪ 25 منٹ  
(5) 14 منٹ 24 سيڪنڊ

### جائزي واري مشق 5

- (1) (i) (ب) (ii) (الف) (iii) (ج) (iv) (ب)  
(3) (i) 6 ڪلوميٽر (ii) 3.5 ڪلوميٽر (4) (i) 15.000 ميٽر (ii) 3,000 ميٽر  
(5) (i) 48 ڪلوميٽر 127 ميٽر (ii) 87 ميٽر 26 سينٽي ميٽر  
(iii) 26 لٽر 500 ملي لٽر (iv) 83 ڪلوگرام 340 گرام  
(6) (i) 36 ڪلوميٽر 7 ميٽر (ii) 28 ميٽر 53 سينٽي ميٽر  
(iii) 8 لٽر 250 ملي لٽر (iv) 41 ڪلوگرام 313 گرام

### مشق 6.1

- (1) (i) 3 سينٽي ميٽر، 5.6 سينٽي ميٽر، 3.5 سينٽي ميٽر، 3.5 سينٽي ميٽر  
(ii) 5.4 سينٽي ميٽر، 5.5 سينٽي ميٽر، 2.6 سينٽي ميٽر، 3.3 سينٽي ميٽر  
(iii) 2.7 سينٽي ميٽر، 2.7 سينٽي ميٽر، 3.5 سينٽي ميٽر، 3.5 سينٽي ميٽر  
(2) (ii) 7.9 سينٽي ميٽر (iii) 9.1 سينٽي ميٽر  
(iv) 10 سينٽي ميٽر (v) 10.6 سينٽي ميٽر

### مشق 6.2

- (2) (i) 4.2 سينٽي ميٽر (ii) 4.7 سينٽي ميٽر (iii) 3 سينٽي ميٽر

### مشق 6.3

- (1) اولهه ۽ اوڀر (2) اتر ۽ ڏکڻ  
(3) عمودي (4) أفقي

### مشق 6.4

- (1) (i)، (iv)، (vi) ۽ (viii) پوروچوٽ ليڪون آهن.  
(ii)، (iii)، (v) ۽ (vii) پوروچوٽ ليڪون نه آهن.

## جواب

### مشق 6.6

(1) (i) چوتی B، بانھون  $\vec{BA}$  ۽  $\vec{BC}$  (ii) چوتی Q، بانھون  $\vec{QP}$  ۽  $\vec{QR}$

(iii) چوتی W، بانھون  $\vec{WX}$  ۽  $\vec{WY}$

(2) (i)  $\angle AOB$  (ii)  $\angle AEF$  (iii)  $\angle JKL$

### مشق 6.7

(1) (iii)، (iv) ۽ (v) گونيون ڪنڊون آهن.

(2) (i)، (ii)، (v) ۽ (vi) گونيون ڪنڊون آهن.

### مشق 6.8

(1) (i) گوني ڪنڊ (ii) سوڙهي ڪنڊ (iii) ويڪري ڪنڊ (iv) سوڙهي ڪنڊ

(v) ويڪري ڪنڊ (vi) گوني ڪنڊ

### مشق 6.9

(1)  $30^\circ$  (2)  $40^\circ$  (3)  $40^\circ$  (4)  $28^\circ$  (5)  $43^\circ$   
 (6)  $43^\circ$  (7)  $110^\circ$  (8)  $110^\circ$  (9)  $142^\circ$

### مشق 6.10

(1) (i)  $43^\circ$  سوڙهي ڪنڊ (ii)  $43^\circ$  سوڙهي ڪنڊ

(iii)  $70^\circ$  سوڙهي ڪنڊ (iv)  $155^\circ$  ويڪري ڪنڊ

(v)  $90^\circ$  گوني ڪنڊ (vi)  $155^\circ$  ويڪري ڪنڊ

### جائزي واري مشق 6

(1) (i) اسڪيل (ii) سٽ اسڪوائر (iii) سٽ اسڪوائر

(iv) ڪنڊ ماپ (v) پلڪار (vi) ونڊڻي پلڪار

(9) (i) ڪل 3 ڪنڊون آهن: سوڙهي ڪنڊ  $\angle ABD$

سوڙهي ڪنڊ  $\angle CBD$

گوني ڪنڊ  $\angle ABC$

(ii) ڪل 6 ڪنڊون آهن: = سوڙهي ڪنڊ  $\angle GDP$  ، سوڙهي ڪنڊ  $\angle PDE$

گوني ڪنڊ  $\angle GDE$  ، ويڪري ڪنڊ  $\angle CDE$

ويڪري ڪنڊ  $\angle CDG$  ، ويڪري ڪنڊ  $\angle CDP$

## جواب

- (iii) 9 ڪنڊون = گوني ڪنڊ  $\angle ABE$  ، سوڙهي ڪنڊ  $\angle ABF$   
 سوڙهي ڪنڊ  $\angle DBC$  سوڙهي ڪنڊ  $\angle FSE$  ، گوني ڪنڊ  $\angle ABD$   
 ويڪري ڪنڊ  $\angle FBC$  ، گوني ڪنڊ  $\angle FBD$   
 گوني ڪنڊ  $\angle LEB$  ، سوڙهي ڪنڊ  $\angle EBD$
- (10) (i) چورس شڪلين جو تعداد = 2 آهن: چورس  $ABED$  ۽  $BCFE$   
 (ii) چورس شڪلين جو تعداد = 5 آهن: چورس  $ABHG$  ،  $BCIH$  ،  $HIFE$  ،  $GHED$  ۽  $ACFD$
- (11) ڪل 3 ٽڪنڊا آهن:

### مشق 7.1

- (1) (i) 5 شاگرد (ii) گلابي (iii) پيلو  
 (iv) 20 شاگرد (v) 15 شاگرد (vi) 6 رنگ (vii) 95 شاگرد
- (2) (i) 20 شاگرد (ii) ڪرڪيٽ (iii) 25 شاگرد  
 (iv) 4 رانديون (v) هاڪي (vi) 35 شاگرد (vii) 110 شاگرد

### مشق 7.2

- (1) (i) D ٽيم (ii) ٽيم E (iii) ڪاٺ ٽيم نه  
 (iv) 10 منٽ (v) 40 منٽ (vi) 15 منٽ
- (2) (i) خميس (ii) 10 ايڪڙ (iii) 7 ڏينهن  
 (iv) 10 ايڪڙ (v) سومر ۽ جمعو (vi) 65 ايڪڙ  
 (vii) 15 ايڪڙ، 5 ايڪڙ، 10 ايڪڙ (viii) سومر ۽ جمعو، اڱارو، اربع، ڇنڇر ۽ آچر
- (3) (i) رياضي ۽ اسلاميات (ii) 360 مارڪون (iii) 70 مارڪون  
 (iv) 80 مارڪون (v) سائنس (vi) 70 مارڪون

### جائزي واري مشق 7

- (1) (i) 80 رپيا (ii) 120 رپيا  
 (iii) نه (iv) 20 رپيا (v) 6 لٽر
- (2) (i) 3,000 رپيا (ii) 4,000 رپيا (iii) جون  
 (iv) جنوري (v) 18,000 رپيا (vi) 1,500 رپيا
- (3) (i) 2 ملين لٽر (ii) 6 ملين لٽر (iii) 10 ملين لٽر  
 (iv) 6 ملين لٽر (v) پنجين ڏينهن (vi) 5 دفعا